

MINISTERUL EDUCAȚIEI NAȚIONALE

Lenuța Andrei • Mădălina Călinescu  
Ani Drăghici • Maria Popa

# MATEMATICĂ

Manual pentru clasa a V-a

V



*Acest manual este proprietatea Ministerului Educației Naționale*

*Acest proiect de manual școlar este realizat în conformitate cu  
Programa școlară aprobată prin O.M. nr. 3393/28.02.2017*

*116.111 – numărul de telefon de asistență pentru copii*

MINISTERUL EDUCAȚIEI NAȚIONALE

Lenuța Andrei • Mădălina Călinescu

Ani Drăghici • Maria Popa

# MATEMATICĂ

Manual pentru clasa a V-a



Manualul școlar a fost aprobat prin O.M.E.N. nr. 5294/05.10.2017.

Manualul este distribuit elevilor în mod gratuit, atât în format tipărit, cât și în format digital, și este transmisibil timp de patru ani școlari, începând din anul școlar 2017–2018.

Inspectoratul Școlar .....  
Școala / Colegiul / Liceul .....

ACEST MANUAL A FOST FOLOSIT DE:

Anul	Numele elevului	Clasa	Anul școlar	Aspectul manualului*			
				Format tipărit		Format digital	
				la primire	la predare	la primire	la predare
1							
2							
3							
4							

\* Pentru precizarea aspectului manualului se va folosi unul dintre următorii termeni: **nou, bun, îngrijit, neîngrijit, deteriorat.**

Cadrele didactice vor verifica dacă informațiile înscrise în tabelul de mai sus sunt corecte.

Elevii nu vor face niciun fel de însemnări pe manual.

*Referenți:* prof. univ. dr. Carmen Rocsoreanu,  
prof. gr. I Cristina Ungureanu,  
prof. gr. I Paula Copăcel

*Redactor:* Dana Năstase

*Credite foto:* Pixabay.com, Freepik.com

*Ilustrații:* Freepik.com, Dan Negruț

*Copertă:* Florin Paraschiv

*Tehnoredactor:* Ioana-Silvia Ceriu

*Culegător text:* Nicoleta Croitoru

*Înregistrări și procesare sunet, animații, activități digitale interactive și platformă e-learning:*

Website: [www.infomediapro.ro](http://www.infomediapro.ro)

**Infomedia**<sub>Pro</sub>

**Descrierea CIP a Bibliotecii Naționale a României**

**Matematică : manual pentru clasa a V-a /** Lenuța Andrei, Mădălina Călinescu, Ani Drăghici, Maria Popa. - București : Sigma, 2017  
ISBN 978-606-727-232-1

I. Andrei, Lenuța

II. Călinescu, Mădălina

III. Drăghici, Ani

IV. Popa, Maria

51

© 2017 – EDITURA SIGMA

Toate drepturile asupra prezentei ediții aparțin Editurii SIGMA.

Nicio parte a acestei lucrări nu poate fi reprodusă fără acordul scris al Editurii SIGMA.

ISBN: 978-606-727-232-1

**Editura SIGMA**

**Sediul central**

Str. G-ral Berthelot nr. 38, sector 1, București,  
cod 010169

Tel. / fax: 021-313.96.42; 021-315.39.43;  
021-315.39.70

e-mail: [office@editurasigma.ro](mailto:office@editurasigma.ro);

web: [www.librariesigma.ro](http://www.librariesigma.ro)

**Distribuție:**

Tel. / fax: 021-243.42.40; 021-243.40.52;  
021-243.40.61; 021-243.40.14

e-mail: [comenzi@librariesigma.ro](mailto:comenzi@librariesigma.ro)

# Descrierea manualului

## VARIANTA DIGITALĂ



Față de varianta tipărită, varianta digitală cuprinde activități multimedia de învățare.

### Simboluri ce indică activitățile multimedia



Activitate statică —  
Privește!



Activitate interactivă —  
Rezolvă!



Film sau animație —  
Vizionează!



Accesare ajutor  
general manual



Includere  
de notițe

Activitățile multimedia interactive de învățare sunt explicit semnalate în varianta digitală.

## STRUCTURA MANUALULUI

Manual este structurat astfel încât să fie accesibil elevilor de clasa a V-a și dezvoltă capacitatea de a efectua operații logice în contextul celor șase competențe diferite care intervin în procesul de învățare: *cunoaștere, înțelegere, aplicare, analiză, sinteză și evaluare.*

La finalul fiecărui capitol, pentru stimularea și menținerea interesului elevilor pentru studiul matematicii am propus teme și sarcini de lucru evidențiate prin **MAGIA MATEMATICII!**

Pentru verificarea nivelului de pregătire al elevului, manualul propune:

- TESTE INIȚIALE
- TESTE DE EVALUARE (RECAPITULARE ȘI SISTEMATIZARE PRIN TESTE)
- TESTE DE EVALUARE FINALĂ
- PROIECT
- INVESTIGAȚIE

Fiecare dintre testele de evaluare, poate fi utilizat, la sugestia profesorului, ca test de autoevaluare.

Pentru recapitularea finală sunt propuse exerciții și probleme evidențiate prin textul **EXERCIIII ȘI PROBLEME RECAPITULATIVE.**

Metodele și instrumentele de evaluare sunt distribuite echilibrat prin raportare la competențele programei școlare și au un grad ridicat de relevanță și aplicabilitate în viața de zi cu zi.

# STRUCTURA UNEI TEME

Fiecare temă cuprinde unități de conținut de predare - învățare - evaluare din programa școlară.

## Structura unității de conținut

Vigneta **la aminte și ține minte!** și îndemnul **Atenție!**, evidențiază informațiile și cunoștințele teoretice pe care elevul trebuie să le asimileze și să le înțeleagă.

Exercițiile și problemele propuse elevului spre rezolvare, ce respectă modelele și metodele folosite în exemplele prezentate sunt marcate de vigneta „**Aplică ce ai învățat!**”

Împărțiți pe echipe, elevii rezolvă anumite cerințe.

**la aminte și ține minte!**

- Fie  $a$  și  $n$  două numere naturale, cu  $n \geq 2$ . Produsul a  $n$  factori egali cu  $a$  reprezintă puterea a  $n$ -a a numărului natural  $a$ , se notează  $a^n$  și se citește  $a$  la puterea  $n$  sau  $a$  la  $n$ .

$$a^n = \underbrace{a \cdot a \cdot a \cdot \dots \cdot a}_{n \text{ factori}}$$

În scrierea:  $a^n$  →  $n$  se numește **exponentul puterii**  
→  $a$  se numește **baza puterii**

- Ridicăm un număr natural nenul la o putere astfel: înmulțim baza cu ea însăși de atâtea ori de câte ori arată exponentul (înmulțire repetată).

**Exemple:**  $5^2 = 5 \cdot 5$ ;  $5^3 = 5 \cdot 5 \cdot 5$ ;  $5^4 = 5 \cdot 5 \cdot 5 \cdot 5$ .

**Atenție!**

- Orice număr nenul la puterea zero este egal cu 1, adică  $a^0 = 1$ ,  $a \neq 0$ .
- $0^0$  nu are sens.
- Orice număr la puterea întâi este egal cu numărul însuși, adică  $a^1 = a$ .

**5+** **Aplică ce ai învățat!**

- Calculează folosind factorul comun:  
a)  $7 \cdot 37 + 43 \cdot 7$ ; b)  $23 + 9 \cdot 23$ ; c)  $41 \cdot 32 - 41 \cdot 22$ ;  
d)  $10 + 20 + 30 + 40 + 50$ ; e)  $14 + 21 + 28 + 35$ ; f)  $4 \cdot 2017 + 2017 \cdot 2013 - 2017$ .
- Calculează, după model:  
**Model:**  $1004 \cdot 1003 + 2 \cdot 1004 - 1005 \cdot 1002 = 1004 \cdot (1003 + 2) - 1005 \cdot 1002 =$   
 $= 1004 \cdot 1005 - 1005 \cdot 1002 = 1005 \cdot (1004 - 1002) = 1005 \cdot 2 = 2010$ ;  
a)  $7 \cdot 8 + 2 \cdot 7 + 9 \cdot 10$ ; b)  $37 \cdot 28 + 42 \cdot 37 - 42 \cdot 15$ ;  
c)  $207 \cdot 28 + 207 \cdot 180 - 208 \cdot 206$ ; d)  $3009 \cdot 3008 - 3008 \cdot 3007 - 2 \cdot 3006$ ;  
e)  $5010 \cdot 5009 + 5009 - 5011 \cdot 5008$ ; f)  $2016 \cdot 2015 + 2 \cdot 2016 - 2017 \cdot 2015$ .

**Lucrează în echipă!**

Compuneți probleme care să se rezolve prin expresiile de la exercițiul anterior, subpunctele a), b) și f).

## Structura Exercițiului și probleme

Exercițiile și problemele ce sunt prezentate la sfârșitul fiecărei teme sunt grupate pe trei niveluri de dificultate și sunt evidențiate în text prin vignetele „**Exersează!**”, „**Poți fi mai bun!**” și „**Fii campion!**”

**Criteriul de divizibilitate cu 3 și cu 9**

**Exersează!**

- Care dintre următoarele numere: 540; 642; 7323; 47 529 sunt divizibile cu 3? Dar cu 9?
- Arată că numărul  $36 + 621$  este divizibil cu 9, prin două metode (factor comun sau criteriul de divizibilitate).
- Stabilește, fără a face împărțirea, dacă 9 888 este multiplu al lui 3.
- Află cele mai mici numere de trei cifre distincte care să fie:  
a) divizibile cu 3; b) divizibile cu 9; c) divizibile cu 3, dar nu cu 9.
- Află numerele de forma  $25x$  divizibile:  
a) cu 3; b) cu 9.

**Poți fi mai bun!**

- Serie numerele de forma: a)  $\overline{35x}$ ; b)  $\overline{x3x}$ ; c)  $\overline{2x7}$ ; d)  $\overline{xxx}$ , divizibile cu 3.
- Demonstrează că, dacă cifrele unui număr natural de trei cifre sunt consecutive, atunci numărul este divizibil cu 3.
- Un fermier are 624 de prepelițe pe care trebuie să le pună în cutii, fiecare cutie conținând 3 prepelițe. Sunt complete toate cutiile? Rezolvă fără a efectua împărțirea.

**Fii campion!**

- Arată că:  
a)  $10^7 - 1$  este divizibil cu 9; b)  $10^{20} - 1$  este divizibil cu 9; c)  $10^{20} - 7$  este divizibil cu 3.

# CUPRINS

Teste inițiale .....	9
<b>Cap. 1. NUMERE NATURALE</b>	
<b>A. Operații cu numere naturale</b>	
1. Scrierea, citirea, ordonarea numerelor naturale. Aproximări.....	11
Scrierea și citirea numerelor naturale .....	11
Reprezentarea pe axă .....	13
Compararea și ordonarea .....	13
Aproximări. Estimări .....	15
<i>Exerciții și probleme</i> .....	16
2. Adunarea și scăderea numerelor naturale .....	19
Adunarea numerelor naturale .....	19
Scăderea numerelor naturale .....	20
<i>Exerciții și probleme</i> .....	21
3. Înmulțirea numerelor naturale .....	23
Factor comun .....	24
<i>Exerciții și probleme</i> .....	25
4. Împărțirea numerelor naturale.....	26
Împărțirea exactă (cu rest zero) a numerelor naturale .....	26
Împărțirea cu rest a numerelor naturale .....	27
<i>Exerciții și probleme</i> .....	28
5. Puterea cu exponent natural a unui număr natural.....	30
Reguli de calcul cu puteri .....	31
Compararea puterilor .....	32
Sisteme de numerație .....	33
<i>Exerciții și probleme</i> .....	34
6. Ordinea efectuării operațiilor.....	36
<i>Exerciții și probleme</i> .....	37
7. Metode aritmetice de rezolvare a problemelor.....	38
Metoda reducerii la unitate .....	38
Metoda comparației .....	38
Metoda figurativă.....	39
Metoda mersului invers.....	40
Metoda falsei ipoteze .....	40
<i>Exerciții și probleme</i> .....	41
<b>B. Divizibilitatea numerelor naturale</b>	
1. Divizor. Multiplu. Divizori comuni. C.m.m.d.c. Multipli comuni. C.m.m.m.c.....	45
Divizor. Multiplu.....	46
Divizori comuni .....	48
Cel mai mare divizor comun a două numere naturale .....	49
Multipli comuni .....	49
Cel mai mic multiplu comun a două numere naturale .....	50
<i>Exerciții și probleme</i> .....	50
2. Criterii de divizibilitate .....	53
Criteriul de divizibilitate cu $10^n$ .....	53
Criteriul de divizibilitate cu 2 .....	54
Criteriul de divizibilitate cu 5 .....	55
Criteriul de divizibilitate cu 3 .....	55
Criteriul de divizibilitate cu 9 .....	56
Numere prime. Numere compuse .....	57
<i>Exerciții și probleme</i> .....	58
<i>Recapitulare și sistematizare prin teste</i> .....	60
<i>Magia matematicii</i> .....	63

## Competențe generale și specifice

1. Identificarea unor date, mărimi și relații matematice în contextul în care acestea apar	3. Utilizarea conceptelor și a algoritmilor specifici în diverse contexte matematice	5. Analizarea caracteristicilor matematice ale unei situații date
2. Prelucrarea unor date matematice de tip cantitativ, calitativ, structural cuprinse în diverse	4. Exprimarea în limbajul specific matematicii a informațiilor, concluziilor și demersurilor de	6. Modelarea matematică a unei situații date, prin integrarea achizițiilor din diferite domenii

1.1. Identificarea numerelor divizibilitate naturale în contexte variate	4.1. Exprimarea în limbaj matematic a unor proprietăți referitoare la comparări, aproximări, estimări și ale operațiilor cu numere naturale	naturale pentru a estima sau pentru a verifica validitatea unor calcule
2.1. Efectuarea de calcule cu numere naturale folosind operațiile aritmetice și proprietățile acestora		6.1. Modelarea matematică, folosind numere naturale, a unei situații date, rezolvarea problemei
3.1. Utilizarea regulilor de calcul pentru efectuarea operațiilor cu numere naturale și pentru	5.1. Analizarea unor situații date în care intervin numere	obținute prin metode aritmetice și interpretarea rezultatului.

## Cap 2. FRAȚII ORDINARE. FRAȚII ZECIMALE

### A. Frații ordinare

1. Frații ordinare. Clasificarea fracțiilor.	Scăderea fracțiilor cu numitori diferiți.....	83
Procente. Frații echivalente .....	Exerciții și probleme .....	84
Frații ordinare.....	7. Înmulțirea și împărțirea fracțiilor.	
Frații subunitare, echiunitare, supraunitare.....	Puteri .....	86
Procente.....	Înmulțirea unei fracții cu un număr natural .....	86
Frații echivalente.....	Înmulțirea fracțiilor.....	86
Exerciții și probleme .....	Ridicarea la putere a fracțiilor.....	87
2. Compararea și reprezentarea pe axă a fracțiilor ordinare.....	Inversa unei fracții .....	88
Compararea fracțiilor cu același numitor/numărător .....	Împărțirea a două fracții.....	88
Reprezentarea pe axa numerelor a unei fracții ordinare.....	Exerciții și probleme .....	89
Exerciții și probleme .....	8. Frații/procente dintr-un număr natural sau dintr-o fracție ordinară .....	90
3. Introducerea și scoaterea întregilor dintr-o fracție .....	Aflarea unei fracții dintr-un număr natural .....	90
Introducerea întregilor într-o fracție .....	Aflarea unui procent dintr-un număr natural ....	91
Scoaterea întregilor dintr-o fracție .....	Aflarea unei fracții/unui procent dintr-o fracție ordinară .....	91
Exerciții și probleme .....	Exerciții și probleme .....	92
4. Amplificarea și simplificarea fracțiilor.	<b>B. Frații zecimale</b>	
Frații ireductibile .....	1. Scriere, citirea și transformarea fracțiilor zecimale.....	93
Amplificarea fracțiilor .....	Scrierea și citirea fracțiilor zecimale.....	93
Simplificarea fracțiilor. Frații ireductibile.....	Transformarea unei fracții zecimale cu un număr finit de zecimale nenule în fracție ordinară.....	96
Exerciții și probleme .....	Exerciții și probleme .....	97
5. Aducerea fracțiilor la un numitor comun.....	2. Compararea, ordonarea și reprezentarea pe axa numerelor a unor fracții zecimale .....	98
Exerciții și probleme .....	Compararea fracțiilor zecimale.....	98
6. Adunarea și scăderea fracțiilor.....	Ordonarea fracțiilor zecimale .....	98
Adunarea fracțiilor cu același numitor.....	Aproximări.....	99
Adunarea fracțiilor cu numitori diferiți.....		
Scădere fracțiilor cu același numitor.....		



Reprezentarea pe axa numerelor a fracțiilor zecimale finite.....	99	Transformarea unei fracții zecimale periodice simple în fracție ordinară .....	112
<i>Exerciții și probleme</i> .....	100	Transformarea unei fracții zecimale periodice mixte în fracție ordinară.....	112
<b>3. Adunarea și scăderea fracțiilor zecimale cu un număr finit de zecimale nenule .....</b>	101	<i>Exerciții și probleme</i> .....	113
<i>Exerciții și probleme</i> .....	102	<b>8. Număr rațional pozitiv.</b>	
<b>4. Înmulțirea fracțiilor zecimale finite.....</b>	103	Ordinea efectuării operațiilor .....	114
<i>Exerciții și probleme</i> .....	103	Număr rațional pozitiv .....	114
<b>5. Împărțirea a două numere naturale cu rezultat fracție zecimală.</b>		Ordinea efectuării operațiilor.....	114
Media aritmetică. Periodicitate .....	105	<i>Exerciții și probleme</i> .....	115
Împărțirea a două numere naturale cu rezultat fracție zecimală .....	105	<b>9. Metode aritmetice pentru rezolvarea problemelor cu fracții .....</b>	116
Transformarea unei fracții ordinare într-o fracție zecimală .....	106	Metoda reducerii la unitate .....	116
Media aritmetică a două sau mai multe numere naturale .....	107	Metoda comparației .....	116
<i>Exerciții și probleme</i> .....	108	Metoda mersului invers.....	117
<b>6. Împărțirea fracțiilor zecimale finite.....</b>	110	Metoda falsei ipoteze .....	117
Împărțirea unei fracții zecimale finite la un număr natural nenul .....	110	<i>Exerciții și probleme</i> .....	118
Împărțirea a două fracții zecimale cu un număr finit de zecimale.....	110	<b>10. Probleme de organizare a datelor .....</b>	120
<i>Exerciții și probleme</i> .....	111	Date statistice organizate în tabele și grafice.....	120
<b>7. Transformarea unei fracții periodice în fracție ordinară.....</b>	112	Frecvența.....	120
		Media unui set de date statistice .....	121
		<i>Exerciții și probleme</i> .....	121
		<i>Recapitulare și sistematizare prin teste.....</i>	124
		<i>Magia matematicii.....</i>	127

**Competențe generale și specifice**

1. Identificarea unor date, mărimi și relații matematice în contextul în care acestea apar
2. Prelucrarea unor date matematice de tip cantitativ, calitativ, structural cuprinse în diverse surse informaționale
3. Utilizarea conceptelor și a algoritmilor specifici în diverse contexte matematice
4. Exprimarea în limbajul specific matematicii a informațiilor, concluziilor și demersurilor de

- rezolvare pentru o situație dată
5. Analizarea caracteristicilor matematice ale unei situații date
6. Modelarea matematică a unei situații date, prin integrarea achizițiilor din diferite domenii
  - 1.2. Identificarea fracțiilor ordinare sau zecimale în contexte variate
  - 2.2. Efectuarea de calcule cu fracții folosind proprietăți ale operațiilor aritmetice
  - 3.2. Utilizarea de algoritmi pentru efectuarea operațiilor cu

- fracții ordinare sau zecimale
- 4.2. Utilizarea limbajului specific fracțiilor/procentelor în situații date
- 5.2. Analizarea unor situații date în care intervin fracții pentru a estima sau pentru a verifica validitatea unor calcule
- 6.2. Reprezentarea matematică, folosind fracțiile, a unei situații date, în context intra și interdisciplinar (geografie, fizică, economie etc.)

## Cap. 3. ELEMENTE DE GEOMETRIE ȘI UNITĂȚI DE MĂSURĂ

1. Punct. Dreaptă. Plan .....	128	<i>Exerciții și probleme</i> .....	129	<i>Exerciții și probleme</i> .....	140
2. Pozițiile relative ale unui punct față de o dreaptă. Pozițiile relative a două drepte .....	131	6. Calcule cu măsuri de unghiuri.....	141	7. Figuri congruente. Axă de simetrie .....	143
<i>Exerciții și probleme</i> .....	132	Figuri congruente .....	143	Axă de simetrie .....	143
3. Lungimea unui segment. Distanța dintre două puncte. Mijlocul unui segment. Simetricul unui punct față de un punct.....	133	<i>Exerciții și probleme</i> .....	144	8. Unități de măsură. Transformări.....	145
Distanța dintre două puncte .....	133	Unități de măsură pentru lungime.....	145	Unități de măsură pentru arie.....	146
Segmente congruente .....	133	Unități de măsură pentru volum.....	147	Alte unități de măsură pentru volum.....	149
Mijlocul unui segment. Simetricul unui punct față de un punct .....	134	<i>Exerciții și probleme</i> .....	150	<i>Recapitulare și sistematizare prin teste</i> .....	153
<i>Exerciții și probleme</i> .....	135	Proiect .....	156	<i>Magia matematicii</i> .....	157
4. Unghiul .....	136				
<i>Exerciții și probleme</i> .....	137				
5. Măsura unui unghi.....	138				

### **Competențe generale și specifice**

1. Identificarea unor date, mărimi și relații matematice în contextul în care acestea apar
2. Prelucrarea unor date matematice de tip cantitativ, calitativ, structural cuprinse în diverse surse informaționale
3. Utilizarea conceptelor și a algoritmilor specifici în diverse contexte matematice
4. Exprimarea în limbajul specific matematicii a informațiilor, concluziilor și demersurilor de rezolvare pentru o situație dată
5. Analizarea caracteristicilor

- matematice ale unei situații date
6. Modelarea matematică a unei situații date, prin integrarea achizițiilor din diferite domenii
    - 1.3. Identificarea noțiunilor geometrice elementare și a unităților de măsură în diferite contexte
    - 2.3. Utilizarea instrumentelor geometrice pentru a măsura sau pentru a construi configurații geometrice
    - 3.3. Determinarea perimetrelor, a ariilor (pătrat, dreptunghi) și a volumelor (cub, paralelipiped dreptunghic) și exprimarea acestora în unități de măsură corespunzătoare

- 4.3. Transpunerea în limbaj specific a unor probleme practice referitoare la perimetre, arii, volume, utilizând transformarea convenabilă a unităților de măsură
- 5.3. Interpretarea prin recunoașterea elementelor, a măsurilor lor și a relațiilor dintre ele, a unei configurații geometrice dintr-o problemă dată
- 6.3. Analizarea unor probleme practice care includ elemente de geometrie studiate, cu referire la unități de măsură și la interpretarea rezultatelor.

<i>Exerciții și probleme recapitulative</i> .....	158
Teste finale .....	163
Indicații și răspunsuri .....	166

# TESTE INIȚIALE

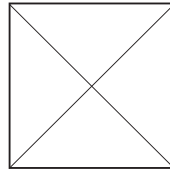
## Testul 1

### Partea I (45p)

La exercițiile 1 și 2 scrie numai rezultatele. La exercițiul 3 scrie (A) dacă propoziția este adevărată și (F) dacă propoziția este falsă.

- 20p **1.** Efectuează:  
a)  $543 + 3\ 078$ ;    b)  $3\ 011 - 357$ ;    c)  $409 \cdot 78$ ;    d)  $15\ 147 : 51$ .

- 5p **2.** Câte triunghiuri sunt desenate în figura de mai jos?



- 5p **3.** Precizează pentru fiecare propoziție dacă este adevărată sau falsă:  
a) Între numerele 26 și 32 sunt trei numere impare.  
5p b) Cel mai mare număr par care are trei cifre este 988.  
5p c) Produsul  $25 \cdot 7$  este mai mic decât produsul  $26 \cdot 6$ .  
5p d) Numărul care împărțit la 6 dă câtul 48 și restul de două ori mai mic decât împărțitorul este 291.

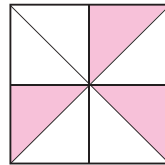
### Partea a II-a (45p)

La problemele următoare se cer rezolvările complete.


- 15p **4.** Efectuează:  $100 - [48 : (14 - 12 : 2) + 56 : 7 \cdot 8]$ .

- 5.** Determină:

- 5p a) numărul  $a$  care este cu 5 mai mic decât sfertul numărului 2008;  
5p b) fracția ce reprezintă partea hașurată din pătratul de mai jos;



- 5p c) ce fracție, dintr-o oră, arată minutarul ceasului din desenul de mai jos?



- 15p **6.** Într-un coș sunt mere, banane și portocale, în total 22 de fructe. Dacă numărul bananelor este cu 2 mai mare decât numărul merelor și de patru ori mai mic decât numărul portocalelor, află câte mere, câte banane și câte portocale sunt în coș.

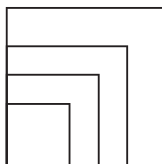
(10p sunt din oficiu)

**Partea I (45p)**

*La exercițiile 1 și 2 scrie numai rezultatele. La exercițiul 3 scrie (A) dacă propoziția este adevărată și (F) dacă propoziția este falsă.*

- 15p **1.** Efectuează:  
 a)  $1\ 351 - 257$ ;    b)  $3\ 543 + 729$ ;    c)  $305 \cdot 87$ ;    d)  $24\ 336 : 72$ .

- 10p **2.** Câte pătrate sunt desenate în figura de mai jos?



- 3.** Precizează pentru fiecare propoziție dacă este adevărată sau falsă:  
 5p a) Între numerele naturale  $2 \cdot 35$  și  $15 \cdot 5$  sunt patru numere naturale.  
 5p b) Trei ore și jumătate reprezintă 230 de minute.  
 5p c) Numărul cu 23 mai mic decât produsul numerelor 10 și 13 este egal cu 107.  
 5p d) Trei kilograme de mere costă 9 lei. Cinci kilograme de mere costă 15 lei.

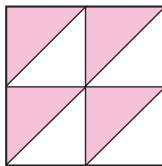
**Partea a II-a (45p)**

*La problemele următoare se cer rezolvările complete.*

- 15p **4.** Efectuează:  $[12 \cdot 5 - (84 : 4 - 117 : 9) \cdot 5] : 5$ .

- 5.** Determină:

- 5p a) numărul  $b$  care este cu 145 mai mare decât dublul numărului 90;  
 5p b) fracția ce reprezintă partea hașurată din pătratul de mai jos;



- 5p c) perimetrul unui dreptunghi care are lățimea de 5 cm și lungimea de 3 ori mai mare.  
 15p **6.** Diana a citit o carte de 55 de pagini în trei zile. Știind că a doua zi a citit de 2 ori mai puține pagini decât în prima zi și încă 2 pagini, iar în ultima zi 14 pagini, află câte pagini a citit în prima zi și câte pagini a citit în a doua zi.

**(10p sunt din oficiu)**



- Pentru scrierea și citirea numerelor procedăm astfel:
  - Se scriu una după alta cifrele care reprezintă numărul unităților din fiecare ordin.
  - Dacă nu sunt unități de un anumit ordin, în locul lor se scrie cifra zero.
  - Prima cifră a unui număr nu poate fi 0.
  - Se citește numărul format din cifrele fiecărei clase, pronunțând apoi numele clasei.
- Sistemul în care scriem numerele naturale este zecimal și pozițional pentru că:
  - 1) zece unități de un anumit ordin formează o unitate de ordin imediat superior;
  - 2) cifrele reprezintă valori diferite în raport cu poziția pe care o ocupă în scrierea numerelor.

**Exemple:**

- Scrie cu cifre arabe următorul număr:
  - două miliarde trei sute șapte milioane două sute de mii o sută douăzeci → 2 307 200 120.
- Scrie cu litere următorul număr:
  - 906 500 230 000 → nouă sute șase miliarde cinci sute de milioane două sute treizeci de mii.

**5+**

**Aplică ce ai învățat!**

1. Enumeră cifrele folosite în scrierea numerelor din desenul alăturat, ca în model.

**Model:** Numărul 20 341 are cifrele 2, 0, 3, 4, 1.

47 321  
9 070 538  
293 706 581

2. Scrie cu cifre arabe următoarele numere:

- a) o sută douăzeci de milioane trei sute patru mii douăzeci și unu;
- b) două miliarde o sută douăzeci de milioane nouă sute șase mii o sută patruzeci și trei;
- c) trei sute de miliarde două sute de milioane patru sute de mii cinci.

3. Scrie cu litere următoarele numere:

- a) 24 308 123;
- b) 2 500 807 130;
- c) 609 060 501 209;
- d) 8 325 692.

4. Scrie numerele de mai jos, care reprezintă numărul diverselor produse realizate de o firmă, într-un tabel de numerație.

46 527

12

2 020 700

9 207 352

2 876 532 103

27 003

396 001



**la aminte și ține minte!**

- Un număr natural de trei cifre îl vom scrie sub forma  $\overline{abc}$ , unde  $a, b$  și  $c$  sunt cifre și  $a$  e diferit de 0.

$$\overline{abc} = a \cdot 100 + b \cdot 10 + c, \quad a \neq 0$$

Scrierea  $a \cdot 100 + b \cdot 10 + c$  reprezintă *scrierea desfășurată* a numărului  $\overline{abc}$ .

- Orice număr natural se poate descompune într-o sumă de produse de doi factori în care un factor este numărul care arată câte unități de un anumit ordin are numărul, iar cel de-al doilea factor este unul dintre numerele 1, 10, 100, 1000, ...

**Exemple:** a)  $237 = 2 \cdot 100 + 3 \cdot 10 + 7$ ;      b)  $3\,005\,678 = 3 \cdot 1\,000\,000 + 5 \cdot 1000 + 6 \cdot 100 + 7 \cdot 10 + 8$ .

**5+**

**Aplică ce ai învățat!**

1. Scrie sub formă desfășurată numerele:

- a) 2 507 856;
- b) 563 907 205;
- c) 899 506;
- d) 100 001;
- e) 4 374 562.

2. Scrie numerele care au forma desfășurată:

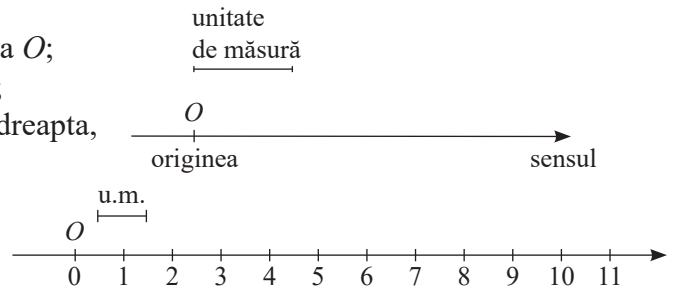
- a)  $6 \cdot 1\,000 + 7 \cdot 100 + 5 \cdot 10 + 1$ ;
- b)  $9 \cdot 1\,000\,000 + 5 \cdot 1\,000 + 3$ ;
- c)  $5 \cdot 10\,000 + 4 \cdot 100 + 8$ .

## Reprezentarea pe axă



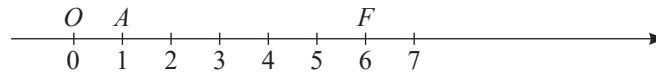
la aminte și ține minte!

- Axa numerelor este o dreaptă pe care:
  - Fixăm un punct numit **originea**, notat cu litera  $O$ ;
  - Fixăm un segment numit **unitate de măsură**;
  - Fixăm un **sens** de parcurgere, de la stânga la dreapta, numit **sensul crescător** sau sensul pozitiv.
- Luăm unitatea de măsură, începând de la originea axei spre dreapta, și obținem următoarea reprezentare:



- Unui punct de pe axa numerelor îi corespunde numărul care arată distanța de la acel punct la origine, astfel:
  - originii îi corespunde numărul 0 (cel mai mic număr natural);
  - punctului aflat la distanța de o unitate de măsură față de origine, în sensul considerat, îi corespunde numărul 1;
  - punctului aflat la distanța de 2 unități de măsură față de origine, în sensul considerat, îi corespunde numărul 2 și așa mai departe.
- Fiecare număr natural este **coordonata** unui punct situat pe axa numerelor, în sensul considerat, la o distanță față de origine egală cu acest număr.

**Exemple:**

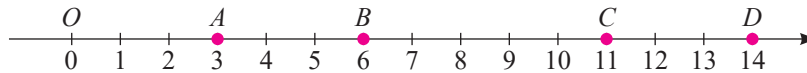


- Punctul  $O$  are coordonata 0; scriem  $O(0)$  și citim  $O$  de coordonată zero.
- Punctul  $A$  are coordonata 1; scriem  $A(1)$  și citim  $A$  de coordonată unu.
- Punctul  $F$  are coordonata 6; scriem  $F(6)$  și citim  $F$  de coordonată șase.

5+

Aplică ce ai învățat!

- Precizează coordonatele punctelor  $A, B, C, D$  reprezentate pe axa de mai jos.



- Reprezintă pe axa numerelor punctele  $A(2), B(5), C(1), D(7), E(4), F(10), H(3), I(8), J(9)$ , luând ca unitate de măsură un segment de 1 cm.

## Compararea și ordonarea



la aminte și ține minte!

Numerele naturale scrise în ordinea

$0, 1, 2, \dots, 10, 11, \dots, 1000, 1001, \dots$

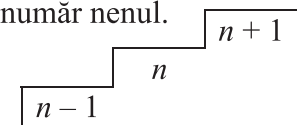
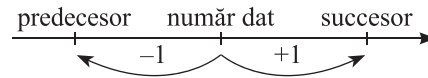
formează **șirul numerelor naturale**.

- Oricare două numere alăturate din șirul numerelor naturale se numesc **numere consecutive**.

**Exemplu:** 710 201 375 și 710 201 376 sunt numere consecutive.

- În șirul numerelor naturale, **succesorul** unui număr natural  $n$  este numărul natural scris  $n + 1$ , iar **predecesorul** numărului natural este numărul natural  $n - 1$ , unde  $n$  este un număr nenul.

$$n - 1 < n < n + 1$$



**Exemplu:** Fie numărul 102 346. Succesorul lui este 102 347, iar predecesorul lui este 102 345.

5+

Aplică ce ai învățat!

Scrie succesorul și predecesorul numerelor: a) 21 311; b) 1 999; c) 300 400.



la aminte și ține minte!

- Pentru oricare două numere naturale  $a$  și  $b$ , dacă  $a$  este înaintea lui  $b$  în șirul numerelor naturale, spunem că:  $a$  este mai mic decât  $b$  și scriem  $a < b$  sau că  $b$  este mai mare decât  $a$  și scriem  $b > a$ .
- Dacă  $a < b$  sau  $a = b$ , atunci notăm  $a \leq b$  și citim „ $a$  mai mic sau egal  $b$ ”.
- Dacă  $a > b$  sau  $a = b$ , atunci notăm  $a \geq b$  și citim „ $a$  mai mare sau egal  $b$ ”.
- Oricare ar fi două numere naturale  $a$  și  $b$ , există numai una din relațiile următoare:

$$a < b \quad \text{sau} \quad a = b \quad \text{sau} \quad a > b$$

- Pentru a compara două numere naturale folosim una din următoarele situații:

a) Dacă două numere naturale au un număr diferit de cifre, este mai mic numărul cu mai puține cifre.

**Exemplu:**  $23 < 103$ .

b) Dacă două numere naturale au același număr de cifre, se compară primele cifre ale fiecărui număr, începând de la stânga spre dreapta.

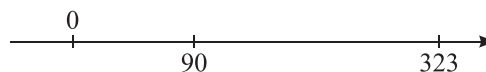
Dacă prima cifră este aceeași, se compară a doua cifră a fiecărui număr și așa mai departe până se ajunge la cifre diferite, corespunzătoare aceluiași ordin în fiecare număr.

Este mai mare numărul în care cifra ordinului respectiv reprezintă un număr mai mare.

**Exemplu:**  $569\ 730 > 568\ 913$ , deoarece  $5 = 5$ ,  $6 = 6$ ,  $9 > 8$ .

- Dintre două numere naturale reprezentate pe axa numerelor, mai mic este cel reprezentat la stânga celui alt.

**Exemplu:**



$$90 < 323$$

- A ordona *crescător* (*descrescător*) un șir de numere naturale înseamnă a scrie numerele de la cel mai mic la cel mai mare (de la cel mai mare la cel mai mic).

5+

Aplică ce ai învățat!

1. Compară numerele:

a) 7 524 și 7 593;      b) 699 821 și 32 999;      c) 7 342 și 6 237;      d) 836 952 și 836 952;

e) ;

f) ;

2. Copiază pe caiet și completează căsuțele cu semnul corespunzător ( $<$ ,  $=$ ,  $>$ ):

a)  $345 \square 325$ ;      b)  $503 \square 513$ ;      c)  $437 \square 4\ 375$ ;      d)  $2\ 456 \square 2\ 456$ ;  
e)  $1\ 321 \square 756$ ;      f)  $10\ 101 \square 10\ 099$ ;      g)  $22\ 420 \square 22\ 420$ ;      h)  $98\ 005 \square 97\ 999$ .

3. Ordonează crescător numerele: 23, 1, 326, 103, 1 026.

4. Ordonează descrescător numerele: 1 001, 1 101, 1 010, 1 110, 1 111.



## Aproximări. Estimări

Uneori ca să cunoaștem valoarea exactă a unui număr folosim aproximarea și estimarea lui.

Nu putem ști cu precizie câți ani a durat procesul de evoluție a omului. Cercetătorii au dedus că acest proces a început **aproximativ** cu peste 600 000 de ani în urmă. Începutul procesului de evoluție al omului îl estimăm ca fiind acum sute de mii de ani. Estimarea este o evaluare cu aproximație a unui număr.



la aminte și ține minte!

- *Aproximarea prin lipsă* până la zeci (sute, mii,...) a unui număr natural este cel mai mare număr natural format numai din zeci (sute, mii,...), mai mic decât numărul dat.  
**Exemple:** 27 835 aproximat prin lipsă la zeci este 27 830; la sute este 27 800; la mii este 27 000.
- *Aproximarea prin adaos* până la zeci (sute, mii,...) a unui număr natural este cel mai mic număr natural format numai din zeci (sute, mii,...), mai mare decât numărul dat.  
**Exemple:** 27 835 aproximat prin adaos la zeci este 27 840; la sute este 27 900; la mii este 28 000.
- *Rotunjirea* până la zeci (sute, mii,...) a unui număr natural este aproximarea (prin lipsă sau adaos) cea mai apropiată de numărul dat (dacă este egal depărtat de numărul dat se alege aproximarea prin adaos).  
**Exemple:** 27 835 rotunjit la zeci este 27 840; la sute este 27 800; la mii este 28 000.

5+

Aplică ce ai învățat!

1. Copiază în caiet și completează tabelul următor:

Numărul	APROXIMARE							
	Prin lipsă la:				Prin adaos la:			
	Mii	Sute	Zeci	Unități	Mii	Sute	Zeci	Unități
5 629								
13 408								
29 035								
9 543								

2. Mihai dorește să cumpere o tabletă care costă 4 253 lei. Dispune doar de bancnote de 100 lei. Care este numărul minim de bancnote de 100 lei necesar cumpărării tabletei?
3. În depozitul fabricii se ambalează 936 console cu jocuri în cutii. Dacă în fiecare cutie sunt exact 10 console, care este numărul de cutii necesar?
4. Un angrosist vinde DVD-uri cu jocuri ambalate numai în cutii de 100 de bucăți. De câte cutii are nevoie pentru a vinde 1 232 DVD-uri?



Lucrează în echipă!

### Matematica și literatura

În cadrul proiectului „Lecturi suplimentare“, Maria a găsit în biblioteca școlii următoarea listă de cărți:

Ajutați-o voi să ordoneze lista:

- a) după anul editării;
- b) după numărul de pagini.

Mai poate face și alte ordonări?

Dacă da, realizează-le.

Autorul	Titlul cărți	Ediția	Nr. pag.
Victor Eftimiu	Înșir-te, mărgărite	1967	192
Ion Creangă	Opere	1939	392
Mihail Sadoveanu	Neamul Șoimăreștilor	1915	264
Marin Sorescu	La Lilieci	1973	832
Mihai Eminescu	Poezii	2008	152
Alexandru Vlahuță	România pitorească	1965	464
Vasile Alecsandri	Vasile Porojan	2011	24
***	Basme populare	1966	144

## Exerciții și probleme

### Scrierea și citirea numerelor naturale



#### Exersează!

- Completează pe caiet spațiile punctate cu răspunsul corect:
  - Cifrele folosite pentru scrierea numărului 263 759 sunt...
  - Pentru numărul 263 759, cifra miilor este..., cifra zecilor este..., cifra sutelor de mii este...
- Scrive cu ajutorul cifrelor următoarele numere:
  - două sute treizeci și șapte;
  - opt sute de mii patruzeci și doi;
  - trei miliarde opt;
  - două sute cincizeci și șase de mii opt sute șaptezeci și nouă;
  - nouă sute cincizeci și patru;
  - două milioane opt sute trei;
  - cinci miliarde șapte sute treizeci și trei de milioane nouăzeci și opt.
- Maria are pe un cartonaș scrise următoarele numere: 3 550, 32 358, 3 568, 43 589, 9 352, 3 073 592. Ea a subliniat numerele care conțin 35 sute. Care sunt numerele subliniate de Maria?
- Se dau numerele: 108, 3 582, 82 643, 233 989, 1 008, 78 305, 128 714, 18 305 075.
  - Scrive cu litere fiecare dintre numerele de mai sus.
  - Precizează clasa și ordinul cifrei 8 din fiecare număr.
  - Specifică numărul de mii, sute și zeci din fiecare număr.
  - Scrive fiecare număr sub formă desfășurată.
- Scrive toate numerele naturale de două cifre distincte și apoi de trei cifre distincte care se pot forma cu cifrele 5, 8 și 9.
  - Scrive toate numerele naturale de două cifre distincte și apoi de trei cifre distincte care se pot forma cu cifrele 2, 0, 7.
- Scrive numerele naturale care au scrierea desfășurată de mai jos:
  - $2 \cdot 1\,000 + 1 \cdot 10 + 8$ ;
  - $5 \cdot 100 + 3 \cdot 10 + 6$ ;
  - $9 \cdot 1\,000 + 6 \cdot 100 + 8 \cdot 10 + 3$ .



#### Poți fi mai bun!

- Scrive toate numerele de forma:
  - $\overline{3x0}$ ;
  - $\overline{5aa}$ ;
  - $\overline{637x}$ ;
  - $\overline{xx4}$ ;
  - $\overline{x33}$ ;
  - $\overline{2xx5}$ ;
  - $\overline{7xy}$ ,unde  $a, x$  și  $y$  sunt cifre.
- Câte numere distincte de forma  $\overline{3ab}$  există?
- Determină numerele naturale de forma  $\overline{2a14}$  care au produsul cifrelor egal cu 36.
  - Determină numerele naturale de forma  $\overline{5a13}$  care au produsul cifrelor egal cu 90.
  - Determină numerele naturale de forma  $\overline{2ab5}$  cu  $a + b = 5$ .
  - Determină numerele naturale de forma  $\overline{ab6}$  care au suma cifrelor egală cu 22.



#### Fii campion!

- Determină numerele naturale de forma  $\overline{abcd}$ , cu  $a, b, c, d$  cifre distincte,  $b + c + d = a$  și  $a < 5$ .
- Determină numerele naturale de forma  $\overline{abc}$  care verifică relația  $\overline{abc} = \overline{ab} + \overline{bc} + \overline{ca}$ .

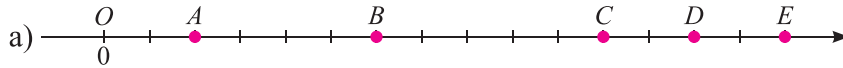
### Reprezentarea pe axă



#### Exersează!

- Desenează o axă a numerelor și reprezintă pe ea punctele care au coordonatele:
  - 6, 8, 9, 12;
  - numerele pare cuprinse între 2 și 8;
  - numerele impare cuprinse între 3 și 13.

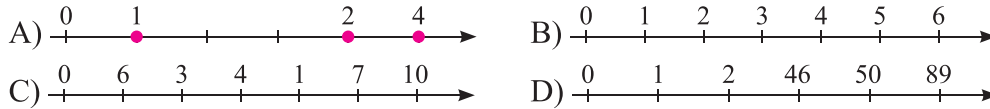
2. Scrie numărul natural corespunzător fiecărui punct marcat pe axa numerelor din figura de mai jos.



b) Desenează pe caiet axa numerelor și fixează punctele  $M(4)$ ,  $N(9)$  și  $P(12)$ .

3. Desenează o axă a numerelor și reprezintă pe ea punctele:  $O(0)$ ,  $A(3)$ ,  $B(6)$ ,  $C(1)$ ,  $D(8)$ . Se ia ca unitate de măsură 1 cm.

4. George a reprezentat numerele naturale pe axe. Care dintre reprezentările sale este corectă?



### Compararea și ordonarea numerelor naturale



#### Exersează!

1. Completează spațiile punctate cu răspunsul corect:

- a) Dintre numerele 632 și 636 mai mic este ...  
 b) Numerele de forma  $3x$  mai mici decât 35 sunt ...  
 c) Cel mai mare număr de 3 cifre este ...  
 d) Numerele naturale pare cuprinse între 33 și 40 sunt ...

2. Scrie toate numerele naturale  $n$  de trei cifre, astfel încât:

- a)  $n \leq 105$ ;      b)  $660 \leq n < 664$ ;      c)  $n \leq 307$  și  $n \geq 303$ .

3. Compară următoarele numere. Scrie semnul corespunzător ( $>$ ,  $=$ ,  $<$ ):

- a)  $23 \square 2$ ;      b)  $87 \square 99$ ;      c)  $503 \square 503$ ;      d)  $256 \square 260$ ;  
 e)  $324 \square 32$ ;      f)  $308 \square 3\ 008$ ;      g)  $14\ 385 \square 14\ 356$ ;      h)  $15\ 780 \square 15\ 870$ .

4. Compară numerele naturale:

- a)  $30\ 222 \square 33\ 033$ ;      b)  $7\ 083\ 256 \square 7\ 083\ 208$ ;      c)  $123\ 521 \square 123\ 512$ .

5. Determină cifra  $x$  pentru care sunt adevărate relațiile:

- a)  $4\overline{x} < 45$ ;      b)  $7\overline{x} \leq 78$ ;      c)  $x\overline{8} > 68$ ;      d)  $4\overline{x}3 \geq 463$ ;      e)  $43\overline{x}5 < 4375$ .

6. Folosind o singură dată toate cifrele 1, 4, 6, 8, 2, 0 și 3, formează:

- a) cel mai mic număr natural;      b) cel mai mare număr natural.

7. Ordonează crescător numerele:

- a) 352, 52, 253, 235, 532, 523;      b) 1 234, 3 214, 2 132, 3 124, 4 213, 3 412;  
 c) 33, 3 333, 333 333, 303, 330, 30 003, 33 003;      d) 135 135, 153 153, 513 513, 135, 351 351, 351.

8. Care grup de numere este ordonat de la cel mai mare număr la cel mai mic număr?

- A) 20 022, 20 220, 22 002, 22 200;      B) 20 220, 20 022, 22 200, 22 002;  
 C) 22 002, 22 200, 20 220, 20 022;      D) 22 200, 22 002, 20 220, 20 022.

9. Scrie în ordine crescătoare, apoi descrescătoare numerele naturale de două cifre care au suma cifrelor 7.

10. Tabelul alăturat indică numărul de băieți și fete din patru clase. Care clasă are cei mai mulți elevi?

Clasa	Numărul de băieți	Numărul de fete
a V-a A	12	13
a V-a B	16	12
a V-a C	14	18
a V-a D	18	15



### Poți fi mai bun!

- 11.** Andrei aruncă cinci zaruri.  
 a) Care este cel mai mic număr de cinci cifre care se poate obține astfel? Dar cel mai mare?  
 b) Care este cel mai mic număr natural de cinci cifre distincte care se poate obține astfel? Dar cel mai mare?
- 12.** Ana a șters din greșeală două cifre ale numărului  $\overline{5ab793}$ . Scrie cel mai mare și cel mai mic număr de acest fel.



### Fii campion!

- 13.** Scrie cel mai mic număr natural care are suma cifrelor egală cu 2017? Câte cifre are acest număr?
- 14.** Scrie cel mai mare și cel mai mic număr natural de forma  $\overline{x2y5}$  cu produsul tuturor cifrelor egal cu 180.
- 15.** Determină numerele naturale de forma  $\overline{x5y}$  care verifică simultan condițiile:  
 a)  $x = y + 3$ ;      b)  $400 < \overline{x5y} < 770$ .



### Exersează!

## Aproximări. Estimări

- 1.** Fie numerele: 256 783, 1 730 201, 156 237, 59 305 436, 98 765 432.  
 a) Aproximează prin lipsă și adaos la zeci, sute, mii și sute de mii.  
 b) Rotunjește numerele date la zeci, sute, mii și sute de mii.

- 2.** Transcrie tabelul alăturat și completează.

Numărul	Rotunjire la ordinul:			
	zecilor	sutelor	miiilor	zecilor de mii
36 632	36 630	36 600	37 000	40 000
64 606				
495 702				
446 893				
523 782				

- 3.** O fabrică vinde obiectele care vin ambalate numai în cutii de câte 100 bucăți. Câte cutii trebuie cumpărate pentru a vinde 603 obiecte? Dar pentru 2 690 de obiecte?
- 4.** a) Aproximează prin adaos până la mii numărul 6 479.      b) Rotunjește până la zeci numărul 156.  
 c) Aproximează prin lipsă până la mii numărul 7 542.      d) Rotunjește până la sute numărul 628.  
 e) Aproximează prin adaos până la zeci numărul 192.      f) Rotunjește până la mii numărul 6 375.



### Poți fi mai bun!

- 5.** Ana are 468 de timbre. Dacă aranjează câte 10 timbre pe o pagină a unui album, câte pagini de album ar fi necesare? Dar dacă pune câte 100 de timbre într-un album, de câte albume ar avea nevoie?
- 6.** La un mall s-au adus 25 590 de ciocolate. Transportul se face în baxuri. Fiecare bax conține 100 de cutii, fiecare cutie conține 10 ciocolate.  
 a) De câte baxuri a fost nevoie pentru transportul ciocolatei?  
 b) Care a fost numărul de cutii necesare?



### Fii campion!

- 7.** Transcrie tabelul alăturat și completează la fiecare râu estimarea la ordinul sutelor a lungimii acestuia:

Râul	Lungime	Estimare
Dunărea	1 075 km	
Mureș	761 km	
Prut	742 km	
Olt	615 km	
Jiu	339 km	



ori 100, la care se adaugă numărul 100, lăsat inițial deoparte, și 50, termenul rămas izolat după grupare. Așadar, suma este  $100 + 49 \cdot 100 + 50 = 5\,050$ .

Acest copil a devenit unul dintre marii matematicieni ai lumii și se numea *Karl Friedrich Gauss*.

- Suma se modifică:
  - dacă un termen al sumei se mărește cu un număr, atunci și suma se mărește cu acel număr;
  - dacă un termen se micșorează cu un număr, atunci și suma se micșorează cu acel număr.

**Exemplu:** La o florărie s-au vândut în prima zi 25 de buchete de lalele și 28 de buchete de trandafiri.

a) Câte buchete s-au vândut în total?

$$25 + 28 = 53 \text{ (buchete)}$$

b) A doua zi s-au vândut același număr de buchete de lalele și trandafiri, cu 12 buchete mai mult. Câte buchete s-au vândut a doua zi?

$$25 + (28 + 12) = 25 + 40 = 65 \text{ (buchete)}$$

Observăm că, *dacă un termen al sumei se mărește cu un număr, atunci și suma se mărește cu acel număr.*

5+

Aplică ce ai învățat!

1. Calculează:

a)  $56 + 103$ ;

b)  $1\,325 + 3\,526$ ;

c)  $756\,326 + 1\,230$ ;

d)  $362\,423 + 213\,245$ .

2. În biblioteca școlii noastre sunt 3 726 de volume de proză și 2 176 de volume de poezie. Câte volume de proză și poezie sunt în biblioteca școlii?

3. Calculează următoarele sume: a)  $S = 1 + 2 + 3 + \dots + 50$ ;      b)  $S = 1 + 2 + 3 + \dots + 200$ .

## Scăderea numerelor naturale

Ana are 352 lei din care îi dă lui Mihai 215 lei, iar restul îl păstrează pentru sora ei, Maria. Câți lei îi revin Mariei?

$$352 \text{ lei} - 215 \text{ lei} = 137 \text{ lei (îi revin Mariei)}$$



la aminte și ține minte!

- Scăderea este operația inversă a adunării.
- A scădea un număr, numit **scăzător**, dintr-un alt număr, numit **descăzut**, înseamnă a găsi un număr, numit **rest** sau **diferență**, care adunat cu scăzătorul să ne dea descăzutul.

$$\text{descăzut} - \text{scăzător} = \text{diferență (rest)}$$

$$\text{descăzutul} > \text{scăzătorul}$$

• Pentru a scădea un număr din altul, scădem pe rând unitățile scăzătorului (începând cu ordinul unităților, apoi al zecilor...) din unitățile de același fel ale descăzutului. Dacă la descăzut nu sunt destule unități de un anumit ordin, luăm o unitate de la ordinul imediat superior și o transformăm în 10 unități de ordin mai mic.

Dacă ordinul imediat superior nu are nicio unitate, mergem la ordinul și mai mare, luăm o unitate, o transformăm în 10 și una dintre acestea, de asemenea în 10.

**Exemple:**

$$\begin{array}{r} \text{a) } 5\,673 - \\ \quad \underline{210} \\ 5\,463 \end{array}$$

$$\begin{array}{r} \text{b) } \overset{-1}{2}36 \overset{-1}{7}01 \overset{-1}{3}25 - \\ \quad \underline{28\,693\,106} \\ 208\,008\,219 \end{array}$$

$$\begin{array}{r} \text{c) } \overset{-1}{9} \overset{-1}{3}21 \overset{-1}{7}63\,265 - \\ \quad \underline{456\,321\,754} \\ 8\,865\,441\,511 \end{array}$$

$$\begin{array}{r} \text{d) } \overset{-1}{3} \overset{-1}{5}67\,893 - \\ \quad \underline{923\,456} \\ 2\,644\,437 \end{array}$$

Proba scăderii se face prin adunare sau scădere:

- prin adunare: scăzătorul + diferența = descăzutul;
- prin scădere: descăzutul – diferența = scăzătorul.

5+

Aplică ce ai învățat!

1. Află diferența dintre următoarele numere, apoi efectuează proba.
  - a) 135 și 22;
  - b) 5 104 și 2 036;
  - c) 22 002 și 341;
  - d) 32 675 692 și 123 699.
2. Dintr-o sârmă de 112 m s-a tăiat o bucată de 25 m.
  - a) Câți metri au mai rămas?
  - b) Dacă din aceeași sârmă de 112 m am fi tăiat cu 13 m mai mult, câți metri ar fi rămas?
  - c) Dacă din aceeași sârmă de 112 m am fi tăiat cu 13 m mai puțin, câți metri ar fi rămas?

Lucrează în echipă!



Descifrează mesajele calculând și înlocuind numerele cu literele corespunzătoare.

+	308	96	103	52	2000
582	M	C	I	E	M
3523	T	A	Ă	A	T

-	13	999	529	333	751
2405	D	S	Ț	C	I
1002	T	E	I	R	A

- |     |      |      |     |      |      |      |     |     |      |
|-----|------|------|-----|------|------|------|-----|-----|------|
| 890 | 3619 | 3831 | 634 | 2582 | 3575 | 5523 | 685 | 678 | 3626 |
|-----|------|------|-----|------|------|------|-----|-----|------|
- |      |      |      |     |     |     |      |      |     |   |
|------|------|------|-----|-----|-----|------|------|-----|---|
| 2392 | 1654 | 1406 | 989 | 669 | 251 | 2072 | 1876 | 473 | 3 |
|------|------|------|-----|-----|-----|------|------|-----|---|

## Exerciții și probleme

### Adunarea numerelor naturale

Exersează!

1. Calculează:
 

a) $23 + 32$	b) $326 + 562$	c) $1\ 345 + 6\ 328$	d) $7\ 803 + 327$
$57 + 42$	$305 + 128$	$4\ 363 + 2\ 349$	$5\ 362 + 102$
2. Scrie asocierile corecte dintre fiecare literă din coloana A și cifra corespunzătoare din coloana B:
3. Efectuează grupând convenabil termenii:
 

a) $11 + 123 + 89$ ;	b) $25 + 35 + 40 + 55 + 65$ ;
c) $23 + 78 + 27 + 22$ ;	d) $296 + 25 + 4 + 75$ ;
e) $50 + 75 + 100 + 125 + 150$ ;	f) $3\ 500 + 892 + 4\ 500 + 108$ .
4. La un spectacol au participat 132 de băieți, fete cu 92 mai multe decât băieții, iar adulți cu 236 mai mulți decât fete. Câte persoane au participat la spectacol?
5. Dacă un calculator costă 1 535 lei și prețul său se majorează cu 235 lei, află noul preț al calculatorului.
6. Părinții și bunicii lui Radu îi cumpără o tabletă de ziua lui. Bunicii contribuie cu 3 230 lei, iar părinții cu 50 lei mai mult decât bunicii. Află prețul tabletei primite de Radu.
7. Într-o livadă sunt 5 639 meri, iar peri cu 3 267 mai mulți decât meri. Câți meri și peri sunt în livadă (în total)?

A	B
a) $36 + 42$	1) 1303
b) $104 + 13$	2) 78
c) $1027 + 8278$	3) 117
d) $1006 + 297$	4) 1403
	5) 9305



### Poți fi mai bun!

8. Estimează rezultatele operațiilor și alege din tabel răspunsurile corespunzătoare. Ce cuvânt s-a format?

$29\ 937 + 50\ 375 = \underline{\hspace{2cm}}$

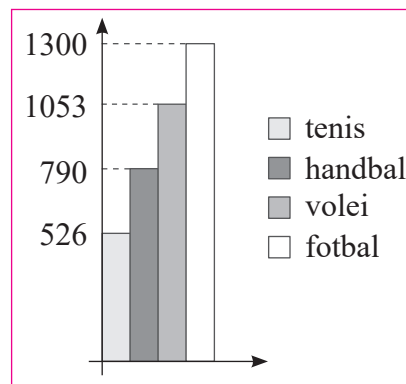
$214\ 850 + 765\ 148 = \underline{\hspace{2cm}}$

$41\ 387 + 23\ 978 = \underline{\hspace{2cm}}$

$212\ 745 + 79\ 835 = \underline{\hspace{2cm}}$

E	65 365
B	80 312
N	979 998
I	292 580



9. Datele referitoare la numărul de sportivi legitimați la un club sportiv la diferite sporturi sunt redată în graficul alăturat. Câți sportivi sunt legitimați la club?

10. Reconstituie adunările:

a) 
$$\begin{array}{r} 3*45 + \\ *73* \\ \hline 92*4 \end{array}$$

b) 
$$\begin{array}{r} *3*3 + \\ 5*4* \\ \hline 6432 \end{array}$$

c) 
$$\begin{array}{r} 1**9 + \\ 792* \\ \hline 9753 \end{array}$$

11. Alege răspunsul corect! Suma dintre cel mai mare și cel mai mic număr de patru cifre distincte este:  
A) 10 890; B) 10 899; C) 10 898; D) 10 900.



### Fii campion!

12. Determină numărul de forma  $\overline{ab}$  pentru care  $2\overline{ab} + \overline{ab}3 = 830$ .

### Scăderea numerelor naturale



### Exersează!

1. Calculează:

a)  $46 - 25$       b)  $596 - 423$       c)  $8\ 004 - 4\ 008$       d)  $456 - 32$   
 $88 - 39$        $939 - 102$        $8\ 205 - 3\ 168$        $6\ 392 - 150$

2. Scrie asocierile corecte dintre fiecare literă din coloana A și cifra corespunzătoare din coloana B:

3. Un produs costă 5 245 lei și se ieftinește cu 29 lei. Calculează noul preț al produsului.

4. Un produs costă 6 100 lei și prețul său se reduce cu 162 lei. Determină noul preț al produsului.

5. Într-o școală sunt înscriși la ciclul primar 936 de elevi, iar la ciclul gimnazial cu 123 mai puțini. Luni au lipsit 9 elevi de la ciclul primar și 13 elevi de la ciclul gimnazial. Câți elevi au fost la școală luni?

A	B
a) 52 - 21	1) 1 930
b) 313 - 45	2) 268
c) 2 129 - 199	3) 1 967
d) 2 006 - 29	4) 31
	5) 1977



### Poți fi mai bun!

6. Diferența a două numere naturale este 2 356. Unul dintre numere este 4 643. Calculează suma celor două numere. Câte soluții are problema?

7. Reconstituie scăderile:

a) 
$$\begin{array}{r} 5054 - \\ **** \\ \hline 1342 \end{array}$$

b) 
$$\begin{array}{r} *75* - \\ 878* \\ \hline *78 \end{array}$$

c) 
$$\begin{array}{r} 8*5 - \\ 352 \\ \hline *1* \end{array}$$

8. Dan are 657 de lei. Din aceștia își cumpără un caiet care costă 12 lei și un stilou care costă 36 de lei. Ce sumă i-a mai rămas lui Dan?



### Fii campion!

9. Determină toate numerele naturale de forma  $\overline{abc}$  care verifică relația:  $\overline{abc} - \overline{ab} - c = 414$ .




### 3. Înmulțirea numerelor naturale

Ana cumpără 5 pești pentru acvariul său, a câte 3 lei fiecare. Câți lei a plătit Ana pe cei 5 pești?

$$3 + 3 + 3 + 3 + 3 = 15; \quad 5 \times 3 = 15;$$
$$3 + 3 + 3 + 3 + 3 = 5 \cdot 3.$$

Așadar, Ana a plătit 15 lei pe cei cinci pești.



la aminte și ține minte!

- A înmulți un număr, numit **deînmulțit**, cu un număr numit **înmulțitor**, înseamnă a aduna deînmulțitul cu el însuși de atâtea ori cât arată înmulțitorul (adunare repetată).
- Rezultatul înmulțirii se numește **produs**.
- Deînmulțitul și înmulțitorul se numesc **factorii produsului**.
- Pentru înmulțire se folosește semnul „ $\times$ ” sau „ $\cdot$ ” care se citește **ori** (înmulțit).

$$\text{factor}_1 \cdot \text{factor}_2 = \text{produs}$$

O firmă de prelucrare foto are de realizat 9 724 de albume a câte 386 de fotografii. Câte fotografii sunt necesare pentru cele 9 724 de albume?

Pentru a afla numărul de fotografii vom efectua produsul  $9\,724 \cdot 386$ , dar  $386 = 300 + 80 + 6$ .

$$\begin{array}{r} 9724 \cdot \\ \underline{\quad 6} \\ 58344 \end{array}$$

(primul produs parțial)

$$\begin{array}{r} 9724 \cdot \\ \underline{\quad 80} \\ 777920 \end{array}$$

(al doilea produs parțial)

$$\begin{array}{r} 9724 \cdot \\ \underline{\quad 300} \\ 2917200 \end{array}$$

(al treilea produs parțial)

Așadar avem  $9\,724 \cdot (300 + 80 + 6) = 9\,724 \cdot 300 + 9\,724 \cdot 80 + 9\,724 \cdot 6 = 3\,753\,464$ .

În scris avem:

$$\begin{array}{r} 9724 \cdot \\ \underline{\quad 386} \\ 58344 \\ 777920 \\ \underline{2917200} \\ 3753464 \end{array}$$

sau

$$\begin{array}{r} 9724 \cdot \\ \underline{\quad 386} \\ 58344 \\ 77792 \\ \underline{29172} \\ 3753464 \end{array}$$

Firma prelucrează 3 753 464 fotografii.

În partea dreaptă nu s-au mai scris zerourile de la înmulțirea cu 10 și cu 100, dar s-a avut grijă ca cifrele să fie scrise mai la stânga, ca și când am fi scris și zerourile.

#### Proprietăți ale înmulțirii numerelor naturale



la aminte și ține minte!

- Produsul mai multor numere naturale nu se schimbă dacă:
  - se schimbă locul factorilor (comutativitate):  $a \cdot b = b \cdot a$ , oricare ar fi  $a$  și  $b$  numere naturale;
  - se grupează factorii în mod diferit (asociativitate):  $(a \cdot b) \cdot c = a \cdot (b \cdot c)$ , oricare ar fi  $a, b, c$  numere naturale;
  - unul din factori este egal cu 1 (1 element neutru):  $a \cdot 1 = 1 \cdot a = a$ , oricare ar fi  $a$  număr natural.

**Exemple:** a)  $5 \cdot 9 = 9 \cdot 5$ ;    b)  $(5 \cdot 9) \cdot 10 = 5 \cdot (9 \cdot 10)$ ;    c)  $12 \cdot 1 = 1 \cdot 12 = 12$ .

- Pentru a înmulți un număr cu o sumă (diferență) neefectuată, procedăm astfel: înmulțim acel număr cu fiecare termen al sumei (diferenței) neefectuate și adunăm (scădem) produsele (distributivitatea înmulțirii față de adunare și scădere):  $a \cdot (b + c) = a \cdot b + a \cdot c$ ;  $a \cdot (b - c) = a \cdot b - a \cdot c$ , oricare ar fi  $a, b, c$  numere naturale.

**Exemple:** a)  $3 \cdot (5 + 2) = 3 \cdot 5 + 3 \cdot 2 = 15 + 6 = 21$ ; b)  $7 \cdot (5 - 3) = 7 \cdot 5 - 7 \cdot 3 = 35 - 21 = 14$ .

5+

Aplică ce ai învățat!

1. Efectuează: a)  $936 \cdot 25$ ; b)  $5676 \cdot 241$ ; c)  $4317 \cdot 23$ ; d)  $1092 \cdot 493$ ; e)  $8995 \cdot 125$ .
2. Efectuează calculele și apoi compară rezultatele obținute:  
a)  $56 \cdot 23$  și  $23 \cdot 56$ ; b)  $(56 \cdot 23) \cdot 7$  și  $56 \cdot (23 \cdot 7)$ ; c)  $42 \cdot (6 + 9)$  și  $42 \cdot 15$ .
3. O fabrică realizează într-o zi 15 367 de pixuri. Câte pixuri realizează fabrica în 256 de zile?

## Factor comun

Mihai cumpără 3 albume și 3 cărți. Un album costă 85 lei și o carte costă 15 lei. Câți lei a cheltuit Mihai pe albumele și cărțile cumpărate?

Putem rezolva problema în două moduri, astfel:

$$3 \cdot 85 + 3 \cdot 15 = 255 + 45 = 300 \text{ (lei a cheltuit Mihai)}$$

$$\text{sau } 3 \cdot (85 + 15) = 3 \cdot 100 = 300 \text{ (lei a cheltuit Mihai)}$$

Se observă că s-a obținut același rezultat, deci  $3 \cdot 85 + 3 \cdot 15 = 3 \cdot (85 + 15)$ .

În acest caz spunem că am *scos factor comun* pe 3.



la aminte și ține minte!

- Dacă fiecare termen al unei sume date se împarte exact la un același număr natural nenul, spunem că acel număr este **factor comun** pentru suma dată.

**Exemplu:**  $5 \cdot 3 + 5 \cdot 4 + 6 \cdot 5 + 5 \cdot 1$ , 5 este factor comun.

- Dăm (scoatem) factor comun dintr-o sumă (diferență) astfel: scriem factorul comun ales și îl înmulțim cu paranteza formată din tot atâția termeni câți termeni are suma (diferența) dată. Fiecare termen al parantezei este egal cu câtul dintre termenul sumei date și factorul comun.

Așadar,  $a \cdot b + a \cdot c = a \cdot (b + c)$ ,  $a \cdot b - a \cdot c = a \cdot (b - c)$ , unde  $a, b, c$  sunt numere naturale oarecare.

**Exemple:** a)  $5 \cdot 3 + 5 \cdot 4 - 6 \cdot 5 = 5 \cdot (3 + 4 - 6)$ ; b)  $10 + 20 + 40 - 50 = 10 \cdot (1 + 2 + 4 - 5)$ .

5+

Aplică ce ai învățat!

1. Calculează folosind factorul comun:  
a)  $7 \cdot 37 + 43 \cdot 7$ ; b)  $23 + 9 \cdot 23$ ; c)  $41 \cdot 32 - 41 \cdot 22$ ;  
d)  $10 + 20 + 30 + 40 + 50$ ; e)  $14 + 21 + 28 + 35$ ; f)  $4 \cdot 2017 + 2017 \cdot 2013 - 2017$ .
2. Calculează, după model:  
**Model:**  $1004 \cdot 1003 + 2 \cdot 1004 - 1005 \cdot 1002 = 1004 \cdot (1003 + 2) - 1005 \cdot 1002 =$   
 $= 1004 \cdot 1005 - 1005 \cdot 1002 = 1005 \cdot (1004 - 1002) = 1005 \cdot 2 = 2010$ ;  
a)  $7 \cdot 8 + 2 \cdot 7 + 9 \cdot 10$ ; b)  $37 \cdot 28 + 42 \cdot 37 - 42 \cdot 15$ ;  
c)  $207 \cdot 28 + 207 \cdot 180 - 208 \cdot 206$ ; d)  $3009 \cdot 3008 - 3008 \cdot 3007 - 2 \cdot 3006$ ;  
e)  $5010 \cdot 5009 + 5009 - 5011 \cdot 5008$ ; f)  $2016 \cdot 2015 + 2 \cdot 2016 - 2017 \cdot 2015$ .

Lucrează în echipă!

Compuneți probleme care să se rezolve prin expresiile de la exercițiul anterior, subpunctele a), b) și f).

## Exerciții și probleme



### Exersează!

- Calculează:
 

a) $23 \cdot 3$	b) $96 \cdot 18$	c) $216 \cdot 37$	d) $2\,017 \cdot 123$
$46 \cdot 9$	$32 \cdot 10$	$493 \cdot 59$	$4\,029 \cdot 433$
$59 \cdot 7$	$64 \cdot 92$	$877 \cdot 15$	$5136 \cdot 710$
- Efectuează:
 

a) $32 \cdot 2 \cdot 5$	b) $46 \cdot 13 \cdot 10$ ;	c) $543 \cdot 3 \cdot 7$ ;	d) $45 \cdot 6 \cdot 14$ ;
e) $376 \cdot 15 \cdot 6$ ;	f) $402 \cdot 25 \cdot 0$ ;	g) $15 \cdot 250 \cdot 2$ ;	h) $86 \cdot 9 \cdot 1$ .
- Completează, pe caiet, spațiile punctate cu răspunsul corect:
  - Dacă înmulțim numărul 352 cu 36, atunci obținem numărul ...
  - Produsul numerelor 25 și 732 este egal cu ...
  - Dacă mărim numărul 514 de 18 ori, atunci obținem numărul ...
- Scriso asocierile corecte dintre litera din coloana A și cifra corespunzătoare din coloana B.
 

A	B
a) $13 \cdot 2$	1) 346 000
b) $25 \cdot 16$	2) 26
c) $346 \cdot 1\,000$	3) 309 510
d) $905 \cdot 342$	4) 400
	5) 34 600
- Un pulover costă 56 de lei. Prețul său se mărește de 2 ori. Determină noul preț al puloverului.
- Scoate factorul comun, apoi calculează:
 

a) $5 \cdot 13 - 5 \cdot 3$ ;	b) $19 + 19 \cdot 9$ ;	c) $23 \cdot 11 - 23$ ;	d) $7 \cdot 8 + 2 \cdot 7 + 10 \cdot 7$ .
e) $41 \cdot 132 - 41 \cdot 32$ ;	f) $37 \cdot 28 + 42 \cdot 37 - 37 \cdot 15$ ;	g) $27 \cdot 8 + 2 \cdot 27 + 27 \cdot 10$ ;	
h) $8 \cdot 49 + 8 \cdot 31 - 8 \cdot 50$ ;	i) $15 \cdot 99 + 15 \cdot 13 - 15 \cdot 112$ ;	j) $25 \cdot 13 + 25 \cdot 8 - 25 \cdot 11$ .	
- Scriso numerele 36, 24, 56 ca produse de doi factori. Găsește toate posibilitățile.
- Marius are 15 cutii cu câte 900 de piese de jucărie. Câte piese de jucărie sunt în total în cele 15 cutii?
- Într-o livadă sunt 37 de rânduri, iar pe fiecare rând sunt plantați 23 de cireși. Determină numărul total de cireși din acea livadă.



### Poți fi mai bun!

- Mircea are 5 cutii. În fiecare cutie sunt 25 de urne. Fiecare urnă conține 30 de bile. Determină numărul urnelor, dar și numărul bilelor.
- Un autoturism străbate distanța dintre două localități în 5 ore, mergând cu viteza de 70 km/h. Determină lungimea drumului dintre cele două localități.
- Efectuează, utilizând factorul comun:
 

a) $110 + 220 + 330 + 440 + 550$ ;	b) $11\,001 + 22\,002 + 33\,003 + 44\,004 + 55\,005$ ;
c) $5 + 10 + 15 + 20 + 25 + 30 + 35$ ;	d) $6 + 12 + 18 + 24 + 30 + 36 + 42$ .
e) $123 \cdot 389 + 123 \cdot 11 - 100 \cdot 123$ ;	f) $719 \cdot 2017 - 2017 + 282 \cdot 2017$ ;
g) $739 \cdot 2016 - 2016 + 262 \cdot 2016$ ;	h) $1999 \cdot 2000 - 1998 \cdot 1999 - 2 \cdot 1998$ .



### Fii campion!

- Reconstituie înmulțirile:
 

a) $3 \cdot 5 \cdot$	b) $274 \cdot$	c) $2 \cdot 6 \cdot$	d) $52 \cdot$
$\frac{*2}{730}$	$\frac{**}{548}$	$\frac{4*}{2124}$	$\frac{6*}{7616}$
$\frac{2190}{22630}$	$\frac{2466}{25208}$	$\frac{944}{11564}$	$\frac{5712}{64736}$

## 4. Împărțirea numerelor naturale


### Împărțirea exactă (cu rest zero) a numerelor naturale

Ana are un abonament de 175 lei pentru vizionarea a 5 filme 4D. Câți lei a plătit Ana pentru vizionarea unui film 4D, știind că prețul este același la toate filmele?

**Rezolvare:**  $175 : 5 = 35$  lei (a plătit Ana).

**Proba:**  $35 \text{ lei} \cdot 5 = 175 \text{ lei}$ .

$$\begin{array}{r} 175 \overline{)5} \\ \underline{15} \phantom{0} \\ =25 \\ \underline{25} \\ == \end{array}$$



la aminte și ține minte!

- A împărți exact un număr natural, numit **deîmpărțit**, la un alt număr natural nenul, numit **împărțitor**, înseamnă a găsi un număr natural, numit **cât**, care înmulțit cu împărțitorul să dea deîmpărțitul.

$$\text{deîmpărțitul} : \text{împărțitor} = \text{cât} \quad (D : \hat{I} = C, \hat{I} \neq 0)$$

- Proba împărțirii se face prin înmulțire sau împărțire.

- prin înmulțire:

$$\text{cât} \cdot \text{împărțitor} = \text{deîmpărțit}$$

- prin împărțire:

$$\text{deîmpărțit} : \text{cât} = \text{împărțitor}$$

**ATENȚIE!** Împărțirea la zero nu are sens.

Un întreprinzător a cumpărat 65 268 de mărgel pentru 111 ii. Câte mărgel s-au folosit pentru o ie? Pentru a afla câte mărgel s-au folosit pentru o ie efectuăm împărțirea:  $65\,268 : 111$ . Să urmărim efectuarea împărțirii.

$$\begin{array}{r} \overline{65268} \overline{)111} \\ \underline{555} \phantom{0} \\ =97 \phantom{0} \end{array}$$

#### Pasul 1

Spunem că 111 se cuprinde în 652 de 5 ori.

Scriem **5** la cât.

Înmulțim pe 5 cu împărțitorul 111.

$$5 \cdot 111 = 555$$

Efectuăm scăderea  $652 - 555 = 97$ .

Scriem **97**.

$$\begin{array}{r} \overline{65268} \overline{)111} \\ \underline{555} \phantom{0} \\ =976 \phantom{0} \\ \underline{888} \\ =88 \phantom{0} \end{array}$$

#### Pasul 2

Coborâm cifra următoare, 6, aceasta fiind cifra zecilor de la deîmpărțit. 111 se cuprinde în 976 de 8 ori.

Scriem **8** la cât, după cifra 5 aflată la pasul 1.

Înmulțim pe 8 cu 111.

$$8 \cdot 111 = 888$$

Efectuăm scăderea  $976 - 888 = 88$ .

Scriem **88**.

$$\begin{array}{r} \overline{65268} \overline{111} \\ \underline{555} \quad \underline{588} \\ =976 \\ \underline{888} \\ =888 \\ \underline{888} \\ = \end{array}$$

### Pasul 3

Coborâm cifra următoare, 8, acesta fiind cifra unităților de la deîmpărțit.

111 se cuprinde în 888 de 8 ori.

Scriem cifra **8** la cât, după cifra 8 aflată la pasul 2.

Înmulțim pe 8 cu 111.

$$8 \cdot 111 = 888$$

Efectuăm scăderea  $888 - 888 = 0$ .

Așadar, obținem câtul 588 și restul zero.

Deci pentru o ie s-au folosit 588 de mărgele.

Proba: • prin înmulțire:

$$588 \cdot 111 = 65268$$

• prin împărțire:

$$\begin{array}{r} \overline{65268} \overline{588} \\ \underline{588} \quad \underline{111} \\ =646 \\ \underline{588} \\ =588 \\ \underline{588} \\ = \end{array}$$

- Dacă deîmpărțitul se mărește (se micșorează) de un număr de ori și împărțitorul nu se schimbă, câtul se mărește (se micșorează) de același număr de ori.  
**Exemplu:**  $72 : 8 = 9$ ; mărim deîmpărțitul  $72 \cdot 2 = 144$ ;  $144 : 8 = 18$ . Observăm că 18 este mai mare decât 9 de 2 ori.
- Dacă împărțitorul se mărește (se micșorează) de un număr de ori și deîmpărțitul nu se schimbă, atunci câtul se micșorează (se mărește) de același număr de ori.  
**Exemplu:**  $72 : 8 = 9$ ;  $8 \cdot 3 = 24$ ;  $72 : 24 = 3$ .  
Câtul 3 este mai mic decât 9 de 3 ori.
- Dacă și deîmpărțitul și împărțitorul se măresc (se micșorează) de același număr de ori, atunci câtul rămâne neschimbat.  
**Exemple:** a)  $6 : 3 = 2$ ;  $6 \cdot 10 = 60$ ;  $3 \cdot 10 = 30$ . Observăm că  $60 : 30 = 2$ .  
b)  $24 : 8 = 3$ ;  $24 : 2 = 12$ ;  $8 : 2 = 4$ . Observăm că  $12 : 4 = 3$ .

5+

Aplică ce ai învățat!

1. Efectuează: a)  $4\ 176 : 348$ ; b)  $10\ 396 : 452$ ; c)  $16\ 443 : 783$ ; d)  $1\ 562\ 303 : 257$ .
2. Cei 288 de elevi care participă la „Crosul Sănătății” se așază câte 16 pe rând. Câte rânduri se formează? Dar dacă se așază câte 36 pe rând, atunci câte rânduri se formează?

## Împărțirea cu rest a numerelor naturale

Mihai a vrut să așeze cele 73 de mașinuțe pe 5 rafturi, în mod egal. Câte mașinuțe nu au avut loc pe rafturi? Calculăm numărul mașinuțelor rămase, care este dat de restul împărțirii lui 73 la 5.

$$\begin{array}{r} 73 \overline{)5} \\ \underline{5} \quad \underline{14} \\ 23 \\ \underline{20} \\ =3 \end{array}$$

$=3 \rightarrow$  numărul mașinuțelor rămase este 3



la aminte și ține minte!

- La împărțirea a două numere naturale, numite **deîmpărțit** și **împărțitor**, obținem două numere naturale, numite **cât** și **rest**, astfel încât:

$$\text{deîmpărțitul} = \text{câtul} \cdot \text{împărțitorul} + \text{restul} \quad (D = C \cdot \hat{I} + R, \hat{I} \neq 0)$$

$$\text{și restul} < \text{împărțitorul} \quad (R < \hat{I}).$$

**Exemplu:** La o florărie, din 79 de lalele s-au făcut buchete de câte 5 lalele. Determină numărul buchetelor obținute și numărul lalelelor rămase.

$$\begin{array}{r|l} 79 & 5 \\ \underline{5} & 15 \\ 29 & \\ \underline{25} & \\ =4 & \end{array} \quad \begin{array}{l} \text{S-au obținut 15 buchete.} \\ \text{Au rămas 4 lalele.} \end{array}$$

$$\begin{array}{l} \text{Proba: } 15 \cdot 5 + 4 = 79 \\ (79 - 4) : 15 = 5 \\ 75 : 15 = 5 \end{array}$$



### 5+ Aplică ce ai învățat!

- Rudolf are 293 de jucării pe care le dăruiește, în mod egal, celor 141 de prieteni. Câte jucării primește fiecare prieten? Câte jucării îi mai rămân lui Rudolf?
- Determină câtul și restul următoarelor împărțiri:  
a)  $578\,932 : 6\,937$ ;    b)  $869\,251 : 10\,011$ ;    c)  $3\,923\,004 : 8\,235$ ;    d)  $8\,005\,002 : 1\,932$ .
- Determină toate numerele naturale care împărțite la 9 dau câtul 13.

### Lucrează în echipă!

Alege răspunsul corect!

- Într-o săptămână, o fabrică de confecții a vândut 3 426 produse. În săptămâna următoare a vândut de 2 ori mai puține produse. Estimarea numărului de produse care s-au vândut în a doua săptămână este:  
A) 1 600    B) 177    C) 200    D) 1 700.
- Numărul numerelor naturale de 3 cifre cu proprietatea că împărțite la un număr natural de 2 cifre dau restul 97, este:  
A) 97    B) 100    C) 13    D) 18.
- Împărțind un număr natural la 84 obținem restul 56. Restul împărțirii acestui număr la 12 este:  
A) 9    B) 8    C) 13    D) 56.

## Exerciții și probleme

### Împărțirea cu rest 0 a numerelor naturale

#### Exersează!

- Efectuează:    a)  $84 : 4$     b)  $816 : 2$     c)  $1\,012 : 4$     d)  $53\,640 : 4$   
                           $63 : 3$                 $540 : 5$                 $3\,535 : 7$                 $89\,525 : 5$
- Efectuează:    a)  $360 : 12$ ;    b)  $143 : 11$ ;    c)  $6\,496 : 112$ ;    d)  $10\,396 : 452$ ;  
                          e)  $280 : 56$ ;    f)  $5\,457 : 17$ ;    g)  $6\,441 : 113$ ;    h)  $16\,443 : 783$ .
- Completează, pe caiet, spațiile punctate cu răspunsul corect.  
a) Dacă împărțim numărul 125 la 5, atunci obținem numărul ...  
b) Câtul numerelor 1 001 și 7 este numărul ...  
c) Dacă deîmpărțitul este 198 960 și împărțitorul este 6, atunci câtul este egal cu ...
- Mihai are 3 588 lei și cheltuie a treia parte din ei. Calculează suma cheltuită de Mihai.

5. După ce s-a dublat, prețul unui obiect a devenit 56 432 lei. Află prețul inițial al produsului.
6. Scrie asocierile corecte dintre fiecare literă din coloana A și cifra corespunzătoare din coloana B.
7. a) Determină numărul de 10 ori mai mic decât cel mai mic număr natural de trei cifre.  
b) Determină numărul de 15 ori mai mic decât numărul 675.
8. Află cel mai mic și cel mai mare număr de trei cifre care se împart exact la 36.

A	B
a) 56 : 8	1) 7
b) 242 : 121	2) 45
c) 1 440 : 32	3) 2
d) 11 983 : 521	4) 3
	5) 23



Poți fi mai bun!

9. La ce număr trebuie să-l împărțim pe 563 184 pentru a obține câtul 72 și restul zero?
10. Determină numărul: a) de 7 ori mai mic decât suma numerelor 1 351 și 2 569;  
b) de 14 ori mai mic decât produsul numerelor 63 și 32.
11. Află cel mai mic și cel mai mare număr natural de trei cifre care se împart exact la 23. Câte numere de 3 cifre se împart exact la 23?



Fii campion!

12. Efectuează: a)  $\overline{ababab} : \overline{ab}$ ; b)  $\overline{abcabc} : \overline{abc}$ , unde  $a, b, c$  sunt cifre,  $a \neq 0$ .

### Împărțirea cu rest a numerelor naturale



Exersează!

1. Determină câtul și restul împărțirilor, apoi efectuează proba:
- |             |               |                |                 |
|-------------|---------------|----------------|-----------------|
| a) 723 : 18 | b) 7 216 : 13 | c) 16 259 : 35 | d) 24 587 : 901 |
| 536 : 19    | 1 035 : 12    | 47 161 : 72    | 22 022 : 202    |
| 901 : 32    | 3 958 : 67    | 12 017 : 24    | 25 006 : 203    |
2. Completează, pe caiet, spațiile punctate cu răspunsul corect.
- a) Împărțind numărul natural 5 632 la 13 obținem câtul egal cu ... și restul egal cu ... .
- b) Numărul natural care împărțit la 6 dă câtul 15 și restul 3 este ... .
- c) Cel mai mic număr natural care împărțit la 45 dă restul 12 este ... .
3. a) Determină numărul natural care împărțit la 19 dă câtul 6 și restul 8.  
b) Determină numărul natural care împărțit la 573 dă câtul 326 și restul 59.
4. 1 000 de sticle de suc se așază în cutii. Într-o cutie încap 24 sticle. Câte cutii pline se obțin? Câte sticle rămân în ultima cutie?



Poți fi mai bun!

5. Care este cel mai mare număr natural de forma  $\overline{2ab}$  care împărțit la 32 dă restul 5?
6. Află cel mai mare și cel mai mic număr natural de 3 cifre care împărțit la 23 dă restul 13.
7. Câte numere mai mici decât 500 împărțite la 35 dau restul 13?




Fii campion!

8. Alege răspunsul corect! Numerele naturale cuprinse între 3 000 și 7 000 care împărțite pe rând la 11, 13 și 23 dau restul 9, sunt:
- A) 3 298; 6 596      B) 3 280; 6 587      C) 3 280; 6 569      D) 3 298; 6 587.

## 5. Puterea cu exponent natural a unui număr natural

Ana și Mihai au avut de realizat, la biologie, proiectul „Nuferi în Grădina Botanică”.

Timp de o săptămână, ei au mers zilnic în Grădina Botanică. Au observat că în prima zi au apărut 2 nuferi, a doua zi numărul lor s-a dublat față de prima zi, a treia zi numărul lor s-a dublat față de a doua zi și așa mai departe.



Ei au înregistrat datele în tabelul de mai jos:

Ziua	1	2	3	4	5	6	7
Numărul nufurilor	2	4	8	16	32	64	128

Scriem ca produs neefectuat, cu factori egali cu 2, numărul 8 și obținem:  $8 = 2 \cdot 2 \cdot 2$ .

Produsul neefectuat  $2 \cdot 2 \cdot 2$  se scrie  $2^3$  și citim *doi la puterea a treia*. Produsul neefectuat  $2 \cdot 2 \cdot 2 \cdot 2$  se scrie  $2^4$  și citim *doi la puterea a patra* etc.

Cu această scriere, tabelul de mai sus devine:

Ziua	1	2	3	4	5	6	7
Numărul nufurilor	$2^1$	$2^2$	$2^3$	$2^4$	$2^5$	$2^6$	$2^7$



**la aminte și ține minte!**

- Fie  $a$  și  $n$  două numere naturale, cu  $n \geq 2$ . Produsul a  $n$  factori egali cu  $a$  reprezintă puterea a  $n$ -a a numărului natural  $a$ , se notează  $a^n$  și se citește *a la puterea n* sau *a la n*.

$$a^n = \underbrace{a \cdot a \cdot a \cdot \dots \cdot a}_{n \text{ factori}}$$

În scrierea:  $a^n$  →  $n$  se numește **exponentul puterii**  
→  $a$  se numește **baza puterii**

- Ridicăm un număr natural nenul la o putere astfel: înmulțim baza cu ea însăși de atâtea ori de câte ori arată exponentul (înmulțire repetată).

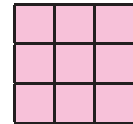
**Exemple:**  $5^2 = 5 \cdot 5$ ;  $5^3 = 5 \cdot 5 \cdot 5$ ;  $5^4 = 5 \cdot 5 \cdot 5 \cdot 5$ .

**Atenție!**

- Orice număr nenul la puterea zero este egal cu 1, adică  $a^0 = 1$ ,  $a \neq 0$ .
- $0^0$  nu are sens.
- Orice număr la puterea întâi este egal cu numărul însuși, adică  $a^1 = a$ .

- Ridicarea la putere este operație de ordinul III.
- Puterea a doua a unui număr natural se numește și **pătratul aceluși număr**.

**Exemplu:**  $3^2$  se citește *trei la puterea a doua* sau *trei la pătrat*.



- Un număr natural egal cu pătratul unui număr natural se mai numește și **pătrat perfect**.

**Exemplu:** 16 este pătrat perfect, deoarece  $16 = 4^2$ .

- Pătratul oricărui număr natural are ultima cifră 0, 1, 4, 5, 6 sau 9.
- Un număr natural care are ultima cifră 2, 3, 7 sau 8 nu este pătrat al unui număr natural.
- Între două pătrate a două numere naturale consecutive nu mai există niciun alt pătrat al unui număr natural.

**Exemple:** a) 1217 nu este pătratul unui număr natural, deoarece are ultima cifră 7.

b) 20 nu este pătratul unui număr natural, deoarece este cuprins între două pătrate a două numere naturale consecutive, adică  $4^2 < 20 < 5^2$ .



1. Scrie sub formă de putere cu exponent număr natural produsele următoare:  
a)  $2 \cdot 2$ ; b)  $3 \cdot 3 \cdot 3$ ; c)  $11 \cdot 11 \cdot 11 \cdot 11$ ; d)  $3 \cdot 3 \cdot 3 \cdot 3 \cdot 3 \cdot 3 \cdot 3$ ; e)  $8 \cdot 8 \cdot 8 \cdot 8 \cdot 8$ .
2. Completează, pe caiet, tabelul de mai jos cu baza și exponentul corespunzător fiecărei puteri:

Puterea este:	$56^{23}$	$7^2$	$19^{456}$	$34^0$	$1^{1234}$	$39^6$	$93^7$	$100^{236}$	$1023^8$
Baza este:									
Exponentul este:									

3. Completează, pe caiet, tabelul:

Numărul	0	1	2	3	4	5	6	7	8	9
Pătratul numărului										

4. Arată că următoarele numere nu sunt pătratele niciunui număr natural: a) 59; b)  $2011^{2011}$ ; c)  $8^{13}$ .
5. Calculează  $21^2$  și  $22^2$ , iar apoi arată că 456 nu este pătratul unui număr natural.
6. Arată că numărul  $2018 \cdot 2017 + 2018$  este pătratul unui număr natural.

## Reguli de calcul cu puteri

la aminte și ține minte!

### Reguli de calcul cu puteri cu aceeași bază

- Produsul a două puteri cu aceeași bază este o putere cu aceeași bază, iar exponentul este suma exponenților celor două puteri.

$$a^m \cdot a^n = a^{m+n}, a \neq 0, \text{ oricare ar fi } a, m, n \text{ numere naturale}$$

*Exemplu:*  $3^4 \cdot 3^5 = 3^{4+5} = 3^9$

- Câtul a două puteri cu aceeași bază nenulă este o putere cu aceeași bază, iar exponentul este diferența exponenților celor două puteri.

$$a^m : a^n = a^{m-n}, a \neq 0, m \geq n, \text{ oricare ar fi } a, m, n \text{ numere naturale}$$

*Exemplu:*  $2^8 : 2^3 = 2^{8-3} = 2^5$

- Puterea unei puteri este o putere cu aceeași bază, iar exponentul este produsul exponenților.

$$(a^m)^n = a^{m \cdot n}, a \neq 0, \text{ oricare ar fi } a, m, n \text{ numere naturale}$$

*Exemplu:*  $(2^7)^9 = 2^{7 \cdot 9} = 2^{63}$

- $a^{m+n} = a^m \cdot a^n$ ;  $a^{m-n} = a^m : a^n$ ;  $a^{m \cdot n} = (a^m)^n = (a^n)^m, a \neq 0, m \geq n$ , oricare ar fi  $a, m, n$  numere naturale

### Reguli de calcul cu puteri cu același exponent

- Produsul a două puteri cu același exponent și baze diferite este o putere cu baza egală cu produsul bazelor celor două puteri, iar exponentul este cel dat.

$$a^n \cdot b^n = (a \cdot b)^n, a \neq 0, b \neq 0, \text{ oricare ar fi } a, b, n \text{ numere naturale}$$

*Exemplu:*  $2^3 \cdot 5^3 = (2 \cdot 5)^3 = 10^3$

- Câtul a două puteri nenule cu același exponent și baze diferite este o putere cu baza egală cu câtul bazelor celor două puteri, iar exponentul este cel dat.

$$a^n : b^n = (a : b)^n, a \neq 0, b \neq 0, \text{ oricare ar fi } a, b, n \text{ numere naturale}$$

*Exemplu:*  $9^7 : 3^7 = (9 : 3)^7 = 3^7$

- $(a \cdot b)^n = a^n \cdot b^n$ ;  $(a : b)^n = a^n : b^n, a \neq 0, b \neq 0$ , oricare ar fi  $a, b, n$  numere naturale

## Compararea puterilor

O veche legendă indiană ne povestește cum inventatorul jocului de șah, Sissa ben Dahir, i-a fost oferită o recompensă la alegere, de către regele indian.

„Maiestate, nu vreau cine știe ce bogății lumești, dați-mi doar un bob de grâu pentru prima pătrățică a tablei de șah, două boabe pentru a doua, 4 boabe pentru a treia, 8 boabe pentru a patra pătrățică... și tot așa, până ce toate cele 64 de pătrate ale tablei de șah vor fi acoperite de grâu“ – fragment din *Legenda șahului*.

Scriem într-un tabel numărul de boabe până la a noua pătrățică:

<b>Pătrățica</b>	1	2	3	4	5	6	7	8	9
<b>Număr boabe</b>	1	2	4	8	16	32	64	128	256

Comparăm numărul de boabe din a treia și a patra pătrățică și observăm că  $4 < 8$ .

Dar  $4 = 2^2$ ,  $8 = 2^3$ , așadar  $2^2 < 2^3$ .

Comparăm numărul de boabe de grâu din a treia și a cincea pătrățică și observăm că  $4 < 16$ .

Dar  $4 = 2^2$ ,  $16 = 4^2$ , așadar  $2^2 < 4^2$ .



### la aminte și ține minte!

- Dintre două puteri care au aceeași bază este mai mică puterea care are exponentul mai mic.  
dacă  $n < m$ , atunci  $a^n < a^m$ , oricare ar fi  $a, m, n$  numere naturale,  $a \neq 0$  și  $a \neq 1$ .
- Două puteri care au aceeași bază sunt egale dacă au exponenți egali.  
dacă  $n = m$ , atunci  $a^n = a^m$ , oricare ar fi  $a, m, n$  numere naturale,  $a \neq 0$ .
- Dintre două puteri cu același exponent, dar baze diferite, mai mică este puterea care are baza mai mică.  
dacă  $a < b$ , atunci  $a^n < b^n$ , oricare ar fi  $a, b, n$  numere naturale nenule.
- Două puteri care au același exponent sunt egale dacă au bazele egale.  
dacă  $a = b$ , atunci  $a^n = b^n$ , oricare ar fi  $a, b, n$  numere naturale nenule,  $n \geq 1$ .
- Dacă două puteri au exponenți diferiți și baze diferite, atunci le aducem fie la același exponent, fie la aceeași bază și le comparăm.

**Exemple:** Comparăm:

a)  $10^3$  cu  $10^8$ . Pentru că au aceeași bază, dar  $3 < 8$ , rezultă  $10^3 < 10^8$ .

b)  $5^8$  cu  $9^8$ . Pentru că au același exponent, dar  $5 < 9$ , rezultă  $5^8 < 9^8$ .

c)  $3^{20}$  cu  $2^{30}$ . Puterile au baze diferite și exponenți diferiți.

Observăm că  $20 = 2 \cdot 10$  și  $30 = 3 \cdot 10$ . Scriem  $3^{20} = (3^2)^{10} = (3^2)^{10} = 9^{10}$ ;  $2^{30} = 2^3 \cdot 10 = (2^3)^{10} = 8^{10}$ .  
Comparăm  $9^{10}$  cu  $8^{10}$ , puteri cu același exponent. Cum  $9 > 8$ , atunci  $9^{10} > 8^{10}$ , adică  $3^{20} > 2^{30}$ .

d)  $5^{30}$  cu  $125^9$ . Puterile au baze diferite și exponenți diferiți.

Cum  $125 = 5^3$ , scriem  $125^9 = (5^3)^9 = 5^{27}$ . Comparăm  $5^{30}$  cu  $5^{27}$ , puteri cu aceeași bază.

Cum  $30 > 27$ , atunci  $5^{30} > 5^{27}$ , adică  $5^{30} > 125^9$ .

5+

### Aplică ce ai învățat!

1. Compară și scrie, pe caiet, semnul corespunzător ( $<$ ,  $=$ ,  $>$ ):

- a)  $2^{34}$    $2^{56}$ ;      b)  $3^{314}$    $3^{556}$ ;      c)  $7^{34}$    $7^{56}$ ;      d)  $2^{34}$    $5^{34}$ ;      e)  $25^{42}$    $5^8$ ;  
f)  $24^{345}$    $22^{345}$ ;      g)  $68^{194}$    $123^{194}$ ;      h)  $2^{34}$    $3^{51}$ ;      i)  $5^{24}$    $9^{16}$ ;      j)  $4^{102}$    $2^{200}$ .

## Sisteme de numerație

Milioane de ani i-au trebuit omului să fie capabil să gândească la număr. Când cineva dorea să se spună câte animale deține, nu folosea sistem de numerație, ci punea câte o piatră sau un cremene într-un sac pentru fiecare animal.

Termenul de calcul vine din latinescul *calculus* care înseamnă *piatră*.

De-a lungul timpului, diferite popoare au inventat și dezvoltat mai multe sisteme de numerație.



### Sistemul de numerație zecimal

Sistemul de numerație folosit cu precădere în practică este **sistemul zecimal**, adică sistemul cu baza 10. *Baza de numerație* este numărul care arată câte unități de un anumit ordin formează o unitate de ordin imediat superior.

Acest sistem utilizează pentru scrierea numerelor cele zece cifre arabe, de unde îi vine și denumirea.

- Orice număr natural se poate scrie ca o sumă de produse în care un factor este o putere a lui 10.

**Exemplu:**  $2017 = 2 \cdot 10^3 + 0 \cdot 10^2 + 1 \cdot 10^1 + 7 \cdot 10^0 = 2 \cdot 10^3 + 0 \cdot 10^2 + 1 \cdot 10 + 7$ .

- În general:  $\overline{ab} = a \cdot 10 + b$ ;  $\overline{abc} = a \cdot 10^2 + b \cdot 10 + c$ ;  
 $\overline{abcd} = a \cdot 10^3 + b \cdot 10^2 + c \cdot 10 + d$ , unde  $a, b, c, d$  sunt cifre,  $a \neq 0$ .

### Sistemul de numerație binar

Sistemul de numerație în baza 2 se numește *sistem de numerație binar*. Pentru scrierea numerelor în baza 2 utilizăm doar cifrele **0** și **1**, care se numesc *cifre binare*.

- În general:  $\overline{ab}_{(2)} = a \cdot 2^1 + b \cdot 2^0$ ;  $\overline{abc}_{(2)} = a \cdot 2^2 + b \cdot 2^1 + c \cdot 2^0$ ,  $a, b, c$  cifre binare,  $a \neq 0$ .

**Exemplu:** Să trecem numărul 13 din baza 10 în baza 2.

$$13 = 10 \cdot 1 + 3;$$

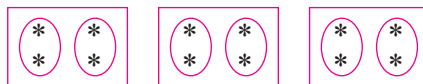
13 are 13 unități de ordinul 1.

- Grupăm cele 13 unități de ordin 1 în grupe de câte 2, obținem 6 unități de ordinul 2 și rămâne o unitate de ordinul 1.



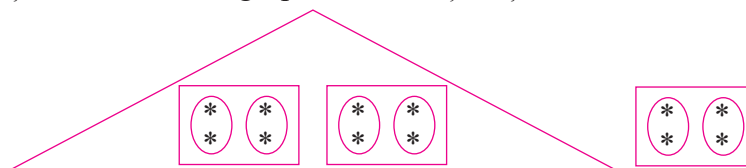
$$13 = 6 \cdot 2 + 1, \text{ așadar cifra de ordin 1 este } \mathbf{1}.$$

- Grupăm cele 6 unități de ordinul 2 în grupe de câte 2 și obținem 3 unități de ordin 3 și zero unități de ordin 2.



$$6 = 3 \cdot 2 + 0, \text{ așadar cifra de ordin 2 este } \mathbf{0}.$$

- Grupăm cele 3 unități de ordinul 3 în grupe de câte 2 și obținem o unitate de ordinul 4 și o unitate de ordinul 3.



$$3 = 1 \cdot 2 + 1, \text{ așadar cifra de ordinul 3 este } \mathbf{1} \text{ și cifra de ordin 4 este } \mathbf{1}.$$

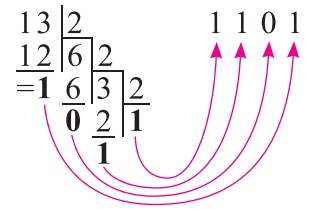
Obținem  $\mathbf{1} \cdot 2^3$  +  $\mathbf{1} \cdot 2^2$  +  $\mathbf{0} \cdot 2$  +  $\mathbf{1} = 1101_{(2)}$

↑ unități de ordin 4      ↑ unități de ordin 3      ↑ unități de ordin 2      ↑ unități de ordin 1      baza

Raționamentele de mai sus pot fi cuprinse într-o succesiune de împărțiri la 2.

Trecem  $1101_{(2)}$  în baza 10 astfel:

$$1101_{(2)} = 1 \cdot 2^3 + 1 \cdot 2^2 + 0 \cdot 2 + 1 = 8 + 4 + 0 + 1 = 13.$$



5+

Aplică ce ai învățat!

- Descompune următoarele numere naturale în baza 10:  
a) 267; b) 3 456; c) 2 005; d) 560 003; e) 8 008 765; f) 3 000 070; g) 100 300 020; h) 210 011.
- Scrie numerele naturale care au următoarele descompuneri în baza 10 :  
a)  $5 \cdot 10^4 + 7 \cdot 10^2 + 2$ ; b)  $4 \cdot 10^5 + 2 \cdot 10^3 + 6 \cdot 10^2 + 3 \cdot 10 + 9$ ; c)  $2 \cdot 10^6 + 8 \cdot 10^4 + 1$ .
- Scrie în baza 10 numerele: a)  $1111_{(2)}$ ; b)  $10001_{(2)}$ ; c)  $101011_{(2)}$ ; d)  $11111101_{(2)}$ .
- Trece în baza 2 următoarele numere: 12, 18, 35, 44, 55, 11, 8, 7, 9, 23, 32, 35, 41, 43.

## Exerciții și probleme

### Puterea unui număr natural cu exponent natural

Exersează!

- Completează, pe caiet, spațiile punctate cu răspunsul corect:  
a) Baza numărului  $45^{234}$  este ... , iar exponentul este .....  
b) Pătratul numărului 25 este ...
- Precizează baza și exponentul următoarelor puteri:  $5^2$ ,  $6^3$ ,  $8^{10}$ , 13,  $21^{303}$ ,  $83^{93}$ ,  $10^{36}$ ,  $18^{29}$ ,  $56^0$ ,  $29^3$ .
- Copiază, calculează și completează:  
a)  $2^2 = 2 \cdot 2 = \dots$ ; b)  $15^2 = 15 \cdot 15 = \dots$ ; c)  $24^2 = 24 \cdot 24 = \dots$ ; d)  $5^3 = 5 \cdot 5 \cdot 5 = \dots$
- Calculează: a)  $2^4$ ,  $2^5$ ,  $2^6$ ,  $2^7$ ,  $2^8$ ,  $2^9$ ,  $2^{10}$ ; b)  $3^1$ ,  $27^2$ ,  $3^3$ ,  $3^4$ ,  $4^5$ ,  $8^2$ ; c)  $5^1$ ,  $5^2$ ,  $5^3$ ,  $5^4$ ,  $5^5$ ,  $10^3$ ,  $10^5$ .
- Calculează:  
a)  $2^5 - 3$ ; b)  $5^2 + 2^2$ ; c)  $7^3 + 6^2$ ; d)  $2^3 \cdot 2^3$ ; e)  $32^1 + 32^0$ ; f)  $1^{36} + 0^{42} + 2 \cdot 016^1$ ;  
g)  $2^6 + 2$ ; h)  $3^4 - 2^4$ ; i)  $3^3 - 2^3$ ; j)  $3^2 : 3$ ; k)  $10^4 - 5^5$ ; l)  $4 + 10^1 + 35^2$ .
- Scrie asocierile corecte dintre fiecare literă din coloana A și cifra corespunzătoare din coloana B.

A	B
a) pătratul lui 25 este	1) 1024
b) pătratul lui 32 este	2) 625
c) 81 este pătratul numărului	3) 9
d) 400 este pătratul numărului	4) 35
	5) 20

Poți fi mai bun!

- Scrie sub formă de puteri ale lui 2 următoarele numere: 32; 64; 128; 256; 512; 1 024.
- Scrie sub formă de puteri ale lui 3 următoarele numere: 9; 27; 81; 243; 729; 2 187.
- Arată că următoarele numere sunt pătratele unor numere naturale:  
a)  $1 + 3 + 5$ ; b)  $1 + 3 + 5 + 7 + 9$ ; c)  $1 + 3 + 5 + 7 + 9 + 11 + 13$ ; d)  $1 + 3 + 5 + \dots + 99$ .

Fii campion!

- Arată că următoarele numere nu sunt pătratele unor numere naturale:  
a)  $2^{402} + 2 \cdot 154$ ; b)  $36^{345} - 2^{23}$ ; c)  $25^{2017} + 2$ ; d)  $6^{302} + 7$ ; e)  $3^{64} + 1$ .

### Reguli de calcul cu puteri

Exersează!

- Scrie sub forma unei singure puteri cu exponent număr natural:  
a)  $2^5 \cdot 2^{32}$ ; b)  $3^{18} \cdot 3^{46}$ ; c)  $8^{42} \cdot 8^{36}$ ; d)  $15^{1003} \cdot 15^{203}$ ; e)  $3^{48} \cdot 3^{13} \cdot 3^{41}$ ; f)  $4^{63} \cdot 4^2$ ;  
g)  $7^{45} \cdot 7^{57}$ ; h)  $6^{49} \cdot 6^{98}$ ; i)  $27^{453} \cdot 27^{527}$ ; j)  $2^{2005} \cdot 2^1 \cdot 2^0$ ; k)  $11^3 \cdot 11^{10}$ ; l)  $17^0 \cdot 17^{49}$ .

2. Scrie sub forma unei singure puteri cu exponent număr natural:

- a)  $2^{49} : 2^{13}$ ;    b)  $3^{103} : 3^{91}$ ;    c)  $5^{96} : 5^{96}$ ;    d)  $3^{42} : 3^{12} : 3$ ;    e)  $7^{49} : 7^{15} : 7^9$ ;  
f)  $7^{32} : 7^5$ ;    g)  $5^{312} : 5^{56}$ ;    h)  $71^{32} : 71^5$ ;    i)  $6^{112} : 6^{12} : 6^{43}$ ;    j)  $8^{91} : 8^{75} : 8^{10}$ ;  
k)  $(5^3)^{23}$ ;    l)  $(3^7)^{21}$ ;    m)  $(25^1)^{14}$ ;    n)  $[(2^5)^4]^6$ ;    o)  $[(32^{14})^5]^0$ .

3. Scrie sub forma unei singure puteri cu exponent număr natural:

- a)  $2^8 \cdot 3^8$ ;    b)  $5^{32} \cdot 6^{32}$ ;    c)  $4^{103} \cdot 5^{103}$ ;    d)  $7^{56} \cdot 2^{56}$ ;    e)  $14^{33} \cdot 15^{33}$ ;    f)  $9^{213} \cdot 10^{213}$ ;  
g)  $4^5 : 2^5$ ;    h)  $6^{11} : 3^{11}$ ;    i)  $8^{201} : 4^{201}$ ;    j)  $6^{13} : 2^{13}$ ;    k)  $10^{11} : 25^{11}$ ;    l)  $100^{100} : 25^{100}$ .



Poți fi mai bun!

4. Efectuează, utilizând factorul comun:

- a)  $2^{2017} + 2^{2016} + 2^{2015}$ ;    b)  $2 \cdot 3^{2017} + 5 \cdot 3^{2016} - 6 \cdot 3^{2017}$ ;    c)  $5^{3018} - 20 \cdot 5^{3016} - 24 \cdot 5^{3015}$ .



Fii campion!

5. Calculează: a)  $(3^{1+2+3+\dots+100} + 2 \cdot 3^{5050}) : 3^{5051}$ ;    b)  $(5^{2+4+6+\dots+200} + 4 \cdot 5^{10100}) : 5^{10100}$ .

### Compararea puterilor



Exersează!

1. Compară următoarele numere:

- a)  $3^4$  și  $4^3$ ;    b)  $2^5$  și  $5^2$ ;    c)  $1^{49}$  și  $2^1$ ;    d)  $9^2$  și  $10^{10}$ ;    e)  $2^{51}$  și  $0^{2017}$ ;    f)  $1^{32}$  și  $2^7$ ;  
g)  $2^{56}$  și  $2^{81}$ ;    h)  $5^{303}$  și  $5^{203}$ ;    i)  $7^{1403}$  și  $7^{235}$ ;    j)  $9^{4362}$  și  $9^{4361}$ ;    k)  $1^{23}$  și  $1^{1003}$ ;    l)  $2^{560}$  și  $2^{561}$ .

2. Compară numerele:

- a)  $2^{79}$  și  $3^{79}$ ;    b)  $5^{203}$  și  $4^{203}$ ;    c)  $8^{1007}$  și  $18^{1007}$ ;    d)  $97^{4017}$  și  $89^{4017}$ ;    e)  $7^{300}$  și  $5^{300}$ ;  
f)  $6^{2007}$  și  $9^{2007}$ ;    g)  $23^{2017}$  și  $25^{2017}$ ;    h)  $17^{2407}$  și  $19^{2407}$ ;    i)  $8^{23}$  și  $16^{19}$ ;    j)  $4^{32}$  și  $8^{25}$ ;  
k)  $2^{36}$  și  $16^{20}$ ;    l)  $3^{18}$  și  $9^{15}$ ;    m)  $27^{41}$  și  $9^{62}$ ;    n)  $32^{70}$  și  $64^{60}$ ;    o)  $5^{47}$  și  $25^{19}$ .

3. Ordonează crescător numerele:

- a)  $2^{203}$ ;  $2^{102}$ ;  $2^{567}$ ;  $2^5$ ;  $2^0$ ;    b)  $3^{26}$ ;  $3^{402}$ ;  $3^{1023}$ ;  $3^4$ ;  $3^{22}$ ;    c)  $4^{28}$ ;  $5^{28}$ ;  $7^{28}$ ;  $11^{28}$ .



Poți fi mai bun!

4. Compară numerele: a)  $3^{33}$  și  $2^{44}$ ;    b)  $4^{33}$  și  $5^{22}$ ;    c)  $7^{22}$  și  $8^{11}$ ;    d)  $9^{30}$  și  $5^{45}$ ;    e)  $3^{27}$  și  $4^{36}$ ;    f)  $10^{90}$  și  $6^{135}$ .

5. Ordonează descrescător numerele: a)  $9^{25}$ ,  $3^{18}$ ,  $2^{75}$ ;    b)  $2^{81}$ ,  $4^{32}$ ,  $5^{54}$ ;    c)  $4^{28}$ ,  $9^{14}$ ,  $7^{28}$ .



Fii campion!

6. Compară numerele: a)  $(2 + 3)^2$  cu  $2^2 + 3^2$ ;    b)  $2^{2^3}$  cu  $(2^3)^2$ ;    c)  $3^{2^5}$  cu  $(3^5)^2$ ;    d)  $2^{69}$  și  $3^{46}$ .

### Sistem zecimal, sistem binar



Exersează!

1. Descompune următoarele numere naturale în baza 10: 256, 5 679, 2 304, 70 009, 102 305.

2. Scrie mai simplu următoarele numere:

- a)  $6 \cdot 10^6 + 7 \cdot 10^5 + 3 \cdot 10^2 + 8 \cdot 10 + 2$ ;    b)  $7 \cdot 10^7 + 2 \cdot 10^4 + 5 \cdot 10 + 1$ ;  
c)  $2 \cdot 10^0 + 2 \cdot 10^1 + 2 \cdot 10^2 + 3 \cdot 10^4$ ;    d)  $8 \cdot 10^4 + 9 \cdot 10^3 + 3 \cdot 10 + 6$ .

3. Scrie în baza 2 următoarele numere: 37, 19, 103, 45, 126, 113, 354, 42, 25, 49, 255, 21, 16, 29.

4. Scrie în baza 10 următoarele numere:

- a)  $10111_{(2)}$ ;    b)  $10001_{(2)}$ ;    c)  $100_{(2)}$ ;    d)  $1001101_{(2)}$ ;    e)  $11011_{(2)}$ ;  
f)  $100000001_{(2)}$ ;    g)  $110011_{(2)}$ ;    h)  $101101_{(2)}$ ;    i)  $111110_{(2)}$ ;    j)  $1110111_{(2)}$ .

## 6. Ordinea efectuării operațiilor

Operațiile cu numere sunt grupate astfel: operații **de ordinul I** (adunarea și scăderea), operații **de ordinul II** (înmulțirea și împărțirea) și operații **de ordinul III** (ridicarea la putere).



la aminte și ține minte!

• Într-un exercițiu de calcul cu mai multe operații de același ordin se efectuează operațiile în ordinea scrierii lor, de la stânga la dreapta.

**Exemple:** a)  $56 - 12 - 7 + 10 = 44 - 7 + 10 = 37 + 10 = 47$ ; b)  $144 : 6 : 3 \cdot 2 = 24 : 3 \cdot 2 = 8 \cdot 2 = 16$ .

• Într-un exercițiu de calcul cu mai multe operații de ordine diferite se efectuează:

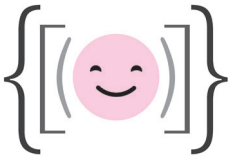
- mai întâi operațiile **de ordinul III** (ridicarea la putere),
- apoi operațiile **de ordinul II** (înmulțirile și împărțirile) în ordinea scrierii lor, de la stânga la dreapta,
- apoi operațiile **de ordinul I** (adunările și scăderile) în ordinea scrierii lor, de la stânga la dreapta.

**Exemple:**  $17 \cdot 2^3 - 63 : 9 + 2 \cdot 5 = 17 \cdot 8 - 63 : 9 + 2 \cdot 5 = 136 - 7 + 10 = 129 + 10 = 139$ .

• Într-un exercițiu cu paranteze, se efectuează: mai întâi calculele din parantezele rotunde, apoi calculele din parantezele pătrate, apoi calculele din acolade.

**Exemple:** a)  $\{[(7 \cdot 3 - 5) + 2 \cdot 6] : 4 + 5\} \cdot 10 =$   
 $= \{[(21 - 5) + 2 \cdot 6] : 4 + 5\} \cdot 10 =$   
 $= [(16 + 12) : 4 + 5] \cdot 10 =$   
 $= (28 : 4 + 5) \cdot 10 =$   
 $= (7 + 5) \cdot 10 =$   
 $= 12 \cdot 10 = 120;$

b)  $3 \cdot [3 + 3 \cdot (3^3 - 3^5 : 3^3)] + 5 \cdot 3^2 =$   
 $= 3 \cdot [3 + 3 \cdot (3^3 - 3^2)] + 5 \cdot 9 =$   
 $= 3 \cdot [3 + 3 \cdot (27 - 9)] + 45 =$   
 $= 3 \cdot (3 + 3 \cdot 18) + 45 =$   
 $= 3 \cdot (3 + 54) + 45 =$   
 $= 3 \cdot 57 + 45 = 171 + 45 = 216.$



c) Ariana avea 135 de bomboane. Ea împarte celor 14 prietene câte 6 bomboane. Bunica îi mai dă 18 bomboane. Câte bomboane are acum Ariana? Scrie rezolvarea într-un exercițiu.

**Rezolvare:**  $135 - 14 \cdot 6 + 18 = 135 - 84 + 18 = 51 + 18 = 69$  (bomboane are Ariana acum).

*Așa da!*  $16 - 5 \cdot 2 = 16 - 10 = 6$ ;  $83 + 6 \cdot 5 = 83 + 30 = 113$ .

*Așa nu!*  $16 - 5 \cdot 2 = 11 \cdot 2 = 22$ ;  $83 + 6 \cdot 5 = 89 \cdot 5 = 445$ .

5+

Aplică ce ai învățat!

1. Efectuează:

a)  $24 - 24 : 2$ ;

b)  $3^3 - 27$ ;

c)  $5 \cdot 5^7 \cdot 5^{17} - 5^{25}$ ;

d)  $36 : 2^2 + 6 \cdot 13$ ;

e)  $2 \cdot (12 - 12 : 4)$ ;

f)  $2 \cdot [2 + 3 \cdot (24 - 256 : 16)]$ ;

g)  $(6 - 2)^5 : (8 - 6)^3 \cdot (2017 - 15)^0 : 2017^0 - 1^{2017}$ ;

h)  $3 \cdot (5 + 5^3 : 5^2 - 4^3 : 4^2) + 7 \cdot 3^0$ .

2. Elevii clasei a V-a A au mers într-o excursie de 3 zile. În prima zi au parcurs 252 km, a doua zi cu 96 km mai mult, iar a treia zi, de trei ori mai puțin decât în primele două zile. Care a fost drumul parcurs de elevi în cele 3 zile. Scrie rezolvarea într-un singur exercițiu.



Lucrează în echipă!

1. Compune probleme după exercițiile următoare:

a)  $260 - 260 : 10$ ;

b)  $2^{10} : 2$ ;

c)  $80 - (2 \cdot 3 + 7 \cdot 9)$ . Rezolvă-le!

2. Compune un rebus în care să folosești toate noțiunile importante din lecțiile studiate.



### Exersează!

#### 1. Calculează:

- |                         |                                   |                                       |                            |
|-------------------------|-----------------------------------|---------------------------------------|----------------------------|
| a) $15 - 6 : 2$ ;       | b) $256 : 8 + 3 \cdot 15$ ;       | c) $136 + 14 \cdot 12$ ;              | d) $2^3 + 7 \cdot 5$ ;     |
| e) $5^3 - 12 \cdot 2$ ; | f) $(2 \cdot 3 - 5)^{2016}$ ;     | g) $4 - 90^{50} : 90^{50}$ ;          | h) $2 + 5 \cdot 3^3$ ;     |
| i) $12 : 6 - 2$ ;       | j) $2 \cdot 2^2 \cdot 2^3 + 50$ ; | k) $(7 \cdot 3 - 4 \cdot 5)^{2016}$ ; | l) $2^{30} : 2^{29} + 1$ . |

#### 2. Calculează:

- |                                  |                                  |  |
|----------------------------------|----------------------------------|--|
| a) $2^3 + 21 \cdot 3 - 36 : 3$ ; | b) $57 : 3 + 13 \cdot 2 - 5^2$ ; | c) $1^{32} \cdot 7^1 - 0^5 \cdot 5^0 - 4^1 \cdot 10^0 + 3^{2003} \cdot 0^{2003}$ ; |
| d) $13 \cdot 5 - 3^3 + 90 : 5$   | e) $12^2 : 6 - 6 : 2 + 3^3$ ;    | f) $100 - 4^3 + 225 : 15 + 18 \cdot 2 \cdot 017^0$ ;                               |
| g) $5^2 - 15^0 + 3 \cdot 10$ ;   | h) $5^3 + 5^3 : 5^2 - 10^2$ ;    | i) $4^2 + 6 \cdot 3 - 84 : 7 + 7^2 - 2^4 + 8^0$ .                                  |

#### 3. Efectuează:

- |   |  |
|---|--|
| a) $7 + 3 \cdot [23 + 5 \cdot (8 + 66 : 6)]$ ;          | b) $91 + 56 : 2 + 33 \cdot (156 - 12 \cdot 13)$ ;                |
| c) $[200 - 200 : (75 - 25)] : 4$ ;                      | d) $1\ 000 \cdot [105 : 5 + 32 : (22 - 6 \cdot 3)]$ ;            |
| e) $(1 + 2 + 3)^4 + 5 \cdot 6 \cdot (7 + 8 + 9)$ ;      | f) $0^1 + 1^0 + 2^3 - 3^2 + 4^5 + 5^4 - 349$ ;                   |
| g) $(2^2 \cdot 3^2 - 5^2) : 11 + 3^2 \cdot 7^2 - 4^2$ ; | h) $(5^0 + 5^1 + 5^2 + 5^3 + 5^4) : (71 \cdot 5 + 6 \cdot 71)$ . |

**4.** Doi comercianți duceau la târg fiecare câte 6 găini, 5 cocoși, 8 rațe și 4 miei. Câte picioare au în total? Scrie rezolvarea într-un singur exercițiu.

**5.** Daniel a cumpărat 8 creioane a 2 lei bucata, 9 caiete a 8 lei bucata și 2 cărți a 49 lei bucata. Câți lei au costat cumpărăturile? Scrie rezolvarea într-un singur exercițiu.

**6.** La un concurs sportiv au participat 3 școli. Din prima școală au participat 322 de elevi, din a doua școală de două ori mai mulți decât în prima și din a treia școală au participat cu 123 de elevi mai puțini decât au participat din a doua școală. Câți elevi au participat, în total, la acest concurs? Scrie rezolvarea într-un singur exercițiu.

**7.** Un călător parcurge un traseu în 5 zile. În prima zi parcurge 108 km, în a doua zi parcurge cu 36 km mai mult, iar în următoarele trei zile parcurge la un loc cât triplul distanței parcurse în primele două zile. Câți kilometri a parcurs în total? Scrie rezolvarea într-un singur exercițiu.



### Poți fi mai bun!

#### 8. Efectuează:

- a)  $(2^{2017} + 2^{2016} + 2^{2015}) : (2^{2010} + 2^{2009} + 2^{2008})$ ;    b)  $2017^{2017} - 2016 \cdot 2017^{2016} - 2016^0 \cdot 2017^{2016}$ .

#### 9. Calculează:

- |                                      |   |
|--------------------------------------|---|
| a) $(4 + 8 + 12) : (2 + 4 + 6)$ ;    | b) $(4 + 8 + 12 + 16 + \dots + 100) : (2 + 4 + 6 + \dots + 50)$ ; |
| c) $(6 + 12 + 18)^3 : (3 + 6 + 9)$ ; | d) $(6 + 12 + 18 + \dots + 300)^3 : (3 + 6 + 9 + \dots + 150)$ .  |

#### 10. Calculează, știind că $n$ este număr natural:

- a)  $(2^{n+2} + 2^{n+1} + 2^n) : 2^n - 5$ ;    b)  $(3^{2n+2} + 3^{2n+1} - 3^{2n}) : 9^n - 10$ ;    c)  $(5^{2n+1} + 4 \cdot 5^{2n}) : 5^{2n}$ .



### Fii campion!

#### 11. Calculează:

- a)  $(2^3 \cdot 12 + 2^3 \cdot 13 + \dots + 2^3 \cdot 100) : 2492$ ;    b)  $\{10^3 + 10^2 \cdot [10 + (5^2 - 5) : 5]\} : 20^2$ .

**12.** Scrie numărul  $2017^{2018}$  ca sumă de 2017 numere naturale consecutive.

## 7. Metode aritmetice de rezolvare a problemelor

### Metoda reducerii la unitate

Se numește **metoda reducerii la unitate** deoarece, întotdeauna, se află cât valorează unitatea.

**Exemplu:** Mama cumpără de la piață 5 kg de mere pentru a face dulceață. Ea plătește 15 lei. Cât costă 7 kg de mere la același preț?

**Rezolvare:** Judecăm în felul următor:

• dacă 5 kg de mere costă 15 lei, atunci 1 kg de mere costă de 5 ori mai puțin, adică 3 lei;

• dacă 1 kg de mere costă 3 lei, atunci 7 kg de mere costă de 7 ori mai mult, adică 21 lei.

Scriem rezolvarea astfel:

5 kg.....15 lei  
7 kg.....? lei

Dacă 5 kg.....15 lei  
atunci 1 kg.....15 lei : 5 = 3 lei pe kg  
Dacă 1 kg.....3 lei  
atunci 7 kg.....7 · 3 lei = 21 lei (costă 7 kg mere)



5+

Aplică ce ai învățat!

1. 2 pixuri costă 10 lei. Cât costă 356 pixuri de același fel?
2. 6 ciocolate costă 36 de lei. Cât costă 22 ciocolate de același fel?
3. Un biciclist parcurge 4 km în 20 minute. În câte minute parcurge biciclistul 5 km?

### Metoda comparației

**Metoda comparației** constă în scrierea datelor problemei în mod corespunzător, unele sub altele, încercând să se egaleze datele privitoare la o mărime în cele două situații, prin multiplicarea datelor uneia sau ambelor situații, după caz.

**Exemplu:** Mama Ioanei a cumpărat 2 m de dantelă și 5 m de stofă, pentru care a plătit 180 de lei. În același timp, Ioana mai cumpără 3 m de dantelă și 7 m de stofă plătit 260 de lei. Cât costă un metru de dantelă? Dar un metru de stofă?

**Rezolvare:** Așezăm datele astfel:

2 m de dantelă..... 5 m de stofă ..... 180 lei

3 m de dantelă..... 7 m de stofă ..... 260 lei

Se multiplică primul rând cu 3 și al doilea rând cu 2, pentru a egala cantitatea de dantelă în ambele situații.

6 m de dantelă..... 15 m de stofă ..... 540 lei

6 m de dantelă..... 14 m de stofă ..... 520 lei

Atunci 1 m de stofă costă 20 de lei. Rezultă că 5 m de stofă costă  $5 \cdot 20$  lei = 100 lei.

2 m de dantelă..... 180 lei – 100 lei = 80 lei

1 m de dantelă..... 80 lei : 2 = 40 lei

În concluzie, un metru de dantelă costă 40 lei, iar un metru de stofă 20 de lei.

**Verificare:**  $2 \cdot 40$  lei +  $5 \cdot 20$  lei = 180 lei;  $3 \cdot 40$  lei +  $7 \cdot 20$  lei = 260 lei.



- 3 stilouri și 2 pixuri costă 108 lei, iar 3 stilouri și un pix costă 102 lei. Câți lei costă un pix? Dar un stilou?
- Știind că 4 caiete de matematică și 3 caiete de biologie costă 69 de lei, iar 5 caiete de matematică și 2 caiete de biologie costă 67 de lei, află cât costă un caiet de matematică și cât costă un caiet de biologie.

## Metoda figurativă

**Metoda figurativă** se bazează pe utilizarea desenelor sau elementelor grafice pentru rezolvarea problemelor.

### Exemple:

1) Diferența de vârstă dintre Maria și mama ei este de 24 ani, iar suma vârstelor lor este de 30 de ani. Află vârstele celor două.

**Rezolvare:** Dacă diferența vârstelor celor două este de 24 ani, atunci mama este cu 24 ani mai mare decât Maria, așadar reprezentăm vârsta Mariei printr-un segment (o parte).

vârsta Mariei  $\overline{\quad 1p \quad}$   
 Vârsta mamei o reprezentăm printr-un segment plus 24.

vârsta mamei  $\overline{\quad 1p \quad \quad \quad 24 \quad}$   
 Obținem: vârsta Mariei  $\overline{\quad 1p \quad}$  } 30  
 vârsta mamei  $\overline{\quad 1p \quad \quad \quad 24 \quad}$



$1p + 1p = 2p$ ;  $30 - 24 = 6$  (reprezintă două părți egale);  $6 : 2 = 3$  (o parte, adică vârsta Mariei);  $3 + 24 = 27$  (vârsta mamei).

**Verificare:**  $27 - 3 = 24$  (diferența vârstelor);  $27 + 3 = 30$  (suma vârstelor).

Așadar, Maria are 3 ani și mama are 27 de ani.

2) Alin și Dragoș au împreună 630 de lei. Dacă Alin are de 4 ori mai puțini lei decât Dragoș, află câți lei are fiecare.

**Rezolvare:** Dacă Alin are de 4 ori mai puțini lei decât Dragoș, atunci Dragoș are de 4 ori mai mulți lei decât Alin, adică reprezentăm suma lui Alin printr-un segment (o parte).

suma lui Alin  $\overline{\quad 1p \quad}$   
 Suma lui Dragoș o reprezentăm prin 4 segmente egale (4 părți).  
 suma lui Dragoș  $\overline{\quad 1p \quad \quad 1p \quad \quad 1p \quad \quad 1p \quad}$   
 Obținem: suma lui Alin  $\overline{\quad 1p \quad}$  } 630  
 suma lui Dragoș  $\overline{\quad 1p \quad \quad 1p \quad \quad 1p \quad \quad 1p \quad}$

$1p + 4p = 5p$ ;  $630 : 5 = 126$  (lei are Alin);  $126 \cdot 4 = 504$  (lei are Dragoș).

**Verificare:**  $504 + 126 = 630$  (lei împreună);  $504 : 4 = 126$  (lei are Alin).

Așadar, Alin are 126 lei, iar Dragoș are 504 lei.

- Suma a patru numere naturale consecutive este 86. Află numerele.
- Elena și sora sa au împreună 100 de lei. Dacă Elena are de 3 ori mai mulți lei decât sora sa, află câți lei are Elena.

**3.** Mama, tata și fiica au împreună 60 de ani. Mama este de 4 ori mai mare decât fiica, iar tatăl are tot atâția ani cât au mama și fiica împreună. Câți ani are fiecare?

### Metoda mersului invers

**Metoda mersului invers** constă în rezolvarea unei probleme urmărind firul logic al problemei de la sfârșitul spre începutul ei.

**Exemplu:** Maria are o sumă de bani, din care în prima zi a cheltuit jumătate. A doua zi a cheltuit a treia parte din restul sumei și i-a mai rămas 30 de lei. Ce sumă de bani a avut inițial Maria?



#### Rezolvare:

- Reprezentăm suma de bani pe care o avea printr-un segment.

- Colorăm suma cheltuită în prima zi, adică o jumătate din suma avută.

- Reprezentăm restul de bani, adică tot jumătate din suma avută, și colorăm suma cheltuită a doua zi, adică a treia parte din rest;

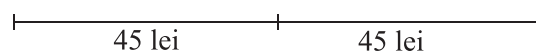
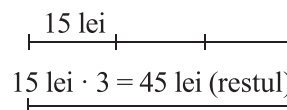
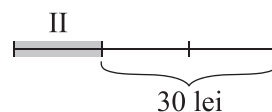
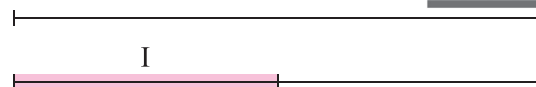
- Evidențiem restul de 30 de lei.

Observăm că 30 lei reprezintă 2 părți din cele trei părți ale restului.

$30 \text{ lei} : 2 = 15 \text{ lei}$  (a treia parte din rest, adică ce a cheltuit a doua zi)

Restul reprezintă jumătate din sumă.

Așadar  $45 \cdot 2 = 90 \text{ lei}$  (suma pe care o avea Maria).



**Verificare:** Maria are suma de 90 lei.

$90 : 2 = 45$  (lei, cheltuie prima zi);  $90 - 45 = 45$  (lei, restul)

$45 : 3 = 15$  (lei, cheltuie a doua zi);  $90 - (45 + 15) = 30$  (lei îi rămân).

### 5+ Aplică ce ai învățat!

**1.** Dublul unui număr mărit cu 5 se înmulțește cu 4, iar din rezultatul obținut scădem 4 și obținem numărul 32. Află numărul.

**2.** Adrian se gândește la un număr. Îl mărește de 5 ori, rezultatul obținut îl mărește cu 42, noul rezultat îl micșorează de 7 ori, noul rezultat îl micșorează cu 11 și obține 200. La ce număr s-a gândit Adrian?

### Metoda falsei ipoteze

**Metoda falsei ipoteze** se aplică în probleme astfel: se presupune că „toate sunt de același fel”.

**Exemplu:** La un spectacol de teatru prețul unui bilet de adult este de 75 de lei, iar prețul unui bilet pentru elev este de 50 lei. Câți adulți și câți elevi au fost la spectacol dacă se știe că s-au încasat 6 000 lei pentru cele 90 de bilete vândute?



#### Rezolvare:

Presupunem că la spectacol ar fi participat numai adulți, atunci suma încasată ar fi:

$$90 \cdot 75 \text{ lei} = 6\,750 \text{ lei}$$

$$6\,750 \text{ lei} - 6\,000 \text{ lei} = 750 \text{ lei (s-ar încasa în plus)}$$

Presupunem că la spectacol ar fi participat numai elevi, atunci suma încasată ar fi:

$$90 \cdot 50 \text{ lei} = 4\,500 \text{ lei}$$

$$6\,000 \text{ lei} - 4\,500 \text{ lei} = 1\,500 \text{ lei (ar mai trebui)}$$

75 lei – 50 lei = 25 lei (diferența de preț pe bilet)  
 Astfel,  $750 : 25 = 30$  (elevi au participat la spectacol)  
 $90 - 30 = 60$  (adulți au participat la spectacol)

75 lei – 50 lei = 25 lei (diferența de preț pe bilet)  
 Astfel,  $1\ 500 : 25 = 60$  (adulți au participat la spectacol)  
 $90 - 60 = 30$  (elevi au participat la spectacol)

Verificare:  $30 \cdot 50 \text{ lei} + 60 \cdot 75 \text{ lei} = 6\ 000 \text{ lei}$ .

5+

Aplică ce ai învățat!

- Într-un bloc sunt 32 apartamente cu 3 și 4 camere, având în total 106 camere. Câte apartamente cu 3 camere sunt? Dar cu 4 camere?
- Bunica Mariei are în curte găini și iepuri, în total 43 capete și 124 picioare. Câte găini are bunica Mariei în curte? Dar iepuri?
- Câte timbre de 3 lei bucata și câte timbre de 5 lei bucata s-au cumpărat cu 50 lei, dacă s-au cumpărat, în total, 14 timbre?

## Exerciții și probleme

### Metoda reducerii la unitate

Exersează!

- Șapte bilete de autobuz costă 147 lei. Câți lei costă 11 bilete de autobuz?
- Pentru a transporta 6 591 kg de făină, un camion efectuează 13 drumuri. Câte kilograme de făină transportă camionul în 3 drumuri?
- Din 16 m de mătase naturală se confecționează 8 bluze. Câți metri de mătase naturală sunt necesari pentru confecționarea a 10 bluze de același fel?
- Din 12 portocale se obțin 720 ml de suc natural. Câte portocale sunt necesare pentru a obține 1 080 ml de suc natural?
- Studiază cu atenție tabelul și completează:

<b>Cantitatea de mere în kg</b>	5	8	6	9	2	10	1	12
<b>Prețul în lei</b>			12					

Poți fi mai bun!

- Opt muncitori termină o lucrare în 12 zile. În câte zile termină aceeași lucrare 4 muncitori? Dar 16 muncitori?
- La o casă de bilete se vând 30 bilete de călătorie în 25 de minute. Câte bilete se vor vinde la patru case de bilete în 50 minute, dacă durata de vânzare a unui bilet ar fi aceeași?

Fii campion!

- Alege răspunsul corect! Trei frați, Bogdan, Andrei și Victor, primesc în dar 72 000 lei de la tatăl lor. Bani sunt împărțiți între frați în funcție de numărul de copii pe care îi are fiecare. Bogdan are 3 copii, Andrei are 2 copii, iar Victor are 4 copii. Victor primește suma de:  
 A) 30 000 lei      B) 25 000 lei      C) 32 000 lei      D) 24 000 lei

## Metoda comparației



### Exersează!

- 3 creioane și 5 caiete costă 117 lei, iar 3 creioane și 7 caiete costă 159 de lei. Află prețul unui caiet și prețul unui creion.
- 8 kg morcovi și 5 kg spanac costă 73 de lei, iar 10 kg morcovi și 5 kg spanac costă 85 de lei. Află prețul unui kilogram de morcovi și prețul unui kilogram de spanac.
- Un băiat și 3 fete confecționează 15 măștișoare. Un băiat și 5 fete confecționează 23 măștișoare. Câte măștișoare confecționează o fată? Dar un băiat?
- Pentru confecționarea a 2 rochii și 3 bluze sunt necesari 12 m de material, iar pentru confecționarea a 3 rochii și 2 bluze sunt necesari 13 m de material. Câți metri de material sunt necesari pentru confecționarea unei rochii și a unei bluze la un loc?



### Poți fi mai bun!

- 7 caiete și 3 stilouri costă 370 de lei, iar 2 caiete și 6 stilouri costă 620 lei. Cât costă un caiet? Dar un stilou?
- Sora mea a cumpărat 9 trandafiri și 7 margarete și a plătit 59 de lei. Eu am cumpărat 3 trandafiri și 5 margarete și am plătit 25 de lei. Află câți lei costă o margaretă. Dar un trandafir?
- Trei saci cu varză cântăresc cât 1 sac de cartofi. Știind că 5 saci cu varză și 5 saci cu cartofi cântăresc 160 kg, cât cântărește un sac cu varză? Dar un sac cu cartofi?



### Fii campion!

- Un penar gol cântărește cât 12 creioane. Un penar și 7 creioane cântăresc 380 g. Cât cântărește un penar gol? Dar un creion?

## Metoda figurativă



### Exersează!

- Ana și Mihai au împreună 80 de bile. Ana are cu 20 de bile mai puține decât Mihai. Câte bile are Ana?
- Într-o urnă sunt 60 de bile albe și roșii. Numărul bilelor albe este de 5 ori mai mic decât numărul bilelor roșii. Câte bile sunt albe? Dar roșii?
- În parc au înflorit cu 172 bujori mai mulți decât zambile. Știind că numărul bujorilor este de 3 ori mai mare decât numărul zambilelor, află câte flori sunt din fiecare fel.
- Suma a trei numere este 1015. Dacă din fiecare număr se scade același număr se obțin numerele 15, 132, respectiv 346. Care sunt cele trei numere?
- Suma a două numere este 46. Dacă împărțim cele două numere obținem câtul 7 și restul 6. Care sunt cele două numere?
- Diferența a două numere este 63. Dacă împărțim cele două numere obținem câtul 4 și restul 3. Află cele două numere.



### Poți fi mai bun!

- Tatăl și fiul au împreună 36 de ani. Peste câți ani vârsta tatălui va fi dublul vârstei fiului, dacă atunci când s-a născut fiul, tatăl avea 24 de ani?



### Fii campion!

- 8.** Când s-a născut fiica, mama avea 24 ani. Peste 2 ani vârsta mamei este de două ori mai mare decât vârsta fiicei. Află vârstele celor două.
- 9.** Trei persoane au împreună 2 000 de lei. Primele două persoane au împreună 1 100 lei, iar ultimele două persoane au 1 900 lei. Câți lei are fiecare persoană?


### Metoda mersului invers



### Exersează!

- 1.** La un concurs de cultură generală, Mihai a obținut cu 40 de puncte mai mult decât Adriana, Ioana a obținut cu 15 puncte mai puțin decât Mihai, Daria a obținut de două ori mai puține puncte decât Ioana, iar Ana a obținut de 3 ori mai multe puncte decât Daria, adică 150 de puncte. Câte puncte a obținut fiecare copil?

*Indicație:* Reprezentăm problema astfel:



- 2.** Darius are un număr de bile într-o cutie. Dacă la numărul bilelor din cutie mai pune 30 de bile, rezultatul obținut îl mărește de 5 ori, noul rezultat îl micșorează cu 200 de bile, iar noul rezultat îl micșorează de 20 de ori și obține 20 de bile. Câte bile are Darius în acea cutie?
- 3.** Într-un coș sunt cireșe. Dacă la numărul cireșelor din coș mai punem 3 cireșe, numărul de cireșe obținut îl mărim de 3 ori și la noul rezultat mai punem 51 de cireșe, atunci obținem 900 de cireșe. Câte cireșe au fost la început în coș?
- 4.** Ioana are o sumă de bani. Bunica îi mai dă bani până triplează suma avută, după care Ioana cheltuie 150 de lei. Tatăl ei îi mai dă bani până dublează suma rămasă, iar din aceasta Ioana cheltuie 210 lei și astfel constată că i-au mai rămas 150 de lei. Ce sumă de bani a avut Ioana la început?



### Poți fi mai bun!

- 5.** Un călător a parcurs un drum în patru zile astfel: în prima zi a parcurs o distanță de 4 ori mai mică decât lungimea drumului, a doua zi a parcurs o distanță de 3 ori mai mică decât drumul rămas, a treia zi a parcurs o jumătate din drumul rămas, iar a patra zi restul de drum de 50 km. Care este lungimea drumului parcurs în cele 4 zile?
- 6.** Un sfert din numărul elevilor clasei a V-a A merg la olimpiada de limba și literatura română, iar un sfert din noul rest merg la olimpiada de informatică. Ceilalți 18 elevi, din această clasă, merg la olimpiada de matematică. Câți elevi are clasa a V-a A?



### Fii campion!

- 7.** Determină numărul natural de patru cifre distincte care îndeplinește condițiile: prima cifră este de cinci ori mai mare decât a doua cifră; a doua cifră este cu 2 mai mică decât a treia cifră; a treia cifră este de trei ori mai mică decât a patra cifră; a patra cifră este 9.



### Exersează!

1. Într-o parcare sunt 50 de mașini și motociclete care au în total 172 de roți (fără cele de rezervă). Câte mașini sunt în parcare? Dar motociclete?
2. Un fermier a pus cele 1 600 kg de caise culese în 150 lădițe de 10 kg și 12 kg, fiecare. Câte lădițe de fiecare fel au fost folosite pentru cantitatea de caise culeasă?
3. Suma de 290 lei s-a plătit cu 34 bancnote de 10 lei și, respectiv, 5 lei. Câte bancnote de fiecare fel s-au folosit pentru plata acestei sume?
4. 75 kg de miere s-au turnat în 12 vase de 8 kg și, respectiv, 5 kg. Câte vase de fiecare fel au fost folosite pentru această cantitate de miere?
5. Dan locuiește într-un bloc cu 132 de apartamente cu 2, respectiv 3 camere, în total 334 de camere. Câte apartamente cu 2 camere sunt în acel bloc?
6. Mihai are 14 caiete, unele cu 48 de file și altele cu 100 de file. Dacă în total sunt 880 de file, află câte caiete cu 48 de file are Mihai?
7. La un magazin sunt 36 de cutii cu 258 de pahare. O cutie conține câte 6 pahare mari sau câte 8 pahare mici. Câte cutii cu câte 6 pahare sunt în acel magazin?
8. Bunicul merge la moară cu 1 730 kg de grâu în 42 de saci de câte 40 kg și 45 kg. Câți saci de 40 kg grâu a dus bunicul la moară?
9. Câte caiete de 3 lei și câte de 5 lei se pot cumpăra cu 70 de lei, astfel încât să fie 16 caiete cumpărate în total?




### Poți fi mai bun!

10. O excursie costă 310 euro. Dragoș a plătit suma cu 23 de bancnote de câte 5 euro și câte 20 euro. Câte bancnote de câte 5 euro a dat Dragoș? Dar de câte 20 de euro?
11. În laboratorul de biologie sunt 15 mese cu câte 2 sau 3 locuri. Dacă 36 de elevi ocupă toate locurile, află câți elevi stau la mesele cu câte 2 locuri.
12. La un meci de fotbal un bilet pentru tribună costă 37 de lei, iar la peluză un bilet costă 32 de lei. Dacă la un meci s-au vândut 200 de bilete în valoare totală de 7 015 lei, află câte bilete s-au vândut la peluză.



### Fii campion!

13. În curtea lui Ionel,  
Are rațe, capre și-un cățel.  
Capete sunt patruzeci,  
Iar picioare nouăzeci.  
  
N-aveți cum să numărați,  
Dar puteți să calculați.  
Veți putea afla voi oare  
Câte sunt de fiecare?



(Olimpiada de matematică, etapa județeană, Botoșani, 2000)

## B. Divizibilitatea numerelor naturale

### 1. Divizor. Multiplu. Divizori comuni. C.m.m.d.c. Multipli comuni. C.m.m.m.c.

Noțiunile „divizibilitate, divizor, multiplu”, complet noi pentru voi, se bazează pe operațiile de înmulțire și împărțire a numerelor naturale. În dicționarul de neologisme al limbii române a **diviza** înseamnă a împărți, iar **divizibil** înseamnă care se poate diviza; în matematică, **divizibilitatea** este asociată împărțirilor exacte (fără rest) a numerelor naturale.

Să rezolvăm următoarea problemă:

Într-o tabără merg 290 de copii. Aceștia vor călători cu autocarele, fiecare autocar având câte 45 de locuri. De câte autocare ar fi nevoie?

**Rezolvare:**  $290 : 45 = 6$  autocare.

Verificăm corectitudinea rezultatului:  $290 = 45 \cdot 6$ .

Observăm că, dacă numărul elevilor ar fi, de exemplu, egal cu 294, atunci nu ar mai fi suficiente 6 autocare. Cum justificăm?  $294 : 45 = 6$  rest 4. Înseamnă că 4 elevi nu vor avea loc în autocare.

Pentru a calcula numărul de autocare am împărțit grupul de elevi în subgrupe cu număr egal de câte 45 de elevi (câte locuri are fiecare autocar). Numărul 290 se împarte exact la numărul 45, adică restul acestei împărțiri este egal cu 0. Se spune că numărul 290 se divide cu numărul 45 sau că numărul 290 este divizibil cu 45.



la aminte și ține minte!

- Un număr natural  $a$  este **divizibil** cu un număr natural nenul  $b$ , dacă există un alt număr natural  $c$  cu proprietatea că  $a = b \cdot c$ .

**! Atenție!** • Dacă  $a = b \cdot c$  înseamnă că restul împărțirii numărului  $a$  la numărul  $b$  este 0, adică  $a$  se împarte exact la  $b$ .

**Exemple:** a) 6 este divizibil cu 2, pentru că există numărul 3, astfel încât  $6 = 2 \cdot 3$ . Observăm că 6 este divizibil și cu 3, pentru că există numărul 2, astfel încât  $6 = 3 \cdot 2$ .

b) 45 este divizibil cu 5, deoarece  $45 = 5 \cdot 9$ . Iar 290 este divizibil cu 45, deoarece  $290 = 45 \cdot 6$ .

- Faptul că  $a$  este divizibil cu  $b$  se mai poate exprima astfel:  $a$  **se divide cu**  $b$  sau  $b$  **divide pe**  $a$ .

Scriem	Citim
$a : b$	$a$ este divizibil cu $b$ sau $a$ se divide cu $b$
$b   a$	$b$ divide pe $a$
$a \not\div b$	$a$ nu este divizibil cu $b$ sau $a$ nu se divide cu $b$
$b \nmid a$	$b$ nu divide pe $a$



Scriem	Citim
$6 : 3$	6 este divizibil cu 3 sau 6 se divide cu 3
$3   6$	3 divide pe 6
$6 \not\div 4$	6 nu este divizibil cu 4 sau 6 nu se divide cu 4
$4 \nmid 6$	4 nu divide pe 6

**Exemple:** a)  $288 : 18$ , deoarece  $288 : 18 = 16$ , adică  $288 = 18 \cdot 16$ ;

b)  $23 | 2\ 760$ , deoarece  $2\ 760 = 23 \cdot 120$ ;      c)  $9 \not\div 38$ , deoarece  $38 : 9 = 4$  rest 2.

**! Atenție!** • Se observă că din  $a \cdot 1 = a$  și  $a \cdot 0 = 0$  rezultă că  $1 | a$  și  $a | 0$ , oricare ar fi numărul natural  $a$ .

• Să rezolvăm următoarea problemă:



a) Pot fi așezați 12 elevi pe 3 coloane a câte 4 elevi pe fiecare coloană?

DA! Deoarece  $12 : 3$  sau  $3 \mid 12$ .

$12 = 3 \cdot 4$  (împărțire exactă, adică restul este 0).

b) Pot fi așezați 14 elevi pe 3 coloane, astfel încât fiecare coloană să aibă același număr de elevi?

NU! Deoarece  $14 = 3 \cdot 4 + 2$ . Restul împărțirii lui 14 la 3 este 2. Dacă pe fiecare coloană sunt 4 elevi, rămân 2 elevi în plus!

5+

Aplică ce ai învățat!

- Stabilește dacă următoarele propoziții sunt adevărate sau false:  
a) 7 este divizor al lui 35;    b)  $1 \mid 0$ ;    c)  $71 : 8$ ;    d)  $2^2 \mid 4^2$ ;    e)  $2\ 326 : 26$ .
- Completează cu unul dintre semnele „, : “ sau „, | “ pentru a obține propoziții adevărate:  
a)  $88 \underline{\hspace{1cm}} 11$ ;    b)  $12 \underline{\hspace{1cm}} 72$ ;    c)  $196 \underline{\hspace{1cm}} 14$ ;    d)  $0 \underline{\hspace{1cm}} 81$ ;    e)  $200 \underline{\hspace{1cm}} 0$ ;  
f)  $10^3 \underline{\hspace{1cm}} 10^2$ ;    g)  $6 \underline{\hspace{1cm}} 6 \cdot 4$ ;    h)  $5 \cdot 14 \underline{\hspace{1cm}} 7$ ;    i)  $200 \underline{\hspace{1cm}} 260^2$ .
- 120 de bomboane identice trebuie să fie așezate în cutii de câte 20 de bomboane. Câte bomboane vor fi în fiecare cutie? Justifică răspunsul.

## Divizor. Multiplu



la aminte și ține minte!

- Dacă numărul natural  $a$  este divizibil cu numărul natural nenul  $b$ , adică  $a : b$  sau  $b \mid a$ , atunci numărul  $b$  este **divizor** al numărului  $a$ .

**Exemple:** a)  $6 = 2 \cdot 3 = 3 \cdot 2$ . Observăm că 6 se împarte exact și la 2 și la 3, adică 2 și 3 sunt divizori ai lui 6. De asemenea, 6 se împarte exact și la 1 și la el însuși:  $6 = 1 \cdot 6 = 6 \cdot 1$ . Astfel, și 6 și 1 sunt divizori ai lui 6. În concluzie: divizorii numărului 6 sunt: 1, 2, 3, 6. Scriem  $6 : 1$ ;  $6 : 2$ ;  $6 : 3$ ;  $6 : 6$ .

b) Pentru a afla divizorii numărului 60, ne gândim la toate numerele naturale la care 60 se împarte exact:  $60 = 1 \cdot 60 = 2 \cdot 30 = 3 \cdot 20 = 4 \cdot 15 = 5 \cdot 12 = 6 \cdot 10$ . Rezultă că divizorii lui 60 sunt: 1, 2, 3, 4, 5, 6, 10, 12, 15, 20, 30, 60 și putem spune că 60 este divizibil cu fiecare dintre divizorii săi.

5+

Aplică ce ai învățat!

- Află divizorii numerelor: a) 10;    b) 15;    c) 18;    d) 20;    e) 30;    f) 32;    g) 40.
- La câți copii se pot împărți 24 de mere, astfel încât fiecare copil să primească același număr de mere? Află toate cazurile posibile, știind că numărul copiilor este cel puțin egal cu 2.





### la aminte și ține minte!

- Numărul 1 este divizor pentru orice număr natural  $a$ . Scriem  $1 | a$  sau  $a : 1$ .
- Orice număr natural nenul  $a$  este divizor pentru el însuși. Scriem  $a | a$  sau  $a : a$ .

**Exemplu:** Dacă  $a = 8$ , numerele 1 și 8 sunt divizori ai lui 8. Scriem  $1 | 8$  sau  $8 : 1$  și  $8 | 8$  sau  $8 : 8$ .

- Divizorii unui număr natural nenul  $a$  se pot clasifica astfel:
  - 1 și numărul însuși, adică  $a$ , se numesc **divizori improprii** ai numărului  $a$ ;
  - ceilalți divizori ai numărului  $a$  (diferiți de 1 și de  $a$ ) se numesc **divizori proprii** ai numărului  $a$ .

**Exemple:** a) Divizorii improprii ai numărului 6 sunt 1 și 6, iar divizorii proprii sunt 2 și 3.

b) Divizorii improprii ai numărului 12 sunt 1 și 12, iar divizorii proprii sunt 2, 3, 4 și 6.

- Orice număr natural nenul  $a$  este divizibil cu fiecare dintre divizorii săi.
- Orice produs de doi sau mai mulți factori nenuli este un număr divizibil cu fiecare dintre factorii săi. Altfel spus, orice factor nenul al unui produs divide acel produs.

**Exemplu:** Numărul  $60 = 2 \cdot 3 \cdot 10$ . Rezultă că  $60 : 2$ ,  $60 : 3$  și  $60 : 10$  sau  $2 | 60$ ;  $3 | 60$ ;  $10 | 60$ .

**5+**

### Aplică ce ai învățat!

1. Află divizorii improprii și divizorii proprii (dacă este cazul) ai numerelor: a) 8; b) 15; c) 13; d) 24.
2. Află divizorii improprii și divizorii proprii ai numerelor:  $a = 2 \cdot 5 \cdot 7$ ;  $b = 22 \cdot 5$ ;  $c = 23 \cdot 3$ .



### la aminte și ține minte!

- **Multiplul** este numărul natural care este divizibil cu un număr natural nenul dat.
- Dacă numărul natural  $a$  este divizibil cu numărul natural nenul  $b$ , adică  $a : b$  sau  $b | a$ , atunci numărul  $a$  este **multiplu** al numărului  $b$ .

**Exemple:** a) Numărul 6 este divizibil cu 3. Rezultă că 6 este multiplu al lui 3.

b) Să aflăm multiplii numărului 4, mai mici sau egali cu 12. Știm că:  $4 \cdot 0 = 4$ ;  $4 \cdot 1 = 4$ ;  $4 \cdot 2 = 8$ ;  $4 \cdot 3 = 12$ . Astfel multiplii numărului 4, mai mici sau egali cu 12, sunt: 0; 4; 8; 12.

**5+**

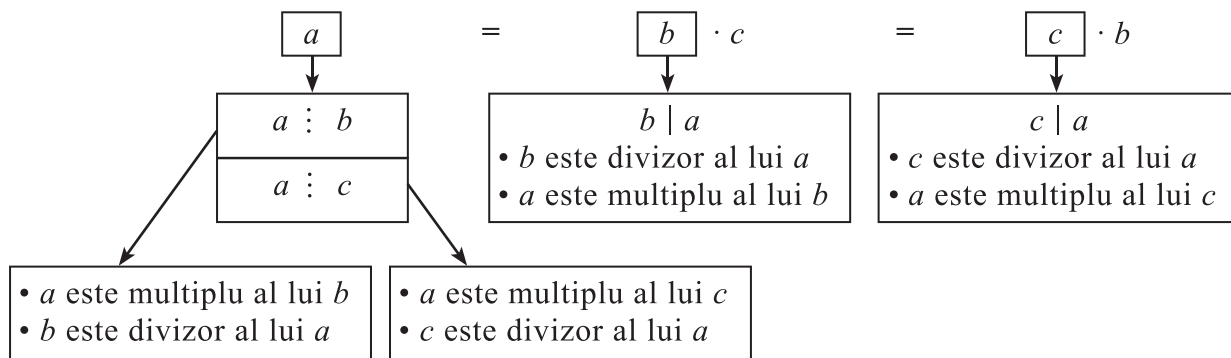
### Aplică ce ai învățat!

1. Află multiplii mai mici decât 40 ai numerelor: a) 5; b) 7; c) 9; d) 15; e) 24; f) 10; g) 6.
2. Află toți multiplii numărului  $a = 2 \cdot 3 \cdot 6$ , cuprinși între numerele 50 și 200.

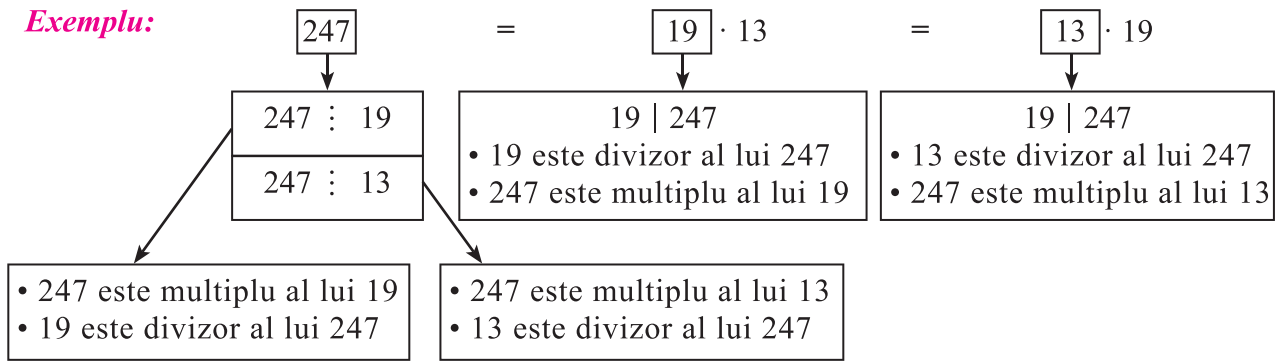


### la aminte și ține minte!

- $a$ ,  $b$  și  $c$  sunt numere naturale, iar  $b$  este nenul, astfel încât:



**Exemplu:**



- Numărul natural 0 este **multiplu** pentru orice număr natural nenul. Înseamnă că  $0 : a$ , unde  $a$  este un număr natural nenul.
- Orice număr natural nenul este multiplu pentru el însuși. Înseamnă că  $a : a$ , adică  $a$  este multiplu pentru  $a$ .


**Exemplu:** Dacă  $a = 8$ , atunci  $0 : 8$  și 0 este multiplu al lui 8. De asemenea,  $8 : 8$  și 8 este multiplu al lui 8.

## Divizori comuni

În două coșuri sunt fructe. În primul coș sunt 9 pere, iar în cel de al doilea coș sunt 6 mere. La câți copii putem împărți numărul merelor și numărul perelor din cele două coșuri, astfel încât fiecare copil să primească același număr de mere cuprins între 1 și 6 și același număr de pere cuprins între 1 și 9?

**Rezolvare:** Împărțirea, atât a numărului de pere, cât și a numărului de mere, se face în mod egal pentru fiecare copil. Numărul copiilor trebuie să fie atât un divizor al numărului 6, cât și un divizor al numărului 9. Divizorii lui 6 sunt: 1, 2, 3, 6, iar divizorii lui 9 sunt 1, 3, 9.


6 mere se pot împărți, în mod egal:  
la 3 copii



fiecare copil  
primește câte 2 mere


la 2 copii

sau



fiecare copil  
primește câte 3 mere

9 pere se pot împărți,  
în mod egal, la 3 copii:



fiecare copil  
primește câte 3 pere

Observăm că numărul copiilor este egal cu 3. Fiecare copil primește câte 2 mere și câte 3 pere. Numărul 3 este divizor atât pentru 6, cât și pentru 9, ceea ce înseamnă că, atât numărul de mere (6) cât și numărul de pere (9) se va împărți exact la numărul de copii ce este egal cu 3.



**la aminte și ține minte!**

- Un număr natural nenul care divide mai multe numere naturale date se numește **divizor comun** al acestor numere.
- Numărul 1 este divizor comun pentru toate numerele naturale.
- Două sau mai multe numere naturale pot avea un singur divizor comun sau pot avea mai mulți divizori comuni.

**Exemplu:** Să aflăm divizorii comuni ai numerelor 8, 12 și 16. Știm că 1 este divizor comun pentru toate cele trei numere. Pentru a afla ceilalți divizori comuni, scriem pe rând divizorii lui 8: 1, 2, 4, 8; divizorii lui 12: 1, 2, 3, 4, 6, 12 și divizorii lui 16: 1, 2, 4, 8, 16.

Observăm că divizorii comuni ai celor trei numere sunt: 1, 2 și 4.

5+

Aplică ce ai învățat!

Află divizorii comuni ai numerelor: a) 6, 12 și 18; b) 10 și 20; c) 14, 28 și 42.

## Cel mai mare divizor comun a două numere naturale



la aminte și ține minte!

- Cel mai mare divizor comun a două numere naturale, dintre care cel puțin unul este nenul, este cel mai mare dintre toți divizorii comuni ai acestor numere. Cel mai mare divizor comun al numerelor naturale  $a$  și  $b$  (cel puțin unul nenul) se notează cu **c.m.m.d.c. al numerelor  $a$  și  $b$**  sau  **$(a, b)$** .
- Pentru a afla cel mai mare divizor comun a două numere naturale, dintre care cel puțin unul nenul, scriem divizorii fiecărui număr. Apoi observăm divizorii comuni și alegem cel mai mare număr dintre aceștia.

**Exemple:** a) Divizorii comuni ai numerelor 12 și 16 sunt: 1, 2 și 4. Cel mai mare divizor comun al numerelor 12 și 16 este egal cu 4.

b) Aflăm divizorii comuni ai numerelor  $a$  și  $b$ , unde  $a = 2^3 \cdot 3$ ,  $b = 2^2 \cdot 3^2$ .

$a = 2^3 \cdot 3 \Rightarrow a = 8 \cdot 3 = 4 \cdot 6 = 2 \cdot 12 = 1 \cdot 24$ . Divizorii lui  $a$  sunt: 1, 2, 3, 4, 6, 8, 12, 24.

$b = 2^2 \cdot 3^2 \Rightarrow b = 4 \cdot 9 = 2 \cdot 18 = 12 \cdot 3 = 6 \cdot 6 = 1 \cdot 36$ . Divizorii lui  $b$  sunt: 1, 2, 3, 4, 6, 9, 12, 18, 36.

Am evidențiat divizorii comuni ai numerelor  $a$  și  $b$  și observăm că aceștia sunt: 1, 2, 3, 4, 6, 12.

Cel mai mare divizor comun al numerelor  $a = 24$  și  $b = 36$  este numărul 12. Scriem c.m.m.d.c. al numerelor 24 și 36 este 12 sau  $(24, 36) = 12$ .

5+

Aplică ce ai învățat!

Află cel mai mare divizor comun al numerelor:

a) 16 și 24; b)  $a = 32 \cdot 7$  și  $b = 2 \cdot 3 \cdot 7$ ; c)  $a = 2^4 \cdot 3$  și  $b = 2^3 \cdot 3^2$ .

## Multipli comuni

Ana face buchețele de ghiocei. Ea are mai puțin de 40 de fire de ghiocei și poate să facă buchețele sau de câte 5 sau de câte 7 ghiocei, fiecare. Câte fire de ghiocei are Ana?

**Rezolvare:** Observăm că numărul firelor de ghiocei se împarte exact atât la 5, cât și la 7, ceea ce înseamnă că numărul pe care trebuie să îl aflăm este divizibil și cu 5 și cu 7. Altfel spus, numărul este multiplu și al lui 5 și al lui 7. Știm că acest număr este mai mic decât 40.

Scriem multiplii nenuli ai lui 5 mai mici decât 40: 5, 10, 15, 20, 25, 30, 35.

Scriem multiplii nenuli ai lui 7 mai mici decât 40: 7, 14, 21, 28, 35.

Numărul care este multiplu și al lui 5 și al lui 7 este egal cu 35. Ana are 35 de fire de ghiocei.



7 buchete a câte 5 ghiocei



5 buchete a câte 7 ghiocei



la aminte și ține minte!

- **Multiplu comun** a două sau mai multe numere naturale este un număr natural care este multiplu al fiecăruia dintre ele.

**Exemplu:** Se dau numerele 3, 4 și 6. Numărul 24 este un multiplu comun al acestor trei numere, pentru că 24 este multiplu și al lui 3 ( $24 = 3 \cdot 8$ ) și al lui 4 ( $24 = 4 \cdot 6$ ) și al lui 6 ( $24 = 6 \cdot 4$ ).

**! Atenție!** • Multiplu comun al mai multor numere este un număr care este divizibil cu fiecare dintre numerele date și cu fiecare dintre divizorii acestor numere.

**Exemplu:** 20 este multiplul comun al numerelor 4 și 5 și este divizibil, atât cu fiecare dintre numerele 4 și 5, cât și cu numărul 2, care este divizor al lui 4.



Aplică ce ai învățat!

Află toți multiplii comuni: a) ai lui 2 și ai lui 5 mai mici decât 31; b) ai lui 3, 5 și 6 mai mici sau egali cu 90.

## Cel mai mic multiplu comun a două numere naturale



la aminte și ține minte!

- **Cel mai mic multiplu comun** a două numere naturale nenule este cel mai mic dintre toți multiplii comuni nenuli ai numerelor date. Cel mai mic multiplu comun al numerelor naturale nenule  $a$  și  $b$  se notează cu **c.m.m.m.c. al numerelor  $a$  și  $b$**  sau  $[a, b]$ .

**Exemple:** a) Considerăm numerele 12 și 18. În ordine crescătoare:

– multiplii nenuli lui 12 sunt: 12, 24, 36, 48, 60, 72, ....

– multiplii nenuli lui 18 sunt: 18, 36, 54, 72, 90, ....

Observăm că numărul 36 este primul număr care este multiplu comun pentru fiecare dintre numerele 12 și 18. Privind în continuare multiplii comuni ai celor trei numere se observă că 72 este tot un multiplu comun. Și dacă vom continua scrierea multiplilor pentru numerele 12 și 18 vom găsi și alți multiplii din ce în ce mai mari: 108, 144 și așa mai departe. Cel mai mic multiplu comun al numerelor 12 și 18 este egal cu 36. Scriem c.m.m.m.c. al numerelor 12 și 18  $= 36$  sau  $[12, 18] = 36$ .

b) Află cel mai mic multiplu comun al numerelor  $a$  și  $b$ , unde  $a = 6$  și  $b = 15$ .

Numărul  $6 = 2 \cdot 3$ ; multiplii lui 6 sunt divizibili și cu 2 și cu 3. Numărul  $15 = 3 \cdot 5$ ; multiplii lui 15 sunt divizibili și cu 3 și cu 5. Multiplii comuni ai lui 6 și ai lui 15 sunt numere divizibile cu 2, cu 3 și cu 5 în același timp. Cel mai mic număr de acest fel este egal cu  $2 \cdot 3 \cdot 5$ . Cel mai mic multiplu comun al numerelor  $a = 6$  și  $b = 15$  este egal cu 30. Scriem c.m.m.m.c. al numerelor 6 și 15  $= 30$  sau  $[6, 15] = 30$ .



Aplică ce ai învățat!

Află cel mai mic multiplu comun al numerelor: a) 4 și 5; b) 7 și 21; c) 10 și 21; d) 10 și 15; e) 32 și 24.

## Exerciții și probleme

### Divizor. Multiplu



Exersează!

1. Completează, pe caiet, spațiile punctate cu răspunsul corect, folosind cuvintele „divizor“, „multiplu“:
 

a) 6 este ..... al lui 30;	b) 21 este ..... al lui 7;
c) 120 este ..... al lui 20;	d) 120 este ..... al lui 360;
e) 13 este ..... pentru 39;	f) 0 este ..... pentru 2018.

- 2.** Scrie unul dintre semnele „, : “ sau „, | “ pentru a obține propoziții adevărate:  
 a)  $77 \dots 7$ ;      b)  $18 \dots 36$ ;      c)  $169 \dots 13$ ;      d)  $0 \dots 81$ ;  
 e)  $100 \dots 0$ ;      f)  $10^2 \dots 10^4$ ;      g)  $1300^2 \dots 100$ ;      h)  $1000 \dots 1400^2$ .
- 3.** Scrie toți divizorii numărului: a) 12;      b) 13;      c) 20;      d) 25;      e) 36;      f) 27.
- 4.** Scrie primii 5 multiplii ai numărului: a) 2;      b) 5;      c) 6;      d) 12;      e) 15.
- 5.** Află divizorii numărului și precizează care sunt divizorii proprii, respectiv improprii:  
 a) 4;      b) 10;      c) 11;      d) 21;      e) 35.
- 6.** Află:      a) divizorii lui 40 care sunt și multiplii ai lui 5;  
               b) divizorii lui 42 care sunt și multiplii ai lui 7.
- 7.** Află numerele naturale ce sunt multiplu de 4 și au triplul mai mic decât 50.
- 8.** Care dintre propozițiile următoare sunt adevărate? De ce?  
 a)  $104\ 890 : 75$ ;      b)  $3 \mid 8\ 325$ ;  
 c)  $(125 : 25 + 7) \mid 29$ ;      d)  $[(3\ 175 - 275) \cdot 10] : (9 \cdot 11 + 1)$ .



### Poți fi mai bun!

- 9.** Scrie divizorii lui 120 care sunt cel puțin egali cu 10 și cel mult egali cu 20. Compune un exercițiu asemănător.
- 10.** Scrie multiplii lui 14 care sunt cel puțin egali cu 28 și cel mult egali cu 90. Compune un exercițiu asemănător.
- 11.** Află numerele naturale  $a$  și  $b$ , știind că:  
 a)  $3 \mid a$  și  $6 \nmid a$  și  $a < 25$ ;      b)  $b : 5$  și  $b \nmid 10$  și  $b \leq 30$ .
- 12.** Dănuț s-a dus la piață să cumpere nuci. Vânzătorul lua în mână câte 5 nuci și le punea în plasă. De câte ori a pus nuci vânzătorul în plasă, știind că Dănuț a vrut să cumpere 100 de nuci?



### Fii campion!

- 13.** Fie numerele  $m = 1 + 3 + 5 + \dots + 99$  și  $n = 13 \cdot (1 + 3 + 5 + \dots + 99)$ . Arată că numărul  $m + n$  este divizibil cu 14.
- 14.** Află numerele naturale nenule  $m$  și  $n$ , dacă  $m < 20$  și  $5 \cdot m = 15 \cdot n$ . Compune și rezolvă un exercițiu asemănător care are mai multe soluții.
- 15.** Află numerele naturale  $x$ , știind că:  
 a)  $(x + 1) \mid 15$ ;      b)  $(x + 5) \mid 28$ ;      c)  $20 : (x + 2)$ ;      d)  $(x + 1) \mid 18$  și  $21 : (x + 2)$ .

### Divizori comuni. C.m.m.d.c.



### Exersează!

- 1.** Află divizorii comuni pentru numerele:  
 a) 12 și 16;      b) 15 și 20;      c) 1 și 14;      d) 18 și 27;      e) 12 și 9;  
 f) 20 și 30;      g) 21 și 42;      h) 12, 18, 24;      i) 10, 15, 20;      j) 20, 30 și 40.
- 2.** Află cel mai mare divizor comun pentru numerele:  
 a) 6 și 8;      b) 9 și 12;      c) 10 și 15;      d) 20 și 32;      e) 18 și 24;  
 f) 13 și 26;      g) 14 și 21;      h) 16 și 20;      i) 12 și 15;      j) 25 și 35.

- 3.** Află cel mai mare divizor comun al numerelor:  
 a)  $m = 2 \cdot 5 + 2^3$  și  $n = 27 : 3 - 3$ ;      b)  $m = 23 + 18 : 3 + 1$  și  $n = 2^4 + 2^3 \cdot 3$ ;  
 c)  $m = 7^2 \cdot 0 + 5^2$  și  $n = 6^2 - 6^0$ .
- 4.** Află cel mai mare număr la care se împart exact numerele:  
 a) 8 și 36;      b) 9 și 24;      c) 15 și 20;      d) 13 și 15;      e) 21 și 28;      f) 23 și 29.



### Poți fi mai bun!

- 5.** Determină numerele naturale de două cifre, dacă cel mai mare divizor comun al fiecăruia dintre el și 10 este egal cu 5.
- 6.** Marina plantează 8 bulbi de lalea, 12 bulbi de narcise și 16 bulbi de zambile. Află câte ronduri de flori poate amenaja, astfel încât în fiecare rond să fie același număr de lalele, același număr de narcise și același număr de zambile.



### Fii campion!

- 7.** Determină cel mai mare divizor comun al numerelor  $a$  și  $b$ , știind că:  
 $a = 3^{2n+2} + 2 \cdot 3^{2n+1} + 11 \cdot 3^{2n}$  și  $b = 3^{2n} + 3^{2n+1} + 3^{2n+2}$ .
- 8.** Un pomicultor a cules într-o zi 61 kg de vișine și 67 kg de cireșe. După ce le așază în lădițe, rămân 5 kg de vișine și 4 kg de cireșe. Știind că într-o lădiță încap aceași cantitate de vișine sau de cireșe, află această cantitate.

## Multipli comuni. C.m.m.m.c.



### Exersează!

- 1.** Află cel mai mic multiplu comun al numerelor:  
 a) 3 și 4;      b) 4 și 6;      c) 5 și 12;      d) 10 și 15;      e) 11 și 77;  
 f) 20 și 30;      g) 25 și 50;      h) 7 și 13;      i) 9 și 19;      j) 11 și 12.
- 2.** Află toți multiplii comuni ai numerelor 3 și 7 care se găsesc între 20 și 70.
- 3.** Află toate numerele cuprinse între 6 și 90 care sunt multiplii lui 2 și ai lui 5 în același timp.




### Poți fi mai bun!

- 4.** Pe marginea unei șosele sunt lămpi pentru iluminat din 20 în 20 de metri. Folosindu-se becuri economice s-a constatat că se pot așeza lămpi economice din 30 în 30 de metri. Câte lămpi economice și câte lămpi vechi vor fi amplasate în același loc pe o distanță de 180 m?
- 5.** Pe o pistă în formă de cerc, cu o singură fâșie de concurs, aleargă 3 concurenți. Primul concurent parcurge întreaga pistă în 10 min, al doilea în 15 min și al treilea în 12 min. Dacă ei pornesc, toți deodată, după câte minute trec toți în același timp prin punctul de plecare?
- 6.** În cantina unei școli sunt puse pe farfurii mere așezate câte 3, câte 4 sau câte 5. Știind că sunt mai mult de 110 și mai puține decât 130, află câte mere sunt așezate pe farfurii?



### Fii campion!

- 7.** Elevii unei școli, care sunt mai mulți de 100, dar mai puțini de 150, se pot așeza în rând câte 2, câte 3, câte 4 sau câte 5 și formează un număr întreg de rânduri. Câți elevi sunt această școală?
- 8.** O scară are 20 de trepte numerotate de la 1 la 20 (treapta 1 este la sol). Un șoricel sare din două în două trepte, iar un motan sare din cinci în cinci trepte. Scrie numerele treptelor pe care le calcă și șoricelul și motanul.



## 2. Criterii de divizibilitate

Există reguli care, în unele cazuri, ne ajută să aflăm dacă un număr este divizibil cu altul, fără a efectua operația de împărțire. Aceste reguli se numesc **criterii de divizibilitate**.

### Criteriul de divizibilitate cu 10"

#### Criteriul de divizibilitate cu 10

✧ Se pot pune 250 kg de mere în lăzi de câte 10 kg fiecare, toate pline? Dar 600 kg?

DA, pentru că  $250 : 10 = 25$  lăzi, adică  $250 = 10 \cdot 25$ , respectiv  $600 : 10 = 60$  lăzi, adică  $600 = 10 \cdot 60$ .

**Numerele 250 și 600 se divid cu 10!**

✧ Se pot așeza 254 kg de mere în lăzi de câte 10 kg fiecare, toate pline? Dar 603 kg?

NU, pentru că  $254 = 10 \cdot 25 + 4$ ; se umplu 25 lăzi și rămân 4 kg;  $603 = 10 \cdot 60 + 3$ ; se umplu 60 lăzi și rămân 3 kg.

Observăm că, atât 250, cât și 600 au fiecare cifra unităților egală cu 0 și sunt divizibile cu 10.

**Numerele 254 și 603** au cifra unităților diferită de 0 (4, respectiv 3) și **nu sunt divizibile cu 10**.



la aminte și ține minte!

- **Criteriul de divizibilitate cu 10:** Un număr natural este **divizibil cu 10** dacă ultima cifră a acestui număr este egală cu 0.
- Dacă ultima cifră a unui număr natural nu este egală cu 0, atunci numărul *nu* este divizibil cu 10.

**Exemplu:** Scrie numerele cuprinse între 89 și 149 care sunt divizibile cu 10.

Numerele care au ultima cifră (cifra unităților) egală cu 0 și sunt mai mari decât 89 și mai mici decât 149 sunt: 90, 100, 110, 120, 130, 140. Fiecare dintre aceste numere se divide cu 10.

5+

Aplică ce ai învățat!

1. Pentru fiecare dintre numerele: 7; 28; 31; 119; 473; 778; 5 122; 23 429; 226 034, află multiplul de 10 cel mai apropiat.
2. Se dau numerele: 42; 236; 2 431; 38 805; 230 705. Adaugă la fiecare număr o cifră pentru a obține un multiplu de 10.

#### Criteriul de divizibilitate cu 100, 1 000...

- Multiplii lui 100 sunt: 100, 200, 300, 400, 500, 600 ...
- Multiplii lui 1 000 sunt: 1 000, 2 000, 3 000, 4 000, 5 000, 6 000 ...



la aminte și ține minte!

Dacă <b>ultimele două cifre</b> ale unui număr natural <b>sunt egale, fiecare, cu 0</b> , atunci numărul este <b>divizibil cu 100</b> = $10^2$ .	Dacă ultimele două cifre ale unui număr natural <i>nu</i> sunt egale, fiecare, cu 0, atunci numărul <i>nu</i> este divizibil cu 10.
<b>Exemplu:</b> $53\ 700 : 100$	<b>Exemple:</b> $16\ 423 \not\div 100$ ; $17\ 620 \not\div 100$
Dacă <b>ultimele trei cifre</b> ale unui număr natural <b>sunt egale, fiecare, cu 0</b> , atunci numărul este <b>divizibil cu 1 000</b> = $10^3$ .	Dacă ultimele trei cifre ale unui număr natural <i>nu</i> sunt egale, fiecare, cu 0, atunci numărul <i>nu</i> este divizibil cu 1 000.
<b>Exemplu:</b> $53\ 000 : 1\ 000$	<b>Exemple:</b> $16\ 400 \not\div 1\ 000$ ; $18\ 240 \not\div 1\ 000$

## Criteriul de divizibilitate cu $10^n$



### la aminte și ține minte!

- Un număr este **divizibil cu  $10^n$** , unde  $n$  este un număr natural nenul, dacă ultimele  $n$  cifre ale numărului sunt egale, fiecare, cu 0.

**Exemplu:** Se consideră numărul  $a = 45$ . Prin adăugare de cifre, află numerele naturale  $b$ ,  $c$ ,  $d$  și  $e$ , astfel încât  $10 \mid b$ ;  $100 \mid c$ ;  $1\ 000 \mid d$  și  $10^5 \mid e$ .

Numărul  $b$ : 10, ceea ce înseamnă că ultima sa cifră este egală cu 0,  $b = 450$ .

Numărul  $c$ : 100, ceea ce înseamnă că ultimele sale două cifre sunt fiecare egale cu 0,  $c = 4\ 500$ .

Numărul  $d$ : 1 000, ceea ce înseamnă că ultimele sale trei cifre sunt fiecare egale cu 0,  $d = 45\ 000$ .

Numărul  $e$ : 105, ceea ce înseamnă că ultimele sale 5 cifre sunt fiecare egale cu 0,  $e = 4\ 500\ 000$ .



### Aplică ce ai învățat!

Spune care dintre următoarele propoziții sunt adevărate și care sunt false:

- a)  $10 \mid 260$ ;    b)  $100 \mid 2\ 400$ ;    c)  $10^3 \mid 250\ 000$ ;    d)  $10^5 \mid 250\ 000$ ;    e)  $10^7 \mid 3\ 000\ 000$ .

## Criteriul de divizibilitate cu 2

★ Un număr natural este divizibil cu 2 dacă se împarte exact la 2 (restul împărțirii numărului la 2 este egal cu 0). Prin împărțirea unui număr natural la 2, restul împărțirii poate fi egal cu 0 sau 1.

**Exemple:** a) 38 este divizibil cu 2, pentru că  $38 = 2 \cdot 19$ , deci restul împărțirii este egal cu 0;

b) 39 nu este divizibil cu 2, pentru că  $39 = 2 \cdot 19 + 1$ , restul împărțirii este egal cu 1.

★ Dacă ultima cifră a unui număr este egală cu 0, atunci numărul este divizibil cu 10, ceea ce înseamnă cu numărul este divizibil și cu 2, care este divizor al lui 10.

★ Numărul 0 este un număr divizibil cu 2.

★ Numere naturale de o cifră divizibile cu 2 sunt:  $2 = 2 \cdot 1$ ;  $4 = 2 \cdot 2$ ;  $6 = 2 \cdot 3$ ;  $8 = 2 \cdot 4$ .

Numerele 1, 3, 5, 7, 9 nu sunt divizibile cu 2, deoarece restul împărțirii fiecăruia dintre aceste numere la 2 este egal cu 1:  $1 = 2 \cdot 0 + 1$ ;  $3 = 2 \cdot 1 + 1$ ;  $5 = 2 \cdot 2 + 1$ ;  $7 = 2 \cdot 3 + 1$ ;  $9 = 2 \cdot 4 + 1$ .



### la aminte și ține minte!

- Cifrele 0, 2, 4, 6, 8 se numesc **cifre pare** sau **cifre cu soț**. Cifrele 1, 3, 5, 7, 9 se numesc **cifre impare** sau **cifre fără soț**.  
Observăm că multiplii lui 2: 0; 2; 4; 6; 8; 10; 12; 14; 16; 18; 20; 22; 24; 26; 28; 30; ... au ultima cifra pară.
- **Criteriul de divizibilitate cu 2:** Un număr natural este **divizibil cu 2** dacă *ultima sa cifră* este pară. Acest criteriu se poate enunța și astfel: un număr natural este divizibil cu 2 dacă ultima sa cifră este una dintre cifrele 0, 2, 4, 6, 8.
- Dacă ultima cifră a unui număr natural este impară, adică este 1, 3, 5, 7 sau 9, atunci numărul natural *nu* este divizibil cu 2.

**Exemple:** a)  $248 \div 2$ , deoarece ultima sa cifră este 8, adică o cifră pară.

b)  $465 \not\div 2$ , deoarece ultima sa cifră este 5, adică o cifră impară.

c) Numerele de forma  $\overline{5a}$  sunt divizibile cu 2, dacă  $a$  este o cifră pară.

Obținem numerele 50; 52; 54; 56; 58.



### Aplică ce ai învățat!

1. Pot fi livrate 118 boluri de sticlă în cutii ce conțin, fiecare, câte 2 boluri? Rezolvă fără a efectua împărțirea.
2. Care dintre numerele: 17; 328; 1 056; 2 025; 3 024; 42 333; 187 592; 1 000 000 sunt divizibile cu 2?
3. Află toate numerele de două cifre de forma  $\overline{2b}$  care sunt divizibile cu 2.
4. Află toate numerele de două cifre de forma  $\overline{4b}$  care nu sunt divizibile cu 2.



## Criteriul de divizibilitate cu 5

✦ Dacă ultima cifră a unui număr natural este egală cu 0, atunci numărul este divizibil cu 10, ceea ce înseamnă că numărul este divizibil și cu 5 (5 fiind divizor al lui 10).

✦ Dacă ultima cifră a unui număr natural este egală cu 5, atunci acel număr este divizibil cu 5.

**Exemple:** a) Considerăm următoarele numere: 35, 455, 8 345.

$$35 = 30 + 5 = 5 \cdot (6 + 1) \\ \Rightarrow 35 : 5 \text{ sau } 5 \mid 35;$$

$$455 = 450 + 5 = 5 \cdot (90 + 1) \\ \Rightarrow 455 : 5 \text{ sau } 5 \mid 455;$$

$$8\ 345 = 8\ 340 + 5 = 5 \cdot (1\ 668 + 1) \\ \Rightarrow 8\ 345 : 5 \text{ sau } 5 \mid 8\ 345.$$

b) Considerăm numărul 4 612, care nu are ultima cifră nici 0, nici 5:

$$4\ 612 = 5 \cdot 922 + 2 \Rightarrow \text{restul împărțirii lui } 4\ 612 \text{ la } 5 \text{ este egal cu } 2 \Rightarrow 4\ 612 \not\div 5.$$



la aminte și ține minte!

- **Criteriul de divizibilitate cu 5:** Un număr natural este **divizibil cu 5** dacă ultima cifră a celui număr este egală cu 0 sau 5.
- Dacă ultima cifră a unui număr natural nu este nici 0, nici 5, atunci acel număr *nu* este divizibil cu 5.

**Exemple:** a) Ultima cifră a lui 635 este 5; deci numărul  $635 : 5$ .

b) Ultima cifră a lui 1 260 este 0; deci numărul  $1\ 260 : 5$ .

c) Ultima cifră a numărului 324 este 4; deci numărul  $324 \not\div 5$ .

5+

Aplică ce ai învățat!

1. Care este cel mai mare număr natural de trei cifre divizibil cu 5? Dar cel mai mic?
2. Dă exemplu de un număr natural de patru cifre care nu este divizibil cu 5.
3. Scrie toate numerele de trei cifre distincte, divizibile cu 5, formate cu cifrele 0, 1 și 5.
4. Se pot ambala 85 de ouă în suporturi de carton ce conțin, fiecare, câte 5 ouă? Rezolvă fără a efectua împărțirea.

## Criteriul de divizibilitate cu 3

Să efectuăm împărțirea la 3 a numerelor 10, 100 și 1 000.

$$10 = 3 \cdot 33 + 1$$

$$100 = 3 \cdot 33 + 1$$

$$1\ 000 = 3 \cdot 333 + 1$$

Observăm că, de fiecare dată, restul împărțirii este egal cu 1. De asemenea, continuând operația de împărțire al lui 10 000, 100 000 și așa mai departe, la 3 vom obține, de fiecare dată, restul egal cu 1.

♦ Să considerăm numărul:  $7\ 542 = 7 \cdot 1\ 000 + 5 \cdot 100 + 40 \cdot 10 + 2$ .

• Fiecare mie se va împărți în grupe de câte 3 unități și va rămâne singură o unitate; numărul are 7 mii, ceea ce înseamnă că ne vor rămâne <b>7 unități</b> .	• Fiecare sută se va împărți în grupe de câte 3 unități și va rămâne o singură unitate; numărul are 5 sute, ceea ce înseamnă că ne rămân <b>5 unități</b> .	• Fiecare zece se va împărți în grupe de câte 3 unități și va rămâne o singură unitate; numărul are 4 zeci, ceea ce înseamnă că ne vor rămâne <b>4 unități</b> .	• Numărul dat are și <b>2 unități</b> .
--	---	--	---

♦ Suma unităților negrupate este  $7 + 5 + 4 + 2 = 18$  care este un număr divizibil cu 3, ceea ce înseamnă că se pot forma încă 6 grupe de câte 3 unități. Acum putem spune că numărul 7 542 este divizibil cu 3.

♦ Considerăm numărul 7 543 și procedăm în același mod ca mai sus. Ne va rămâne un număr de  $7 + 5 + 4 + 3 = 19$  unități negrupate. Le grupăm și pe acestea în grupe de câte 3 unități și ne rămâne rest 1 unitate. Astfel, numărul 7 543 nu este divizibil cu 3.



la aminte și ține minte!

- **Criteriul de divizibilitate cu 3:** Un număr natural este **divizibil cu 3**, dacă suma cifrelor sale este un număr divizibil cu 3.
- Dacă suma cifrelor unui număr natural nu este divizibilă cu 3, atunci acest număr *nu* este divizibil cu 3.  
**Exemple:** a) Numărul natural 57 este divizibil cu 3, deoarece suma  $5 + 7 = 12$ , iar 12 este un număr natural divizibil cu 3 ( $3 \mid 12$ ).  
b) În cazul numărului 53 864 avem  $5 + 3 + 8 + 6 + 4 = 26$ , iar  $3 \nmid 26$ , deci  $3 \nmid 53\ 864$ .



Aplică ce ai învățat!

1. Pot fi grupați 42 de copii în echipe de câte 3? Rezolvă fără a efectua împărțirea.
2. Care dintre următoarele numere sunt divizibile cu 3:  
251, 4 269, 346, 1 304, 201 303, 123 456 789, 12 805 930 001?
3. Care este cel mai mic număr de trei cifre distincte, divizibil cu 3?

### Criteriul de divizibilitate cu 9

Pentru a afla criteriul de divizibilitate cu 9 urmăm aceeași metodă ca la divizibilitatea cu 3.

De exemplu, pentru numărul 486.

$$\begin{aligned} 486 &= 4 \cdot 100 + 8 \cdot 10 + 6 = 4 \cdot (99 + 1) + 8 \cdot (9 + 1) + 6 = \\ &= 4 \cdot 99 + 4 + 8 \cdot 9 + 8 + 6 = 4 \cdot 99 + 8 \cdot 9 + 4 + 8 + 6 = \\ &= 9 \cdot (4 \cdot 11 + 8) + (4 + 8 + 6); \end{aligned}$$

$9 \cdot (4 \cdot 11 + 8)$  este divizibil cu 9;  $4 + 8 + 6 = 18$ , iar 18 este divizibil cu 9.

$486 = 9 \cdot (4 \cdot 11 + 8) + 18 = 9 \cdot (4 \cdot 11 + 8 + 2)$ , adică 486 este divizibil cu 9.



la aminte și ține minte!

- **Criteriul de divizibilitate cu 9:** un număr natural este **divizibil cu 9**, dacă suma cifrelor sale este un număr divizibil cu 9.
- Dacă suma cifrelor unui număr natural nu este divizibilă cu 9, atunci acest număr nu este divizibil cu 9.  
**Exemple:** a) Numărul natural 576 este divizibil cu 9, deoarece suma  $5 + 7 + 6 = 18$ , iar 18 este un număr natural divizibil cu 9.  
b) Numărul 7 543 nu este divizibil cu 9, deoarece suma  $7 + 5 + 4 + 3 = 19$ , iar 19 nu este un număr natural divizibil cu 9.  
c) Aflăm cel mai mic număr natural, de trei cifre, divizibil cu 9. Prima cifră a numărului este 1. Pentru a fi cel mai mic număr, următoarea cifră după 1 este egală cu 0. Suma celor trei cifre ce formează numărul va trebui să fie egală cu 9. Ultima cifră a numărului este 8 și numărul este 108, deoarece  $1 + 0 + 8 = 9$ .



Aplică ce ai învățat!

1. Care dintre următoarele propoziții sunt adevărate și care sunt false?  
a) 471 este multiplu al lui 9.                      b) 9 este divizor al lui 4 716.  
c) 2 381 este divizibil cu 9.                      d) 3 453 903 este divizibil cu 9.
2. Află cel mai mare număr natural de trei cifre care este divizibil cu 9.
3. Se pot planta 117 bulbi de lelea, câte 9 pe fiecare rând, într-un rond de flori? Rezolvă fără a efectua împărțirea.

## Numere prime. Numere compuse

Ne reamintim că orice număr este divizibil cu 1 și cu el însuși. Știm că 1 și numărul însuși se numesc **divizori improprii**, iar ceilalți divizori ai numărului dat se numesc **divizori proprii**.

Să considerăm numerele naturale: 12, 13, 14 și 17. Divizorii lor sunt scriși în tabelul următor.

Divizorii lui 4	Divizorii lui 13	Divizorii lui 14
1 – divizor <i>impropriu</i> 2 – divizor <i>propriu</i> 4 – divizor <i>impropriu</i>	1 – divizor <i>impropriu</i> 13 – divizor <i>impropriu</i> <b>Acest număr natural nu are divizori proprii. Are numai divizori improprii.</b>	1 – divizor <i>impropriu</i> 2 – divizor <i>propriu</i> 7 – divizor <i>propriu</i> 14 – divizor <i>impropriu</i>



la aminte și ține minte!

- Numărul natural mai mare decât 1, care are ca divizori numai pe 1 și pe el însuși se numește **număr prim**. Numărul prim are doi divizori.

**Exemple:** 2, 3, 5, 7, 11, 13, 17, 19, 23, 29, 31, 37, 41, 43, 47, 53. Șirul numerelor naturale prime este nesfârșit. Oricât de mare ar fi un număr prim, mai există numere prime și mai mari ca el.

- 2 este singurul număr prim care este și număr par. Orice număr par mai mare decât 2 se divide cu 2, deci are și alți divizori în afară de 1 și el însuși. Toate numerele prime mai mari ca 2 sunt impare.
- Un număr natural nenul care are divizori proprii se numește **număr compus**. Numărul compus are atât divizori improprii (pe 1 și pe el însuși), cât și divizori proprii. Numerele compuse se mai numesc și **numere neprime**.
- Numărul natural 1 nu este nici număr prim, nici număr compus.

**Exemple:** a) 4, 6, 8, 9, 10, 12, 14, 15, 16, 18, 20, 21, 22, 24, 25 sunt numere compuse.

b) Determină dacă 197 este număr prim sau număr compus.

Ultima cifră a lui 197 este egală cu 7, deci numărul nu este divizibil cu 2. Suma cifrelor sale este:

$1 + 9 + 7 = 17$ , iar 17 nu este divizibil cu 3, deci 197 nu este divizibil cu 3.

Ultima cifră a lui 197 nu este 5, deci numărul nu este divizibil cu 5.

Continuăm să studiem divizibilitatea numărului 197 cu următoarele numere prime: cu 7 și obținem  $197 = 7 \cdot 28 + 1$ , adică  $197 \not\div 7$ ; cu 11 și obținem  $197 = 11 \cdot 17 + 10$ , adică  $197 \not\div 11$ ; cu 13 și obținem  $197 = 13 \cdot 15 + 2$ , adică  $197 \not\div 13$ ; cu 17 și obținem  $197 = 17 \cdot 11 + 10$ , adică  $197 \not\div 17$ .

**! Atenție!** • În momentul în care **câtul împărțirii este mai mic decât împărțitorul** ( $11 < 17$ ) ne oprim din calcule. Și concluzionăm că numărul 197 este număr prim.

c) Determină dacă 387 este număr prim sau număr compus.

Ultima cifră este 7, deci numărul nu este divizibil cu 2. Suma cifrelor este  $3 + 8 + 7 = 18$ , iar 18 este divizibil cu 3, deci 387 este divizibil cu 3, care este divizor propriu. Rezultă că 387 este număr compus.

5+

Aplică ce ai învățat!

1. Determină care dintre următoarele numere sunt prime și care sunt compuse: 111, 119, 123, 129, 139.
2. Care dintre următoarele propoziții sunt adevărate și care sunt false?
  - a) Toate numerele prime sunt impare.
  - b) Numărul  $a = 5 \cdot 13$  este un număr compus.
  - c) Numărul  $b = 1 \cdot 31$  este un număr prim.
  - d) Numărul  $c = 1029$  este un număr compus.

## Exerciții și probleme

### Criterii de divizibilitate cu $10^n$ , cu 2 și cu 5



#### Exersează!

1. Împărțind un număr natural la 2, se obține restul 1. Care poate fi ultima cifră a acestui număr?
2. Care dintre următoarele numere: 15; 325; 1 005; 1 259; 3 000; 43 537; 90 415 sunt divizibile cu 5?
3. Află cele mai mici patru numere de patru cifre, care să fie:  
a) divizibile cu 2, dar nu cu 5;      b) divizibile cu 5, dar nu cu 2.
4. Află numerele de forma  $\overline{5ab}$  care sunt divizibile cu 2 și sunt mai mari decât 589.
5. Află numerele naturale nenule  $n$  care sunt multipli de 100 și care verifică relația:  
a)  $n < 1\ 000$ ;      b)  $750 < n < 1\ 999$ ;      c)  $n + 11 < 214$ ;      d)  $3n + 123 < 1\ 211$ .
6. Scrie toate numerele de trei cifre distincte, divizibile cu 2, care conțin cifrele 2, 7, 0.
7. Scrie toate numerele de patru cifre distincte, divizibile cu 5, care conțin cifrele 2, 5, 7, 0.
8. Putem plăti un televizor în valoare de 1 255 lei în bancnote de 5 lei? Rezolvă fără a efectua împărțirea.
9. Elevii unei clase sunt împărțiți în grupe de câte 5 pentru a realiza un proiect. Cum trebuie să fie numărul elevilor astfel încât fiecare grupă să conțină 5 membri?
10. Un fermier are 623 de ouă de prepeliță pe care trebuie să le împartă în cutii, fiecare cutie conținând 10 ouă de prepeliță. Sunt complete toate cutiile? Argumentează!



#### Poți fi mai bun!

11. Află toate numerele de forma  $\overline{xy}$  divizibile cu 2 și cu 5.
12. Determină cifra  $x$ , astfel încât:  
a)  $\overline{23x} : 2$ ;      b)  $5 \mid \overline{413x}$ ;      c)  $\overline{4x3x} : 2$ ;      d)  $100 \mid \overline{32xx}$ ;      e)  $\overline{5x56x}$  este multiplu de 5.
13. Arată că produsul a două numere naturale consecutive este divizibil cu 2.
14. Arată că suma oricăror cinci numere naturale consecutive este divizibilă cu 5.



#### Fii campion!

15. La un concurs participă 25 de fete și 10 băieți. Toți participanții sunt grupați în echipe care au același număr de copii, iar fiecare echipă are același număr de fete.  
a) Arată că se pot forma 5 echipe.      b) Arată că nu se pot forma 2 echipe.
16. Schimbă ordinea cifrelor numărului 53 691 astfel încât să obții cel mai mare număr posibil scris cu aceste cifre și care să fie divizibil cu 2.
17. Având numărul 390 537, schimbă ordinea cifrelor lui astfel încât să obții:  
a) cel mai mic număr posibil scris cu aceste cifre, divizibil cu 2;  
b) cel mai mare număr posibil scris cu aceste cifre, divizibil cu 5;  
c) cel mai mic număr posibil, divizibil cu 10.

## Criteriul de divizibilitate cu 3 și cu 9



### Exersează!

1. Care dintre următoarele numere: 540; 642; 7323; 47 529 sunt divizibile cu 3? Dar cu 9?
2. Arată că numărul  $36 + 621$  este divizibil cu 9, prin două metode (factor comun sau criteriul de divizibilitate).
3. Stabilește, fără a face împărțirea, dacă 9 888 este multiplu al lui 3.
4. Află cele mai mici numere de trei cifre distincte care să fie:  
a) divizibile cu 3;      b) divizibile cu 9;      c) divizibile cu 3, dar nu cu 9.
5. Află numerele de forma  $\overline{25x}$  divizibile:  
a) cu 3;      b) cu 9.



### Poți fi mai bun!

6. Scrie numerele de forma: a)  $\overline{35x}$ ; b)  $\overline{x3x}$ ; c)  $\overline{2x7}$ ; d)  $\overline{xxx}$ , divizibile cu 3.
7. Demonstrează că, dacă cifrele unui număr natural de trei cifre sunt consecutive, atunci numărul este divizibil cu 3.
8. Un fermier are 624 de prepelițe pe care trebuie să le pună în cutii, fiecare cutie conținând 3 prepelițe. Sunt complete toate cutiile? Rezolvă fără a efectua împărțirea.



### Fii campion!

9. Arată că:  
a)  $10^7 - 1$  este divizibil cu 9;    b)  $10^{50} - 1$  este divizibil cu 9;    c)  $10^{20} - 7$  este divizibil cu 3.

## Numere prime. Numere compuse



### Exersează!

1. Stabilește dacă numerele următoare sunt prime sau compuse: 59; 60; 79; 453; 1989; 2100.
2. Scrie ca sumă de numere prime următoarele numere: 10; 11; 15; 24; 36; 52; 50; 56; 81; 103.
3. Scrie numerele prime cuprinse între: a) 1 și 10; b) 16 și 26; c) 25 și 45; d) 50 și 90.



### Poți fi mai bun!

4. Arată că numărul: a)  $2^{31} \cdot 5^{30} + 1$  este număr compus;      b)  $2^{30} \cdot 5^{31} + 1$  este număr compus.
5. Stabilește dacă următoarele numere sunt prime sau compuse: 97, 123, 379, 451, 1997.
6. Arată că numărul:  
a)  $1001^3 + 2 \cdot 1001$  este număr compus;  
b)  $2007^5 - 4 \cdot 2007$  nu este număr prim;  
c)  $351^{1001} + 3 \cdot 351^{1000}$  este număr neprim.



### Fii campion!

7. Află numerele prime  $a$  și  $b$  pentru care  $3 \cdot a + 2 \cdot b = 16$ .
8. Câte numere naturale de două cifre se scriu ca produs de două numere prime?

# RECAPITULARE ȘI SISTEMATIZARE PRIN TESTE

## Testul de evaluare 1

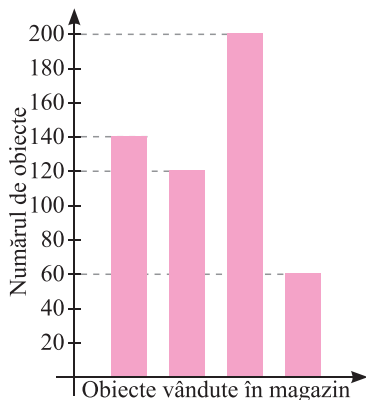
### Subiectul I (30p)

- Completează spațiile punctate cu răspunsul corect:
  - Radu deschide cartea astfel încât suma numerelor de pe cele două pagini este 57. Numerele scrise pe cele două pagini sunt ..... și .....
  - Dintre numerele  $2^{22}$  și  $4^{13}$ , mai mare este numărul .....
  - Dacă un produs costă 3 562 lei și se scumpește cu 36 de lei, atunci noul preț al produsului va fi de ... lei.
- Alege răspunsul corect:
  - O editură tipărește cam 7 000 de exemplare în fiecare săptămână. Într-un an tipărește aproximativ un număr de exemplare egal cu:  
A. 8 400      B. 35 000      C. 84 000      D. 360 000
  - Numărul de forma  $\overline{4a5}$  care are produsul cifrelor sale egal cu 60 este:  
A. 405      B. 435      C. 345      D. 465
- Scrie asocierile corecte dintre fiecare literă din coloana A și cifra corespunzătoare din coloana B.

A	B
a) $6 : 6 \cdot 6 - 6$	1) 28
b) $8 + 16 : 4$	2) 11
c) $7 \cdot 3 + 14 : 2$	3) 0
d) $16 - 10 : 2$	4) 12
	5) 2

### Subiectul II (30p)

- Efectuează:
  - $2 + 3 \cdot 3^2 - 4^5 : 64$ ;
  - $36 \cdot (39 - 19) : 4 - 3$ ;
  - $7^2 + 5^2 - 2 \cdot 7 \cdot 5$ .



- Graficul alăturat indică numărul de stilouri, creioane, rigle și radiere vândute de un magazin într-o săptămână. Numele obiectelor lipsește din grafic. Cele mai vândute obiecte au fost creioanele, iar cele mai puțin vândute au fost riglele. Au fost vândute mai multe stilouri decât radiere.
  - Câte stilouri au fost vândute?
  - Câte creioane au fost vândute?
  - Câte radiere au fost vândute?

### Subiectul III (30p)

- Într-un bloc sunt 21 de apartamente cu două, respectiv trei camere. În total, 49 de camere. Câte apartamente cu două camere sunt? Dar cu trei camere?
- Mihai are o sumă de bani. După ce dublează această sumă, cheltuiește 30 de lei. Dublează suma rămasă și cheltuiește 20 de lei. Dublează din nou suma rămasă și cheltuiește 160 de lei. Mihai constată că mai are 400 de lei. Determină ce sumă de bani a avut Mihai inițial.

(10p din oficiu)

**Subiectul I (30p)**

- Completează spațiile punctate cu răspunsul corect:
  - Aproximarea prin adaos până la sute a numărului 26 723 este egală cu...
  - Cel mai mic număr natural de trei cifre, care este multiplu de 25 este .....
  - Divizorii proprii comuni ai numerelor 12 și 20, sunt .....
- Alege răspunsul corect:
  - Suma primelor patru numere naturale prime este:
 

A. 11                      B. 15                      C. 17                      D. 16
  - Numărul 1001 scris cu litere este:
 

A. o sută unu      B. o mie unu      C. zece mii unu      D. unsprezece
- Scrie asocierile corecte dintre fiecare literă din coloana A și cifra corespunzătoare din coloana B.

A	B
a) pătratul numărului 5	1) 2018
b) $(3^2 - 2^3)^{2017}$	2) 25
c) un multiplu al lui 1009	3) 1
d) multiplu de 3 cifre al lui 3	4) 12
	5) 102

**Subiectul II (30p)**

- Scrie numerele naturale de forma:
  - $\overline{6y2}$  divizibile cu 9;      b)  $\overline{4y3y}$  divizibile cu 2;      c)  $\overline{x42y}$  divizibile cu 9.
- În tabelul alăturat este reprezentată statistica vânzărilor efectuate de o firmă în cele 4 trimestre din anii 2014 și 2015.
  - Câte produse s-au vândut în anul 2014? Dar în anul 2015?
  - În ce trimestru și în ce an s-au vândut cele mai multe produse? Dar cele mai puține?
  - Diferența dintre cel mai mare și cel mai mic număr de produse vândute este egal cu:
 

A. 20 600      B. 30 700      C. 26 688      D. 40 000.

Trimestrul	Numărul de produse vândute	
	în anul 2014	în anul 2015
I	65 420	70 408
II	48 312	73 104
III	50 999	60 498
IV	67 823	75 000

**Subiectul III (30p)**

- Adina împarte în mod egal cu prietenele sale 12 portocale, 16 banane și 20 de mere. Câte prietene are Adina?
- Un cofetar a făcut fursecuri pentru o aniversare. Dacă le așază pe platouri, în rânduri, câte 4 sau câte 5 sau câte 6 pe un rând, rămân de fiecare dată câte 3 fursecuri.
  - Poate fi numărul de fursecuri egal cu 83?
  - Câte fursecuri a făcut cofetarul, știind că este cel mai mic număr cu aceste proprietăți?

(10p din oficiu)

**Subiectul I (30p)**

- Completează spațiile punctate cu răspunsul corect:
  - Valorile lui  $x$  pentru care  $\overline{4x3} > 433$  sunt .....
  - Scris cu ajutorul cifrelor, numărul un milion cincizeci și două de mii patru sute șase este .....
  - Scris cu ajutorul literelor, numărul 154 005 este .....
- Alege răspunsul corect:
  - Suma dintre cel mai mic număr natural de trei cifre distincte divizibil cu 5 și cel mai mare număr natural de trei cifre distincte este egală cu:  
A. 1107      B. 1092      C. 1100      D. 1080
  - Pe axa numerelor se consideră punctele  $A(3)$ ,  $B(5)$  și  $C(11)$ . Atunci suma  $OA + OB + OC$  este egală cu:  
A. 19      B. 11      C. 18      D. 20
- Scie asocierile corecte dintre fiecare literă din coloana A și cifra corespunzătoare din coloana B.

A	B
a) $69 - 9 : 3$	1) 3
b) $48 : 6 - 5$	2) 66
c) $2^3$	3) 27
d) $3^5 : 3^2$	4) 8
	5) 6

**Subiectul II (30p)**

- Calculează:
  - $28 \cdot 787 - 28 \cdot 738$ ;
  - $103 + 1025 : 5$ ;
  - $(5^2 + 2^5) \cdot 3 - 1^{2017}$ .
- Urmărește datele aproximative înregistrate în tabelul alăturat, apoi răspunde la întrebări:
  - Care este planeta cea mai apropiată de Soare?
  - Care este planeta cea mai depărtată?
  - Care este ordinea planetelor respectând distanța față de Soare?

Denumirea planetei	Distanța până la Soare (milioane de km)
Jupiter	7 778
Marte	2 278
Mercur	579
Pământ	1 485
Pluto	58 889
Neptun	44 856
Venus	1 081
Saturn	14 261
Uranus	28 691

**Subiectul III (30p)**

- Andreea are un număr de vederi egal cu  $\overline{23x}$ , unde  $x$  este cel mai mic număr natural de o cifră, astfel încât numărul de vederi al Andreei să fie un multiplu de 3. Maria are de două ori mai multe vederi decât Andreea, iar Elena are cât Andreea și Maria la un loc.
  - Câte vederi are Maria?
  - Câte vederi are Elena?
  - Câte vederi au cele 3 fete în total?
- Ana și Bogdan au împreună 7 gutui, Ana și Călin au împreună 8 gutui, iar cei trei au împreună un număr de gutui egal cu cel mai mic multiplu comun al numerelor 3 și 4. Câte gutui are fiecare dintre cei trei prieteni?

(10p din oficiu)



## Magia matematicii

Leonardo Fibonacci a fost un matematician italian, care a trăit între anii 1175 – 1250. A fost considerat de multe personalități „cel mai talentat matematician din Occidentul Evului Mediu”. Este cunoscut pentru utilizarea unui șir de numere naturale care îi poartă numele. În șirul de numere al lui Fibonacci, fiecare număr reprezintă suma a două numere anterioare, începând cu 0 și 1.

Șirul lui Fibonacci începe astfel: 0, 1, 1, 2, 3, 5, 8, 13, ..., și continuă așa la nesfârșit.

**1.** Continuă tu, în șirul lui Fibonacci reprezentarea începută și arată că numerele 21 și 34 se află în acest șir.

**2.** Află care dintre primele unsprezece numere din șirul lui Fibonacci sunt numere prime și care sunt compuse.

### Știați că?

- Numărul petalelor la unele flori reprezintă numere din șirul lui Fibonacci?



**Ghiocelul cu 3 petale**



**Piciorul-cocoșului cu 5 petale**



**Cicoarea cu 21 de petale**

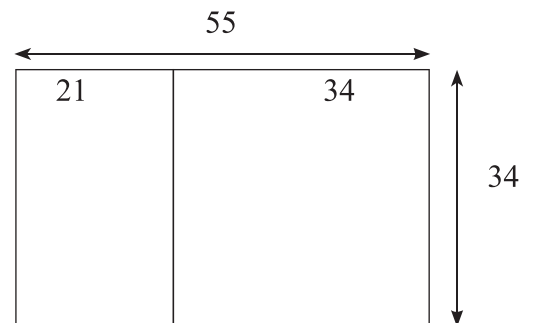


**Margareta cu 34 de petale**

- Șirul lui Fibonacci poate fi reprezentat și geometric.

Am desenat un dreptunghi cu lungimea de 55 cm și lățimea de 34 cm. În interiorul acestuia am desenat un pătrat cu latura exact cât lățimea dreptunghiului (de 34 cm). S-au format un pătrat cu latura de 34 cm și un dreptunghi cu lungimea de 34 cm și lățimea de 21 cm. Repetă procedeul și desenează un pătrat cu latura de 21 cm în dreptunghiul format. Se vor forma un pătrat cu latura de 21 cm și un dreptunghi cu lungimea de 21 cm și lățimea de 13 cm. Repetă procedeul până obții un pătrat cu latura de 1 cm.

Ce observi?



# Capitolul 2. Frații ordinare.

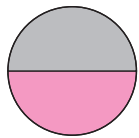
## Frații zecimale

### A. Frații ordinare

#### 1. Frații ordinare. Clasificarea fracțiilor. Procente. Frații echivalente

##### Frații ordinare

✦ Dacă se împart, în mod egal, 4 prăjituri identice la 2 copii, dividem 4 la 2 și obținem că fiecare copil primește 2 prăjituri. Dacă se împarte, în mod egal, o prăjitură la 2 copii, se obțin 2 părți egale și fiecare primește o **jumătate** din prăjitura întreagă. Jumătatea dintr-un întreg se mai numește *o doime* din întreg.



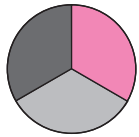
O **doime** din întreg se notează

$$\frac{1}{2}$$

1 ← numărător  
— ← linie de fracție  
2 ← numitor

Se citește *unu supra doi* sau *unu pe doi*.

✦ Dacă se împarte, în mod egal, o prăjitură la 3 copii, se obțin 3 părți egale și fiecare primește o **treime** din prăjitura întreagă.



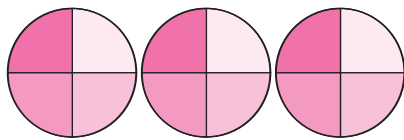
O **treime** din întreg se notează

$$\frac{1}{3}$$

1 ← numărător  
— ← linie de fracție  
3 ← numitor

Se citește *unu supra trei* sau *unu pe trei*.

✦ Dacă se împart, în mod egal, 3 prăjituri identice la 4 copii, se împarte fiecare prăjitură în 4 părți și fiecare copil primește câte **3 pătrimi**.



$$\frac{3}{4}$$

3 ← numărător  
— ← linie de fracție  
4 ← numitor

Se citește *trei supra patru* sau *trei pe patru*.

$\frac{1}{2}$ ,  $\frac{1}{3}$ ,  $\frac{3}{4}$  sunt **fracții ordinare**.



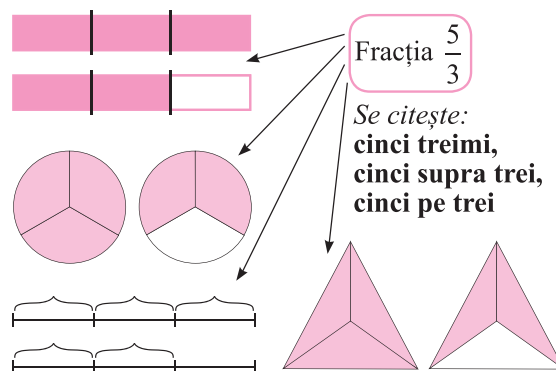
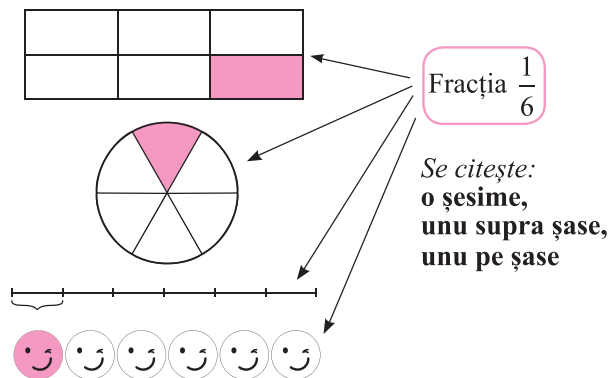
la aminte și ține minte!

- Pentru a scrie o **fracție ordinară** se folosesc două numere naturale despărțite printr-o liniuță orizontală, numită *linie de fracție*.
- Numărul natural care este situat sub linia de fracție se numește **numitor** și ne arată în câte părți egale a fost împărțit un întreg sau au fost împărțiți mai mulți întregi identici.

! **Atenție!** • Numitorul unei fracții nu poate fi egal cu 0! Numitorul unei fracții este întotdeauna un număr natural nenul!

- Numărul natural care este situat deasupra liniei de fracție se numește **numărător** și ne arată câte părți egale sunt numărate din totalul părților egale în care a fost împărțit întregul sau au fost împărțiți mai mulți întregi identici.

**Exemple** de fracții ordinare reprezentate cu ajutorul desenelor.



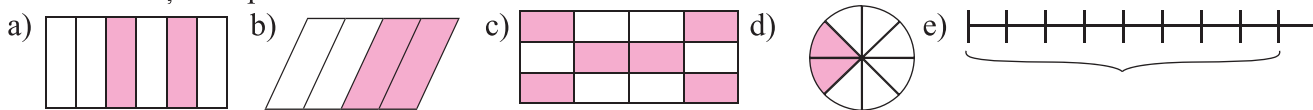
la aminte și ține minte!

- **Fracția ordinară** se formează prin împărțirea unuia sau mai multor întregi în părți egale și exprimă una sau mai multe părți dintre părțile egale în care a fost împărțit un întreg sau au fost împărțiți mai mulți întregi identici.
- Fracția  $\frac{a}{b}$  este câtul neefectuat  $a : b$ ;  $\frac{a}{b} = a : b$ . Fracția  $\frac{a}{b}$  se citește **a supra b** sau **a pe b**.
- Dacă: a)  $a = 0$ , obținem  $\frac{0}{b} = 0$ , pentru orice număr natural nenul  $b$ ,  $b \neq 0$ .  
b)  $b = 1$ , obținem  $\frac{a}{1} = a$ , pentru orice număr natural  $a$ .
- În continuare vom folosi doar cuvântul **fracție** pentru noțiunea de **fracție ordinară**.

5+

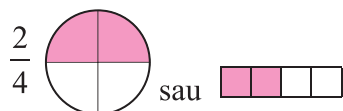
Aplică ce ai învățat!

1. Citește următoarele fracții în mai multe moduri:  $\frac{3}{4}$ ;  $\frac{2}{2}$ ;  $\frac{2}{3}$ ;  $\frac{7}{3}$ ;  $\frac{3}{4}$ ;  $\frac{4}{4}$ ;  $\frac{6}{4}$ .
2. Scrie fracțiile: a) trei cincimi; b) șapte doimi; c) zece treimi; d) șase jumătăți; e) 6 supra 5; f) cu numărătorul divizor al lui 3 și cu numitorul divizor al lui 2.
3. Scrie fracțiile reprezentate de următoarele desene:

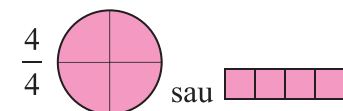


### Fracții subunitare, echiunitare, supraunitare

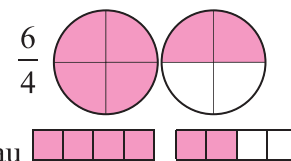
Privește reprezentările fracțiilor  $\frac{2}{4}$ ,  $\frac{4}{4}$  și  $\frac{6}{4}$ . Compară cu întregul! (Întregul are patru pătrimi.)



$\frac{2}{4}$  (două pătrimi)  
Mai puține pătrimi  
decât are un întreg.  
 $\frac{2}{4}$  este o fracție subunitară.



$\frac{4}{4}$  (patru pătrimi)  
Egal cu un întreg.  
 $\frac{4}{4}$  este o fracție echiunitară.



$\frac{6}{4}$  (șase pătrimi - un întreg și două  
pătrimi)  
Mai multe pătrimi decât are un întreg.  
 $\frac{6}{4}$  este o fracție supraunitară.



la aminte și ține minte!

- **Subunitar** înseamnă mai mic decât unitatea; **echiunitar** înseamnă egal cu unitatea și **supraunitar** înseamnă mai mare decât unitatea.

O fracție $\frac{a}{b}$ , unde $a$ și $b$ sunt numere naturale și $b$ nenul, se numește:		
<b>fracție subunitară</b> , dacă numărătorul este mai mic decât numitorul, adică $a < b$	<b>fracție echiunitară</b> , dacă numărătorul este egal cu numitorul, adică $a = b$	<b>fracție supraunitară</b> , dacă numărătorul este mai mare decât numitorul, adică $a > b$



- Dacă fracția este **subunitară** înseamnă că exprimă mai puține părți egale decât sunt necesare pentru a avea 1 întreg.

**Exemple** de fracții subunitare:  $\frac{5}{6}$ ;  $\frac{2}{5}$ ;  $\frac{1}{10}$ ;  $\frac{15}{16}$ ;  $\frac{98}{100}$ .

- Dacă fracția este **echiunitară** înseamnă că exprimă un număr de părți egal cu numărul părților egale în care s-a împărțit întregul.

**Exemple** de fracții echiunitare:  $\frac{6}{6}$ ;  $\frac{5}{5}$ ;  $\frac{10}{10}$ ;  $\frac{16}{16}$ ;  $\frac{100}{100}$ .

- Dacă fracția este **supraunitară** înseamnă că exprimă mai multe părți egale decât sunt necesare pentru a avea 1 întreg.

**Exemple** de fracții supraunitare:  $\frac{8}{6}$ ;  $\frac{7}{5}$ ;  $\frac{14}{10}$ ;  $\frac{30}{16}$ ;  $\frac{140}{100}$ .

5+

Aplică ce ai învățat!

1. Scrie trei fracții: a) subunitare; b) echiunitare; c) supraunitare.
2. Scrie fracțiile care au numărătorul și numitorul mai mari decât 2 și mai mici decât 6:  
a) subunitare; b) echiunitare; c) supraunitare.
3. Reprezintă prin desene următoarele fracții:  $\frac{2}{3}$ ;  $\frac{4}{4}$ ;  $\frac{3}{2}$ .
4. Scrie toate fracțiile care au ca numărători divizori ai lui 6 și ca numitori divizori ai lui 8. Câte fracții echiunitare ai scris? Dar subunitare? Dar supraunitare?

## Procente


✧ Dacă împărțim un întreg în 100 de părți egale și luăm o singură parte, atunci obținem fracția  $\frac{1}{100}$ .

Zona colorată cu roz reprezintă o sutime din întreg sau a suta parte din acest întreg.

Fracția  $\frac{1}{100}$  se notează cu **1%**, se citește **unu la sută** și se numește **un procent**.

În limba latină *percent* înseamnă **la sută**.

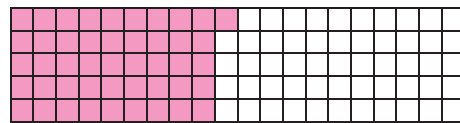
Dacă vom colora cu gri, de exemplu, 8 dintre cele 100 de pătrățele mici în care a fost împărțit pătratul mare (din desenul alăturat), vom obține fracția  $\frac{8}{100}$ , ce reprezintă opt sutimi dintr-un întreg și se notează cu **8%**, se citește opt la sută și înseamnă 8 procente dintr-un întreg.



Procentul este utilizat în descrierea informațiilor din domeniul banilor, economic, demografic etc.

**Exemple:** a) Din 100 de copii dintr-o școală, 46 sunt fete și 54 sunt băieți.

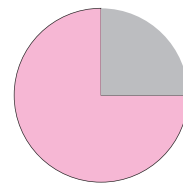
Zona hașurată reprezintă numărul fetelor și se poate exprima prin procentul  $\frac{46}{100} = 46\%$ . Zona nehașurată reprezintă numărul băieților și se exprimă prin procentul  $\frac{54}{100} = 54\%$ .



b) Din 100 lei, Dana cumpără cadouri părinților în valoare de 75 lei. Îi rămân 25 lei.

Se observă că, dacă împărțim suma Danei în patru părți egale,  $100 : 4 = 25$ ; o pătrime din întreaga sumă îi rămâne necheltuită, iar 3 părți din suma întreagă este cheltuită. În desenul alăturat, zona colorată cu roz reprezintă suma cheltuită, și se exprimă prin procentul

$\frac{75}{100} = 75\%$ , iar zona colorată gri reprezintă suma rămasă și se exprimă prin procentul  $\frac{25}{100} = 25\%$ .



la aminte și ține minte!

- Dacă  $p$  este un număr natural, fracția  $\frac{p}{100}$  se notează cu  $p\%$ , se citește *p la sută* și reprezintă procentul  $p\%$ .

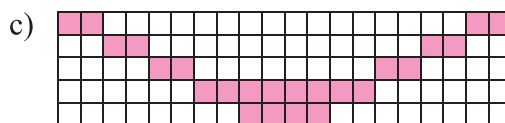
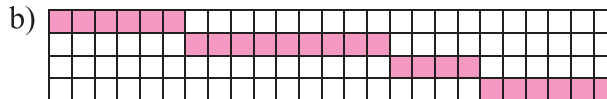
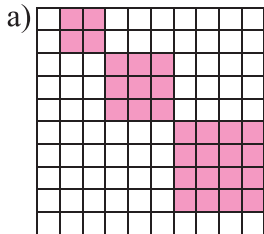
**Exemple:** a) fracția  $\frac{27}{100}$  reprezintă procentul 27%; b) fracția  $\frac{100}{100}$  reprezintă procentul 100%;

c) fracția  $\frac{120}{100}$  reprezintă procentul 120%.

5+

Aplică ce ai învățat!

1. Scrie ce procent din întreg reprezintă zona colorată, în fiecare caz:




2. Scrie ca procente:  $\frac{9}{100}$ ,  $\frac{21}{100}$ ,  $\frac{69}{100}$ ,  $\frac{205}{100}$ ,  $\frac{111}{100}$ .

3. Din 100 de lei cheltuiesc 15 lei pentru o carte, 2 lei pentru un creion și 50 lei pentru un joc. Exprimă, în procente, suma cheltuită pentru fiecare obiect cumpărat.

## Fracții echivalente

Irina și Dan primesc 2 ciocolate identice, câte una fiecare.


Irina împarte ciocolata în 3 părți egale și mănâncă 2 bucăți.



Irina mănâncă  $\frac{2}{3}$  din ciocolată.

Dan împarte ciocolata

în 6 părți egale și mănâncă 4 bucăți.

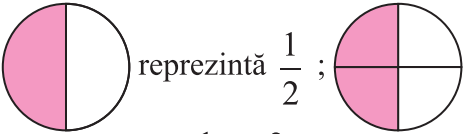
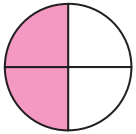


Dan mănâncă  $\frac{4}{6}$  din ciocolată.

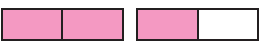
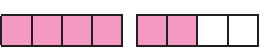
Fiecare dintre cei doi copii observă că bucata de ciocolată rămasă este la fel de mare, are aceeași masă.

Irina și Dan au mâncat aceeași cantitate din ciocolata lor. Astfel, fracțiile  $\frac{2}{3}$  și  $\frac{4}{6}$  reprezintă aceeași parte din întregul dat. Spunem că  $\frac{2}{3}$  și  $\frac{4}{6}$  sunt fracții echivalente.

Să observăm următoarele desene:

a)  reprezintă  $\frac{1}{2}$ ;  reprezintă  $\frac{2}{4}$ .

Perechea de fracții  $\frac{1}{2}$  și  $\frac{2}{4}$  reprezintă aceeași parte din întreg. Scriem că  $\frac{1}{2} = \frac{2}{4}$ .

b)  reprezintă  $\frac{3}{2}$ ;  reprezintă  $\frac{6}{4}$ .

Perechea de fracții  $\frac{3}{2}$  și  $\frac{6}{4}$  reprezintă aceeași parte din întreg. Scriem că  $\frac{3}{2} = \frac{6}{4}$ .

Observăm că: a)  $1 \cdot 4 = 2 \cdot 2$ ; b)  $3 \cdot 4 = 6 \cdot 2$ .



**la aminte și ține minte!**

- Fie  $a, b, c, d$  numere naturale,  $b \neq 0, c \neq 0$ ; fracțiile  $\frac{a}{b}$  și  $\frac{c}{d}$  sunt **echivalente** dacă reprezintă aceeași parte dintr-un întreg sau din mai mulți întregi. Se scrie  $\frac{a}{b} = \frac{c}{d}$ .
- Dacă fracțiile  $\frac{a}{b}$  și  $\frac{c}{d}$  sunt **echivalente**, atunci  $a \cdot d = b \cdot c$ .
- Pentru a verifica dacă fracțiile  $\frac{a}{b}$  și  $\frac{c}{d}$  sunt echivalente comparăm produsele  $a \cdot d$  și  $b \cdot c$ .

Dacă  $a \cdot d = b \cdot c$ , atunci  $\frac{a}{b} = \frac{c}{d}$ ;  
fracțiile  $\frac{a}{b}$  și  $\frac{c}{d}$  sunt echivalente.

Dacă  $a \cdot d \neq b \cdot c$ , atunci  $\frac{a}{b} \neq \frac{c}{d}$ ;  
fracțiile  $\frac{a}{b}$  și  $\frac{c}{d}$  nu sunt echivalente.

**Exemple:**

a) Frațiile  $\frac{9}{2}$  și  $\frac{18}{4}$  sunt echivalente, deoarece  $9 \cdot 4 = 2 \cdot 18$ . Scriem  $\frac{9}{2} = \frac{18}{4}$ .

b) Frațiile  $\frac{7}{3}$  și  $\frac{15}{6}$  nu sunt echivalente, deoarece  $7 \cdot 6 \neq 3 \cdot 15$ . Scriem  $\frac{7}{3} \neq \frac{15}{6}$ .

c) Determinăm numărul natural  $n$  pentru care fracțiile  $\frac{3}{2}$  și  $\frac{n}{4}$  sunt echivalente. Scriem  $\frac{3}{2} = \frac{n}{4}$  și

afăm numărul  $n$ , astfel încât  $3 \cdot 4 = 2 \cdot n$ . Obținem  $2 \cdot n = 12$  și rezultă  $n = 6$ . Scriem  $\frac{3}{2} = \frac{6}{4}$ .

**5+**

**Aplică ce ai învățat!**

**1.** Desenează și verifică echivalența fracțiilor:

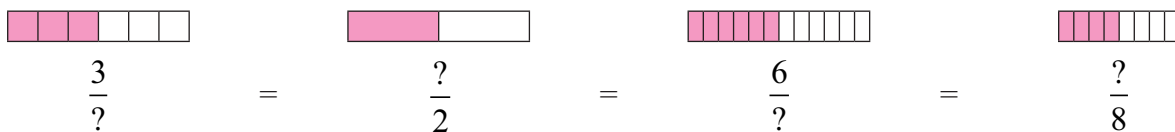
a)  $\frac{1}{2}$  și  $\frac{3}{6}$ ;

b)  $\frac{1}{2}$  și  $\frac{5}{10}$ ;

c)  $\frac{1}{3}$  și  $\frac{2}{6}$ ;

d)  $\frac{1}{3}$  și  $\frac{3}{9}$ .

2. Privește desenele de mai jos și completează numărătorul sau numitorul fracțiilor echivalente:



3. Cu care dintre fracțiile următoare este echivalentă fracția  $\frac{9}{7}$ ?

- a)  $\frac{18}{14}$ ; b)  $\frac{27}{20}$ ; c)  $\frac{36}{28}$ ; d)  $\frac{15}{11}$ ; e)  $\frac{90}{70}$ ; f)  $\frac{900}{600}$ ; g)  $\frac{900}{700}$ ; h)  $\frac{800}{600}$ .

## Exerciții și probleme

### Fracții ordinare; fracții subunitare, echiunitare, supraunitare



#### Exersează!

- Specifică numărătorul și numitorul pentru fiecare dintre fracțiile următoare:  $\frac{2}{3}$ ;  $\frac{4}{5}$ ;  $\frac{10}{3}$ ;  $\frac{12}{1}$ ;  $\frac{1}{17}$  și  $\frac{35}{1}$ .
- Scrive fracțiile ordinare: a) un sfert; b) două treimi; c) două șesimi; d) patru zecimi.
- Află fracțiile ordinare care au numărătorul 5 și numitorul mai mic decât 9. Care dintre acestea sunt subunitare? Dar supraunitare? Dar echiunitare?
- Află fracțiile supraunitare care au numărătorii divizori ai lui 8 și numitorii divizori ai lui 6.
- Află numărul natural  $a$  pentru care fracția următoare:  
a)  $\frac{2}{a}$  este echiunitară; b)  $\frac{5}{a+1}$  este supraunitară; c)  $\frac{a+4}{10}$  este subunitară.
- Scrive câte patru fracții la care:  
a) numărătorul este un divizor al numitorului;  
b) numărătorul este un multiplu al numitorului.  
Precizează tipul fiecărei fracții scrise (subunitară, echiunitară sau supraunitară).



#### Poți fi mai bun!

- Determină numerele naturale  $a$  cu proprietatea că fracția  $\frac{6}{a}$  este:  
a) subunitară cu numitorul mai mic decât decât 11; b) supraunitară.
- Determină numerele naturale  $a$ , pentru care fracția  $\frac{a+3}{6}$  este:  
a) subunitară; b) supraunitară cu numărătorul mai mic decât 10.
- Arată că fracțiile: a)  $\frac{3^2}{2^3}$ ; b)  $\frac{2^{14}}{3^7}$ ; c)  $\frac{5^{30}}{24^{15}}$ , sunt supraunitare.



#### Fii campion!

- Află numerele naturale  $a$  și  $b$ , știind că fracția  $\frac{(a-3)(b+1)}{6}$  este echiunitară.

11. Află fracțiile de forma  $\frac{2a}{3b}$ , știind că numărătorul este un număr natural par divizibil cu 3, iar numitorul este divizibil cu 5.
12. Află numărul natural  $n$  pentru care fracția  $\frac{3^n + 3^{n+2}}{2^n + 2^{n+1} + 3 \cdot 2^{n+2}}$  este echiunitară.

### Procente



#### Exersează!

1. Scrie următoarele fracții ca procente:  $\frac{27}{100}$ ,  $\frac{14}{100}$ ,  $\frac{123}{100}$ ,  $\frac{1015}{100}$ .
2. Cât la suta dintr-un secol reprezintă un deceniu?
3. În bibliotecă sunt 100 de cărți. Dana a citit 37 de cărți, iar Radu a citit 41 de cărți. Care este procentul cărților din bibliotecă citite de fiecare copil?
4. În desenul alăturat este reprezentat planul unui apartament cu două camere. Exprimă, în procente, suprafața:  
a) holului; b) bucătăriei; c) sufrageriei; d) grupului sanitar; e) dormitorului.

	Grup sanitar	Dormitor
Hol		Sufragerie
Bucătărie		

### Fracții echivalente



#### Exersează!

1. Folosește desenele alăturate pentru a completa numărătorul sau numitorul fracțiilor echivalente.
2. Determină numărul natural  $x$  pentru care fracțiile următoare sunt echivalente:



$$\frac{6}{?} = \frac{?}{3} = \frac{24}{?}$$

- a)  $\frac{2}{3} = \frac{x}{9}$ ;    b)  $\frac{5}{x} = \frac{10}{20}$ ;    c)  $\frac{x}{8} = \frac{1}{2}$ ;    d)  $\frac{10}{5} = \frac{x}{2}$ .

3. Află fracțiile echivalente cu fracția  $\frac{2}{3}$  care au numărătorul mai mic decât 18.



#### Poți fi mai bun!

4. Determină numărul natural  $n$ , astfel încât fiecare dintre fracțiile următoare să fie echivalente cu  $\frac{2}{3}$ :  
a)  $\frac{n}{2^2 \cdot 3}$ ;    b)  $\frac{2 \cdot 3^2}{n}$ ;    c)  $\frac{10}{5n}$ .
5. Determină numărul natural  $n$  pentru care fracțiile următoare sunt echivalente: a)  $\frac{n+1}{3} = \frac{8}{6}$ ; b)  $\frac{5}{1} = \frac{n+1}{2}$ .



#### Fii campion!

6. Află numerele naturale  $x$  și  $y$ , știind că:  $\frac{5}{x} = \frac{y}{3}$ .
7. Determină numărul natural  $n$ , pentru care fracția  $\frac{3^n + 3^n \cdot 3^2}{2^n + 2^{n+1} + 3 \cdot 2^{n+2}}$  este echivalentă cu  $\frac{3}{2}$ .
8. Determină numerele naturale  $a$ ,  $b$ ,  $c$  pentru care fracțiile  $\frac{a+2}{10}$ ,  $\frac{b+1}{5}$ ,  $\frac{4}{c+3}$  sunt echivalente.



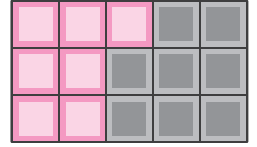
## 2. Compararea și reprezentarea pe axă a fracțiilor ordinare

### Compararea fracțiilor cu același numitor/numărător

✦ Ina și Dan împart o ciocolată în 15 bucăți egale. Ina ia 7 bucăți, iar Dan restul. Care dintre cei doi copii ia mai multă ciocolată?

Exprimăm sub formă de fracție:

Ina ia 7 părți din cele 15 părți egale, adică  $\frac{7}{15}$ , iar Dan ia restul de 8 părți, adică  $\frac{8}{15}$ . Ina are mai puține bucăți, deoarece  $7 < 8$ . Frația  $\frac{7}{15}$  este mai mică decât fracția  $\frac{8}{15}$ .



**la aminte și ține minte!**

- Dintre două fracții cu **același numitor**, este mai mică fracția cu numărătorul mai mic.

Dacă  $a, b, c$  sunt numere naturale și  $a < b$ , iar  $c \neq 0$ , atunci  $\frac{a}{c} < \frac{b}{c}$ ; altfel spus, dacă  $b > a$ , atunci  $\frac{b}{c} > \frac{a}{c}$ .

**Exemplu:** Comparăm fracțiile:  $\frac{4}{12}; \frac{5}{12}; \frac{3}{12}$ . Cele trei fracții au același numitor. Comparăm numărătorii, adică numerele 3, 4 și 5. În ordine crescătoare:  $3 < 4 < 5$ , de unde rezultă că:  $\frac{3}{12} < \frac{4}{12} < \frac{5}{12}$ .

În ordine descrescătoare:  $5 > 4 > 3$ , de unde rezultă că:  $\frac{5}{12} > \frac{4}{12} > \frac{3}{12}$ .

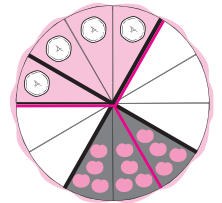
**5+**

**Aplică ce ai învățat!**

1. Ordonează crescător fracțiile: a)  $\frac{4}{5}, \frac{2}{5}, \frac{5}{5}$ ; b)  $\frac{3}{7}, \frac{5}{7}, \frac{6}{7}, \frac{2}{7}$ ; c)  $\frac{8}{15}, \frac{6}{15}, \frac{10}{15}, \frac{5}{15}, \frac{7}{15}$ .
2. Bianca a citit  $\frac{5}{3}$  ore, s-a plimbat cu bicicleta  $\frac{4}{3}$  ore și a lucrat temele pentru școală  $\frac{6}{3}$  ore. Care activitate a durat cel mai mult? Dar cel mai puțin?

✦ Ina și Dan decorează cu fructe un tort. Ina decorează o pătrime din tort cu cireșe, iar Dan decorează o treime din tort cu banane. Este mai mare bucata de tort decorată cu banane sau cea decorată cu cireșe?

Se observă că bucata de tort decorată cu banane este mai mare. Scriem  $\frac{1}{3} > \frac{1}{4}$  sau  $\frac{1}{4} < \frac{1}{3}$ .



**la aminte și ține minte!**

- Dintre două fracții cu **același numărător**, este mai mare fracția cu numitorul mai mic.

Dacă  $a, b, c$  sunt numere naturale și  $b \neq 0, c \neq 0, b < c$ , atunci  $\frac{a}{b} > \frac{a}{c}$ ; altfel spus, dacă  $c > b$ , atunci  $\frac{a}{c} < \frac{a}{b}$ .

**Exemplu:** Comparăm fracțiile:  $\frac{2}{3}; \frac{2}{6}$  și  $\frac{2}{4}$ . Cele trei fracții au același numărător. Comparăm numitorii, adică numerele 3, 6 și 4. În ordine crescătoare:  $3 < 4 < 6$ , de unde rezultă că:  $\frac{2}{3} > \frac{2}{4} > \frac{2}{6}$ .

În ordine descrescătoare:  $6 > 4 > 3$ , de unde rezultă că:  $\frac{2}{6} < \frac{2}{4} < \frac{2}{3}$ .

**5+**

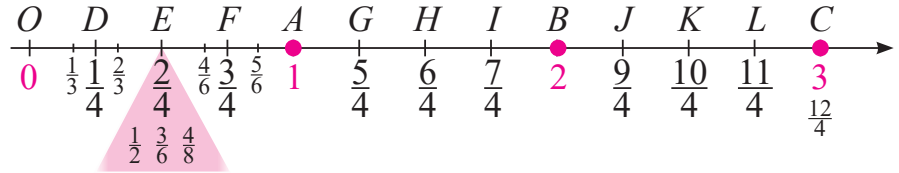
**Aplică ce ai învățat!**

1. Ordonează descrescător fracțiile:
  - a)  $\frac{5}{4}, \frac{5}{2}, \frac{5}{5}$ ;
  - b)  $\frac{7}{3}, \frac{7}{5}, \frac{7}{6}, \frac{7}{2}$ ;
  - c)  $\frac{15}{8}, \frac{15}{16}, \frac{15}{10}, \frac{15}{5}, \frac{15}{7}$ .

2. La un concurs de matematică, din toate problemele propuse, Dan rezolvă corect  $\frac{3}{5}$ , Mihai  $\frac{3}{4}$ , iar Alin  $\frac{3}{6}$ . Care dintre cei trei băieți rezolvă corect cele mai multe probleme? Dar cele mai puține?

## Reprezentarea pe axa numerelor a unei fracții ordinare

Până acum am învățat despre puncte ce au coordonatele numere naturale. Cu ajutorul fracțiilor putem să atribuim coordonate pe axă pentru mai multe puncte.



Pentru axa de mai sus,  $O$  este punctul de pornire (originea), iar segmentul  $OA$  este unitatea de măsură. Segmentul  $OD$  este o pătrime din segmentul  $OA$ . Asociem punctului  $D$  coordonata  $\frac{1}{4}$ . Invers, fracția  $\frac{1}{4}$  îi corespunde punctul  $D$  situat la distanța de o pătrime din unitatea de măsură, față de punctul  $O$  etc.

**Atenție!** • Cu cât punctul este mai departe de origine, fracția ce reprezintă coordonata punctului este mai mare! De exemplu, punctul  $E$  este mai depărtat de punctul  $O$  decât punctul  $D$ , iar  $\frac{2}{4} > \frac{1}{4}$ .

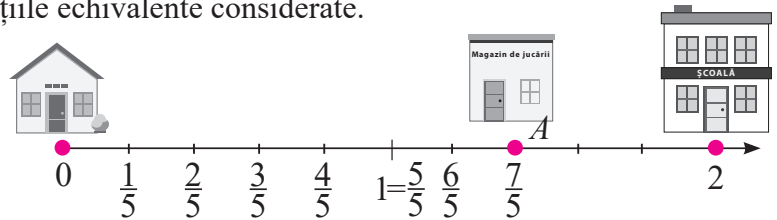
Observăm că segmentul  $OE$  este o doime din unitatea  $OA$ . Astfel, punctul  $E$  are coordonata  $\frac{1}{2}$ . Același segment  $OE$  este trei șesimi din unitatea  $OA$ . Deoarece punctului  $E$  îi corespunde un singur număr pe axă, numit *coordonata aceluși punct*, rezultă că  $\frac{2}{4}$ ,  $\frac{1}{2}$  și  $\frac{3}{6}$  sunt fracții echivalente.



### la aminte și ține minte!

- Reprezentarea pe axă a unei fracții ordinare  $\frac{a}{b}$ , cu  $a$  și  $b$  numere naturale și  $b \neq 0$ , se face astfel: împărțim unitatea de măsură în  $b$  părți egale și numărăm, începând din origine,  $a$  părți. Obținem un punct pe axă ce are coordonata  $\frac{a}{b}$ .
- Pentru două sau mai multe fracții echivalente, pe axă corespunde același punct. Coordonata acestui punct se exprimă prin oricare dintre fracțiile echivalente considerate.

**Exemplu:** Distanța dintre casa Anei și școala unde învață este de două unități de măsură. În punctul  $A$ , ce se află pe dreapta ce unește locuința Anei de școală, se află un magazin de jucării. Dacă magazinul este la distanța de  $\frac{7}{5}$  din drum față de casa Anei, reprezentăm prin desen acest punct.



### 5+ Aplică ce ai învățat!

1. Pe axa numerelor, reprezintă fracțiile:  $\frac{3}{8}$ ,  $\frac{7}{8}$ ,  $\frac{11}{8}$ ,  $\frac{18}{8}$ . Observă, apoi, depărtarea punctelor de pe axă față de origine și scrie fracțiile două câte două folosind semnele „<“ sau „>“.

2. Pe axa numerelor reprezintă fracția  $\frac{2}{3}$ . Scrie, apoi, coordonata acestui punct printr-o fracție echivalentă cu  $\frac{2}{3}$  ce are: a) numitorul egal cu 6; b) numărătorul egal cu 8.



Lucrează în echipă!

R	U	F	Ă	A	C	N	E	M	I	Ț
$\frac{2}{9}$	$\frac{2}{3}$	$\frac{1}{9}$	$\frac{2}{6}$	$\frac{3}{9}$	$\frac{5}{9}$	$\frac{2}{2}$	$\frac{8}{9}$	$\frac{2}{4}$	$\frac{7}{9}$	$\frac{6}{9}$

- a) Reprezentați pe axa numerelor fracțiile ce au același numitor și scrieți literele din tabel corespunzătoare coordonatelor punctelor desenate. Citiți cuvântul format din aceste litere.  
 b) Reprezentați pe axa numerelor fracțiile ce au același numărător și reprezentați coordonatele punctelor notate cu literele ce le corespund în tabel. Citiți cuvântul format din aceste litere, de la dreapta spre stânga.



Exersează!

## Exerciții și probleme

- Ordonează crescător fracțiile:  $\frac{1}{2}$ ;  $\frac{1}{4}$ ;  $\frac{1}{3}$ ;  $\frac{1}{5}$ ;  $\frac{1}{10}$ ;  $\frac{1}{7}$ .
- Marina a citit  $\frac{13}{8}$  ore și s-a jucat  $\frac{13}{10}$  ore. Ce activitate a durat mai mult?
- Folosind reprezentarea pe axa numerelor a unei fracții ordinare, află numerele naturale  $n$ , astfel încât:  
 a)  $\frac{9}{4} < \frac{n}{4} < \frac{13}{4}$ ;    b)  $\frac{2}{5} < \frac{2}{n} < \frac{2}{2}$ .
- La o cursă de alergare cu obstacole, în primul minut, Cristian a parcurs  $\frac{5}{8}$  din traseu, iar Alina a parcurs  $\frac{3}{8}$  din același traseu. Cine a parcurs o parte mai mare din traseu: Alina sau Cristian?
- Precizează pentru fiecare propoziție dacă este adevărată sau falsă:  
 a)  $\frac{19}{20} < \frac{20}{20}$ ;    b)  $\frac{1}{15} > \frac{1}{18}$ ;    c)  $\frac{11}{11} < \frac{11}{9}$ ;    d)  $\frac{7}{8} < \frac{9}{8}$ .
- Reprezintă pe axa numerelor punctele care au coordonatele:  
 a)  $\frac{7}{10}$ ;  $\frac{2}{10}$ ;  $\frac{9}{10}$ ;  $\frac{1}{10}$  și  $\frac{10}{10}$ ;    b)  $\frac{2}{2}$ ;  $\frac{2}{3}$ ;  $\frac{2}{6}$ ;  $\frac{2}{12}$ .



Poți fi mai bun!

- Ordonează fracțiile: a)  $\frac{2^3 \cdot 3^2}{15}$ ;  $\frac{4^2 \cdot 2^2}{15}$ ;  $\frac{3^4 \cdot 4^0}{15}$ , descrescător; b)  $\frac{7}{2^2 \cdot 5^2}$ ;  $\frac{7}{3^2 \cdot 4^2}$ ;  $\frac{7}{1^2 \cdot 6^2}$ , crescător.
- Află numerele naturale  $n$  pentru care  $\frac{n+3}{12} < \frac{5}{12}$ .
- Află numerele naturale de forma  $\overline{xy}$  pentru care: a)  $\frac{\overline{xy}}{1^2} < 12$ ;    b)  $\frac{\overline{xy} + \overline{yx}}{55} = 1$ ;    c)  $\frac{2^5 + 2^6}{2^6} < \frac{\overline{xy}}{4^3}$ .



Fii campion!

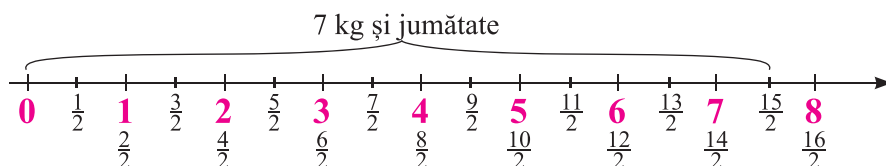
- Află numerele naturale  $a$ ,  $b$ ,  $c$ , știind că  $a + b + c = 3$ ,  $c \neq 0$  și  $\frac{a+2}{10} < \frac{b+1}{10} < \frac{b+1}{c+8}$ .
- Arată că  $\frac{\overline{abc} - \overline{ab}}{9} > \frac{\overline{ab} + c}{9}$ , unde  $a$ ,  $b$ ,  $c$  sunt numere naturale nenule.

### 3. Introducerea și scoaterea întregilor dintr-o fracție

#### Introducerea întregilor într-o fracție

Diana cumpără 7 kg și jumătate de mere și le ambalează în pungi de câte o jumătate de kilogram pentru a le oferi copiilor orfani. La câți copii poate Diana să ofere câte o pungă cu mere?

Pentru a calcula numărul de pungi ce vor conține câte o jumătate de kg de mere, Diana reprezintă pe axa numerelor cantitatea totală de mere; apoi împarte fiecare unitate în câte două părți egale.



Diana observă că, în total, are 15 doimi, adică  $\frac{15}{2}$  și calculează astfel că 7 kg și jumătate reprezintă fracția  $\frac{15}{2}$ . Numărul de copii ce vor primi câte  $\frac{1}{2}$  kg de mere este egal cu 15.

Numărul ce reprezintă cantitatea de 7 kg și jumătate este format din 7 întregi și fracția  $\frac{1}{2}$ . Se notează  $7\frac{1}{2}$  și se poate scrie și sub forma fracției  $\frac{15}{2}$ . Observăm că:  $7\frac{1}{2} = \frac{15}{2} = \frac{7 \cdot 2 + 1}{2}$ .

Procedând astfel spunem că **am introdus întregii în fracție**.



#### la aminte și ține minte!

- Prin introducerea întregului sau întregilor în fracție, se obține o fracție supraunitară:
  - la **numărător** înmulțim numărul întregilor cu numitorul dat și rezultatul îl adunăm cu numărătorul dat;
  - la **numitor** păstrăm numitorul dat.
- Dacă  $a, m, n$  sunt numere naturale și  $n \neq 0$ , „ $a$  întregi și  $m$  supra  $n$ ” se scrie sub forma  $a\frac{m}{n}$ .

**Atenție!** •  $a\frac{m}{n} = \frac{a \cdot n + m}{n}$ .

**Exemple:** a)  $5\frac{3}{7} = \frac{5 \cdot 7 + 3}{7} = \frac{35 + 3}{7} = \frac{38}{7}$ ;      b)  $4\frac{5}{11} = \frac{4 \cdot 11 + 5}{11} = \frac{44 + 5}{11} = \frac{49}{11}$ .

5+

#### Aplică ce ai învățat!

1. Introdu întregii în fracție:

a)  $3\frac{1}{4}$ ;      b)  $15\frac{1}{2}$ ;      c)  $10\frac{12}{31}$ ;      d)  $6\frac{13}{100}$ ;      e)  $9\frac{1}{9}$ ;      f)  $25\frac{3}{5}$ ;      g)  $7\frac{11}{12}$ .

2. Compară, folosind unul dintre semnele „<”, „>”, „=”, astfel încât să obții enunțuri adevărate.

a)  $\frac{34}{6} ? 5\frac{4}{6}$ ;      b)  $\frac{18}{10} ? 2\frac{4}{7}$ ;      c)  $4\frac{2}{3} ? \frac{13}{3}$ ;      d)  $\frac{32}{5} ? 4\frac{11}{5}$ ;      e)  $9\frac{1}{5} ? \frac{37}{4}$

## Scoaterea întregilor dintr-o fracție

Dragoș oferă mamei un buchet de 33 de fire de trandafiri. Dorește apoi să împartă buchetul în mai multe vase de flori. Pune în fiecare vază câte 5 fire și observă că ultima vază conține un număr mai mic de trandafiri. Câte vase a câte 5 trandafiri a obținut și câte fire au rămas în ultima vază?



S-au format 6 buchețele a câte 5 trandafiri și a rămas un rest de 3 trandafiri pentru ultima vază.

Modelul matematic al acestui calcul este

$$33 = 5 \cdot 6 + 3.$$

Considerăm că fiecare vază reprezintă 1 întreg format din cinci cincimi (1 fir reprezintă o cincime). Obținem 6 întregi și 3 cincimi, ceea ce reprezintă 33 de cincimi.

Scriem  $\frac{33}{5} = 6\frac{3}{5}$ . Spunem că **am scos întregii din fracție**.

Pentru a găsi câți întregi sunt, am calculat de câte ori se cuprinde numitorul în numărător, adică am împărțit numărătorul la numitor și am calculat câtul și restul.



### la aminte și ține minte!

- Pentru a scoate întregii dintr-o fracție supraunitară împărțim numărătorul la numitor; câtul reprezintă numărul întregilor, iar dacă obținem și rest, acesta este numărătorul fracției subunitare ce are același numitor cu fracția dată.

- Dacă  $a$  și  $b$  sunt numere naturale,  $a > b$  și  $b \neq 0$ , avem

$$\frac{a}{b} = c\frac{r}{b}, \text{ unde } a = b \cdot c + r,$$

iar  $c$  și  $r$  sunt numere naturale și  $r < b$  ( $c$  este câtul și  $r$  este restul în împărțirea lui  $a$  la  $b$ ).

**! Atenție!** • Dacă  $a = b$ , fracția  $\frac{a}{b}$  este echiunitară, adică  $\frac{a}{b} = 1$ .

**Exemple:** Scoatem întregii din fracțiile: a)  $\frac{208}{13}$ ;  $208 : 13 = 16$ , adică  $\frac{208}{13} = 16$ ;

b)  $\frac{210}{13}$ ;  $210 = 16 \cdot 13 + 2$ , adică  $\frac{210}{13} = 16\frac{2}{13}$ .

5+

### Aplică ce ai învățat!

1. Scoate întregii din următoarele fracții:

$$\frac{7}{3}, \frac{35}{5}, \frac{54}{17}, \frac{134}{23}, \frac{4}{3}, \frac{5}{2}, \frac{7}{4}, \frac{8}{7}, \frac{11}{9}, \frac{23}{4}, \frac{36}{5}, \frac{51}{6}, \frac{54}{14}, \frac{124}{23}.$$

2. Se dau fracțiile: a)  $\frac{17}{5}$ ;  $\frac{12}{8}$ ;  $\frac{10}{5}$ ; b)  $\frac{110}{10}$ ;  $\frac{135}{12}$ ;  $\frac{96}{9}$ ; c)  $\frac{54}{6}$ ,  $\frac{65}{6}$ ,  $\frac{101}{9}$ .

Scoate întregii din fracții și apoi ordonează crescător fracțiile de la punctul a) și descrescător fracțiile de la punctul b).



### Exersează!

1. Introdu întregii în fracție:


$$1\frac{1}{3}, \quad 2\frac{4}{7}, \quad 3\frac{4}{7}, \quad 6\frac{2}{5}, \quad 10\frac{3}{11}, \quad 5\frac{2}{20}, \quad 10\frac{3}{25}, \quad 12\frac{1}{100}, \quad 18\frac{13}{90}, \quad 105\frac{21}{15}, \quad 51\frac{16}{415}.$$

2. Scoate întregii din fracțiile:

$$\frac{25}{3}, \quad \frac{15}{10}, \quad \frac{50}{8}, \quad \frac{175}{20}, \quad \frac{625}{42}, \quad \frac{1025}{14}, \quad \frac{2135}{120}.$$

3. Reprezintă prin desene adecvate câte trei fracții din exercițiile 1 și 2.

4. Într-o ladă sunt  $20\frac{1}{2}$  kg de mere, în altă ladă sunt  $10\frac{1}{5}$  kg de pere și în a treia ladă sunt  $23\frac{3}{4}$  kg de prune. Exprimă cantitatea de kilograme din fiecare ladă printr-o fracție supraunitară.



5. Fie fracția  $2\frac{\overline{3x}}{4}$ , unde numărul  $\overline{3x}$  este divizibil cu 10. Află cifra  $x$  și apoi introdu întregii în fracție.

6. Compară, folosind unul dintre semnele: „<”, „>”, „=”, astfel încât să obții enunțuri adevărate. Pentru compararea fracțiilor date, scoate întâi întregii din fracție.

a)  $\frac{35}{3}$  și  $11\frac{1}{3}$ ;      b)  $\frac{21}{10}$  și  $2\frac{1}{7}$ ;      c)  $4\frac{1}{5}$  și  $\frac{22}{5}$ ;      d)  $6\frac{2}{9}$  și  $\frac{55}{9}$ .

7. Un călător a parcurs în prima zi  $\frac{11}{2}$  km, a doua zi  $\frac{26}{5}$  km și a treia zi  $\frac{51}{10}$  km. În ce zi a parcurs cea mai mare distanță și în a câta zi a parcurs cea mai mică distanță?



### Poți fi mai bun!

8. Fie fracția  $\frac{\overline{1x3}}{14}$ . Dacă numărul  $\overline{1x3}$  este divizibil cu 3 și este mai mic decât 130, află cifra  $x$  și apoi scoate întregii din fracție.

9. Află numărul  $\overline{xyz}$ , știind că  $14\frac{18}{31} = \frac{\overline{xyz}}{31}$ .

10. Compară fracțiile  $\frac{2023}{2018}$  și  $\frac{2022}{2017}$ .

*Indicație:* Scoate întregii din fracții și compară fracțiile subunitare obținute.

## 4. Amplificarea și simplificarea fracțiilor. Frații ireductibile

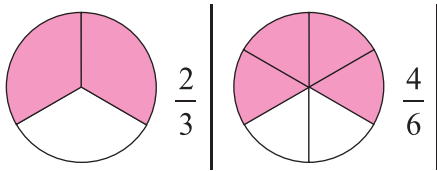
### Amplificarea fracțiilor

La finalul unei competiții sportive între grupe de câte 4 elevi, profesorul premiază grupa câștigătoare cu două ciocolate identice și 3 prăjituri cu vișine, identice. Cum împart în mod egal cei 4 elevi premiul primit? Elevii împart fiecare ciocolată și fiecare prăjitură în câte 4 părți egale și obțin:

- 8 bucăți egale de ciocolată;  $\frac{8}{4} = 2$ ; astfel, fiecare elev primește 2 pătrimi dintr-o ciocolată.
- 12 bucăți egale de prăjitură;  $\frac{12}{4} = 3$ ; astfel, fiecare elev primește 3 pătrimi dintr-o prăjitură.

**Să observăm!** Pentru fiecare dintre fracțiile  $\frac{2}{1}$  și  $\frac{3}{1}$  dacă înmulțim și numărătorul și numitorul cu 4 obținem fracții echivalente:  $\frac{2}{1} = \frac{2 \cdot 4}{1 \cdot 4} = \frac{8}{4}$  și  $\frac{3}{1} = \frac{3 \cdot 4}{1 \cdot 4} = \frac{12}{4}$ .

Să privim următoarele desene:



Dacă înmulțim și numărătorul și numitorul fracției  $\frac{2}{3}$  cu 2 obținem fracții echivalente:  $\frac{2}{3} = \frac{2 \cdot 2}{3 \cdot 2} = \frac{4}{6}$ .



la aminte și ține minte!

- **A amplifica o fracție** înseamnă a-i înmulți și numărătorul și numitorul cu același număr natural diferit de zero.
- Dacă  $a$ ,  $b$  și  $n$  sunt numere naturale și  $b \neq 0$ ,  $n \neq 0$ , amplificăm fracția  $\frac{a}{b}$  cu  $n$  și obținem fracția echivalentă  $\frac{a \cdot n}{b \cdot n}$ .

Scriem  $\overset{n)}{\frac{a}{b}} = \frac{a \cdot n}{b \cdot n}$ . Notăția  $\overset{n)}{\frac{a}{b}}$  înseamnă **amplificarea cu  $n$  a fracției  $\frac{a}{b}$** .

**Exemplu:** Folosind amplificarea, scrie fracțiile echivalente cu  $\frac{2}{9}$  care au numărătorii mai mici decât 9.

$\overset{2)}{\frac{2}{9}} = \frac{2 \cdot 2}{9 \cdot 2} = \frac{4}{18}$ ;  $\overset{3)}{\frac{2}{9}} = \frac{2 \cdot 3}{9 \cdot 3} = \frac{6}{27}$ ;  $\overset{4)}{\frac{2}{9}} = \frac{2 \cdot 4}{9 \cdot 4} = \frac{8}{36}$ . Dacă amplificăm cu 5 obținem  $\overset{5)}{\frac{2}{9}} = \frac{2 \cdot 5}{9 \cdot 5} = \frac{10}{45}$ , iar

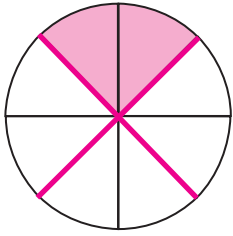
$10 > 9$ . Frațiile ce îndeplinesc condiția de numărător mai mic decât 9 sunt:  $\frac{4}{18}$ ;  $\frac{6}{27}$ ;  $\frac{8}{36}$ .

5+

Aplică ce ai învățat!

1. Amplifică pe rând cu 2, 3, 5 și 10 fiecare dintre fracțiile:  $\frac{3}{5}$ ;  $\frac{7}{8}$ ;  $\frac{11}{13}$ ;  $\frac{10}{7}$ ;  $\frac{50}{49}$ ;  $\frac{0}{10}$ ;  $\frac{29}{1}$ .
2. Folosind amplificarea, scrie fracțiile echivalente cu  $\frac{5}{7}$  care au numitorul mai mic sau egal cu 42.

## Simplificarea fracțiilor. Frații ireductibile



Teo împarte un tort la 4 copii. El taie tortul în 8 bucăți și oferă fiecărui copil câte două bucăți.

Observăm că se putea împărți tortul în 4 bucăți mai mari și fiecare copil ar fi primit o bucată egală ca și cantitate cu cele două bucăți.

$$\frac{2}{8} = \frac{1}{4}; \quad \frac{2}{8} = \frac{2:2}{8:2} = \frac{1}{4}.$$

Observăm că, dacă împărțim și numărătorul și numitorul unei fracții cu un divizor comun al lor, obținem o fracție echivalentă cu fracția dată.



**la aminte și ține minte!**

- Pentru a **simplifica o fracție** împărțim și numărătorul și numitorul cu un divizor comun al lor.
- Dacă  $a$ ,  $b$  și  $n$  sunt numere naturale,  $b \neq 0$ ,  $n \neq 0$ ,  $n \neq 1$  și  $n$  este un divizor comun pentru numerele  $a$  și  $b$ , simplificăm fracția  $\frac{a}{b}$  cu  $n$  și obținem fracția echivalentă  $\frac{a:n}{b:n}$ .

Scriem  $\frac{a^{(n)}}{b} = \frac{a:n}{b:n}$       Notația  $\frac{a^{(n)}}{b}$  înseamnă simplificarea cu  $n$  a fracției  $\frac{a}{b}$ .

- Dacă numărătorul și numitorul nu au un divizor comun diferit de 1, fracția nu se poate simplifica; în acest caz ea se numește **fracție ireductibilă**.

**Exemplu:** Considerăm fracția  $\frac{10}{20}$ . Divizorii lui 10, diferiți de 1 sunt: 2, 5, 10, iar divizorii lui 20, diferiți de 1, sunt: 2, 4, 5, 10, 20.

Divizorii comuni, diferiți de 1, ai lui 10 și 20 sunt; 2, 5, 10.

Fracția  $\frac{10}{20}$  poate fi simplificată cu oricare dintre aceste trei numere.

$$\frac{10^{(2)}}{20} = \frac{5}{10}; \quad \frac{10^{(5)}}{20} = \frac{2}{4}; \quad \frac{10^{(10)}}{20} = \frac{1}{2}.$$

Fracția  $\frac{1}{2}$  nu se mai poate simplifica; 1 și 2 nu au divizori comuni diferiți de 1;  $\frac{1}{2}$  este fracție ireductibilă.

**5+**

**Aplică ce ai învățat!**

1. Simplifică fracțiile: a)  $\frac{25}{35}$ ; b)  $\frac{111}{300}$ ; c)  $\frac{38}{60}$ ; d)  $\frac{40}{96}$ ; e)  $\frac{186}{48}$ ; f)  $\frac{405}{35}$ .
2. Scrie fracțiile inițiale, știind că, după amplificarea cu 2, s-au obținut fracțiile: a)  $\frac{6}{18}$ ; b)  $\frac{22}{140}$ .
3. Scrie cinci fracții ireductibile care au numitorul 12.
4. Vlad s-a gândit la o fracție și după ce a amplificat-o a obținut  $\frac{30}{36}$ . La ce fracție s-ar fi putut gândi? Găsește toate posibilitățile!





### Exersează!

1. Amplifică fracțiile:  $\frac{2}{3}$ ;  $\frac{3}{5}$ ;  $\frac{7}{8}$ ;  $\frac{5}{6}$ ;  $\frac{10}{11}$ ;  $\frac{14}{101}$ ;  $\frac{231}{1001}$  cu: a) 2; b) 3; c) 5; d) 10; e) 11; f) 100.

2. Cu ce număr trebuie să amplificăm fracția  $\frac{4}{5}$  pentru a obține:

a)  $\frac{8}{10}$ ;      b)  $\frac{12}{15}$ ;      c)  $\frac{32}{40}$ ;      d)  $\frac{40}{50}$ ;      e)  $\frac{44}{55}$ ;      f)  $\frac{48}{60}$ ;      g)  $\frac{400}{500}$ .

3. Simplifică fracțiile:

a)  $\frac{4}{16}$ ;  $\frac{8}{12}$ ;  $\frac{10}{38}$ ;  $\frac{14}{100}$ ;  $\frac{100}{150}$  cu 2;      b)  $\frac{6}{9}$ ;  $\frac{15}{12}$ ;  $\frac{27}{30}$ ;  $\frac{102}{123}$ ;  $\frac{270}{372}$  cu 3;  
c)  $\frac{25}{60}$ ;  $\frac{15}{55}$ ;  $\frac{35}{80}$ ;  $\frac{100}{85}$ ;  $\frac{200}{195}$  cu 5;      d)  $\frac{7}{14}$ ;  $\frac{21}{28}$ ;  $\frac{14}{63}$ ;  $\frac{210}{91}$ ;  $\frac{175}{658}$  cu 7.

4. Simplifică următoarele fracții până se obțin fracții ireductibile:

$$\frac{12}{16}; \frac{32}{24}; \frac{15}{120}; \frac{35}{70}; \frac{100}{200}; \frac{65}{130}; \frac{96}{64}; \frac{2010}{360}; \frac{2400}{7200}; \frac{27}{225}; \frac{33}{88}; \frac{105}{225}; \frac{300}{400}.$$



### Poți fi mai bun!

5. Simplifică următoarele fracții până se obțin fracții ireductibile:

$$\frac{2 \cdot 3 \cdot 7}{3 \cdot 49}; \frac{2^3 \cdot 3^2}{2^4 \cdot 3}; \frac{3+4}{14}; \frac{32-12}{10}; \frac{3^{12} \cdot 2^{15}}{3^{12} \cdot 2^{13}}; \frac{49^{25}}{(7^4)^{13}}; \frac{81^{10}}{27^{12}}; \frac{48-18}{18}; \frac{48+8}{8}.$$

6. Simplifică fracțiile:

a)  $\frac{3^{101}}{3^{101} + 3^{102}}$ ;      b)  $\frac{7^{10} + 2 \cdot 7^{11} + 3 \cdot 7^{12}}{12 \cdot 7^{10}}$ ;      c)  $\frac{2+4+6+\dots+160}{3+6+9+\dots+240}$ ;      d)  $\frac{5+10+15+\dots+100}{4+8+12+\dots+80}$ .

7. Află cel mai mic număr natural  $a$  pentru care fracțiile sunt ireductibile:

a)  $\frac{12}{a+13}$ ;      b)  $\frac{a+18}{6}$ ;      c)  $\frac{15}{a+17}$ ;      d)  $\frac{6}{a+2}$ .



### Fii campion!

8. Determină numerele naturale  $x$  pentru care:

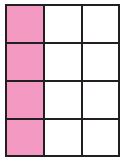
a)  $\frac{\overline{1x7}}{27}$  se simplifică cu 3;      b)  $\frac{6}{4x}$  este ireductibilă;      c)  $\frac{10}{2x}$  se simplifică cu 5.

9. Simplifică fracțiile:

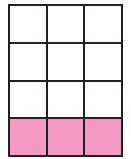
a)  $\frac{\overline{xy} + \overline{yx}}{x+y}$ ;      b)  $\frac{\overline{abc} + \overline{bca} + \overline{cab}}{a+b+c}$ ;      c)  $\frac{\overline{abc} + \overline{bca} + \overline{cab}}{xyz + yzx + zxy}$ .

## 5. Aducerea fracțiilor la un numitor comun

Oana pregătește pizza „Party“ pentru prietene sale. Vor fi la masă 3 sau 4 fete. Pentru a împărți pizza în porții egale, o taie într-un număr de părți care să fie divizibil și cu 3 și cu 4. Pentru a servi o porție cât mai mare, alege cel mai mic multiplu comun al numerelor 3 și 4. Acesta este 12.



Dacă vor fi 3, fiecare va servi o treime,  $\frac{1}{3} = \frac{4}{12}$ ; fiecare va avea 4 părți din cele 12.



Dacă vor fi 4, fiecare va servi o pătrime, iar  $\frac{1}{4} = \frac{3}{12}$ ; fiecare va avea 3 părți din cele 12.

Cum a gândit Oana? A găsit multiplii comuni ai numerelor 3 și 4 adică 12, 24, 36 și așa mai departe. Pentru a tăia în porții cât mai mari a ales cel mai mic multiplu comun al numerelor 3 și 4. Acesta este 12.

A obținut  $\frac{4}{12}$ , respectiv  $\frac{3}{12}$ . A adus fracțiile  $\frac{1}{3}$  și  $\frac{1}{4}$  la un numitor comun și anume la cel mai mic numitor comun. Frația  $\frac{1}{3}$  a amplificat-o cu 4 și a obținut  $\frac{4}{12}$ , iar fracția  $\frac{1}{4}$  a amplificat-o cu 3 și a obținut  $\frac{3}{12}$ .

**Atenție!** • Putem lucra și cu un alt multiplu comun, care nu este cel mai mic, de exemplu 24.

$$24 = 8 \cdot 3; \text{ fracția } \frac{1}{3} \text{ o amplificăm cu } 8 \text{ și obținem } \overset{8)}{1} = \frac{8 \cdot 1}{8 \cdot 3} = \frac{8}{24}.$$

$$24 = 6 \cdot 4; \text{ fracția } \frac{1}{4} \text{ o amplificăm cu } 6 \text{ și obținem } \overset{6)}{1} = \frac{6 \cdot 1}{6 \cdot 4} = \frac{6}{24}.$$

Am adus fracțiile  $\frac{1}{3}$  și  $\frac{1}{4}$ , la un numitor comun 24 și am obținut  $\frac{8}{24}$  și  $\frac{6}{24}$ .

De regulă, este mai bine să lucrăm cu cel mai mic numitor comun, pentru a face calcule cu numere mai mici. Probabilitatea de a greși la calcul este astfel mai mică.



la aminte și ține minte!

- Pentru a aduce două sau mai multe fracții la același numitor, procedăm astfel:
  - ♦ aflăm *numitorul comun*, care, de regulă, este cel mai mic multiplu comun al numitorilor fracțiilor date;
  - ♦ amplificăm fiecare fracție cu câtul obținut la împărțirea dintre numitorul comun aflat și numitorul fracției.
- Dacă unul dintre numitori este multiplu al celorlalți, el va fi numitorul comun.
- Dacă singurul divizor comun al numitorilor este 1, numitorul comun este egal cu produsul numitorilor.

**Exemplu:** Aducem la același numitor fracțiile  $\frac{10}{12}$ ,  $\frac{7}{10}$ ,  $\frac{6}{45}$ . Simplificăm:  $\frac{10^{(2)}}{12} = \frac{5}{6}$ ,  $\frac{6^{(3)}}{45} = \frac{2}{15}$ .

Se obțin fracțiile ireductibile  $\frac{5}{6}$ ,  $\frac{7}{10}$ ,  $\frac{2}{15}$ . Cel mai mic numitor comun este egal cu 30 (c.m.m.m.c. al numerelor 6, 10 și 15 este 30). Obținem fracțiile:  $\overset{5)}{5} = \frac{25}{30}$ ,  $\overset{3)}{7} = \frac{21}{30}$ ,  $\overset{2)}{2} = \frac{4}{30}$ . Frațiile  $\frac{25}{30}$ ,  $\frac{21}{30}$  și  $\frac{4}{30}$  care au același numitor.

5+

Aplică ce ai învățat!

1. Adu fracțiile următoare la cel mai mic numitor comun: a)  $\frac{2}{3}, \frac{1}{4}, \frac{7}{12}$ ; b)  $\frac{4}{5}, \frac{3}{4}, \frac{5}{6}$ .

Pentru fiecare dintre subpunctele de mai sus, compară fracțiile și scrie-le în ordine crescătoare.

2. Simplifică fracțiile  $\frac{36}{72}, \frac{39}{45}, \frac{52}{78}$  ca să obții fracții ireductibile! Adu-le la același numitor.

## Exerciții și probleme


 Exersează!

1. Adu la același numitor fracțiile: a)  $\frac{1}{2}$  și  $\frac{1}{4}$ ; b)  $\frac{1}{4}$  și  $\frac{7}{12}$ ; c)  $\frac{2}{15}$  și  $\frac{4}{30}$ ; d)  $\frac{11}{20}$  și  $\frac{7}{60}$ ; e)  $\frac{5}{11}$  și  $\frac{3}{33}$ .
2. Adu la cel mai mic numitor comun fracțiile:
- a)  $\frac{1}{6}$  și  $\frac{1}{9}$ ;      b)  $\frac{2}{9}$  și  $\frac{4}{15}$ ;      c)  $\frac{3}{8}$  și  $\frac{5}{6}$ ;      d)  $\frac{1}{2}, \frac{1}{4}$  și  $\frac{1}{8}$ ;      e)  $\frac{2}{5}, \frac{3}{2}$  și  $\frac{7}{10}$ .
3. După simplificările posibile, adu la același numitor fracțiile:
- a)  $\frac{5}{20}$  și  $\frac{8}{80}$ ;      b)  $\frac{25}{275}$  și  $\frac{6}{44}$ ;      c)  $\frac{5}{55}, \frac{30}{110}$  și  $\frac{14}{121}$ .
4. Amplifică fracția  $\frac{3}{2}$ , astfel încât să obții o fracție cu numitorul 24.
5. Amplifică fracțiile  $\frac{6}{7}$  și  $\frac{7}{8}$ , astfel încât să obții patru perechi de fracții cu același numitor, mai mic decât 400.


 Poți fi mai bun!

6. Un părinte dorește să împartă o pizza și să dăruiască primului copil  $\frac{1}{3}$  din pizza, celui de al doilea copil  $\frac{1}{4}$  și celui de al treilea copil  $\frac{1}{6}$  din ea. În câte părți egale trebuie să împartă pizza pentru ca fiecare dintre cei trei copii să primească un număr întreg de părți. Câte părți primește fiecare?
7. Scrie toate fracțiile de forma  $\frac{21}{3a}$  care se simplifică cu 3. Simplifică aceste fracții și apoi adu-le la același numitor.
8. Adu la cel mai mic numitor comun fracțiile:  $\frac{3}{20}; \frac{7}{30}; \frac{11}{45}$ .
9. Două fracții ireductibile au cel mai mic numitor comun egal cu 30.
- a) Care dintre următoarele numere nu poate fi numitor pentru niciuna dintre cele două fracții: 2; 90; 15; 1; 0; 10; 14; 4? Justificați răspunsul!
- b) Care dintre următoarele numere poate fi numitorul comun al fracțiilor date: 1; 2; 40; 60; 45; 90; 500; 111000? Justificați răspunsul!


 Fii campion!

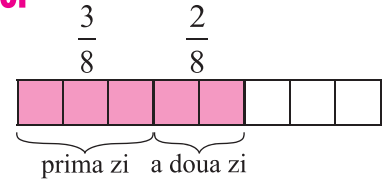
10. Adu la același numitor fracțiile:

a)  $\frac{5}{a^2+b^8}$  și  $\frac{4}{3a+3b+3}$ ;      b)  $\frac{15}{ab+bc+ca}$  și  $\frac{7}{a+b+c}$ ;      c)  $\frac{3+6+9+\dots+27}{4+8+12+\dots+36}$  și  $\frac{3^n+3^{n+1}}{3^{n+2}+3^{n+3}}$ .

## 6. Adunarea și scăderea fracțiilor

### Adunarea fracțiilor cu același numitor

Un biciclist parcurge  $\frac{3}{8}$  din drum în prima zi și  $\frac{2}{8}$  din drum a doua zi. Ce porțiuni din drum parcurge biciclistul în cele două zile?



Reprezentăm prin desenul alăturat datele problemei:

Observăm că în primele două zile au fost parcurse 5 optimi din drum. Cum am calculat?  $\frac{3}{8} + \frac{2}{8} = \frac{5}{8}$ .



**la aminte și ține minte!**

- Prin adunarea a două sau mai multe fracții cu același numitor obținem o fracție care are numărătorul egal cu suma numărătorilor și numitorul egal cu numitorul comun.

Fie  $a, b, c, d$  numere naturale și  $d \neq 0$ .

$$\frac{a}{d} + \frac{b}{d} = \frac{a+b}{d}$$

TERMENI      SUMĂ  
(total)

$$\frac{a}{d} + \frac{b}{d} + \frac{c}{d} = \frac{a+b+c}{d}$$

TERMENI      SUMĂ  
(total)

**Exemplu:**  $\frac{7}{12} + \frac{3}{12} + \frac{1}{12} = \frac{7+3+1}{12} = \frac{11}{12}$ .

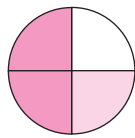
**5+**

**Aplică ce ai învățat!**

Calculează: a)  $\frac{1}{4} + \frac{3}{4}$ ;    b)  $\frac{1}{6} + \frac{2}{6} + \frac{7}{6}$ ;    c)  $\frac{6}{25} + \frac{7}{25} + \frac{8}{25} + \frac{4}{25}$ .

### Adunarea fracțiilor cu numitori diferiți

Mircea a mâncat jumătate dintr-un măr, iar Andreea un sfert din același măr. Ce parte din măr au mâncat, în total, cei doi copii?



$$\frac{1}{4} + \frac{1}{2} = \frac{1}{4} + \frac{2}{4} = \frac{3}{4} \text{ din măr.}$$



**la aminte și ține minte!**

- Pentru a aduna două sau mai multe fracții cu numitori diferiți, procedăm astfel:
  - aducem fracțiile la același numitor;
  - adunăm fracțiile obținute conform regulii de adunare a fracțiilor cu același numitor.

**Exemplu:**  $\frac{1}{3} + \frac{2}{5} + \frac{7}{15} = \frac{5}{15} + \frac{6}{15} + \frac{7}{15} = \frac{18}{15} = \frac{6}{5}$ .

- Operația de adunare a fracțiilor se reduce la adunarea unor numere naturale, deci proprietățile operației de adunare a numerelor naturale sunt adevărate și pentru adunarea fracțiilor!

**Exemplu:**  $\frac{3}{17} + \frac{4}{17} + \frac{9}{17} + 0 = \left(\frac{4}{17} + \frac{3}{17}\right) + \frac{9}{17} + 0 = \frac{7}{17} + \frac{9}{17} + 0 = \frac{16}{17} + 0 = \frac{16}{17}$ .

5+

Aplică ce ai învățat!

Calculează: a)  $\frac{1}{3} + \frac{1}{7}$ ;    b)  $\frac{2}{3} + \frac{3}{7} + \frac{4}{21}$ ;    c)  $\frac{4}{5} + 1 + \frac{2}{6}$ .

### Scăderea fracțiilor cu același numitor

Dacă un biciclist a parcurs în prima zi  $\frac{3}{8}$  din drum și a doua zi  $\frac{2}{8}$  din drum, pentru a calcula ce porțiune din drum mai are de parcurs, procedăm astfel:

★ Aflăm, cât a parcurs în total în primele două zile:  $\frac{3}{8} + \frac{2}{8} = \frac{5}{8}$

★ Aflăm, cât mai are de parcurs din drum (tot drum reprezintă un întreg, adică opt optimi) prin operația de scădere:  $1 - \frac{5}{8} = \frac{8}{8} - \frac{5}{8} = \frac{8-5}{8} = \frac{3}{8}$



la aminte și ține minte!

- Prin scăderea a două fracții cu același numitor obținem o fracție ce are numărătorul egal cu diferența numărătorilor și numitorul egal cu numitorul comun.

**Exemplu:**  $\frac{14}{11} - \frac{5}{11} = \frac{14-5}{11} = \frac{9}{11}$ .

- Fie  $a, b, c$  numere naturale cu  $a \geq b$  și  $c \neq 0$ .  $\frac{a}{c} - \frac{b}{c} = \frac{a-b}{c}$ .

5+

Aplică ce ai învățat!

Calculează: a)  $\frac{2}{5} - \frac{1}{5}$ ;    b)  $\frac{10}{3} - \frac{4}{3}$ ;    c)  $\frac{12}{9} - \frac{4}{9}$ ;    d)  $\frac{5}{12} - \frac{3}{12}$ ;    e)  $2\frac{1}{3} - 1\frac{2}{3}$ .

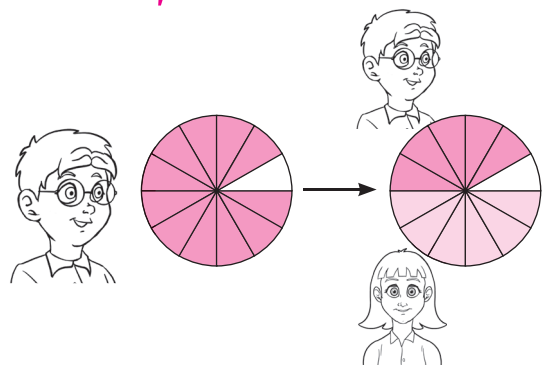
### Scăderea fracțiilor cu numitori diferiți

Radu primește  $\frac{11}{12}$  dintr-o portocală ce are 12 felii identice. El dorește să îi dea Alinei  $\frac{1}{2}$  din întreaga portocală.

Ce parte din portocală îi rămâne lui Radu?

Se observă că lui Radu i-au rămas 5 felii, adică  $\frac{5}{12}$  din portocală!

$$\frac{11}{12} - \frac{1}{2} = \frac{11}{12} - \frac{6}{12} = \frac{11-6}{12} = \frac{5}{12}$$



la aminte și ține minte!

- Pentru a scădea două fracții cu numitori diferiți, procedăm astfel:
  - ♦ aducem fracțiile la același numitor;
  - ♦ scădem fracțiile obținute conform regulii de scădere a fracțiilor cu același numitor.

**Exemplu:**  $\frac{2}{3} - \frac{2}{5} = \frac{10}{15} - \frac{6}{15} = \frac{10-6}{15} = \frac{4}{15}$ .

Efectuează: a)  $\frac{1}{2} - \frac{1}{3}$ ; b)  $\frac{2}{3} - \frac{1}{6}$ ; c)  $\frac{4}{5} - \frac{1}{10}$ ; d)  $\frac{5}{12} - \frac{5}{18}$ ; e)  $2 - \frac{3}{4}$ ; f)  $3 - \frac{6}{5}$ .

## Exerciții și probleme

### Adunarea fracțiilor

#### Exersează!

- Calculează: a)  $\frac{1}{3} + \frac{2}{3}$ ; b)  $\frac{1}{5} + \frac{2}{5} + \frac{3}{5}$ ; c)  $\frac{5}{36} + \frac{7}{36} + \frac{15}{36}$ ; d)  $\frac{10}{123} + \frac{5}{123}$ .
- Efectuează: a)  $\frac{1}{2} + \frac{2}{3}$ ; b)  $\frac{2}{3} + \frac{4}{5}$ ; c)  $\frac{2}{9} + \frac{5}{8}$ ; d)  $\frac{3}{11} + \frac{7}{10}$ ; e)  $\frac{5}{7} + \frac{3}{4}$ ; f)  $\frac{11}{9} - \frac{9}{10}$ ; g)  $\frac{13}{20} + \frac{21}{23}$ ;  
h)  $\frac{2}{13} + \frac{5}{26}$ ; i)  $\frac{7}{10} + \frac{13}{100}$ ; j)  $\frac{8}{25} + \frac{12}{50}$ ; k)  $\frac{9}{36} + \frac{5}{72}$ .
- Calculează, cât mai rapid, folosind proprietățile adunării:
  - $\frac{3}{4} + \frac{12}{4} + \frac{7}{4}$ ; b)  $\frac{54}{13} + \frac{9}{13} + \frac{6}{13} + \frac{21}{13}$ ; c)  $\frac{162}{26} + \frac{0}{85} + \frac{16}{26} + \frac{0}{110}$ .
- Dacă  $a = \frac{1}{2} + \frac{2}{3} + \frac{3}{4} + \frac{4}{5}$  și  $b = \frac{1}{2} + \frac{1}{3} + \frac{1}{4} + \frac{1}{5}$ , calculează  $a + b$ , fără a calcula efectiv numerele  $a$  și  $b$ .

Folosește proprietățile adunării.

#### Poți fi mai bun!

- Descompune într-o sumă de fracții cu același numitor:
  - $\frac{5+7}{9}$ ; b)  $\frac{13+17}{11}$ ; c)  $\frac{3+5+8}{14}$ ; d)  $\frac{22+32+42}{6}$ ; e)  $\frac{111+123+131}{9}$ .
- Scrive fracția  $\frac{6}{11}$  ca o sumă de:
  - două fracții cu numitorul 11; b) trei fracții cu numitorul 11; c) patru fracții cu numitorul 11.
 Câte posibilități sunt în fiecare caz?
- Calculează, aducând fracțiile la forma ireductibilă și grupând convenabil termenii.
  - $\frac{23}{69} + \frac{12}{36} + \frac{18}{54}$ ; b)  $\frac{10}{26} + \frac{18}{12} + \frac{24}{39} + \frac{5}{10}$ ;
  - $\frac{1 \cdot 2}{3 \cdot 4} + \frac{4 \cdot 3}{3^2 \cdot 5} + \frac{2 \cdot 3 \cdot 5}{2^2 \cdot 3^2}$ ; d)  $2\frac{6}{22} + 6\frac{8}{56} + 3\frac{80}{110}$ .
- Pentru fiecare rezolvare corectă, Cezara câștigă 5 puncte și pentru fiecare rezolvare greșită pierde 5 puncte. Rezolvă și tu și verifică rezolvările și rezultatele Cezarei. Explică ce a greșit și află numărul de puncte obținut de Cezara.
  - $\left(\frac{2}{3} + \frac{5}{3}\right) + \frac{7}{6} = \frac{14}{9}$ ; b)  $\frac{1}{5} + \frac{3}{10} + \frac{4}{15} = \frac{1}{2} + \frac{4}{15} = \frac{23}{30}$ ;
  - $\frac{1 \cdot 2}{2 \cdot 3} + \frac{3 \cdot 4}{4 \cdot 5} + \frac{5 \cdot 6}{6 \cdot 7} = \frac{1}{3} + \frac{3}{5} + \frac{5}{7} = \frac{1}{5} + \frac{5}{7} = \frac{32}{35}$ ; d)  $\frac{2^3 \cdot 3}{2^4 \cdot 3} + \frac{5^2 \cdot 6}{5 \cdot 18} + \frac{12}{36} = \frac{1}{6} + \frac{5}{3} + \frac{1}{3} = 2\frac{1}{6} = \frac{13}{6}$ .

**Fii campion!**

9. Calculează: a)  $\frac{2}{13} + \frac{4}{13} + \frac{6}{13} + \dots + \frac{104}{13}$ ; b)  $\frac{5}{41} + \frac{10}{41} + \frac{15}{41} + \dots + \frac{200}{41}$ .

10. Știind că  $a + b = 18$  și  $a \cdot b = 72$ , calculează:  $\frac{1}{a} + \frac{1}{b}$ .

**Exersează!****Scăderea fracțiilor**

1. Calculează: a)  $\frac{11}{10} - \frac{7}{10}$ ; b)  $\frac{12}{23} - \frac{4}{23}$ ; c)  $3\frac{4}{9} - 2\frac{8}{9}$ ; d)  $\frac{19}{35} - \frac{14}{35}$ .

2. Efectuează: a)  $\frac{1}{3} - \frac{1}{4}$ ; b)  $\frac{3}{7} - \frac{2}{5}$ ; c)  $\frac{3}{4} - \frac{2}{5}$ ; d)  $\frac{1}{3} - \frac{5}{24}$ ; e)  $\frac{1}{11} - \frac{2}{55}$ ;

f)  $\frac{2^0}{2^2 \cdot 3} - \frac{3^0}{3^2 \cdot 2}$ ; g)  $\frac{21}{3 \cdot 7^2} - \frac{46}{7^2 \cdot 23}$ ; h)  $1\frac{55}{33} - 1\frac{77}{66}$ ; i)  $2\frac{888}{777} - 2\frac{555}{999}$ .

3. Efectuează: a)  $\frac{11}{6} - \frac{1}{4} + \frac{2}{3} - \frac{3}{2}$ ; b)  $\frac{5}{4} + \frac{4}{7} - \frac{3}{14} - \frac{5}{28}$ ; c)  $3\frac{1}{2} + 4 - \frac{13}{14} - 2 + 1\frac{3}{7}$ .

**Poți fi mai bun!**

4. Ina a cumpărat  $2\frac{1}{4}$  m de stofă, Ana a cumpărat  $3\frac{1}{2}$  m de stofă și Diana a cumpărat cu  $1\frac{7}{10}$  m de stofă mai puțin decât Ana.

a) Câți metri de stofă a cumpărat Diana?

b) Cu câți metri de stofă a cumpărat mai mult Ana decât Ina?

c) Cu câți metri de stofă a cumpărat mai puțin Ana decât Ina și Diana la un loc?

5. O lădiță plină cu mere cântărește  $7\frac{1}{2}$  kg. Cât cântăresc merele, știind că lădița goală cântărește  $1\frac{1}{2}$  kg?

6. Într-un magazin, la deschidere, sunt 1 200 kg de zahăr. Pe parcursul zilei s-au vândut  $105\frac{3}{5}$  kg de zahăr. Ce cantitate de zahăr a rămas seara la închiderea programului?



7. Determină fracția: a) cu  $2\frac{1}{3}$  mai mare decât  $4\frac{1}{5}$ ;

b) cu  $\frac{5}{7}$  mai mică decât  $3 + 1\frac{1}{4}$ .

**Fii campion!**

8. Află numărul natural nenul  $x$ , știind că  $2\frac{x}{3} - 2 = \frac{5}{3}$ .

9. a) Arată că  $\frac{1}{1 \cdot 2} = \frac{1}{1} - \frac{1}{2}$ ;  $\frac{1}{2 \cdot 3} = \frac{1}{2} - \frac{1}{3}$ ;  $\frac{1}{3 \cdot 4} = \frac{1}{3} - \frac{1}{4}$  și  $\frac{1}{4 \cdot 5} = \frac{1}{4} - \frac{1}{5}$ .

b) Folosind relația de la punctul a), arată că  $\frac{1}{1 \cdot 2} + \frac{1}{2 \cdot 3} + \frac{1}{3 \cdot 4} + \frac{1}{4 \cdot 5} = \frac{4}{5}$ .

## 7. Înmulțirea și împărțirea fracțiilor. Puteri

### Înmulțirea unei fracții cu un număr natural

Un biciclist parcurge distanța de  $3\frac{1}{3}$  km într-o oră. Știind că își păstrează viteza constantă, cât parcurge el în 2 ore?

Pentru a afla distanța parcursă în 2 ore efectuăm înmulțirea:  $2 \cdot 3\frac{1}{3} = 2 \cdot \frac{7}{3}$ .

Deoarece înmulțirea este o adunare repetată, obținem:  $2 \cdot \frac{7}{3} = \frac{7}{3} + \frac{7}{3} = \frac{7+7}{3} = \frac{14}{3}$  km.

Deci  $2 \cdot \frac{7}{3} = \frac{2 \cdot 7}{3} = \frac{14}{3}$ .



**la aminte și ține minte!**

- Pentru a înmulți o fracție cu un număr natural, înmulțim numărul natural cu numărătorul fracției, iar numitorul rămâne același.

**Exemplu:**  $5 \cdot \frac{3}{4} = \frac{5 \cdot 3}{4} = \frac{3 \cdot 5}{4} = \frac{3}{4} \cdot 5 = \frac{15}{4}$ .



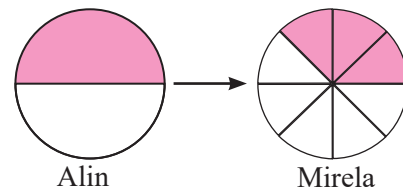
**5+** **Aplică ce ai învățat!**

Calculează: a)  $3 \cdot \frac{5}{7}$ ; b)  $7 \cdot \frac{3}{4}$ ; c)  $2 \cdot \frac{7}{8}$ ; d)  $\frac{2}{3} \cdot 10$ ; e)  $\frac{5}{6} \cdot 7$ ; f)  $14 \cdot \frac{5}{7}$ .

### Înmulțirea fracțiilor

Alin primește o jumătate dintr-o pizza și dorește să îi dea trei pătrimi din ceea ce a primit Mirelei. Ce parte din pizza primește Mirela?

Mirela primește trei optimi din pizza:  $\frac{1}{2} \cdot \frac{3}{4} = \frac{1 \cdot 3}{2 \cdot 4} = \frac{3}{8}$ .



**la aminte și ține minte!**

- Pentru a înmulți două fracții se înmulțesc numărătorii între ei și numitorii între ei.

- Fie  $a, b, c, d$  numere naturale și  $b \neq 0, c \neq 0$ .

$$\frac{a}{b} \cdot \frac{c}{d} = \frac{a \cdot c}{b \cdot d}$$

**Atenție!** • Înainte de a înmulți două sau mai multe fracții, este bine să se facă simplificări. Se poate simplifica orice numărător cu orice numitor!

**Exemple:** a)  $\frac{2}{3_1} \cdot \frac{6^2}{7} = \frac{2 \cdot 2}{1 \cdot 7} = \frac{4}{7}$ ; am simplificat numitorul 3 și numărătorul 6 cu 3; am tăiat cu o linie

oblică numerele 3 și 6 și am scris rezultatul împărțirilor la 3.

b)  $\frac{14^7}{15_3} \cdot \frac{10^2}{22_{11}} = \frac{7 \cdot 2}{3 \cdot 11} = \frac{14}{33}$ . Am simplificat 10 și 15 cu 5 și am obținut 2 și 3; am simplificat 14 și 22 cu 2 și am obținut 7 și 11.

- Toate proprietățile operației de înmulțire sunt valabile și pentru operația de înmulțire a fracțiilor.



**Exemple:** a)  $\frac{3}{4} \cdot 5 = 5 \cdot \frac{3}{4} = \frac{15}{4}$ ; b)  $\frac{3}{5} \cdot \frac{7}{8} = \frac{7}{8} \cdot \frac{3}{5} = \frac{21}{40}$ ; c)  $\frac{6}{7} \cdot 1 = 1 \cdot \frac{6}{7} = \frac{6}{7}$ ;

d)  $\frac{4}{6} \cdot \left(\frac{3}{4} \cdot \frac{7}{10}\right) = \left(\frac{4}{6} \cdot \frac{3}{4}\right) \cdot \frac{7}{10} = \frac{1}{2} \cdot \frac{7}{10} = \frac{7}{20}$ ; e)  $\frac{3}{7} \cdot \left(\frac{2}{5} + \frac{3}{4}\right) = \frac{3}{7} \cdot \frac{2}{5} + \frac{3}{7} \cdot \frac{3}{4}$ ; f)  $\frac{5}{4} \cdot \left(\frac{1}{3} - \frac{1}{2}\right) = \frac{5}{4} \cdot \frac{1}{3} - \frac{5}{4} \cdot \frac{1}{2}$

**5+**



Aplică ce ai învățat!

1. Efectuează: a)  $\frac{2}{5} + \frac{3}{4}$ ; b)  $\frac{3}{7} \cdot \left(\frac{2}{5} + \frac{3}{4}\right)$ ; c)  $\frac{3}{7} \cdot \frac{2}{5}$ ; d)  $\frac{3}{7} \cdot \frac{3}{4}$ ; e)  $\frac{3}{7} \cdot \frac{2}{5} + \frac{3}{7} \cdot \frac{3}{4}$ . Ce observi?

2. Arată că  $\frac{5}{4} \cdot \left(\frac{1}{3} - \frac{1}{2}\right) = \frac{5}{4} \cdot \frac{1}{3} - \frac{5}{4} \cdot \frac{1}{2}$ .

## Ridicarea la putere a fracțiilor

Debitul unui robinet este de  $\frac{2}{3}$  l într-un minut. Ce cantitate de apă colectăm în  $\frac{2}{3}$  minute?

1 minut  $\rightarrow$    $\rightarrow \frac{2}{3}$  l       $\frac{2}{3}$  minute  $\rightarrow$    $\rightarrow \frac{4}{9}$  l

$\frac{2}{3} \cdot \frac{2}{3} = \frac{2 \cdot 2}{3 \cdot 3} = \frac{2^2}{3^2} = \frac{4}{9}$ . Dar  $\frac{2}{3} \cdot \frac{2}{3} = \left(\frac{2}{3}\right)^2 \Rightarrow \left(\frac{2}{3}\right)^2 = \frac{2^2}{3^2}$ .



la aminte și ține minte!

- Pentru a ridica o fracție la putere, ridicăm și numitorul și numărătorul la acea putere.
  - Fie  $a$  și  $b$  numere naturale și  $b \neq 0$ .
- $$\left(\frac{a}{b}\right)^n = \frac{a^n}{b^n}.$$

**Exemplu:**  $\left(\frac{3}{5}\right)^4 = \frac{3^4}{5^4} = \frac{81}{625}$ .

**Atenție!** • Dacă  $a$  și  $b$  sunt numere naturale nenule, atunci  $\left(\frac{a}{b}\right)^0 = 1$  ( $a^0 = 1$ ;  $b^0 = 1$ ).

**Exemple:**  $\left(\frac{2}{7}\right)^0 = 1$ ;  $\left(\frac{3}{100}\right)^0 = 1$ ;  $\left(\frac{123}{1024}\right)^0 = 1$ .

- Ridicarea la putere a fracțiilor se face folosind ridicarea la putere a numerelor care formează fracția. Regulile de calcul cu puteri învățate la numere naturale sunt adevărate și la fracții!

Dacă  $a, b, c, d, m, n$  sunt numere naturale oarecare,  $b \neq 0, c \neq 0$ , atunci:

✧  $\left(\frac{a}{b}\right)^m \cdot \left(\frac{a}{b}\right)^n = \left(\frac{a}{b}\right)^{m+n}$ ;

**Exemplu:**  $\left(\frac{2}{3}\right)^2 \cdot \left(\frac{2}{3}\right)^3 = \left(\frac{2}{3}\right)^5$ .

✧  $\left(\frac{a}{b}\right)^m : \left(\frac{a}{b}\right)^n = \left(\frac{a}{b}\right)^{m-n}$ ,  $m \geq n$ ;

**Exemplu:**  $\left(\frac{4}{5}\right)^7 : \left(\frac{4}{5}\right)^4 = \left(\frac{4}{5}\right)^3$ .

✧  $\left[\left(\frac{a}{b}\right)^m\right]^n = \left(\frac{a}{b}\right)^{m \cdot n}$ ;

**Exemplu:**  $\left[\left(\frac{3}{4}\right)^2\right]^5 = \left(\frac{3}{4}\right)^{10}$ .

✧  $\left(\frac{a}{b} \cdot \frac{c}{d}\right)^n = \left(\frac{a}{b}\right)^n \cdot \left(\frac{c}{d}\right)^n$ .

**Exemplu:**  $\left(\frac{2}{3} \cdot \frac{4}{5}\right)^3 = \left(\frac{2}{3}\right)^3 \cdot \left(\frac{4}{5}\right)^3$ .

5+

Aplică ce ai învățat!

1. Calculează:  $\left(\frac{3}{4}\right)^3$ ;  $\left(\frac{3}{4}\right)^2$ ;  $\left(\frac{5}{6}\right)^3$ ;  $\left(\frac{2}{3}\right)^5$ ;  $\left(\frac{1}{2}\right)^6$ ;  $\left(\frac{7}{5}\right)^4$ ;  $\left(2\frac{1}{3}\right)^2$ ;  $\left(3\frac{1}{2}\right)^3$ .

2. Scrie sub forma unei puteri: a)  $\left(\frac{2}{3}\right)^5 \cdot \left(\frac{2}{3}\right)^4$ ; b)  $\left(\frac{5}{7}\right)^8 : \left(\frac{5}{7}\right)^6$ ; c)  $\left[\left(\frac{5}{7}\right)^2\right]^3$ ; d)  $\left(\frac{4}{5}\right)^6 \cdot \left(\frac{7}{8}\right)^6$ ; e)  $\left[\left(\frac{2^2 \cdot 3}{3 \cdot 5}\right)^3\right]^{20}$ .

## Inversa unei fracții

Crina și Alex formează fracții folosind numerele 2 și 3. Crina scrie fracția  $\frac{2}{3}$ , iar Alex fracția  $\frac{3}{2}$ . Împreună observă că cele două fracții au numărătorul și numitorul schimbați între ei. Spun că fracția  $\frac{2}{3}$  este inversa fracției  $\frac{3}{2}$  sau fracția  $\frac{3}{2}$  este inversa fracției  $\frac{2}{3}$ . Observă că produsul celor două fracții este egal cu 1;  $\frac{2}{3} \cdot \frac{3}{2} = 1$ .

la aminte și ține minte!

- Pentru a inversa o fracție schimbăm numărătorul și numitorul între ei.
- Fie  $a, b$  numere naturale nenule.

✧ Inversa fracției  $\frac{a}{b}$  este fracția  $\frac{b}{a}$ .      ✧ Inversul numărului natural  $a$  este  $\frac{1}{a}$ .

- Produsul dintre o fracție și inversa ei este egal cu 1.  $\frac{a}{b} \cdot \frac{b}{a} = 1$ ;  $a \cdot \frac{1}{a} = 1$ .

## Împărțirea a două fracții

Înălțimea unui brad este  $\frac{43}{4}$  m, iar a unui pin este  $\frac{43}{8}$  m. De câte ori este mai înalt bradul decât pinul?

Observăm că bradul are 43 de pătrimi, iar pinul are 43 de optimi. O pătrime are două optimi, ceea ce înseamnă că bradul are  $43 \cdot 2 = 86$  de optimi. Bradul este de 2 ori mai înalt decât pinul. ( $86 : 43 = 2$ ).

Ce observăm dacă împărțim înălțimea bradului la înălțimea pinului? Obținem:  $\frac{43}{4} : \frac{43}{8} = 2$ .

Calculăm  $\frac{43}{4} \cdot \frac{8}{43}$  și obținem rezultatul egal tot cu 2. Astfel,  $\frac{43}{4} : \frac{43}{8} = \frac{43}{4} \cdot \frac{8}{43} = 2$ .

la aminte și ține minte!

- Pentru a împărți două fracții se înmulțește prima fracție cu inversa celei de-a doua fracții.
- Fie  $a, b, c, d$  numere naturale și  $b \neq 0, c \neq 0, d \neq 0$ .  

$$\frac{a}{b} : \frac{c}{d} = \frac{a}{b} \cdot \frac{d}{c}$$

**Exemple:** a)  $\frac{2}{3} : \frac{5}{7} = \frac{2}{3} \cdot \frac{7}{5} = \frac{14}{15}$ ; b)  $\frac{3}{4} : \frac{9}{4} = \frac{3}{4} \cdot \frac{4}{9} = \frac{1}{3}$ ; c) pentru a afla o fracție de 4 ori mai

mică decât fracția  $\frac{3}{5}$ , efectuăm operația de împărțire și obținem  $\frac{3}{5} : 4 = \frac{3}{5} \cdot \frac{1}{4} = \frac{3}{20}$ .

5+

Aplică ce ai învățat!

Calculează: a)  $\frac{5}{2} : \frac{5}{7}$ ; b)  $\frac{6}{10} : \frac{11}{5}$ ; c)  $\frac{4}{9} : \frac{7}{3}$ ; d)  $\frac{8}{15} : \frac{11}{12}$ ; e)  $\frac{5}{11} : \frac{13}{5}$ .

## Exerciții și probleme

### Înmulțirea fracțiilor. Ridicarea la putere a fracțiilor



#### Exersează!

1. Calculează: a)  $\frac{3}{5} \cdot \frac{2}{3}$ ; b)  $\frac{3}{5} \cdot \frac{9}{6}$ ; c)  $\frac{4}{6} \cdot \frac{6}{8}$ ; d)  $\frac{11}{12} \cdot \frac{24}{33}$ ; e)  $\frac{9}{11} \cdot 2\frac{3}{4}$ ; f)  $7\frac{1}{8} \cdot 2\frac{2}{3}$ ; g)  $\frac{4}{9} \cdot \frac{11}{7} \cdot \frac{25}{10}$ .

2. Un tractor ară zilnic  $5\frac{3}{4}$  ha. Câte hectare ară acest tractor în 12 zile?

3. Un muncitor sapă  $\frac{9}{2}$  m de șanț într-o oră. Câți metri va săpa în  $\frac{3}{4}$  ore?

4. Calculează:  $\left(\frac{5}{6}\right)^2$ ;  $\left(\frac{7}{3}\right)^3$ ;  $\left(\frac{5}{4}\right)^4$ ;  $\left(1\frac{2}{3}\right)^3$ ;  $\left(\frac{7}{11}\right)^0$ ;  $\left(2\frac{1}{2}\right)^4$ ;  $\left(\frac{11}{12}\right)^2$ .



#### Poți fi mai bun!

5. Află fracția de  $\frac{11}{12}$  ori mai mare decât fracția  $\frac{36}{88}$ .

6. Ce cantitate de grâu se recoltează de pe o suprafață de  $6\frac{2}{3}$  ha, știind că producția de grâu la hectar este de  $\frac{10}{3}$  t?

7. Efectuează: a)  $\left(\frac{48}{2^4 \cdot 3}\right)^{25}$ ; b)  $\left(\frac{2^3 \cdot 5 \cdot 7}{2^2 \cdot 35 \cdot 6}\right)^4$ ; c)  $\left(\frac{18 \cdot 4}{2^3 \cdot 3^2}\right)^{72}$ ; d)  $\left[\left(\frac{313}{314}\right)^{1996}\right]^0$ .



#### Fii campion!

9. Cu ce fracție trebuie înmulțită fracția  $\frac{202}{3636}$  pentru a obține  $\left(\frac{1}{2}\right)^2$ ?

10. Află numărul natural  $n$ , astfel încât egalitatea  $\left(\frac{1}{7} \cdot \frac{7}{35} \cdot \frac{140}{700} \cdot \frac{7}{10} \cdot \frac{10^2}{2^2}\right)^n = \frac{1}{100}$  să fie adevărată.

### Împărțirea fracțiilor



#### Exersează!

1. Calculează: a)  $\frac{2}{3} : \frac{4}{9}$ ; b)  $\frac{1}{8} : \frac{3}{4}$ ; c)  $\frac{3}{5} : \frac{2}{5}$ ; d)  $\frac{7}{2} : \frac{1}{4}$ ; e)  $\frac{12}{5} : 3$ ; f)  $\frac{77}{27} : \frac{33}{12}$ ; g)  $7\frac{2}{10} : \frac{18}{25}$ ; h)  $\frac{9}{12} : 2\frac{9}{18}$ .

2. Efectuează: a)  $\frac{3}{7} : \frac{4}{3} : \frac{9}{14}$ ; b)  $\frac{2}{5} : \frac{3}{7} : \frac{4}{3}$ ; c)  $5 : \left(\frac{3}{10} : \frac{9}{2}\right)$ ; d)  $\left(\frac{2}{3} : 6\right) : \left(\frac{1}{5} : \frac{3}{10}\right)$ ; e)  $4 : \left(\frac{1}{2} : \frac{1}{8}\right) : \left(\frac{2}{5} : \frac{4}{5}\right)$ .



#### Poți fi mai bun!

3. Află fracția care este de 2 ori mai mică decât sfertul lui  $\frac{8}{7}$ .

4. Efectuează:  $\frac{1}{2} : \frac{3}{2} : \frac{4}{3} : \frac{5}{4} : \frac{6}{5} : \frac{7}{6}$ .



#### Fii campion!

5. De câte ori este fracția  $\frac{3 \cdot 7^n + 7^{n+1}}{7^{n+1} + 5 \cdot 7^{n+2}}$  mai mare decât fracția  $\frac{5 \cdot 3^{n+1} - 2 \cdot 3^n}{3^{n+1} + 4 \cdot 3^{n+2}}$ ?

6. Determină cel mai mic număr natural nenul  $n$  pentru care numărul  $N = n \cdot a \cdot b$  este pătratul unui număr natural, știind că  $\frac{a}{b} = \frac{3}{5}$ , unde  $a$  și  $b$  sunt numere naturale nenule.

## 8. Frații/procente dintr-un număr natural sau dintr-o fracție ordinară

### Aflarea unei fracții dintr-un număr natural

Răzvan rezolvă  $\frac{3}{4}$  din cele 20 de probleme ce le are ca temă la matematică în vacanța de vară. Câte probleme a rezolvat Răzvan?

O pătrime din cele 20 de probleme este egală cu  $20 : 4 = 5$  probleme. Pentru a afla 3 pătrimi înmulțim rezultatul cu 3. Obținem  $5 \cdot 3 = 15$  probleme rezolvate.

$$\text{Scriem } (20 : 4) \cdot 3 = \frac{20}{4} \cdot 3 = 5 \cdot 3 = 15.$$



**! Atenție!** • Știm că  $\frac{20}{4} \cdot 3$  reprezintă înmulțirea fracției cu un număr natural.

$$\text{Astfel, } \frac{20 \cdot 3}{4} = \frac{3 \cdot 20}{4} = \frac{3}{4} \cdot 20^5 = 15.$$



#### la aminte și ține minte!

- Pentru a afla o fracție dintr-un număr natural ce este multiplu al numitorului fracției, se poate rezolva în două moduri:

Se împarte numărul natural la numitorul fracției și rezultatul obținut se înmulțește cu numărătorul fracției.

$$\text{Exemplu: } \frac{5}{6} \text{ din } 30 = (30 : 6) \cdot 5 = 5 \cdot 5 = 25.$$

Se înmulțește fracția cu numărul natural și se simplifică atât numărătorul, cât și numitorul cu numărul ce reprezintă numitorul fracției.

$$\text{Exemplu: } \frac{5}{6} \text{ din } 30 = \frac{5}{6} \cdot 30 = 25.$$

Oricare dintre cele două moduri de rezolvare folosim, rezultatul este un număr natural.

- Pentru a afla o fracție dintr-un număr natural ce nu este multiplu al numitorului fracției, se înmulțește fracția cu numărul natural.

$$\text{Exemplu: } \frac{5}{3} \text{ din } 7 = \frac{5}{3} \cdot 7 = \frac{5 \cdot 7}{3} = \frac{35}{3}.$$

În acest caz, rezultatul este o fracție.

În concluzie, în general:

- Pentru a afla o fracție dintr-un număr, se înmulțește fracția cu numărul.

- Fie  $a, b, c$  numere naturale și  $b \neq 0$ .

Aflăm fracția  $\frac{a}{b}$  din  $c$ , astfel:  $\frac{a}{b} \cdot c$ .

5+

#### Aplică ce ai învățat!

Calculează:

- a)  $\frac{5}{2}$  din 12;    b)  $\frac{3}{4}$  din 13;    c)  $\frac{7}{3}$  din 11;    d)  $\frac{11}{6}$  din 12.

## Aflarea unui procent dintr-un număr natural

Din totalul de 28 de elevi ai clasei a V-a A, procentul de 75% reprezintă numărul fetelor. Câte fete sunt în clasa a V-a A?

Aflăm 75% din 28, adică  $\frac{75}{100}$  din 28. Obținem  $\frac{75}{100} \cdot 28 = 21$  de fete.



**la aminte și ține minte!**

- Pentru a afla un procent dintr-un număr natural, se înmulțește fracția reprezentată de procent cu numărul.

Fie  $p$  și  $a$  numere naturale.

$$p\% \text{ din } a = \frac{p}{100} \cdot a.$$

**Exemple:** a) Calculăm 17% din 200 astfel  $\frac{17}{100} \cdot 200 = 34$ ;

b) Calculăm 16% din 18 astfel  $\frac{16}{100} \cdot 18 = \frac{72}{25}$ .

**5+**

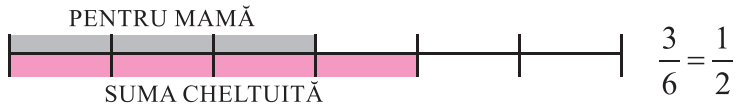
**Aplică ce ai învățat!**

Calculează: a) 25% din 16;    b) 22% din 45;    c) 70% din 80;    d) 92% din 300.

## Aflarea unei fracții/unui procent dintr-o fracție ordinară

Roxana cheltuie  $\frac{2}{3}$  din banii economisiți pentru a cumpăra cadouri de Paște părinților. Cadoul mamei reprezintă  $\frac{3}{4}$  din suma cheltuită. Ce parte din banii economisiți a cheltuit pentru cadoul mamei?

Calculăm  $\frac{3}{4}$  din  $\frac{2}{3}$ .



$\frac{3}{4} \cdot \frac{2}{3} = \frac{1}{2}$ , adică o jumătate din banii economisiți de Roxana îi dă pe cadoul mamei.



**la aminte și ține minte!**

- Pentru a afla o fracție dintr-o altă fracție, se înmulțesc cele două fracții.

Fie  $a, b, c, d$  numere naturale și  $b \neq 0, d \neq 0$ .

$$\frac{a}{b} \text{ din } \frac{c}{d} = \frac{a}{b} \cdot \frac{c}{d}.$$

**Exemplu:**  $\frac{5}{6}$  din  $\frac{1}{4}$  este  $\frac{5}{6} \cdot \frac{1}{4} = \frac{5}{24}$ .

- Pentru a afla un procent dintr-o fracție, se înmulțește fracția reprezentată de procent cu fracția dată.

Fie  $a, b, p$  numere naturale și  $b \neq 0$ .

$$p\% \text{ din } \frac{a}{b} = \frac{p}{100} \cdot \frac{a}{b}.$$

**Exemplu:** 13% din  $\frac{9}{5} = \frac{13}{100} \cdot \frac{9}{5} = \frac{117}{500}$ .

**5+**

**Aplică ce ai învățat!**

- Calculează: a)  $\frac{3}{2}$  din  $\frac{15}{4}$ ;    b)  $\frac{4}{5}$  din  $\frac{7}{12}$ ;    c)  $\frac{8}{7}$  din  $\frac{14}{15}$ ;    d)  $\frac{4}{9}$  din  $\frac{36}{5}$ .
- Calculează: a) 12% din  $\frac{3}{8}$ ;    b) 23% din  $\frac{13}{12}$ ;    c) 54% din  $\frac{16}{9}$ ;    d) 112% din  $\frac{3}{5}$ .

## Exerciții și probleme



### Exersează!

1. Reprezintă prin desene: a)  $\frac{3}{2}$  din 6; b)  $\frac{5}{4}$  din  $\frac{3}{8}$ ; c)  $\frac{4}{5}$  din 10; d)  $\frac{2}{5}$  din  $\frac{3}{2}$ .
2. Calculează: a)  $\frac{4}{7}$  din 21 m; b)  $\frac{7}{10}$  din 1000 lei; c)  $\frac{3}{5}$  din 500 kg.
3. Calculează: a) 50% din 100; b) 25% din 60 și din 324; c) 20% din 75, din  $\frac{225}{4}$  și din  $\frac{412}{3}$ .



### Poți fi mai bun!

4. Din cei 30 elevi ai unei clase,  $\frac{3}{5}$  sunt fete. Câte fete și câți băieți sunt în clasă?
5. Marius a cheltuit 75% din 1 000 lei. Ce sumă i-a rămas?
6. Filip și Rareș rezolvă, fiecare, următoarea problemă: „Un lot agricol are 150 ha. În prima zi s-au arat trei cincimi din lot, iar a doua zi o treime din rest. Câte ha au fost arate în total?”  
Răspunsul lui Filip este: 140 ha.  
El a rezolvat astfel:  $\frac{3}{5} + \frac{1}{3} = \frac{9+5}{15} = \frac{14}{15}$ ;  $\frac{14}{15}$  din 150 ha =  $\frac{14}{15} \cdot 150 = 140$  ha.  
Răspunsul lui Rareș este: 110 ha.  
El a rezolvat astfel:  $\frac{3}{5} + \frac{2}{3} = \frac{3}{5} + \frac{2}{3} = \frac{9+2}{15} = \frac{11}{15}$ ;  $\frac{11}{15}$  din 150 =  $\frac{11}{15} \cdot 150 = 110$  ha.  
Cine are dreptate și cine a greșit? Justificați răspunsul!
7. Un autocar are de parcurs 1 500 km. În prima zi a parcurs  $\frac{2}{5}$  din drum, iar a doua zi jumătate din rest. Câți kilometri au rămas de parcurs?
8. Într-o livadă sunt 120 de pomi. 30% dintre ei sunt pruni, 25% sunt meri, iar restul sunt cireși. Câți pomi de fiecare tip sunt în livadă?



### Fii campion!

9. Fie numerele  $a = \frac{2}{9} + \frac{3}{12} + \dots + \frac{1003}{3012}$ ,  $b = \frac{3}{9} + \frac{4}{12} + \dots + \frac{1004}{3012}$ ,  $c = \frac{4}{9} + \frac{5}{12} + \dots + \frac{1005}{3012}$ . Calculează o treime din suma numerelor  $a$ ,  $b$  și  $c$ .
10. O fabrică de zahăr prelucrează într-o zi 50 000 kg de sfeclă. Din cantitatea de sfeclă se pierde 5% prin spălare, 2% prin strivire, iar din ce rămâne, se obține 20% zahăr. Calculează cantitatea de zahăr obținută în 10 zile.
11. La un magazin de jucării s-au adus mingi verzi, roșii, galbene și albastre. Numărul mingilor verzi este un sfert din celelalte, cele roșii sunt o treime din celelalte, cele galbene sunt jumătate din celelalte. Determină câte mingi s-au adus din fiecare, știind că numărul mingilor albastre este cu 1 mai mare decât numărul mingilor verzi.
12. „Cazarea la hotel pentru trei nopți are prețuri cuprinse între ..... euro/persoană pe noapte și ..... euro/persoană pe noapte. Familiile cu doi copii beneficiază de o reducere de .....% pentru fiecare copil. Calculează un preț minim și un preț maxim pe care îl poate plăti familia la cazare.”  
Completează enunțul cu date bine alese și apoi rezolvă problema.

## B. Frații zecimale

### 1. Scrierea, citirea și transformarea fracțiilor zecimale

Mihai, curios din fire, o întreabă pe Ana, ce înălțime are. Ana îi spune că înălțimea ei este de 1,58 m. Răspunsul Anei îl nedumerește pe Mihai și îi mai pune o întrebare: „Ce număr este acesta?” Ana îi spune cu mare convingere: „Fii atent și vei înțelege!”

#### Scrierea și citirea fracțiilor zecimale

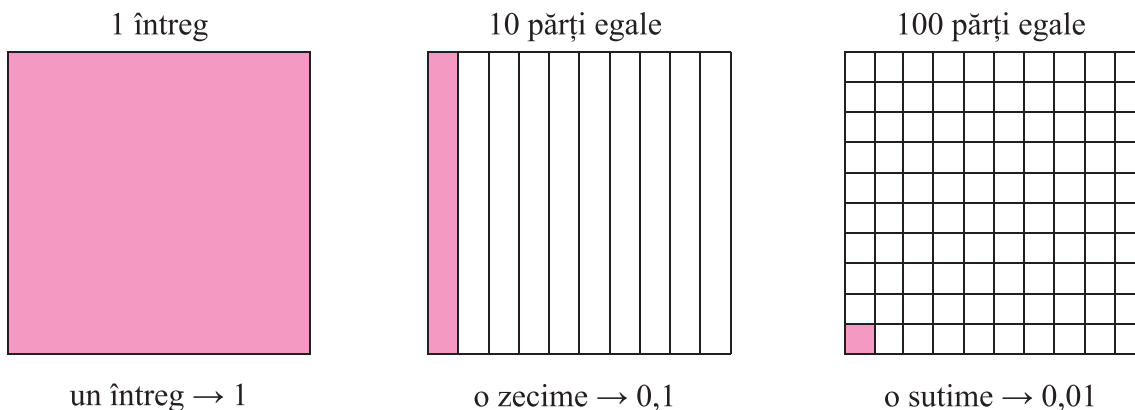


la aminte și ține minte!

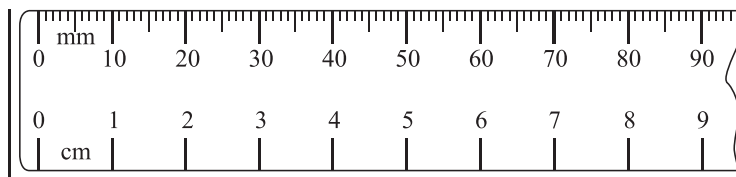
- Pentru scrierea fracțiilor zecimale folosim următoarele:

◇ o zecime se scrie  $\frac{1}{10}$  sau 0,1; ◇ o sutime se scrie  $\frac{1}{100}$  sau 0,01; ◇ o miime se scrie  $\frac{1}{1000}$  sau 0,001.

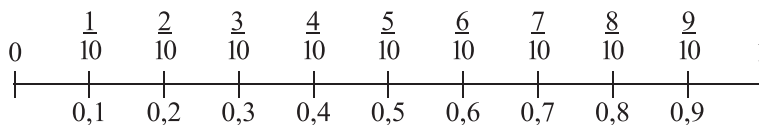
Putem avea următoarea reprezentare:



- Avem o riglă gradată. Gradațiile depind de unitatea de măsură aleasă.



- Dacă luăm ca unitate de măsură decimetrul obținem:



*Observații:*

a) 1 cm este o zecime dintr-un decimetru. Scriem  $1 \text{ cm} = \frac{1}{10} \text{ dm} = 0,1 \text{ dm}$ .

b) 1 mm este o zecime dintr-un centimetru. Scriem  $1 \text{ mm} = \frac{1}{10} \text{ cm} = 0,1 \text{ cm}$ .

c) 1 mm este o sutime dintr-un decimetru. Scriem  $1 \text{ mm} = \frac{1}{100} \text{ dm} = 0,01 \text{ dm}$ .

**Exemple:** Scriem și citim:  $\frac{2}{10} = 0,2$ , două zecimi;  $\frac{3}{10} = 0,3$ , trei zecimi;  $\frac{2}{100} = 0,02$ , două sutimi;  $\frac{2}{1000} = 0,002$ , două miimi;  $\frac{25}{10} = 2,5$ , doi întregi și cinci zecimi;  $\frac{25}{100} = 0,25$ , zero întregi și douăzeci și cinci de sutimi;  $\frac{1241}{100} = 12,41$ , doisprezece întregi și patruzeci și unul de sutimi.

Observăm că putem scrie:  $12,41 = 1 \cdot 10 + 2 \cdot 1 + 4 \cdot \frac{1}{10} + \frac{1}{100} = \frac{1000 + 200 + 40 + 1}{100} = \frac{1241}{100}$ .

Așadar,  $12,41 = \frac{1241}{100}$  și  $\frac{1241}{100} = 12,41$ .

5+

Aplică ce ai învățat!

1. Copiază și completează următorul tabel, având ca model prima linie:

șapte sute treizeci și două de sutimi	$\frac{732}{100}$	$7 + \frac{3}{10} + \frac{2}{100} = 7 + \frac{32}{100}$	7,32	șapte întregi și treizeci și două de sutimi
	$\frac{2017}{1000}$			
		$25 + \frac{0}{10} + \frac{8}{100} + \frac{3}{1000}$		
	$\frac{15}{10}$			
	$\frac{27}{100}$			
	$\frac{104}{10}$			

2. Folosind:  $\frac{1}{10} = 0,1 =$  o zecime;  $\frac{1}{100} = 0,01 =$  o sutime;  $\frac{1}{1000} = 0,001 =$  o miime, scrie și citește următoarele fracții:  $\frac{3}{10}$ ;  $\frac{112}{100}$ ;  $\frac{1421}{1000}$ ;  $\frac{93}{100}$ ;  $\frac{1001}{1000}$ ;  $\frac{71}{10}$ ;  $\frac{102}{100}$ ;  $\frac{2}{1000}$ ;  $\frac{20}{100}$ ;  $\frac{8105}{1000}$ ;  $\frac{423}{100}$ ;  $\frac{9}{100}$ .

**Model:**  $\frac{112}{100} = 1,12$  și se citește 112 sutimi sau un întreg o zecime și 2 sutimi sau un întreg și 12 sutimi.

3.  $5 \text{ cm} = \frac{5}{100} \text{ m} = 0,05 \text{ m}$ ;  $5 \text{ dm} = \frac{5}{10} \text{ m} = 0,5 \text{ m}$ ;  $5 \text{ mm} = \frac{5}{1000} \text{ m} = 0,005 \text{ m}$ .

$5 \text{ m și } 2 \text{ dm} = 5 + \frac{2}{10} \text{ m} = 5,2 \text{ m}$ .

Exprimă în metri următoarele lungimi, folosind scrierile anterioare:

- a) 752 mm;      b) 35 cm;      c) 3 m și 5 dm;      d) 1 m și 3 cm;  
e) 2 m și 75 cm;      f) 12 m și 100 mm;      g) 1 m și 50 cm;      h) 2 m și 3 mm.



la aminte și ține minte!

• Sistemul zecimal este un *sistem pozițional*, fiecare ordin este  $\frac{1}{10}$  din valoarea ordinului imediat superior, poziționat dinainte, imediat la stânga acestuia.

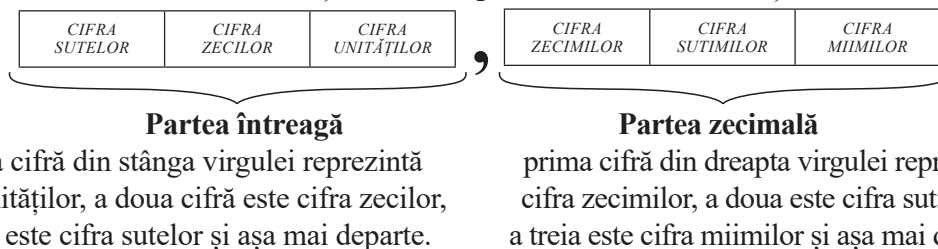


La scrierea numerelor naturale cifra unităților ocupă ultima poziție. La scrierea fracțiilor zecimale după cifra unităților urmează virgula, apoi cifra **zecimilor**, cifra **sutimilor**, cifra **miimilor** și așa mai departe.

Așadar, cifra unităților este despărțită de cifra zecimilor prin virgulă.

**Exemplu:**  $25,31 = 2 \text{ zeci} + 5 \text{ unități} + 3 \text{ zecimi} + 1 \text{ sutime} = 2 \cdot 10 + 5 \cdot 1 + 3 \cdot \frac{1}{10} + 1 \cdot \frac{1}{100}$ .

- Cifrele aflate la stânga virgulei formează **partea întregă** a fracției zecimale, iar cifrele aflate la dreapta virgulei sunt numite zecimale și formează **partea zecimală** a fracției zecimale.



- Dacă după virgulă există un număr finit de zecimale nenule (diferite de zero), atunci fracția se numește **fracție zecimală finită**.

**Exemple:** 0,1; 12,003; 1,705; 0,0000009; 1041,2938450001.

- Numerele naturale pot fi scrise cu virgulă:

$$1 = \frac{10}{10} = \frac{100}{100} = \frac{1000}{1000} = \dots; \quad 3 = \frac{30}{10} = \frac{300}{100} = \frac{3000}{1000} = \dots; \quad 70 = \frac{700}{10} = \frac{7000}{100} = \dots$$

$$1 = 1,0 = 1,00 = 1,000 = \dots; \quad 3 = 3,0 = 3,00 = 3,000 \dots; \quad 70 = 70,0 = 70,00 = \dots$$

- După ultima zecimală scrisă se pot adăuga zerouri. Ele sunt ne semnificative.

**Exemple:**  $\frac{5}{10} = \frac{50}{100} = \frac{500}{1000} = \dots; \quad 0,5 = 0,50 = 0,500 = \dots$

Așadar,  $\frac{2}{10} = 0,2$ ;  $\frac{2}{100} = 0,02$  (2 zecimale);  $\frac{2}{1000} = 0,002$  (3 zecimale);  $\frac{2}{10^4} = 0,0002$  (4 zecimale); ...  $\frac{2}{10^n} = 0,00\dots02$  (n zecimale).

$\frac{11}{10} = 1,1$ ;  $\frac{11}{100} = 0,11$  (2 zecimale);  $\frac{11}{1000} = 0,011$  (3 zecimale);  $\frac{11}{10^4} = 0,0011$  (4 zecimale); ...  $\frac{11}{10^n} = 0,00\dots011$  (n zecimale).

$\frac{901}{10} = 90,1$ ;  $\frac{901}{100} = 9,01$  (2 zecimale);  $\frac{901}{1000} = 0,901$  (3 zecimale);  $\frac{901}{10^4} = 0,0901$  (4 zecimale); ...  $\frac{901}{10^n} = 0,00\dots0901$  (n zecimale).



**la aminte și ține minte!**

- Orice fracție ordinară al cărei numitor este o putere a lui 10 se scrie ca fracție zecimală, astfel:
  - scriem numărul de la numărător;
  - scriem virgula peste tot atâtea cifre, cât arată exponentul puterii lui 10 (de la numitorul fracției), începând de la sfârșitul numărului, de la dreapta la stânga.

**Exemple:** a)  $\frac{15}{10} = 1,5$  (un zero, 0 zecimală); b)  $\frac{15}{100} = 0,15$  (2 zerouri, 2 zecimală) sau  $\frac{15}{10^2} = 0,15$  (2 zecimală); c)  $\frac{15}{1000} = \frac{15}{10^3} = 0,015$  (3 zerouri, 3 zecimală); d)  $\frac{15}{10^4} = 0,0015$  (4 zecimală); e)  $\frac{204}{10} = 20,4$  (un zero, 0 zecimală); f)  $\frac{204}{10^3} = 0,204$  (3 zecimală); g)  $\frac{204}{10^2} = 2,04$  (2 zecimală).

- Se știe că:  $10 = 2 \cdot 5$ ,  $100 = 10^2 = (2 \cdot 5)^2 = 2^2 \cdot 5^2$ ,  $1000 = 10^3 = (2 \cdot 5)^3 = 2^3 \cdot 5^3$ .

Orice fracție ireductibilă al cărei numitor este o putere a lui 2 sau o putere a lui 5 sau o putere a lui 2 și 5, poate fi scrisă ca o fracție cu numitorul o putere a lui 10, așadar se scrie ca fracție zecimală finită.

**Exemple:** a)  $\frac{1}{2} = \frac{5}{10} = 0,5$ ; b)  $\frac{2}{5} = \frac{4}{10} = 0,4$ ; c)  $\frac{7}{4} = \frac{175}{100} = 1,75$ ; d)  $\frac{6}{30} = \frac{2}{10} = 0,2$ ;  
 e)  $\frac{3}{20} = \frac{15}{100} = 0,15$ ; f)  $\frac{3}{25} = \frac{12}{100} = 0,12$ ; g)  $\frac{1}{8} = \frac{125}{1000} = 0,125$ ; h)  $\frac{12}{40} = \frac{3}{10} = 0,3$ .

5+

Aplică ce ai învățat!

1. Scrie următoarele fracții zecimale:  
 a) șapte întregi și 2 zecimi; b) 3 zecimi; c) o zecime două sutimi șapte miimi;  
 d) 9 sutimi; f) 4 miimi; e) doisprezece întregi două zecimi și cinci sutimi.
2. Citește următoarele fracții zecimale:  
 1,25; 15,7; 0,605; 0,03; 4,725; 5,002; 10,102; 200,02; 1001,2; 57,32; 0,625; 21,27; 100,100.
3. Se dă fracția zecimală 201,096. Completează afirmațiile:  
 a) partea întreagă este .....; b) partea ..... este 0,096; c) cifra sutelor este ...;  
 d) cifra zecilor este ....; e) cifra unităților este ... f) cifra zecimilor este ...;  
 g) cifra sutimilor este ... h) cifra miimilor este ...
4. Scrie următoarele fracții ordinare sub formă de fracții zecimale:  
 a)  $\frac{6}{10}$ ; b)  $\frac{38}{10}$ ; c)  $\frac{45}{100}$ ; d)  $\frac{1901}{100}$ ; e)  $\frac{8}{100}$ ; f)  $\frac{721}{100}$ ; g)  $\frac{5}{1000}$ ; h)  $\frac{13}{100}$ ; i)  $\frac{107}{100}$ .
5. Scrie sub formă de fracții zecimale:  
 a)  $\frac{3}{2}$ ; b)  $\frac{7}{5}$ ; c)  $\frac{11}{4}$ ; d)  $\frac{2}{25}$ ; e)  $\frac{1}{20}$ ; f)  $\frac{8}{40}$ ; g)  $\frac{93}{16}$ ; h)  $\frac{49}{5}$ ; i)  $\frac{231}{20}$ .

### Transformarea unei fracții zecimale cu un număr finit de zecimale nenule în fracție ordinară



la aminte și ține minte!

- Transformăm o fracție zecimală finită în fracție ordinară astfel:  
 ✦ la numărător scriem numărul format din toate cifrele, în ordinea scrierii lor, de la stânga la dreapta, fără virgulă;  
 ✦ la numitor scriem puterea lui 10 cu exponentul egal cu numărul de zecimale (cifrele de la dreapta virgulei).

**Exemple:** a)  $2,3 = \frac{23}{10}$ ; b)  $0,6 = \frac{6}{10}$ ; c)  $0,16 = \frac{16}{100}$ ; d)  $5,42 = \frac{542}{100}$ ; e)  $0,06 = \frac{6}{100}$ ;  
 f)  $0,302 = \frac{302}{1000}$ ; g)  $12,403 = \frac{12\ 403}{10^3}$ ; h)  $0,006 = \frac{6}{1000} = \frac{6}{10^3}$ .

5+

Aplică ce ai învățat!

1. Scrie ca fracție cu numitorul 10, următoarele fracții zecimale:  
 a) 5,7; b) 12,5; c) 0,8; d) 4,50; e) 125,7; f) 3,400; g) 9; h) 1,5; i) 49,40; j) 105,3; k) 81,4.
2. Scrie ca fracție cu numitorul 100, următoarele fracții zecimale:  
 a) 5,17; b) 92,91; c) 3,3; d) 9,00; e) 0,08; f) 0,5; g) 123,41; h) 14,14; i) 102,31; j) 7,05.
3. Scrie ca fracție cu numitorul 1 000, următoarele fracții zecimale:  
 a) 0,009; b) 0,012; c) 724,250; d) 0,250; e) 8,000; f) 9; g) 2,5; h) 0,75; i) 8,412; j) 16,302.

4. Transformă în fracții ordinare următoarele fracții zecimale:  
 a) 3,14; b) 1,4142; c) 1,7320; d) 0,0700; e) 0,102; f) 100,1; g) 99,99; h) 92,13; i) 0,431.

## Exerciții și probleme

### Scrierea și citirea fracțiilor zecimale



#### Exersează!

- Completează spațiile punctate cu răspunsul corect:  
 a) 12,405 are partea întreagă .....; b) 4,021 are partea zecimală .....  
 c) fracția zecimală 100,215 are: cifra zecimilor ....., cifra sutimilor ....., cifra miimilor .....  
 d) fracția zecimală 0,02 are: partea întreagă ..., partea zecimală ..., cifra zecimilor ..., cifra sutimilor ...
- Citește următoarele fracții zecimale:  
 0,2; 7,5; 3,03; 1,005; 0,07; 10,008; 4,1003; 9,1234; 0,12405; 0,007; 5,99; 2,605; 31,005.
- Scrive cu ajutorul cifrelor:  
 a) trei virgulă patruzeci; b) zero virgulă zero zero 7; c) doi virgulă șapte mii trei.
- Scrive sub formă de fracție zecimală următoarele fracții ordinare:  
 $\frac{2}{100}$ ;  $\frac{12}{100}$ ;  $\frac{204}{1000}$ ;  $\frac{5}{1000}$ ;  $\frac{42}{1000}$ ;  $\frac{7}{10}$ ;  $\frac{42}{100}$ ;  $\frac{150}{100}$ ;  $\frac{324}{100}$ ;  $\frac{21}{100}$ ;  $\frac{22}{1000}$ ;  $\frac{33}{1000}$ ;  $\frac{81}{100}$ ;  $\frac{1313}{10}$ .
- Scrive sub formă de fracție zecimală următoarele fracții ordinare:  
 $\frac{3}{2}$ ;  $\frac{7}{5}$ ;  $\frac{9}{4}$ ;  $\frac{7}{8}$ ;  $\frac{1}{25}$ ;  $\frac{3}{20}$ ;  $\frac{7}{50}$ ;  $\frac{42}{600}$ ;  $\frac{150}{300}$ ;  $\frac{324}{400}$ ;  $\frac{21}{700}$ ;  $\frac{22}{110}$ ;  $\frac{33}{3000}$ ;  $\frac{81}{900}$ ;  $\frac{1717}{1700}$ .
- Transformă în fracție zecimală:  
 $1\frac{1}{4}$ ;  $7\frac{2}{5}$ ;  $9\frac{3}{10}$ ;  $3\frac{1}{25}$ ;  $4\frac{7}{50}$ ;  $6\frac{3}{8}$ ;  $11\frac{1}{2}$ ;  $5\frac{9}{20}$ ;  $4\frac{9}{40}$ ;  $2\frac{1}{250}$ ;  $1\frac{3}{125}$ ;  $1\frac{1}{7}$ ;  $3\frac{14}{100}$ ;  $2\frac{9}{100}$ ;  $1\frac{3}{1000}$ ;  $7\frac{1}{10}$ .



#### Poți fi mai bun!

- Scrive ce fracție reprezintă:  
 a) 6 luni dintr-un an; b) 9 luni dintr-un an; c) 6 ore dintr-o zi;  
 d) 12 ore dintr-o zi; e) o zi dintr-o săptămână; f) 15 minute dintr-o oră;  
 g) 30 de minute dintr-o oră; h) 15 secunde dintr-un minut; i) 6 secunde dintr-un minut.

### Transformarea unei fracții zecimale cu un număr finit de zecimale nenule în fracție ordinară



#### Exersează!

- Transformă în fracție ordinară următoarele fracții zecimale finite:  
 a) 2,705; b) 0,403; c) 20,004; d) 1,5; e) 0,2; f) 8,01; g) 0,12; h) 4,101; i) 6,25; j) 0,625.
- Transformă în fracție ordinară ireductibilă următoarele fracții zecimale:  
 a) 12,5; b) 1,25; c) 0,125; d) 22,75; e) 0,2; f) 1,44; g) 16,9; h) 7,1; i) 62,5; j) 0,0625; k) 0,8.
- Transformă în fracție ordinară ireductibilă următoarele fracții zecimale:  
 a) 273,6; b) 1405,25; c) 46,64; d) 103,08; e) 79,125; f) 13,1; g) 0,0064;  
 h) 1,9; i) 1,99; j) 1,999; k) 0,99; l) 7,05; m) 6,25; n) 0,500.

## 2. Compararea, ordonarea și reprezentarea pe axa numerelor a unor fracții zecimale

### Compararea fracțiilor zecimale

- ★ Comparăm 0,1 și 0,01. Scriem  $0,1 = \frac{1}{10}$  și  $0,01 = \frac{1}{100}$ . Cum  $\frac{1}{10} > \frac{1}{100}$ , rezultă  $0,1 > 0,01$ .
- ★ Comparăm 0,4 și 0,45. Scriem  $0,4 = \frac{4}{10} = \frac{40}{100}$  și  $\frac{45}{100} = 0,45$ . Cum  $\frac{40}{100} < \frac{45}{100}$ , rezultă  $0,4 < 0,45$ .
- ★ Comparăm 2,852 și 2,872. Scriem  $2,852 = \frac{2852}{1000}$  și  $2,872 = \frac{2872}{1000}$ . Cum  $\frac{2852}{1000} < \frac{2872}{1000}$ , rezultă  $2,852 < 2,872$ .  
Putem proceda și altfel: scriem  $2,852 = 2 + \frac{8}{10} + \frac{5}{100} + \frac{2}{1000}$  și  $2,872 = 2 + \frac{8}{10} + \frac{7}{100} + \frac{2}{1000}$ .
- ◆ Comparăm partea întreagă: fiecare fracție are partea întreagă 2.
- ◆ Comparăm zecimile: fiecare fracție are  $\frac{8}{10}$ , adică opt zecimi.
- ◆ Comparăm sutimile: cum  $5 < 7$ , avem  $\frac{5}{100} < \frac{7}{100}$ , așadar  $2,852 < 2,872$ .



la aminte și ține minte!

- Pentru a compara două fracții zecimale finite, procedăm astfel:
    - mai întâi comparăm părțile lor întregi, fracția zecimală mai mică este fracția cu partea întreagă mai mică;
    - dacă părțile întregi sunt egale, comparăm părțile zecimale.
- Exemple:** a) Comparăm 17,925 și 32,604.
  - comparăm partea întreagă:  $17 < 32$ . Așadar, avem  $17,925 < 32,604$ .b) Comparăm 25,4 și 25,35.
  - comparăm partea întreagă:  $25 = 25$ ; comparăm partea zecimală: cum  $40 > 35 \Rightarrow 0,40 > 0,35$ . Așadar, avem  $25,4 > 25,35$ .

5+

Aplică ce ai învățat!

1. Compară fracțiile zecimale finite:

a) 27,364 și 27,359;

b) 260,04 și 259,999;

c) 10,2 și 10,09;

d) 0,009 și 0,01;

e) 99,1 și 99,099;

f) 2 și 1,9999.

2. Copiază în caiet și completează căsuțele cu semnul corespunzător (<, =, >):

a) 23,15  32,15;

b) 6,20  6,02;

c) 5,73  5,8;

d) 17,1  5,32

e) 123,7  123,70;

f) 0,09  0,0900;

g) 231,3  15,800;

h) 15,3  15,03.

### Ordonarea fracțiilor zecimale

Ordonarea fracțiilor zecimale se face crescător sau descrescător.

**Exemplu:** Ordonează crescător următoarele fracții zecimale:

25,9; 25,92; 25,79; 25,8; 25,09.

Obținem:  $25,09 < 25,79 < 25,8 < 25,9 < 25,92$ .

1. Ordonează crescător următoarele fracții zecimale: 7,22; 7,231; 7,250; 7,221; 7,219; 7,222; 7,228.
2. Ordonează descrescător: a) 62,23; 62,25; 6,225; 622,5; 62,32; 26,55;  
b) 1,700; 0,999; 1,699; 0,99; 0,00999; 1,755.
3. Ordonează crescător următoarele fracții zecimale: 2,15; 0,20; 21,5; 0,2150; 27,3; 20,15; 2,015.

## Aproximări

Aproximăm fracția zecimală 15,365:

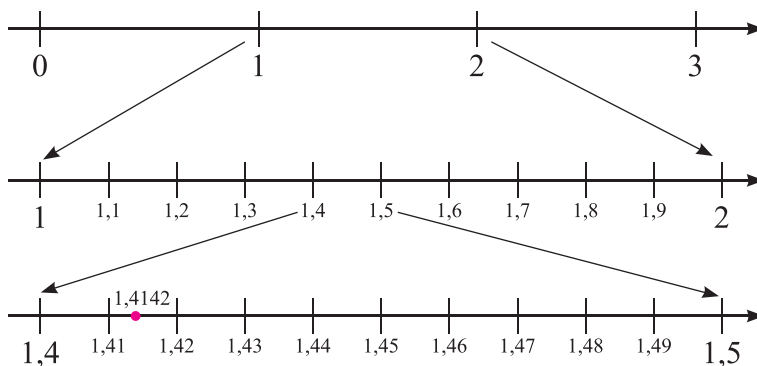
$$\text{Avem } 15 < 15,365 < 16.$$

- aproximarea prin lipsă cu o unitate este 15;
  - aproximarea prin adaos cu o unitate este 16.
- $$\text{Avem } 15,3 < 15,365 < 15,4.$$
- aproximarea prin lipsă cu o zecime este 15,3;
  - aproximarea prin adaos cu o zecime este 15,4.
- $$\text{Avem } 15,36 < 15,365 < 15,37.$$
- aproximarea prin lipsă cu o sutime este 15,36;
  - aproximarea prin adaos cu o sutime este 15,37.

1. Copiază și completează tabelul după modelul din prima linie:

Frația zecimală finită	APROXIMARE					
	Prin lipsă cu:			Prin adaos cu:		
	o unitate	o zecime	o sutime	o unitate	o zecime	o sutime
17,326	17	17,3	17,32	18	17,4	17,33
2,9945						
0,403						
34,1002						
103,071						
901,901						
7,003						
1,215						

## Reprezentarea pe axa numerelor a fracțiilor zecimale finite



Reprezentăm pe axă fracția zecimală 1,4142.

$$\text{Avem } 1 < 1,4142 < 2.$$

- Luăm unitatea de măsură de pe axă cuprinsă între 1 și 2 și o împărțim în 10 părți egale, adică 10 zecimi.

$$\text{Avem } 1,4000 < 1,4142 < 1,5000.$$

- Luăm zecimea de pe axă cuprinsă între 1,4 și 1,5 și o împărțim în 10 sutimi.

$$\text{Avem } 1,4100 < 1,4142 < 1,4200.$$

## Exerciții și probleme

### Comparare și ordonare



#### Exersează!

1. Compară numerele, scriind semnul corespunzător ( $<$ ,  $=$ ,  $>$ ) între ele:  
a) 7,03 și 7,30; b) 1,009 și 1,2; c) 5,20 și 5,2000; d) 1,01 și 1,010; e) 12,39 și 8,39;  
f) 0,7 și 0,70; g) 6,5 și 6; h) 39 și 39,723; i)  $\frac{42}{10}$  și 4,2; j) 9,5 și  $\frac{950}{100}$ .
2. Ordonează crescător șirurile:  
a) 12,6; 4,52; 79,3; 0,46; b) 23,8; 8,23; 2,38; 83,2; 3,28; c) 0,452; 0,4; 0,04; 0,542; 0,2;  
d) 4,531; 4,55; 4,351; 4,6; e) 2,14; 17,53; 8,03; 9,43; f) 14,2; 14,02; 14,17.  
*Alege răspunsul corect!*
3. 5,243 este mai mic decât: A) 5,02; B) 5,21; C) 5,3; D) 5,242.
4. 7,41 este mai mare decât: A) 7,42; B) 7,5; C) 7,412; D) 7,39.
5. Dintre următoarele numere fracția cea mai mică este:  
A) 9,10; B) 9,092; C) 9,091; D) 9,09000.

### Aproximări



#### Exersează!

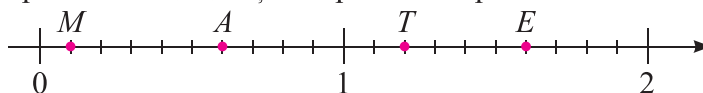
1. Aproximează cu o zecime prin lipsă, apoi cu o zecime prin adaos fracțiile zecimale:  
0,25; 4,51; 12,423; 37,37; 2,01; 8,13; 15,23; 24,36; 4,001; 18,302; 14,015; 13,925; 6,054.
2. Aproximează cu o sutime prin lipsă, apoi cu o sutime prin adaos fracțiile zecimale:  
0,082; 101,101; 2,253; 5,017; 9,203; 15,049; 36,412; 12,367; 19,025; 29,723; 42,431.
3. a) Scrie 5 fracții zecimale cuprinse între 7 și 8.  
b) Scrie 5 fracții zecimale cuprinse între 6,5 și 7.  
c) Scrie 5 fracții zecimale cuprinse între 2,82 și 2,83.  
*Alege răspunsul corect!*
4. Aproximarea la unități prin lipsă a fracției zecimale 2,625 este: A) 2,6; B) 3; C) 2; D) 2,62
5. Aproximarea prin adaos cu o zecime a fracției zecimale 4,938 este: A) 5; B) 4,9; C) 4; D) 4,94.

### Reprezentarea pe axă a fracțiilor zecimale finite

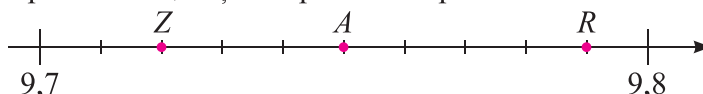


#### Exersează!

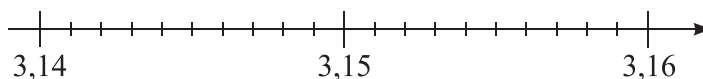
1. Precizează coordonatele punctelor  $M$ ,  $A$ ,  $T$  și  $E$  reprezentate pe axa:



2. Precizează coordonatele punctelor  $Z$ ,  $A$  și  $R$  reprezentate prin axa:





3. Reprezintă următoarele fracții zecimale pe axă: 3,143; 3,147; 3,152; 3,155; 3,158; 3,150.



### 3. Adunarea și scăderea fracțiilor zecimale cu un număr finit de zecimale nenule

Ana și Mihai vor să afle câți lei au în pușculițe. Ei numără bancnotele. Ana are 253 lei, iar Mihai 237 lei. Ei numără și monezile. Ana are 185 de bani, iar Mihai are 53 de bani.



Știm că  $100 \text{ bani} = 1 \text{ leu}$ ,

atunci  $185 \text{ bani} = 1 \text{ leu} + 85 \text{ bani}$   
 $= 1 \text{ leu} + 0,85 \text{ lei}$   
 $= 1,85 \text{ lei}$

$53 \text{ bani} = 0,53 \text{ lei}$

Ana are  $253 \text{ lei} + 1,85 \text{ lei}$ , iar Mihai are  $237 \text{ lei} + 0,53 \text{ lei}$ .

Pentru a afla ce sumă are fiecare în pușculiță, le adunăm astfel: așezăm fracțiile unele sub altele, astfel încât virgula să fie sub virgulă și adunăm unitățile de același ordin (miimi cu miimi, sutimi cu sutimi, zecimi cu zecimi...).

Scriem  $253 = 253,00$ .

Obținem:

$253,00 +$

$\underline{1,85}$

$254,85$

**Adunăm astfel:**

$5 \text{ sutimi} + 0 \text{ sutimi} = 5 \text{ sutimi}$

$8 \text{ zecimi} + 0 \text{ zecimi} = 8 \text{ zecimi}$

Scriem virgula la rezultat.

$1 \text{ unitate} + 3 \text{ unități} = 4 \text{ unități}$

$5 \text{ zeci} = 5 \text{ zeci}$

$2 \text{ sute} = 2 \text{ sute}$

Scriem  $237 = 237,00$

Obținem:

$237,00 +$

$\underline{0,53}$

$237,53$

**Adunăm astfel:**

$3 \text{ sutimi} + 0 \text{ sutimi} = 3 \text{ sutimi}$

$5 \text{ zecimi} + 0 \text{ zecimi} = 5 \text{ zecimi}$

Scriem virgula la rezultat.

$0 \text{ unități} + 7 \text{ unități} = 7 \text{ unități}$

$3 \text{ zeci} = 3 \text{ zeci}$

$2 \text{ sute} = 2 \text{ sute}$

• Ana cheltuie  $40,25 \text{ lei}$  din cei  $254,85 \text{ lei}$ , pe care îi are în pușculiță. Câți lei i-au rămas Anei?

Scădem:

$254,85 -$

$\underline{40,25}$

$214,60$

**Procedăm astfel:**

$5 \text{ sutimi} - 5 \text{ sutimi} = 0 \text{ sutimi}$

$8 \text{ zecimi} - 2 \text{ zecimi} = 6 \text{ zecimi}$

Scriem virgula la rezultat.

$4 \text{ unități} - 0 \text{ unități} = 4 \text{ unități}$

$5 \text{ zeci} - 4 \text{ zeci} = 1 \text{ zece}$

$2 \text{ sute} = 2 \text{ sute}$



**la aminte și ține minte!**

• Pentru a aduna sau scădea fracțiile zecimale finite procedăm astfel: scriem fracțiile una sub cealaltă, astfel încât partea întreagă să fie sub partea întreagă, virgulă sub virgulă, zecimi sub zecimi, sutimi sub sutimi și așa mai departe și se adună sau se scad după regulile de la adunarea și scăderea numerelor naturale, iar virgula se coboară la rezultat.

**5+**

**Aplică ce ai învățat!**

Calculează:

a)  $5,3 + 18,94$ ;

b)  $79,06 + 0,2$ ;

c)  $1 - 0,01$ ;

d)  $20,173 - 5,13$ ;

e)  $456,18 + 0,326$ ;

f)  $3 + 0,205$ ;

g)  $72,003 - 5,4$ ;

h)  $100 + 5,2$ ;

i)  $14,6 - 2,34$ ;

j)  $284,5 - 14,03$ .



## Exersează!

### 1. Calculează:

- a)  $2,3 + 3,2$ ;      b)  $3,26 + 5,62$ ;      c)  $13,45 - 6,328$ ;      d)  $0,236 + 7,2$ ;  
 $0,57 + 0,42$ ;       $3,05 - 0,128$ ;       $4,363 + 23,49$ ;       $5,362 + 0,102$ ;  
 $7,2 - 0,83$ ;       $5,13 + 9,24$ ;       $5,241 - 4,732$ ;       $10,98 + 0,23$ .

### 2. Completează spațiile punctate cu răspunsul corect:

- a) Numărul cu 2,3 mai mare decât 3,57 este ....  
 b) Suma numerelor 0,705 și 4 este ....  
 c) Numărul 10,1 mărit cu 5,72 este ...

### 3. Scrie asocierile corecte dintre litera din coloana A și cifra corespunzătoare din coloana B:

- |    |                 |          |    |                 |         |
|----|-----------------|----------|----|-----------------|---------|
| a) | A               | B        | b) | A               | B       |
|    | a) $3,6 + 4,2$  | 1) 5,425 |    | a) $5,7 - 2,75$ | 1) 5,97 |
|    | b) $5 + 0,425$  | 2) 7,8   |    | b) $6 - 0,03$   | 2) 2,95 |
|    | c) $9,1 + 2,93$ | 3) 0,925 |    | c) $9,7 - 2,75$ | 3) 6,95 |
|    |                 | 4) 13,03 |    |                 | 4) 5,07 |

### 4. Alege răspunsul corect! David merge pe jos 0,7 km, iar cu bicicleta 1,5 km. Lungimea totală a drumului este de:

- A) 0,85 km      B) 2,3 km      C) 8,5 km      D) 2,2 km

### 5. Radu primește de la bunici 300 lei, din care cumpără o bicicletă cu 101,99 lei, o cască de protecție cu 110 lei și o pizza cu 12,50 lei. Câți lei îi mai rămân?



## Poți fi mai bun!

### 6. Calculează:

- a)  $1,2 + 1,02 + 1,002 + 1,0002 + 1,00002 + 1,000002$ ;  
 b)  $100 + 0,3 + 0,003 + 0,0003 + 0,00003 + 0,000003$ ;  
 c)  $9 + 0,1 + 0,02 + 0,003 + 0,0004 + 0,00005$ ;  
 d)  $0,9 + 0,99 + 0,999 + 0,9999$ .

### 7. Copiază pe caiet și scrie în căsuță litera corespunzătoare rezultatului. Ce cuvânt s-a format?

- $29,937 + 50,375 \rightarrow$    
 $129,937 + 250,375 \rightarrow$    
 $41,387 - 23,978 \rightarrow$    
 $541,387 - 323978 \rightarrow$

I	380,313
N	17,409
B	80,313
E	217,409



## Fii campion!

### 8. Reconstituie adunările, respectiv scăderile următoare:

- a)  $3,*45+$     b)  $1*,*9+$     c)  $4,3** -$     d)  $*7,5*-$     e)  $12,*4+$     f)  $90,4*5+$     g)  $*8,*9-$   
 $\frac{*,73*}{9,2*4}$      $\frac{79,2*}{97,53}$      $\frac{0,***}{1,342}$      $\frac{87,8*}{*,78}$      $\frac{*,71}{*3,7*}$      $\frac{10,*02}{***,71*}$      $\frac{68,2*}{1*,72}$



## 4. Înmulțirea fracțiilor zecimale finite

Înmulțirea fracțiilor zecimale finite cu puteri ale lui 10:

$$81,92 \cdot 10 = \frac{8192}{100} \cdot 10 = \frac{8192}{10} = 819,2;$$

$$81,92 \cdot 100 = \frac{8192}{100} \cdot 100 = 8192;$$

$$81,92 \cdot 1000 = \frac{8192}{100} \cdot 1000 = 81920.$$



**la aminte și ține minte!**

- Înmulțirea unei fracții zecimale finite cu o putere a lui 10 se efectuează astfel: mutăm virgula spre dreapta peste un număr de zecimale egal cu exponentul lui 10. Dacă nu sunt zecimale suficiente, se completează cu zerouri.

**Exemple:** a)  $23,52 \cdot 10 = 235,2$ ; b)  $23,52 \cdot 100 = 2\,352$ ; c)  $23,52 \cdot 1\,000 = 23\,520$ .

- Înmulțirea a două fracții zecimale se efectuează astfel: se înmulțesc ca două numere naturale (fără a ține seama de virgulă), iar rezultatul obținut are tot atâtea zecimale câte zecimale au împreună cele două fracții zecimale.

**Exemplu:**  $23,52 \cdot 1,2 = 28,224$ .

$$\begin{array}{r} 23,52 \cdot \\ \underline{1,2} \\ 4704 \\ \underline{2352} \\ 28,224 \end{array}$$

**5+**

**Aplică ce ai învățat!**

Calculează:

a)  $23,52 \cdot 10$ ;

b)  $0,14 \cdot 100$ ;

c)  $7,3 \cdot 6$ ;

d)  $2,03 \cdot 2,5$ ;

e)  $11,5 \cdot 7,1$ ;

f)  $60,7 \cdot 2,34$ ;

g)  $97,46 \cdot 100$ ;

h)  $0,025 \cdot 10$ ;

i)  $206 \cdot 26,5$ ;

j)  $29,8 \cdot 1,6$ ;

k)  $19,08 \cdot 0,5$ ;

l)  $3,007 \cdot 5,2$ .

### Exerciții și probleme



**Exersează!**

**1. Calculează:**

a)  $5,42 \cdot 10$

b)  $5,42 \cdot 100$

c)  $5,42 \cdot 1\,000$

d)  $37,405 \cdot 10$

e)  $0,009 \cdot 10$

$7,31 \cdot 10$

$7,31 \cdot 100$

$7,31 \cdot 1\,000$

$18,079 \cdot 10$

$0,099 \cdot 10$

$0,75 \cdot 10$

$0,75 \cdot 100$

$0,75 \cdot 1\,000$

$25,004 \cdot 10$

$0,999 \cdot 10$

$9,07 \cdot 10$

$9,07 \cdot 100$

$9,07 \cdot 1\,000$

$11,230 \cdot 10$

$0,909 \cdot 10$ .

**2. Calculează:**

a)  $5,42 \cdot 6$

b)  $7,5 \cdot 3$

c)  $7,5 \cdot 0,3$

d)  $0,75 \cdot 0,3$

e)  $0,3 \cdot 0,75$

f)  $7,5 \cdot 2$

$5,42 \cdot 0,6$

$9 \cdot 10,1$

$0,9 \cdot 10,1$

$1,01 \cdot 0,9$

$0,9 \cdot 1,01$

$7,5 \cdot 0,2$

$5,42 \cdot 0,06$

$6,5 \cdot 2$

$6,5 \cdot 2,5$

$0,65 \cdot 0,2$

$0,2 \cdot 0,65$

$7,5 \cdot 0,02$

$5,42 \cdot 0,006$

$2,3 \cdot 7$

$6,4 \cdot 3,6$

$82,7 \cdot 3,5$

$3,8 \cdot 58,4$

$7,5 \cdot 0,002$

**3. Completează spațiile punctate cu răspunsul corect:**

a) Numărul de 4 ori mai mare decât 2,5 este .....

b) Produsul numerelor 17,5 și 2,01 este ....

c) Numărul 10,2 mărit de 3,1 ori este ...

4. Scrie asocierile corecte dintre fiecare literă din coloana A și cifra corespunzătoare din coloana B:

a)

A	B
a) $8,01 \cdot 0,2$	1) 0,1602
b) $3,141516 \cdot 0$	2) 1,602
c) $0,02 \cdot 8,01$	3) 3,141516
	4) 0

b)

A	B
a) $3,14 \cdot 0,2$	1) 0,00628
b) $6,28 \cdot 0,001$	2) 6,28
c) $3,14 \cdot 0,02$	3) 0,628
	4) 0,0628

5. Alege răspunsul corect! O cutie cântărește 0,25 kg. 120 de cutii de același fel vor cântări:

A) 6 kg      B) 300 kg      C) 60 kg      D) 30 kg

6. Un metru de stofă costă 53,60 lei. Câți lei costă 7,5 m de stofă?

7. Un tractor ară într-o zi 6,24 hectare de teren. Câte hectare va ara tractorul în 4 zile?

8. Într-un sac sunt 50,7 kg de cartofi. Câte kilograme de cartofi sunt în 7 saci și jumătate, de același fel?

9. Dănuț are înălțimea de 1,30 m. Tatăl său are înălțimea de 1,5 ori mai mare decât Dănuț. Care este înălțimea tatălui lui Dănuț?



Poți fi mai bun!

10. La un anumit moment al zilei, umbra unui stâlp are lungimea de 1,3 m. Află înălțimea stâlpului dacă aceasta este de 2,4 ori mai mare decât umbra sa în acel moment.

11. Reconstituie înmulțirile următoare:

$$\begin{array}{r} 205,8 \cdot \\ \quad \underline{**,*} \\ 14406 \\ 4116 \\ \underline{2058} \\ ****,* \end{array}$$

$$\begin{array}{r} **, * \cdot \\ \quad \underline{4,6} \\ 1674 \\ \underline{1116} \\ ***, ** \end{array}$$

$$\begin{array}{r} 80,* \cdot \\ \quad \underline{7,5} \\ 4015 \\ \underline{5621} \\ ***, ** \end{array}$$

$$\begin{array}{r} **, ** \cdot \\ \quad \underline{4,23} \\ 29709 \\ 19806 \\ \underline{39612} \\ ***, **** \end{array}$$



Fii campion!

12. Scrie în căsuță litera din tabel, corespunzătoare rezultatului. Ce cuvânt s-a format?

$6,3 \cdot 12,1 \rightarrow$

$6,3 \cdot 1,21 \rightarrow$

$2,1 \cdot 1,21 \rightarrow$

$2,1 \cdot 1,1 \rightarrow$

$3,3 \cdot 2,1 \rightarrow$

U	7,623
P	2,541
R	6,93
S	76,23
E	2,31

13. Un autoturism consumă la fiecare kilometru parcurs 0,075 litri de benzină. Câți litri consumă pentru distanța de:

a) 100 km;      b) 50 km;      c) 200 km;      d) 3,5 km;      e) 10,8 km;      f) 7,2 km.

14. La un magazin s-au vândut într-o zi 56,20 m de mătase, iar a doua zi de 1,2 ori mai mult. Câți metri de mătase s-au vândut a doua zi?

15. Un copac are înălțimea de 3,5 m. Dacă la un moment al zilei, umbra sa este de 0,9 ori mai mare decât înălțimea, află lungimea umbrei copacului în acel moment al zilei.

## 5. Împărțirea a două numere naturale cu rezultat fracție zecimală. Media aritmetică. Periodicitate

### Împărțirea a două numere naturale cu rezultat fracție zecimală

Ioana îi provoacă pe cei doi prieteni ai săi, Dan și Claudia, la un joc. Sunt trei bilețele cu trei împărțiri de numere naturale. Fiecare extrage un bilet.

$$\begin{array}{r} \star\star \\ 29 : 3 \\ \hline \end{array} \quad \text{Ioana} \quad \star\star$$

$$\begin{array}{r} \star\star \\ 47 : 6 \\ \hline \end{array} \quad \text{Dan} \quad \star\star$$

$$\begin{array}{r} \star\star \\ 35 : 8 \\ \hline \end{array} \quad \text{Claudia} \quad \star\star$$

Provocarea: Care este a 2017-a zecimală a fiecărui cât obținut?

$$\begin{array}{r} \text{Ioana} \\ 29,000 \overline{) 3} \\ \underline{27} \phantom{00} \\ = 20 \\ \phantom{=} \underline{18} \\ = 20 \\ \phantom{=} \underline{18} \\ = 2 \end{array}$$

$$\begin{array}{r} \text{Dan} \\ 47,00 \overline{) 6} \\ \underline{42} \phantom{00} \\ = 50 \\ \phantom{=} \underline{48} \\ = 20 \\ \phantom{=} \underline{18} \\ = 20 \\ \phantom{=} \underline{18} \\ = 2 \end{array}$$

$$\begin{array}{r} \text{Claudia} \\ 35,00 \overline{) 8} \\ \underline{32} \phantom{00} \\ = 30 \\ \phantom{=} \underline{24} \\ = 60 \\ \phantom{=} \underline{56} \\ = 40 \\ \phantom{=} \underline{40} \\ = = \end{array}$$

Câtul obținut de Ioana are a 2017-a zecimală egală cu 6.

Câtul obținut de Dan are a 2017-a zecimală egală cu 3.

Câtul obținut de Claudia are a 2017-a zecimală egală cu 0.

#### 1. Efectuăm împărțirea $59 : 20$ .

Procedăm astfel:

$$\begin{array}{r} 59 \overline{) 20} \\ \underline{40} \\ 19 \end{array}$$

##### Pasul 1

- Efectuăm împărțirea celor două numere naturale.
- Obținem un **cât** și un **rest** care sunt două numere naturale.

Pentru a obține fracție zecimală continuăm împărțirea:

$$\begin{array}{r} 59,0 \overline{) 20} \\ \underline{40} \phantom{0} \\ 19 \end{array}$$

##### Pasul 2

- scriem virgula după deîmpărțit și după câtul obținut, la deîmpărțit după virgulă adăugăm zerouri;

$$\begin{array}{r} 59,0 \overline{) 20} \\ \underline{40} \phantom{0} \\ 190 \end{array}$$

##### Pasul 3

- coborâm pe **zero** după restul obținut;

$$\begin{array}{r} 59,00 \overline{) 20} \\ \underline{40} \phantom{00} \\ 190 \\ \underline{180} \\ = 100 \\ \phantom{=} \underline{100} \\ = = = \end{array}$$

##### Pasul 4

- facem cuprinderea și trecem rezultatul după virgulă, continuăm împărțirea.

Așadar  $59 : 20 = 2,95$ . Am obținut o fracție zecimală finită.

## 2. Efectuăm împărțirea 22 : 3.

$$\begin{array}{r} 22,000 \overline{) 3} \\ \underline{21} \phantom{00} \\ = 10 \phantom{0} \\ \phantom{=} \underline{9} \phantom{00} \\ = 10 \phantom{0} \\ \phantom{=} \underline{9} \phantom{00} \\ = 10 \phantom{0} \\ \phantom{=} \underline{9} \phantom{00} \\ = 1 \phantom{00} \end{array}$$

$$22 : 3 = 7,333\dots$$

Oricât de mult am continua împărțirea se obține la cât, de fiecare dată, cifra 3.

7,333... se scrie 7,(3) și se citește *șapte virgulă perioadă trei*.

Această fracție este **o fracție zecimală periodică simplă**. 3 este perioada.

Așadar,  $22 : 3 = 7,(3)$ .

## 3. Efectuăm împărțirea 23 : 6.

$$\begin{array}{r} 23,000 \overline{) 6} \\ \underline{18} \phantom{00} \\ = 50 \phantom{0} \\ \phantom{=} \underline{48} \phantom{00} \\ = 20 \phantom{0} \\ \phantom{=} \underline{18} \phantom{00} \\ = 20 \phantom{0} \\ \phantom{=} \underline{18} \phantom{00} \\ = 2 \phantom{00} \end{array}$$

$$23 : 6 = 3,833\dots$$

3,833... se scrie 3,8(3) și se citește *trei virgulă opt perioadă trei*.

Această fracție este **o fracție zecimală perioadă mixtă**. 8 este partea neperiodică, iar 3 este perioada.

Așadar  $23 : 6 = 3,8(3)$ .

## Transformarea unei fracții ordinare într-o fracție zecimală



la aminte și ține minte!

- Pentru a transforma o fracție ordinară într-o fracție zecimală se împarte numărătorul la numitor.

**Exemple:** a)  $\frac{59}{20} = 2,95$  este fracție zecimală finită; b)  $\frac{22}{3} = 7,(3)$  este fracție zecimală periodică simplă; c)  $\frac{23}{6} = 3,8,(3)$  este fracție zecimală periodică mixtă.

- Dacă numitorul fracției ordinare ireductibile are ca divizori doar puteri ale lui 2 sau 5, atunci fracția ordinară se transformă în fracție zecimală finită.

**Exemple:**  $\frac{5}{2} = 2,5$ ;  $\frac{7}{4} = 1,75$ ;  $\frac{1}{5} = 0,2$ ;  $\frac{3}{8} = 0,375$ ;  $\frac{11}{20} = 0,55$ ;  $\frac{1}{25} = 0,04$ ;  $\frac{2}{125} = 0,016$ ;  $\frac{7}{40} = 0,175$ .

- Dacă numitorul fracției ordinare ireductibile are ca divizori puteri nenule, altele decât 2 și 5, atunci fracția ordinară se transformă în fracție periodică simplă:

**Exemple:**  $\frac{2}{3} = 0,(6)$ ;  $\frac{4}{9} = 0,(4)$ ;  $\frac{5}{11} = 0,(45)$ ;  $\frac{5}{27} = 0,(185)$ ;  $\frac{1}{7} = 0,(142857)$ .

- Dacă numitorul fracției ordinare ireductibile are ca divizori puteri nenule ale lui 2 sau 5 și cel puțin un divizor prim, altul decât 2 și 5, se transformă în fracție zecimală periodică mixtă:

**Exemple:**  $\frac{31}{6} = 5,1(6)$ ;  $\frac{7}{22} = 0,3(18)$ ;  $\frac{5}{12} = 0,41(6)$ ;  $\frac{73}{18} = 4,0(5)$ ;  $\frac{41}{15} = 2,7(3)$ .

5+

Aplică ce ai învățat!

1. Transformă în fracții zecimale:

a)  $\frac{7}{9}$ ; b)  $\frac{11}{2}$ ; c)  $\frac{13}{7}$ ; d)  $\frac{15}{4}$ ; e)  $\frac{29}{6}$ ; f)  $\frac{5}{12}$ ; g)  $\frac{31}{15}$ ; h)  $\frac{50}{27}$ ; i)  $\frac{23}{11}$ ; j)  $\frac{37}{18}$ ; k)  $\frac{24}{13}$ ; l)  $\frac{100}{33}$ ; m)  $\frac{43}{8}$ .

2. Fără a efectua împărțirile, stabilește ce fel de fracție zecimală (finită sau periodică simplă sau periodică mixtă) se obține prin transformarea următoarelor fracții ordinare:

a)  $\frac{25}{2}$ ,  $\frac{5}{3}$ ,  $\frac{7}{4}$ ,  $\frac{23}{8}$ ,  $\frac{7}{6}$ ,  $\frac{51}{25}$ ,  $\frac{3}{50}$ ,  $\frac{7}{12}$ ,  $\frac{5}{18}$ ,  $\frac{101}{40}$ ; b)  $\frac{9}{15}$ ,  $\frac{14}{22}$ ,  $\frac{10}{6}$ ,  $\frac{21}{18}$ ,  $\frac{15}{30}$ ,  $\frac{39}{21}$ ,  $\frac{6}{45}$ ,  $\frac{18}{27}$ ,  $\frac{20}{50}$ ,  $\frac{49}{42}$ ,  $\frac{20}{30}$ .

3. Verifică prin împărțire dacă: a)  $\frac{14}{15} = 0,9(3)$ ; b)  $\frac{73}{37} = 1,(972)$ ; c)  $\frac{31}{13} = 2,(384615)$ .

## Media aritmetică a două sau mai multe numere naturale

✧ Matei are la biologie, pe semestrul al doilea, următoarele note: 8, 7 și 10. Care este media lui Matei la biologie?

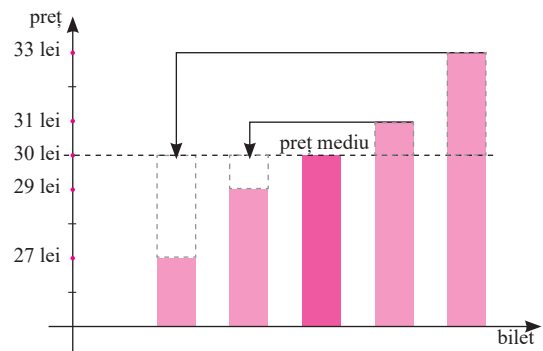
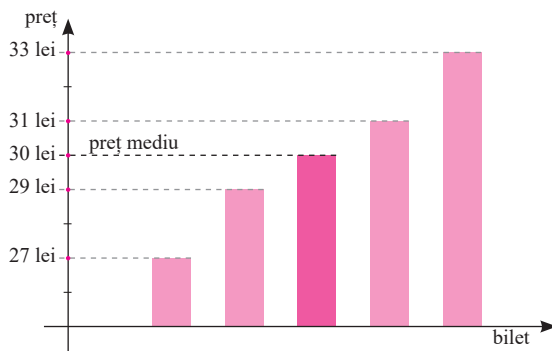
Adunăm notele și rezultatul obținut îl împărțim la 3:  $(8 + 7 + 10) : 3 = 25 : 3 = 8,(3)$ .

Observăm că  $7 < 8 < 8,(3) < 10$ .

Media la biologie este rotunjirea rezultatului 8,(3) la întregi, adică 8. Așadar, media lui Matei la biologie este 8.

✧ Prețul oferit de cinci firme de transport rutier pentru un bilet Craiova-București este de 30 lei, 29 lei, 33 lei, 31 lei, respectiv 27 lei. Care este prețul mediu al unui bilet Craiova-București?

Pentru a înțelege prețul mediu, reprezentăm datele într-o diagramă.



Observăm că:

- 1) prețul mediu este mai mare decât cel mai mic preț și mai mic decât cel mai mare preț;  
 $27 \text{ lei} < 29 \text{ lei} < 30 \text{ lei} < 31 \text{ lei} < 33 \text{ lei}$
- 2) tot ce este sub prețul mediu este compensat de tot ce depășește prețul mediu.



la aminte și ține minte!

- Media aritmetică a două sau mai multe numere naturale este egală cu suma numerelor date împărțită la numărul lor.
- Media aritmetică este un număr mai mare sau egal cu cel mai mic număr și mai mic sau egal cu cel mai mare număr.

**Exemple:** a) Media aritmetică a numerelor 8 și 7 este  $(8 + 7) : 2$ , adică 7,5. Observăm că  $7 < 7,5 < 8$ .

b) Media aritmetică a numerelor 3, 4 și 5 este  $(3 + 4 + 5) : 3$ , adică 4. Observăm că  $3 < 4 < 5$ .

5+

Aplică ce ai învățat!

1. Înălțimile clădirilor din curtea școlii sunt 2 m, 6 m, 10 m și 15 m. Află înălțimea medie a acestor clădiri.
2. Ce medie are Dana la limba engleză, dacă notele ei sunt 8, 9, 8, 10?
3. Află media aritmetică a numerelor: a) 5 și 10; b) 10, 15, 30; c) 12, 15, 22, 25; d) 6, 7, 8, 9, 10.



Lucrează în echipă!

**Citiți cu atenție!**



**Roxana**

Dacă mă cântăresc împreună cu Victor avem greutatea medie de 41 kg.



**Victor**

Dacă mă cântăresc împreună cu Adriana avem greutatea medie de 41,5 kg.



**Adriana**

Dacă mă cântăresc împreună cu Roxana avem greutatea medie de 40,5 kg.

Câte kilograme cântărește fiecare?

## Exerciții și probleme



Exersează!

### Împărțirea a două numere naturale cu rezultat fracție zecimală

1. Calculează:

- |            |             |               |                  |                  |                  |
|------------|-------------|---------------|------------------|------------------|------------------|
| a) $5 : 2$ | b) $23 : 6$ | c) $123 : 16$ | d) $1\ 070 : 64$ | e) $9\ 431 : 11$ | f) $3\ 415 : 32$ |
| 9 : 4      | 41 : 3      | 425 : 32      | 7 432 : 25       | 1 045 : 13       | 6 501 : 36       |
| 13 : 6     | 52 : 5      | 704 : 18      | 7 100 : 36       | 5 100 : 19       | 2 834 : 15       |
| 15 : 7     | 63 : 8      | 903 : 125     | 3 701 : 60       | 6 203 : 66       | 1 234 : 18       |

2. Completează pe caiet spațiile punctate cu răspunsul corect:

- Câtuș numerelor 51 și 2 este fracția zecimală finită .....
- Dacă împărțim 75 la 8 obținem fracția zecimală finită .....
- Dacă împărțim 935 la 125 obținem fracția zecimală finită .....

3. Scrie asocierile corecte dintre fiecare literă din coloana A și cifra corespunzătoare din coloana B:

a)

A	B
a) $101 : 7$	1) 14,(428571)
b) $404 : 7$	2) 57,(714285)
c) $101 : 14$	3) 7,2(428570)
	4) 7,(428571)

b)

A	B
a) $32 : 18$	1) 1,(7)
b) $45 : 18$	2) 3,5
c) $64 : 18$	3) 3,(5)
	4) 2,5

### Media aritmetică a două sau mai multe numere naturale



Exersează!

1. Completează spațiile punctate cu răspunsul corect:

- Media aritmetică a numerelor 7; 8 și 9 este .....
- Dacă media aritmetică a două numere este 3,4, atunci suma lor este .....
- Dacă media aritmetică a cinci numere este 10,3, atunci suma lor este .....

*Alege răspunsul corect!*

- Media aritmetică a numerelor 2; 5; 7; 9, este: A) 0,3      B)  $\frac{2}{4}$       C)  $\frac{3}{4}$       D) 0,25.
- Media aritmetică a trei numere consecutive pare este 10. Cel mai mic număr este: A) 8      B) 10      C) 6      D) 12.

4. La un magazin sunt mere cu 2 lei/kg și 3 lei/kg. Care este prețul mediu al unui kilogram de mere la acel magazin?
5. Într-o excursie de seniori sunt patru bunici cu vârste de 65 de ani, 68 de ani, 70 de ani și 72 de ani. Care este vârsta medie?
6. Temperaturile înregistrate timp de 5 zile sunt prezentate în tabelul alăturat. Află temperatura medie.

Ziua	I	II	III	IV	V
temperatură (°C)	25	26	28	30	32



Fii campion!

7. Consumul de combustibil al unui autoturism, la suta de kilometri, este 8 litri, 9 litri și 10 litri de benzină. Află consumul mediu la suta de kilometri.

### Transformarea unei fracții ordinare în fracție zecimală



Exersează!

1. Transformă în fracții zecimale următoarele fracții ordinare: a)  $\frac{17}{4}$ ; b)  $\frac{29}{3}$ ; c)  $\frac{27}{6}$ ; d)  $\frac{103}{5}$ .

*Alege răspunsul corect!*

2. Scrierea fracției ordinare  $\frac{181818}{151515}$  sub formă de fracție zecimală este: A) 0,5; B) 1,2; C) 0,4; D) 0,6.
3. Scrierea sub formă zecimală a fracției ordinare  $\frac{19}{3}$  este: A) 6,3; B) 6,2; C) 6,5; D) 6,(3).



Poți fi mai bun!

4. Scrie asocierile corecte dintre litera din coloana A și cifra corespunzătoare din coloana B:

a)

A	B
a) $\frac{23}{5}$	1) 7,(6)
b) $\frac{23}{3}$	2) 3,8(3)
c) $\frac{23}{6}$	3) 4,(6)
	4) 4,6

b)

A	B
a) $\frac{43}{3}$	1) 28,(6)
b) $\frac{86}{3}$	2) 14,(3)
c) $\frac{430}{3}$	3) 143,(3)
	4) 28,6



Fii campion!

5. Fie fracțiile ordinare:  $\frac{7}{5}$ ;  $\frac{27}{10}$ ;  $\frac{55}{7}$ ;  $\frac{107}{6}$ ;  $\frac{11}{12}$ ;  $\frac{103}{25}$ ;  $\frac{13}{18}$ ;  $\frac{25}{4}$ ;  $\frac{39}{2}$ ;  $\frac{29}{3}$ ;  $\frac{87}{13}$ ;  $\frac{232}{16}$ ;  $\frac{541}{11}$ ;  $\frac{405}{100}$ ;  $\frac{23}{40}$ .

Fără a face transformările, scrie care dintre ele sunt:

- a) fracții zecimale finite;  
 b) fracții zecimale periodice simple;  
 c) fracții zecimale periodice mixte.

## 6. Împărțirea fracțiilor zecimale finite

### Împărțirea unei fracții zecimale finite la un număr natural nenul

$$127,25 : 10 = \frac{12725}{100} : 10 = \frac{12725}{100} \cdot \frac{1}{10} = \frac{12725}{1000} = 12,725$$

$$127,25 : 10^2 = 127,25 : 100 = \frac{12725}{100} : 100 = \frac{12725}{100} \cdot \frac{1}{100} = \frac{12725}{10000} = 1,2725$$

$$127,25 : 10^3 = 127,25 : 1000 = \frac{12725}{100} : 1000 = \frac{12725}{100} \cdot \frac{1}{1000} = \frac{12725}{100000} = 0,12725$$

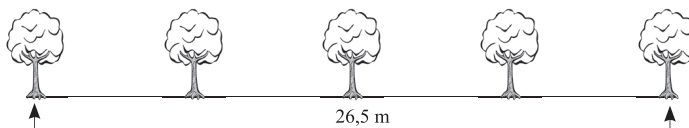


la aminte și ține minte!

- Împărțirea unei fracții zecimale finite la o putere a lui 10 se efectuează astfel: mutăm virgula spre stânga peste tot atâtea cifre cât este exponentul lui 10.

**Exemple:**  $7,5 : 10 = 0,75$ ;  $7,5 : 102 = 0,075$ ;  $7,5 : 103 = 0,0075$ ;  
 $12 : 10 = 1,2$ ;  $12 : 102 = 0,12$ ;  $12 : 103 = 0,012$ ;  
 $101,2 : 10 = 10,12$ ;  $101,2 : 102 = 1,012$ ;  $101,2 : 103 = 0,1012$ .

✦ Pe o distanță de 26,5 m se află 5 arbori, situați la distanțe egale. Află distanța dintre doi arbori consecutivi.



$$26,5 : 4 = 6,625 \text{ m (distanța dintre doi arbori consecutivi)}$$

$$\begin{array}{r} 26,5 \overline{) 4} \\ \underline{24} \phantom{0} \\ 25 \\ \underline{24} \\ 20 \\ \underline{20} \\ = \end{array}$$

Efectuăm împărțirea  $16,7 : 5$ .

Pentru a împărți o fracție zecimală la un număr natural, procedăm astfel:

$$\begin{array}{r} 16,7 \overline{) 5} \\ \underline{15} \phantom{0} \\ = 1 \end{array}$$

#### Pasul 1

- împărțim partea întreagă la numărul dat;
- scriem virgula la cât.

$$\begin{array}{r} 16,7 \overline{) 5} \\ \underline{15} \phantom{0} \\ = 17 \\ \underline{15} \\ 20 \\ \underline{20} \\ = \end{array}$$

#### Pasul 2

- continuăm împărțirea

✦ Se ambalează 62,5 kg mălai în pungi de câte 2,5 kg. Câte pungi sunt necesare?

$$62,5 \text{ kg} = 625 \text{ hg}$$

$$2,5 \text{ kg} = 25 \text{ hg}$$

$$625 : 25 = 25, \text{ adică } 62,5 : 2,5 = 25 \text{ (pungi necesare).}$$

### Împărțirea a două fracții zecimale cu un număr finit de zecimale



la aminte și ține minte!

- Pentru a împărți două fracții zecimale, procedăm astfel:
  - înmulțim atât deîmpărțitul, cât și împărțitorul cu o putere a lui 10, astfel încât împărțitorul să devină număr natural;



$$\begin{array}{r} 3,24 \overline{) 18} \\ \underline{18} \\ 0,18 \\ \underline{18} \\ 0 \\ \underline{0} \\ 0 \end{array}$$

- împărțim noul deîmpărțit la noul împărțitor conform regulii de împărțire a fracțiilor zecimale la un număr natural.

**Exemplu:**  $0,324 : 1,8 = ?$ ;  $1,8 \cdot 10 = 18$  și  $0,324 \cdot 10 = 3,24$ ;  
deci  $0,324 : 1,8 = 3,24 : 18 = 0,18$ .

5+

Aplică ce ai învățat!

1. Calculează oral:  
a)  $3 : 2$ ; b)  $5 : 2$ ; c)  $7 : 2$ ; d)  $9 : 2$ ; e)  $0,3 : 0,2$ ; f)  $0,5 : 0,2$ ; g)  $0,7 : 2$ ; h)  $0,9 : 0,2$ .
2. Calculează și verifică prin probă: a)  $13 : 2$ ; b)  $13 : 0,2$ ; c)  $1,3 : 3$ ; d)  $0,13 : 0,2$ ;  
e)  $0,013 : 0,2$ ; f)  $0,0013 : 0,02$ ; g)  $0,144 : 1,2$ ; h)  $0,144 : 0,12$ ; i)  $1,44 : 1,2$ .

## Exerciții și probleme

Exersează!

1. Află câtul: a)  $0,9 : 0,09$ ; b)  $45,15 : 1,5$ ; c)  $81,81 : 0,81$ ; d)  $32,32 : 0,16$ ;  
e)  $2,7 : 0,9$ ; f)  $4,5 : 0,9$ ; g)  $0,49 : 0,7$ ; h)  $2,17 : 0,07$ .
2. De câte ori este mai mic 0,8 decât 6,4?
3. Calculează: a)  $18,2 : 2$  b)  $21,403 : 10$  c)  $21,84 : 3$  d)  $3,451 : 17$   
 $18,2 : 0,2$   $21,403 : 100$   $21,84 : 0,3$   $3,451 : 1,7$   
 $18,2 : 0,2$   $21,403 : 1000$   $21,84 : 0,03$   $3,451 : 0,17$   
 $18,2 : 0,002$   $21,403 : 10000$   $21,84 : 0,003$   $3,451 : 0,017$
4. Completează pe caiet spațiile punctate cu răspunsul corect.  
a) Câtul fracțiilor zecimale 13,5 și 2,5 este .....  
b) Frația zecimală de 100 de ori mai mică decât 104,03 este .....  
c) Frația zecimală de 0,1 ori mai mică decât 2,3 este .....

Alege răspunsul corect!

5. Dacă împărțim 4,5 la 2,1 obținem: A) 2,1 B) 2,142 C) 2,14 D) 2,(142857)
6. Rezultatul calculului  $61,2 : 1,6$  este: A) 38,1 B) 38,5 C) 38,25 D) 38,2
7. Dacă împărțim 35,84 la 6,4 obținem: A) 5,4 B) 5,2 C) 5 D) 5,6

Poți fi mai bun!

8. Scrie asocierile corecte dintre fiecare literă din coloana A și cifra corespunzătoare din coloana B:

a)

A	B
a) $40,3403 : 40,3$	1) 1001
b) $403,403 : 40,3$	2) 1,001
c) $4034,03 : 40,3$	3) 10,01
	4) 100,1

b)

A	B
a) $1818,18 : 1,8$	1) 101010
b) $1818,18 : 0,18$	2) 1010,1
c) $1818,18 : 0,018$	3) 10101
	4) 10,10

Fii campion!

9. Maria a plătit pentru 5 pixuri identice 13,75 lei. Câți lei costă un pix?
10. Bunica a făcut 14,75 kg dulceață de afine și a umplut borcane de 0,250 g. Câte borcane a umplut bunica cu dulceață de afine?

## 7. Transformarea unei fracții periodice în fracție ordinară

### Transformarea unei fracții zecimale periodice simple în fracție ordinară



la aminte și ține minte!

- O fracție zecimală periodică simplă se transformă în fracție ordinară, astfel:
  - numărul din fața virgulei reprezintă întregii;
  - la numărător se scrie perioada;
  - la numitor se scrie numărul format din atâtea cifre de 9 câte cifre sunt în perioadă.

**Exemple:** a)  $0,(\underline{3}) = \frac{3}{9}$  ; b)  $2,(\underline{3}) = 2\frac{3}{9} = 2\frac{1}{3} = \frac{2 \cdot 3 + 1}{3} = \frac{7}{3}$ ; c)  $0,(\underline{36}) = \frac{36}{99} = \frac{4}{11}$ .

d)  $2,(\underline{36}) = 2\frac{36}{99} = 2\frac{4}{11} = \frac{2 \cdot 11 + 4}{11} = \frac{26}{11}$ ; e)  $2,(\underline{216}) = 2\frac{216}{999} = 2\frac{8}{37} = \frac{2 \cdot 37 + 8}{37} = \frac{82}{37}$ .

- Altă metodă:  
O fracție zecimală periodică simplă se transformă în fracție ordinară, astfel:
  - la numărătorul fracției se scrie numărul format din cifrele numărului dat fără virgulă, fără paranteze, din care scădem partea întreagă a numărului dat;
  - la numitorul fracției se scrie numărul format din atâtea cifre de 9 câte cifre sunt în perioadă.

**Exemple:** a)  $2,(\underline{3}) = \frac{23-2}{9} = \frac{21}{9} = \frac{7}{3}$ ; b)  $2,(\underline{36}) = \frac{236-2}{99} = \frac{234}{99} = \frac{26}{11}$ .

### Transformarea unei fracții zecimale periodice mixte în fracție ordinară



la aminte și ține minte!

- O fracție zecimală periodică mixtă se transformă în fracție ordinară, astfel:
  - numărul din fața virgulei reprezintă întregii;
  - la numărător se scrie numărul format din toate zecimalele, în ordinea scrierii lor în număr, din care scădem numărul format de cifrele din partea neperiodică;
  - la numitor se scrie numărul format din atâtea cifre de 9 câte cifre sunt în perioadă, urmate de atâtea zerouri câte cifre sunt în partea neperiodică.

**Exemple:** a)  $0,2(\underline{3}) = \frac{23-2}{90} = \frac{21}{90} = \frac{7}{30}$ ; b)  $1,2(\underline{3}) = 1\frac{23-2}{90} = 1\frac{7}{30} = \frac{1 \cdot 30 + 7}{30} = \frac{37}{30}$ ;

c)  $0,2(\underline{36}) = \frac{236-2}{990} = \frac{234}{990} = \frac{26}{110} = \frac{13}{55}$ ; d)  $3,2(\underline{36}) = 3\frac{236-2}{990} = 3\frac{13}{55} = \frac{3 \cdot 55 + 13}{55} = \frac{178}{55}$ ;

e)  $0,12(\underline{3}) = \frac{123-12}{900} = \frac{111}{900} = \frac{37}{300}$ ; f)  $7,12(\underline{3}) = 7\frac{123-12}{900} = 7\frac{37}{300} = \frac{7 \cdot 300 + 37}{300} = \frac{2137}{300}$ .



### Exersează!

- Transformă următoarele fracții zecimale în fracții ordinare:
  - $0,(3)$ ;  $2(3)$ ;  $4,(62)$ ;  $5,(73)$ ;  $1,(54)$ ;  $2,(123)$ ;  $7,(5)$ ;
  - $0,1(6)$ ;  $31,21(3)$ ;  $5,04(17)$ ;  $3,142(3)$ ;  $1,3(15)$ ;  $0,02(123)$ .
- Completează spațiile punctate cu răspunsul corect:
  - Fracția zecimală periodică simplă  $12,(7)$  transformată în fracție ordinară este ...
  - Fracția zecimală periodică mixtă  $0,12(6)$  transformată în fracție ordinară este ...
  - Fracția zecimală periodică mixtă  $1,3(12)$  transformată în fracție ordinară este ...



### Poți fi mai bun!

- Scrive asocierile corecte dintre fracția zecimală din coloana A și fracția ordinară corespunzătoare din coloana B:

a)

A	B
a) $0,(23)$	1) $\frac{157}{30}$
b) $5,2(3)$	2) $\frac{23}{90}$
c) $1,43(752)$	3) $\frac{23}{99}$
	4) $\frac{143609}{99900}$

b)

A	B
a) $1,(752)$	1) $\frac{1751}{999}$
b) $0,(142857)$	2) $\frac{59}{9}$
c) $5,(2)$	3) $\frac{47}{9}$
	4) $\frac{1}{7}$



### Fii campion!

*Alege răspunsul corect!*

- Fracția zecimală  $0,4(12)$  transformată în fracție ordinară ireductibilă este egală cu:
  - $\frac{408}{900}$
  - $\frac{412}{990}$
  - $\frac{412}{99}$
  - $\frac{68}{165}$
- Fracția zecimală  $4,(045)$  transformată în fracție ordinară ireductibilă este egală cu:
  - $\frac{4045}{999}$
  - $\frac{4045}{900}$
  - $\frac{449}{111}$
  - $\frac{4041}{900}$
- Transformă fracția  $\frac{28}{33}$  în fracție zecimală.
  - Determină a 10-a cifră zecimală a fracției zecimale obținute.
  - Determină a 101-a cifră zecimală a fracției zecimale obținute.
- Transformă fracția  $\frac{39}{14}$  în fracție zecimală.
  - Determină a 10-a cifră zecimală a fracției zecimale obținute.
  - Determină a 2017-a cifră zecimală a fracției zecimale obținute.
  - Determină a 107-a cifră zecimală a fracției zecimale obținute.
  - Calculează suma primelor 107 zecimale.

## 8. Număr rațional pozitiv. Ordinea efectuării operațiilor

### Număr rațional pozitiv



la aminte și ține minte!

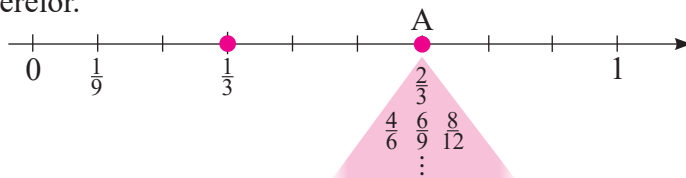
- Numerele scrise sub formă de fracție ordinară sunt **numere raționale pozitive**.

**Exemplu:** un număr rațional pozitiv este  $\frac{2}{3}$ . Dar  $\frac{2}{3} = \frac{4}{6} = \frac{6}{9} = \frac{8}{12} = \frac{10}{15} = \dots$

Toate aceste fracții echivalente reprezintă același număr rațional pozitiv, care poate fi reprezentat de oricare dintre ele.

Reprezentăm fracțiile echivalente pe axa numerelor.

Observăm că fracțiile reprezentate pe axă corespund unui punct unic A.



- Orice număr natural este un număr rațional pozitiv.

**Exemplu:**  $2 = \frac{2}{1} = \frac{4}{2} = \frac{6}{3} = \frac{8}{4} = \frac{10}{5} = \frac{12}{6} = \dots$

- Altă formă de scriere a numărului rațional pozitiv este și fracția zecimală finită și fracția zecimală periodică.

**Exemple:** a)  $23,7 = \frac{237}{10}$ ;      b)  $3,(4) = \frac{34-3}{9} = \frac{31}{9}$ ;      c)  $1,2(25) = \frac{1225-12}{990} = \frac{1213}{990}$ .

### Ordinea efectuării operațiilor

Operațiile cu fracții (ordinare și/sau zecimale finite, zecimale periodice) sunt grupate astfel:

- operații de ordinul întâi: adunarea și scăderea;
- operații de ordinul al doilea; înmulțirea și împărțirea;
- operații de ordinul al treilea: ridicarea la putere.



la aminte și ține minte!

- Într-un exercițiu de calcul cu mai multe operații de același ordin, se efectuează operațiile în ordinea scrierii lor, de la stânga la dreapta.

**Exemple:** a)  $3,875 - 0,87 + 0,025 =$   
 $= 3,005 + 0,025 =$   
 $= 3,030$

b)  $0,625 \cdot 1,5 : 2,5 =$   
 $= 0,9375 : 2,5 =$   
 $= 0,375$

- Într-un exercițiu de calcul cu mai multe operații de ordine diferite se efectuează:
  - ♦ mai întâi ridicarea la putere;
  - ♦ înmulțirea și împărțirea în ordinea scrierii lor, de la stânga la dreapta;
  - ♦ adunarea și scăderea în ordinea scrierii lor, de la stânga la dreapta.

**Exemplu:**  $19,6 : 1,4 : 0,7 + 23,7 : 0,06 - 1,2 \cdot 0,4 =$   
 $= 14 : 0,7 + 395 - 0,48 =$   
 $= 20 + 395 - 0,48 =$   
 $= 415 - 0,48 =$   
 $= 414,52$

- Într-un exercițiu cu paranteze se efectuează mai întâi calculele din parantezele rotunde, apoi calculele din parantezele pătrate, apoi calculele din acolade.

1. Calculează:

a)  $\frac{174}{20} - 6,9$ ; b)  $\frac{25}{63} : \frac{5}{7} \cdot \frac{9}{5}$ ; c)  $3,12 - 1,75 + 2,06$ ; d)  $0,625 \cdot 1,32 : 0,25$ ; e)  $1,5 + 3, (4) - 2,1(6)$ .

2. Calculează: a)  $2,3 \cdot 1,5 - 1,4 \cdot 2,3 + 2,3$ ; b)  $1,2 \cdot 10 : 0,3 + 3,6 \cdot 0,1$ ; c)  $0,7 + 0,7 : 0,7 - 0,7$ ;

d)  $15,27 : 0,03 + 0,834 : 3$ ; e)  $\frac{1}{2} + \frac{1}{3} \cdot \frac{9}{5}$ ; f)  $\left(\frac{2}{3}\right)^3 : \left(\frac{2}{3}\right) + \left(\frac{2017}{2016}\right)^0$ ; g)  $0,1(6) + \frac{2}{5}$ ; h)  $\frac{1}{2} + 0, (4) + \frac{5}{12}$ .

## Exerciții și probleme

Exersează!

Calculează:

1.  $32,4 : 1,8 - 1,75$

2.  $6,5 \cdot 0,2 - 1,1$

3.  $0,4 \cdot 5,76 + 3,82 : 10$

4.  $1,21 : 1,1 - 0,7 \cdot 1,1$

5.  $39,64 - 6,2 : 0,2$

6.  $10,24 : 3,2 \cdot 0,4$

7.  $0,4 + \frac{1}{3} \cdot \frac{3}{4}$

8.  $5,45 + \frac{7}{30} : \frac{1}{3}$

9.  $5,6 \left(0,5 + \frac{1}{2}\right)$

10.  $\left(0, (3) + \frac{1}{8}\right) \cdot 10 + 2\frac{1}{2}$

11.  $\left(1,75 - \frac{3}{4}\right) \cdot 0, (81)$

12.  $5,25 - 1,44 : 1,2$

13.  $4 - 0,3 : 10$

14.  $4,5 \cdot 0,2 + 2,3 : 10$

15.  $7,2 \cdot 1,1 - 1,1 \cdot 3,2$

16.  $42,14 : 0,7 + 18,18 : 1,8$

17.  $2,88 : 1,2 : 0,02$

18.  $\frac{2}{3} + 0,75 \cdot 0,8$

19.  $0, (6) + 6, (6)$

20.  $1, (6) : \left(3 - \frac{5}{3}\right)$

21.  $[0, (2) + 2, (2)] : (0,3 + 0,2 : 3)$

22.  $[0, (1) + 0, (2) + 0, (3) + 0, (4)] : 10$

Poți fi mai bun!

23. Un biciclist parcurge un drum de 24,75 km în trei zile. În prima zi parcurge 0,4 din drum, a doua zi de 1,2 ori mai mult decât în prima zi și încă 2,25 km, iar a treia zi restul drumului. Câți kilometri a parcurs a treia zi?

24. La un atelier de croitorie s-au confecționat 25 de rochii, folosind 3,25 m de material pentru fiecare și alte 20 de rochii, pentru care s-au folosit 2,75 m la fiecare rochie. Câți metri de material s-au folosit, în total, pentru confecționarea rochiilor?

25. Ionel cumpără 1,200 kg de banane și 2,500 kg de mere. Dacă 1 kg banane costă 4,49 lei, iar un kilogram de mere costă 1,99 lei, atunci câți lei a plătit Ionel pe fructele cumpărate?

Fii campion!

26. Un grup de tineri au parcurs 205,5 km cu un autoturism care consumă 8,2 litri de benzină la 100 km. Apoi au parcurs și cei 106,5 km rămași cu un alt autoturism care consumă 9,3 litri la 100 km.

a) Câți litri de benzină au consumat cele două mașini, în total?

b) Dacă 1 litru de benzină costă 4,50 lei, atunci câți lei costă benzina consumată de cele două mașini?

## 9. Metode aritmetice pentru rezolvarea problemelor cu fracții

### Metoda reducerii la unitate

Bunica lui Ionuț cumpără 3 kg de struguri plătiind 34,50 lei. Câți lei ar fi plătit bunica lui Ionuț pentru 5 kg de struguri de același fel?

*Rezolvare:* Judecăm astfel:

- dacă 3 kg de struguri costă 34,50 lei, atunci 1 kg de struguri costă de 3 ori mai puțin, adică  $34,50 : 3 = 11,50$  (lei);
- dacă 1 kg de struguri costă 11,50 lei, atunci 5 kg de struguri costă de 5 ori mai mult, adică  $5 \cdot 11,50 = 57,50$  (lei).

Scriem rezolvarea astfel: 3 kg..... 34,50 lei  
1 kg .....  $34,50 \text{ lei} : 3 = 11,50 \text{ lei}$   
5 kg .....  $5 \cdot 11,50 \text{ lei} = 57,50 \text{ lei}$ .

Așadar, bunica va plăti 57,50 lei pentru 5 kg de struguri.



5+

Aplică ce ai învățat!

1. Dacă trei apartamente ocupă 217,2 m<sup>2</sup> suprafață utilă, află câți metri pătrați ocupă 8 apartamente de același fel.
2. Dacă 15 papiote de ață cântăresc 0,150 kg, află cât cântăresc 50 de papiote de ață de același fel.

### Metoda comparației

Trei pixuri și patru stilouri costă 25,50 lei, iar două pixuri și 3 stilouri costă 18,50 lei. Află câți lei costă un pix și câți lei costă un stilou.

*Rezolvare:* Știm: 2 pixuri ..... 3 stilouri ..... 18,50 lei |  $\cdot 3$

3 pixuri ..... 4 stilouri ..... 25,50 lei |  $\cdot 2$

Obținem: 6 pixuri ..... 9 stilouri ..... 55,50 lei (–)

6 pixuri ..... 8 stilouri ..... 51 lei


/ 1 stilou .....  $55,50 \text{ lei} - 51 \text{ lei} = 4,50 \text{ lei}$

Așadar, 1 stilou costă 4,50 lei; 4 stilouri costă  $4 \cdot 4,50 \text{ lei} = 18 \text{ lei}$ .

Deci 3 pixuri costă  $25,50 \text{ lei} - 18 \text{ lei} = 7,50 \text{ lei}$ , iar un pix costă  $7,50 \text{ lei} : 3 = 2,50 \text{ lei}$ .

*Verificare:* 2 pixuri și 3 stilouri costă 18,50 lei, adică

$$2 \cdot 2,50 \text{ lei} + 3 \cdot 4,50 \text{ lei} = 5 \text{ lei} + 13,50 \text{ lei} = 18,50 \text{ lei}.$$



5+

Aplică ce ai învățat!

1. Trei caiete și patru pixuri costă 16,50 lei, iar două caiete și trei pixuri costă 11,50 lei. Câți lei costă un caiet și câți lei costă un pix?
2. 4 nasturi și 3 gHEME de ață costă 8,60 lei, iar 3 nasturi și 2 gHEME de ață costă 6 lei. Câți lei costă un nasture și câți lei costă un gHEM de ață?

## Metoda mersului invers


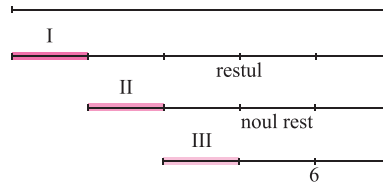
Bunica împarte celor trei nepoți prăjiturile aflate pe un platou. Primului nepot îi dă  $\frac{1}{5}$  din numărul prăjiturilor, altui nepot  $\frac{1}{4}$  din numărul rămas, iar celui de-al treilea nepot îi dă  $\frac{1}{3}$  din noul rest. Pe platou rămân 6 prăjituri. Câte prăjituri avea bunica la început pe platou?

*Rezolvare:* număr total de prăjituri:

nepot I

nepot II

nepot III



Dacă al III-lea nepot ia  $\frac{1}{3}$  din noul rest, atunci rămân  $\frac{2}{3}$  din noul rest, ce reprezintă cele 6 prăjituri.

Așadar  $\frac{2}{3}$  din noul rest este 6.

Noul rest este  $(6 : 2) \cdot 3 = 9$ , adică noul rest este format din cele 9 prăjituri.

Dacă al II-lea nepot ia  $\frac{1}{4}$  din rest, atunci rămân  $\frac{3}{4}$  din noul rest, ce reprezintă cele 9 prăjituri. Așadar  $\frac{3}{4}$  din rest este 9.

Restul este  $(9 : 3) \cdot 4 = 12$ , adică restul este format din cele 12 prăjituri.

Dacă primul nepot ia  $\frac{1}{5}$  din numărul total, atunci rămân  $\frac{4}{5}$  din numărul total, adică cele 12 prăjituri.

Așadar  $\frac{4}{5}$  din numărul total este 12.

Numărul total este  $(12 : 4) \cdot 5 = 15$ , adică bunica avea la început pe platou 15 prăjituri.

*Verificare:*  $15 : 5 = 3$  (prăjituri ia primul nepot);  $15 - 3 = 12$  (prăjituri rămase);  $12 : 4 = 3$  (prăjituri ia al doilea nepot);  $12 - 3 = 9$  (prăjituri rămase);  $9 : 3 = 3$  (prăjituri ia al treilea nepot);  $9 - 3 = 6$  (prăjituri rămân pe platou).

5+

Aplică ce ai învățat!

- La o patiserie se fac covrigi din  $\frac{2}{5}$  din cantitatea de făină, plăcințele cu brânză din  $\frac{1}{3}$  din cantitatea rămasă, iar cornuri din cele 5 kg de făină rămasă. Câte kilograme de făină erau la început în patiserie?
- Un călător a parcurs un drum în trei etape: în prima etapă a parcurs jumătate din drum, în a doua etapă a parcurs jumătate din restul drumului, iar în a treia etapă a parcurs restul de 5,3 km. Câți kilometri a parcurs călătorul în cele trei etape în total?

## Metoda falsei ipoteze

În pușculița Elenei sunt 90 de monede a câte 0,50 lei și 0,10 lei, în valoare de 23 de lei. Câte monede de 0,50 lei sunt în pușculița Elenei? Dar de 0,10 lei?

*Rezolvare: I.* Presupunem că toate cele 90 de monede sunt de 0,50 lei.

$90 \cdot 0,50 \text{ lei} = 45 \text{ lei} > 23 \text{ lei}$ .

$45 \text{ lei} - 23 \text{ lei} = 22 \text{ lei}$  (diferența provine de la faptul că noi am presupus că toate monedele sunt de 0,50 lei)



$0,50 \text{ lei} - 0,10 \text{ lei} = 0,40 \text{ lei}$  (sunt în plus pentru fiecare monedă de 0,10 lei, care a fost luată în calcul că este tot de 0,50 lei)

$22 : 0,40 = 220 : 4 = 55$  (monede de 0,10 lei). Rezultă că  $90 - 55 = 35$  sunt monede de 0,50 lei.

**II.** Presupunem că toate monedele sunt de 0,10 lei.

$90 \cdot 0,10 \text{ lei} = 9 \text{ lei} < 23 \text{ lei}$

$23 \text{ lei} - 9 \text{ lei} = 14 \text{ lei}$  (diferență ce provine de la fiecare monedă de 0,50 lei, pe care am presupus-o că este de 0,10 lei).

$0,50 \text{ lei} - 0,10 \text{ lei} = 0,40 \text{ lei}$  (sunt în minus pentru fiecare monedă de 0,50 lei, care a fost luată în calcul că este tot de 0,10 lei)

$14 \text{ lei} : 0,40 \text{ lei} = 35$  (monede de 0,50 lei). Rezultă că  $90 - 35 = 55$  sunt monede de 0,10 lei.

Așadar sunt 55 monede de 0,10 lei și 35 monede de 0,50 lei.

*Verificare:*  $55 \cdot 0,10 \text{ lei} + 35 \cdot 0,50 \text{ lei} = 23 \text{ lei}$ .

5+

Aplică ce ai învățat!

1. Elena cumpără 7,5 kg de morcovi și varză pentru care plătește 9,95 lei. Dacă un kilogram de morcovi costă 1,50 lei, iar un kilogram de varză costă 1,25 lei, atunci câte kilograme de morcovi cumpără Elena?
2. La o stație de benzină, prețul afișat la pompă era: 4,50 lei un litru de motorină și 5,30 lei un litru de benzină. Radu și Andrei au plătit pentru 25,7 litri de combustibil (motorină și benzină) suma de 127,81 lei. Câți litri de motorină au cumpărat?

## Exerciții și probleme

### Metoda reducerii la unitate

Exersează!

1. Pentru plantarea a 7 pomi fructiferi sunt necesari 8,4 m<sup>2</sup>. Află câți metri pătrați sunt necesari pentru 25 de pomi fructiferi.
2. Dacă 3 cutii cu vopsea au împreună capacitatea de 25,5 l, află câți litri de vopsea au 7 cutii de vopsea de același fel.

Poți fi mai bun!

3. Pentru ambalarea a 3,25 kg de căpșuni sau necesare 5 caserole. Află câte caserole de același fel sunt necesare pentru ambalarea a 8,45 kg de căpșuni.

### Metoda comparației

Exersează!

1. Anca și bunica ei merg la piață. Anca cumpără 3 kg de portocale și 2 kg de banane și plătește 20,50 lei, iar bunica ei cumpără 2 kg de portocale și 4 kg de banane și plătește 31 de lei. Câți lei costă un kilogram de portocale și câți lei costă un kilogram de banane?
2. Dana și prietena ei fac cumpărături. Dana cumpără 3 kg de cartofi și 1,5 kg de ceapă și plătește 5,70 lei. Prietena Danei cumpără 2 kg de cartofi și 3 kg de ceapă și plătește 5,40 lei. Află prețul unui kilogram de cartofi și prețul unui kilogram de ceapă.
3. Într-o livadă, 3 băieți și 2 fete au cules împreună 25,5 kg de cireșe, iar alți 5 băieți și 4 fete au cules împreună 45,5 kg de cireșe. Câte kilograme de cireșe a cules o fată? Dar un băiat? (Fiecare fată a cules aceeași cantitate de cireșe, respectiv, fiecare băiat a cules aceeași cantitate).





Poți fi mai bun!

4. Paul merge 3 ore pe jos și 4 ore cu bicicleta și parcurge 60,5 km. Dacă ar fi mers 2 ore pe jos și 5 ore cu bicicleta, ar fi parcurs 66 km. Câți kilometri parcurge Paul într-o oră dacă merge pe jos? Câți kilometri parcurge Paul într-o oră dacă merge cu bicicleta?



Fii campion!

5. Un percupeț isteț vinde legături de ceapă și pătrunjel și spune așa: dacă vei cumpăra 2 legături de ceapă verde și 3 legături de pătrunjel, plătești 6,75 lei, iar dacă vei cumpăra 3 legături de ceapă verde și 2 legături de pătrunjel, plătești 7 lei. Află cu cât vinde precupețul o legătură de ceapă și cu cât vinde o legătură de pătrunjel.

### Metoda mersului invers



Exersează!

1. Dan are o sumă de bani. În prima zi a cheltuit  $\frac{2}{6}$  din sumă, a doua zi  $\frac{1}{6}$  din sumă, iar a treia zi  $\frac{1}{3}$  din sumă și constată că i-au rămas 50 lei. Află ce sumă de bani avea Dan inițial.
2. Radu pleacă în vacanță. În prima zi a parcurs  $\frac{3}{10}$  din drum, a doua zi  $\frac{4}{7}$  din drumul rămas, iar a treia zi a parcurs cei 450 km rămași până la destinație. Află lungimea drumului parcurs de Radu până la destinație.
3. La o patiserie,  $\frac{1}{4}$  din cantitatea de făină se folosește pentru cornuri cu ciocolată,  $\frac{2}{8}$  din cantitatea de făină pentru plăcințele cu brânză,  $\frac{1}{4}$  din cantitatea de făină pentru covrigi cu sare, mac și susan și mai rămân 10 kg de făină. Ce cantitate de făină era la început în patiserie?



Poți fi mai bun!

4. Un teren este arat în trei zile. În prima zi s-a arat  $\frac{1}{5}$  din suprafața totală și încă 5 ari. A doua zi  $\frac{1}{5}$  din suprafața rămasă și încă 5 ari, iar a treia zi  $\frac{4}{5}$  din restul suprafeței și încă 11 ari. Ce suprafață a fost arată în cele trei zile?

### Metoda falsei ipoteze



Exersează!

1. O fabrică a ambalat 120 kg de compot în 200 de borcane de 0,400 kg și 0,800 kg. Câte borcane de 0,800 kg au fost necesare? Dar de 0,450 kg?
2. Rareș plătește bonul fiscal de 5,25 lei cu 75 de monede de 0,05 lei și de 0,10 lei. Câte monede de fiecare fel i-au fost necesare lui Rareș pentru a plăti acest bon fiscal?
3. La un atelier de croitorie, din 12,5 m de mătase naturală se confecționează 7 bluze și fuste, în total. Dacă pentru o bluză sunt necesari 2,5 m, iar pentru o fustă 1,25 m, află câte bluze și câte fuste se pot confecționa din cei 12,5 m de mătase naturală?



Poți fi mai bun!

4. Tatăl și fiul hotărâsc să facă un drum lung de 47,5 km în 80 de pași, pornind fiecare dintr-un capăt și mergând unul spre celălalt. Dacă pasul fiului are 0,5 m, iar pasul tatălului are 0,75 m, află câți pași a făcut fiecare până s-au întâlnit.

# 10. Probleme de organizare a datelor

## Date statistice organizate în tabele și grafice

Organizarea datelor este reprezentată de succesiunea operațiilor prin care anumite informații sunt structurate în tabele, grafice cu bare, linii, astfel încât ele să poată fi interpretate, ordonate, selectate după criterii precizate.

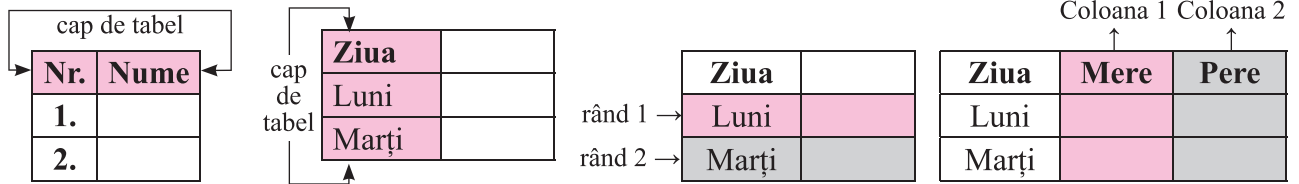


la aminte și ține minte!

- **Tabelele** sunt principalele forme de organizare a datelor.

Tabelul are:

- ♦ cap de tabel care indică semnificația datelor;
- ♦ linii (rânduri);
- ♦ coloane.



**Exemplu:** Pe un eșantion de 100 de persoane s-a realizat un sondaj privind vizionarea unor piese de teatru. Cele 100 de persoane au răspuns la întrebarea „Cât de des mergeți la teatru?”, răspunsul fiind cu opțiuni: niciodată, rar, des.

S-au obținut următoarele rezultate:

- niciodată, au răspuns 15 persoane;
- rar, au răspuns 50 de persoane;
- des, au răspuns 35 de persoane.

Astfel: • 15 persoane nu au vizionat nicio piesă de teatru;

- 50 de persoane vizionează rar piese de teatru;
- 35 de persoane vizionează des piese de teatru.

**Rezolvare:** Întocmim tabelul:

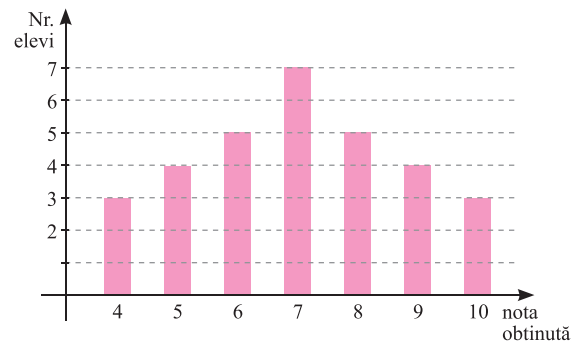
Opțiunea	Niciodată	Rar	Des
Număr persoane	15	50	35

- O altă formă de organizare a datelor este **graficul cu bare**.

**Exemplu:** În diagrama alăturată sunt reprezentate rezultatele obținute de elevii unei clase la un test. Care este numărul elevilor care au obținut cel puțin nota 8?

**Rezolvare:**

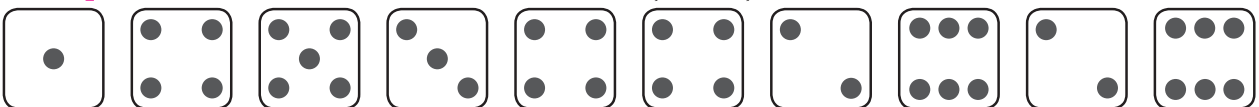
- în grafic, bara verticală de la nota 10 arată că 3 elevi au obținut nota 10;
- în grafic, bara verticală de la nota 9 arată că 4 elevi au obținut nota 9;
- în grafic, bara verticală de la nota 8 arată că 5 elevi au obținut nota 8.



Așadar, numărul elevilor care au obținut cel puțin nota 8 este  $5 + 4 + 3 = 12$ .

### Frecvența

**Exemplu:** La aruncarea unui zar de 10 ori s-au obținut fețele:



Cu ce frecvență apare fiecare față dintre cele 6 fețe?

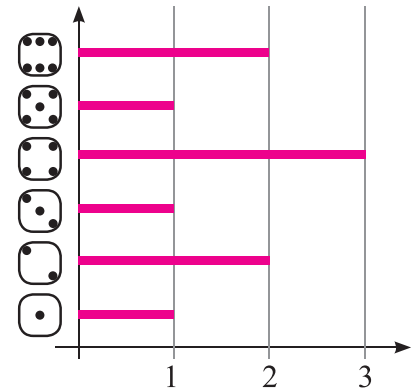
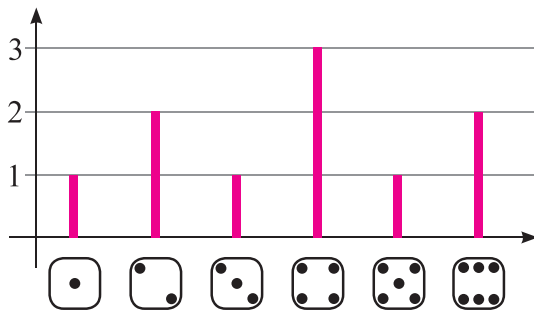
Rezolvare: Întocmim tabelul:

Fața zarului	1	2	3	4	5	6
Număr de apariții	1	2	1	3	1	2

Așadar:

- fața cu numărul 1 apare o singură dată, adică frecvența ei este 1;
- fața cu numărul 2 apare de 2 ori, adică frecvența ei este 2;
- fața cu numărul 3 apare o singură dată, adică frecvența ei este 1;
- fața cu numărul 4 apare de 3 ori, adică frecvența ei este 3;
- fața cu numărul 5 apare o singură dată, adică frecvența ei este 1;
- fața cu numărul 6 apare de 2 ori, adică frecvența ei este 2.

Reprezentăm grafic datele astfel:



### Media unui set de date statistice

**Exemplu:** La un depozit se ambalează semințe de floarea-soarelui și semințe de dovleac. Dacă prețul unui kilogram de semințe de floarea-soarelui este de 22 lei, iar prețul unui kilogram de semințe de dovleac costă 24 lei, află prețul unui kilogram de amestec de semințe de floarea-soarelui și dovleac. (Amestecul se face cu cantități egale din fiecare fel de semințe).

Rezolvare: Prețul unui kilogram de semințe este dat de prețul mediu al unui kilogram determinat astfel: calculăm media aritmetică a numerelor 22 și 24:  $\frac{22 + 24}{2} = \frac{46}{2} = 23$ .

Așadar, prețul unui kilogram de semințe este 23 lei.

### Exerciții și probleme



#### Exersează!

1. Observă și completează, pe caiet, tabelele:

a)

$n$	$n^2$
0	0
1	1
2	4
3	
4	
5	
6	
7	
8	
9	

b)

+	0	1	2	3	4	5	6
0	0	1	2	3	4	5	6
1	1						
2	2			5			
3	3						
4	4						
5	5				9		
6	6					11	

c)

·	0	1	2	3	4	5	6
0	0	0	0	0	0	0	0
1	0						
2	0					10	
3	0						
4	0		8				
5	0						
6	0			18			

2. În tabelul de mai jos sunt reprezentate rezultatele obținute la un test de elevii unei clase.

<b>notă</b>	4	5	6	7	8	9	10
<b>număr elevi</b>	1	3	4	6	4	3	2

Completează pe caiet:

- La acest test, nota 9 a fost obținută de .... elevi.
- La acest test, numărul elevilor care au obținut cel puțin nota 8 este ...
- La acest test, numărul elevilor care au obținut cel mult nota 6 este ...
- La acest test au participat un număr de ... elevi.

3. În tabelul următor este prezentată repartiția culesului de cireșe, într-o săptămână.

<b>ziua</b>	luni	marți	miercuri	joi	vineri	sâmbătă
<b>cantitatea (kg)</b>	10	15	21	24	18	20

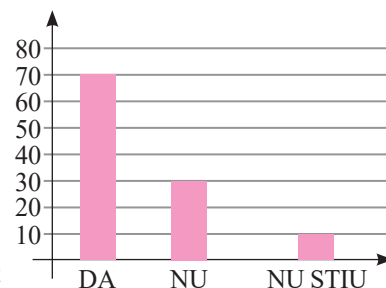
Completează pe caiet:

- În această săptămână s-au cules în medie pe zi ... kg cireșe.
- În această săptămână s-a cules cea mai mare cantitatea de cireșe în ziua de ....
- În această săptămână s-a cules cantitatea cea mai mică de cireșe în ziua de ....
- Diferența dintre cantitatea medie și cantitatea cea mai mică este ....
- Diferența dintre cantitatea medie și cantitatea cea mai mare este ....

4. Rezultatele unui sondaj de opinie sunt prezentate în graficul alăturat.

Completează pe caiet:

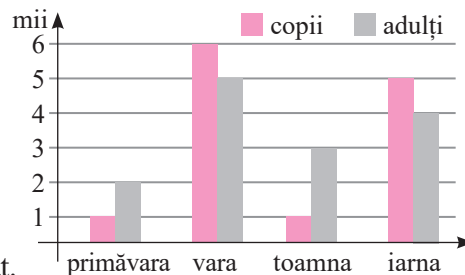
- Numărul persoanelor care au răspuns DA este ...
- Numărul persoanelor care au răspuns NU este ...
- Numărul persoanelor care au răspuns NU ȘTIU este ...
- Numărul total de persoane care au participat la sondaj este ...
- Completează, pe caiet, tabelul cu rezultatele sondajului prezentat în grafic.



	<b>DA</b>	<b>NU</b>	<b>NU ȘTIU</b>
<b>Nr. pers.</b>			

5. În graficul alăturat este reprezentat numărul turiștilor în cele patru anotimpuri, care au beneficiat de serviciile unui hotel. Completează, pe caiet, spațiile libere astfel încât să obții propoziții adevărate.

- Numărul copiilor turiști primăvara este ....
- Vara au fost .... adulți turiști.
- În total, vara au fost .... turiști.
- Iarna, numărul copiilor a fost cu .... mai mare decât numărul adulților.
- Numărul total al copiilor în cele patru anotimpuri este .....
- Numărul total al adulților în cele patru anotimpuri este .....
- Completează, pe caiet, tabelul cu datele prezentate în graficul alăturat.



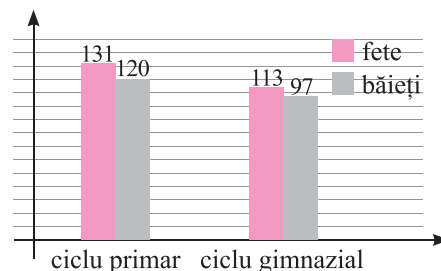
<b>ANOTIMPUL</b>	<b>Primăvară</b>	<b>Vară</b>	<b>Toamnă</b>	<b>Iarnă</b>
copii				
adulți				



Poți fi mai bun!

6. În diagrama alăturată este reprezentat numărul de fete și băieți din cele două cicluri de învățământ dintr-o școală generală.

- Câți elevi de ciclul primar sunt în școală? Dar de ciclul gimnazial?
- Cu cât este mai mic numărul băieților decât numărul fetelor?
- Completează, pe caiet, tabelul cu numărul din grafic.



CICLU	PRIMAR			GIMNAZIAL		
	Total	Fete	Băieți	Total	Fete	Băieți



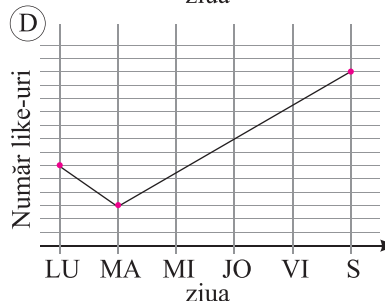
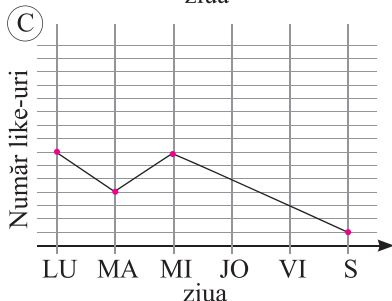
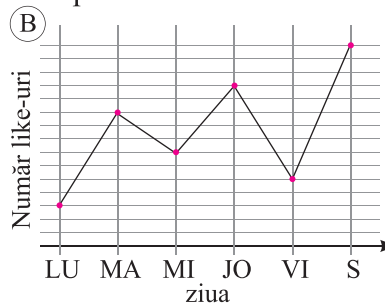
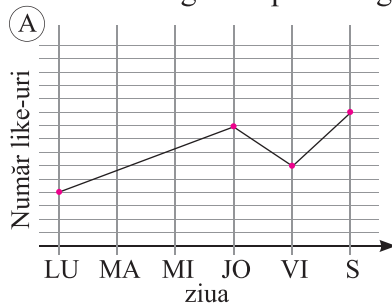
Fii campion!

7. Tabelul de mai jos indică numărul de like-uri primite în diferite zile ale unei săptămâni pentru proiectul „SOS Natura“, inițiat de clasa a V-a.

Ziua	luni	marți	miercuri	joi	vineri	sâmbătă
Număr like-uri	702	925	875	1024	790	1500

Se trasează un grafic fără o scală gradată pentru numărul de like-uri.

Care dintre următoarele imagini ar putea fi graficul ce reprezintă datele din tabel?



8. Realizează o **investigație** cu tema: „Determinarea și compararea distanțelor din mediul apropiat”.

Pentru această investigație:

- culege informații despre distanțele pe care le parcurg 7 dintre colegii tăi de clasă, până la școală (acolo unde distanța nu poate fi determinată cu prea mare precizie, utilizează aproximări);
- înregistrează aceste informații într-un tabel care să conțină: numele elevului, distanța pe care o parcurge de acasă până la școală și mijlocul de transport folosit;
- compară și ordonează crescător distanțele aflate;
- răspunde la întrebările: *Cine locuiește cel mai aproape de școală? Dar cel mai departe? Cu cât este mai scurtă cea mai mică distanță față de cea mai mare? De câte ori? (Aproximați la sutimi, dacă este cazul!).*
- formulează și alte întrebări și răspunde la ele.

# RECAPITULARE ȘI SISTEMATIZARE PRIN TESTE

## Testul de evaluare 1

### Subiectul I (30 p)

1. Completează spațiile punctate cu răspunsul corect:

- a) Dacă amplificăm cu 12 fracția  $\frac{11}{15}$  se obține ...  
b) Dintre fracțiile  $\frac{3}{5}$  și 0,62 mai mare este ...  
c) După simplificarea fracției  $\frac{120}{18}$  se obține fracția ireductibilă...

2. Alege răspunsul corect:

- a) Rezultatul calculului  $\frac{7}{25} - \frac{11}{100}$  este:  
A.  $\frac{4}{25}$       B.  $\frac{32}{200}$       C. 0,17      D. 1,7

- b) Frația  $\frac{18}{x+3}$  este echiunitară dacă  $x$  este egal cu:  
A. 18      B. 15      C. 16      D. 14

3. Scrie asocierile corecte dintre fiecare literă din coloana A și cifra corespunzătoare din coloana B.

A	B
a) $\frac{5}{3} + \frac{1}{6} =$	1. $\frac{58}{195}$
b) $\frac{16}{15} - \frac{10}{13} =$	2. $\frac{1}{7}$
c) $3\frac{1}{2} - 2\frac{1}{5} =$	3. $\frac{11}{6}$
	4. 1,3

### Subiectul II (30p)

4. Efectuează și adu rezultatul în formă ireductibilă:

- a)  $\frac{23}{50} + \frac{39}{50} - \frac{12}{50}$ ;      b)  $3\frac{4}{5} - 1\frac{3}{10} - \frac{4}{15}$ ;      c)  $\frac{10}{11} : \frac{12}{11} - \frac{1}{2} \cdot 0,4$

5. Într-o livadă sunt 360 de pomi dintre care  $\frac{5}{9}$  din ei sunt meri, 35% din rest sunt peri, iar restul sunt cireșii. Află: a) numărul merilor; b) numărul perilor; c) numărul cireșilor.

### Subiectul III (30p)

6. Un drum a fost parcurs în trei zile astfel: în prima zi 20% din lungimea drumului, a doua zi 0,5 din rest și în a treia zi ultimii 140 de kilometri. Află lungimea drumului și câți kilometri au fost parcurși în fiecare din primele două zile.

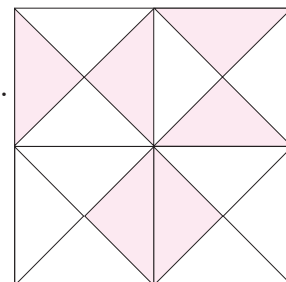
7. Carmen, Dana și Camelia au împreună 83 lei. După ce Carmen cheltuie  $12\frac{1}{2}$  lei, Dana 15,5 lei, iar Camelia  $\frac{175}{10}$  lei, cele trei fete au aceeași sumă de bani. Ce sumă de bani a avut fiecare dintre cele trei fete la început?

(10 p din oficiu)

**Subiectul I (30p)**

1. Completează spațiile punctate cu răspunsul corect:

- a) Frația ordinară ce reprezintă porțiunea hașurată din desen este egală cu ...  
 b) Frația zecimală 2,103 are partea întregă egală cu ...  
 c) Frația ordinară  $\frac{15}{2}$  scrisă sub formă de fracție zecimală este ...



2. Alege răspunsul corect:

a) Frațiile echivalente cu  $\frac{15}{9}$  sunt:

- A.  $\frac{6}{5}; \frac{9}{15}; \frac{45}{6}$       B.  $\frac{2}{3}; \frac{7}{9}; \frac{45}{15}$       C.  $\frac{5}{9}; \frac{15}{10}; \frac{10}{3}$       D.  $\frac{10}{6}; \frac{50}{30}; \frac{5}{3}$

b) Câțul împărțirii  $5 : 3$  este fracția zecimală:

- A. 1,666      B. 1,66      C. 1,6      D. 1,(6)

3. Scrie asocierile corecte dintre fiecare literă din coloana A și cifra corespunzătoare din coloana B.

A	B
a) $\frac{9}{5}$	1) 1,8(3)
b) $\frac{7}{3}$	2) 1,8
c) $\frac{11}{6}$	3) 1,83
	4) 2,(3).

**Subiectul II (30p)**

4. Efectuează calculele:

- a)  $2,5 \cdot 10 + 73,2 : 10$ ;      b)  $6 + 0,375$ ;      c)  $7 - 0,402$ .

5. La o agenție bancară, la prima oră după deschidere, la casă s-au făcut următoarele operații: s-au plătit 2,5 mii lei, s-au încasat 1,3 mii lei, apoi s-au plătit 2,5 mii lei, s-au încasat 1,3 mii lei, apoi s-au plătit 0,8 mii lei, s-au încasat 2,3 mii lei. Dacă la închidere în casă erau 7 mii lei, află câți lei erau în casă la deschidere.

**Subiectul III (30p)**

6. Un fermier a semănat cu roșii 2 ha de teren. Dacă va obține 3,5 tone de roșii la hectar, iar prețul de vânzare va fi 4,5 lei kilogramul, află câți lei va încasa fermierul pe toată cantitatea de roșii ce o va obține de pe cele 2 ha de teren.

7. Bucurie, mare bucurie,  
 E nuntă în împărăție!  
 De privesc mai bine,  
 Mireasă-i o iasomie.  
 Jumătate din nuntași sunt viorele,  
 Un sfert sunt gălbenele,  
 Iar restul ghiocei,

Vreo treizeci, găsești de vei.  
 Curioasă din fire,  
 Iedera vrea să știe,  
 Câți nuntași au fost de toți?  
 Oare câte viorele? Dar gălbenele?  
 Că tare drag i-a fost de ele!

(10 p din oficiu)

**Subiectul I (30p)**

1. Completează spațiile punctate cu răspunsul corect:  
 a) Frația zecimală 3,05 mărită cu 0,75 este egală cu...  
 b) Câțul fracțiilor zecimale 6,25 și 2,5 este egal cu...

2. Alege răspunsul corect:

- a) Scrierea sub formă zecimală a fracției  $\frac{7}{6}$  este:  
 A. 1,6(1)    B. 1,16    C. 1,(16)  $\frac{7}{6}$     D. 1,1(6)  
 b) Dacă media aritmetică a trei numere este 1,25, atunci suma lor este:  
 A. 3,25    B. 4,25    C. 3,75    D. 0,416

3. Scrie asocierile corecte dintre fiecare literă din coloana A și cifra corespunzătoare din coloana B.

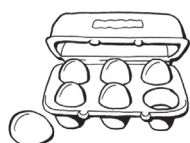
A	B
a) $(2,5 \cdot 1,1 + 0,25) ; 4$	1) 2,8125
b) $2,5 \cdot 1,1 + 0,25 : 4$	2) 0,75
c) $2,5 \cdot (1,1 + 0,25)$	3) 33,75
	4) 3,375

**Subiectul II (30p)**

4. Bunica îi dă nepotului Andrei suma de 30 lei și următoarea lista de cumpărături alăturată:

Făină 2 kg	Zahăr 1 kg
Ouă 10	Ulei 1
Cacao 1 pachet	

La magazin găsește produsele cu următoarele prețuri:



0,5 lei/buc sau  
0,6 lei/buc



2,5 lei/kg sau  
3 lei/kg



3,5 lei/kg sau  
4 lei/kg



6,5 lei/l sau  
7 lei/l



5,5 lei/pachet sau  
6 lei/pachet

Câți lei costă produsele de pe lista bunicii dacă sunt cumpărate cu prețurile cele mici? Dar cu cele mari?

5. Un călător, după ce parcurge un sfert din drum și încă 3,5 km, constată că a depășit cu 1,2 km jumătatea drumului. Care este lungimea drumului?

**Subiectul III (30p)**

6. Din situațiile statistice am obținut următoarele date:  
 a) Copiază tabelul pe caiet și completează-l.  
 b) Scrie fracția dată de numărul fetelor de clasa a V-a pe numărul total de elevi ai clasei a V-a.  
 c) Scrie fracția dată de numărul fetelor de clasa a VI-a pe numărul total de elevi din clasa a VI-a.  
 d) Scrie fracția dată de numărul băieților de clasa a VII-a și numărul de elevi ai clasei a VII-a.

Clasa	Total	Fete	Băieți
a V-a	25	10	
a VI-a	23		12
a VII-a	24		
a VIII-a		12	14
Total		46	

7. Un fermier a arat un teren în 3 zile. În prima zi a arat 20% din teren, a doua zi a arat 30% din teren, iar a treia zi a arat restul de 60 ha. Află suprafața terenului arat de fermier în cele 3 zile.

**(10 p din oficiu)**



# Magia matematicii

„În matematică nu există nicio problemă care nu poate fi rezolvată”!

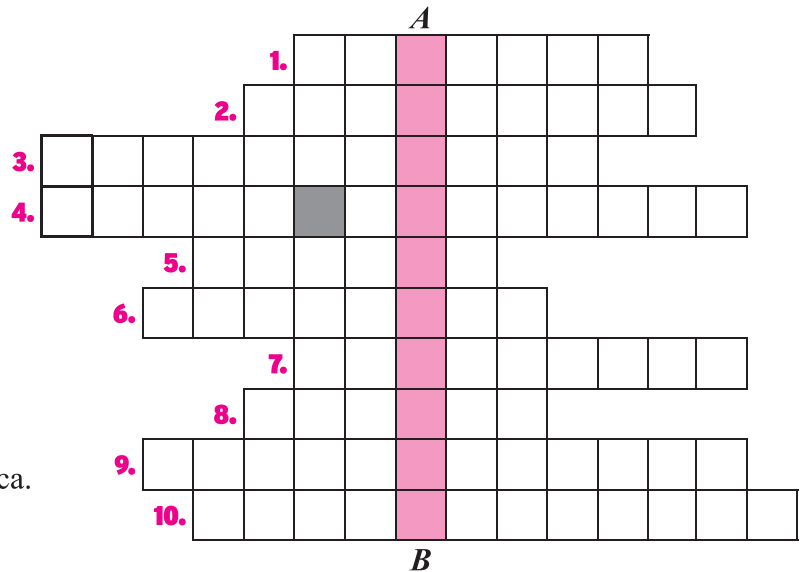
François Viète

## REBUS MATEMATIC

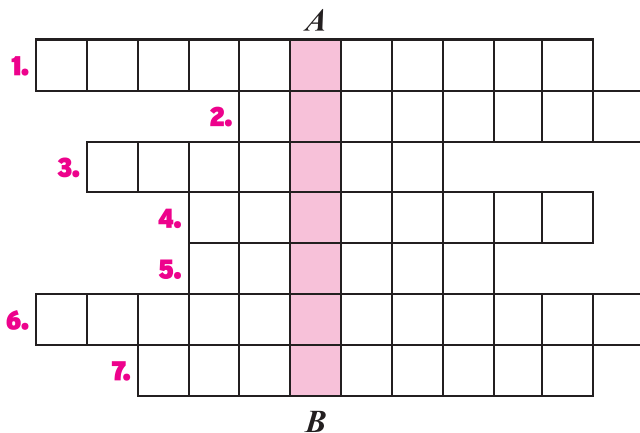
Completează, pe caiet, următoarele rebusuri:

### a) ORIZONTAL

1. Ne arată în câte părți egal este împărțit întregul.
2. Ne arată câte părți egale luăm.
3. Egală cu unitatea.
4. Se află după virgulă.
5. A suta parte dintr-un întreg.
6. Se află înaintea virgulei.
7. Numerele de forma  $\frac{a}{b}$ .
8. A zecea parte dintr-un întreg.
9. Frația care nu se mai poate simplifica.
10. Frația mai mare decât unitatea.



Vertical A-B: Obiect de studiu



### b) ORIZONTAL

1. Operație prin care se înmulțește și numărătorul și numitorul cu un număr natural nenul.
2. Are numărător și numitor.
3. La un loc.
4. Are virgulă.
5. Înmulțirea repetată.
6. Operația prin care se împart și numărătorul și numitorul cu un divizor comun al lor.
7. I se repetă zecimalele.

Vertical A-B: Capitol din matematică

- c) Ți-au plăcut aceste rebusuri? Creează și tu un rebus matematic în care să descoperi noțiuni despre fracții.
- d) Completează și alt rebus creat de o colegă/un coleg de clasă.

# Capitolul 3. Elemente de geometrie și unități de măsură

## 1. Punct. Dreaptă. Plan

Cuvântul „geometrie“ este de origine greacă și este format din cuvintele *geo* = pământ și *metron* = măsură.

Primele cunoștințe de geometrie apar în documentele egiptene și caldeene și constau în reguli practice pentru măsurarea ariilor și volumelor.

Geometria a fost dezvoltată foarte mult în Grecia antică de către Euclid, Pitagora, Thales.

Geometria studiază proprietățile figurilor și ale corpurilor geometrice.



la aminte și ține minte!

- Punctele, dreptele și planele sunt modele matematice construite pornind de la realitate.
- Noțiunile fundamentale ale geometriei sunt: punctul, dreapta și planul.
- **Punctul** este o figură geometrică. Ne imaginăm punctul ca fiind urma lăsată pe hârtie de vârful unui creion la atingerea foii de hârtie sau urma înțepăturii unui vârf de ac.

În geometrie punctul se notează cu o literă mare de tipar a alfabetului latin:  $A$ ,  $B$ ,  $C$  etc.

desenăm

×

notăm

$\times A$

citim

punctul  $A$

Două puncte pot fi *identice* sau *distincte* (diferite).

**două puncte identice**

$B \times A$

$A$  identic cu  $B$  sau  $A = B$

**două puncte diferite**

$A \times \quad \times B$

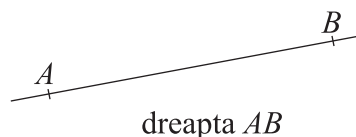

$A$  diferit de  $B$  sau  $A \neq B$ .

- **Dreapta** este o figură geometrică.

Ne imaginăm dreapta ca pe un fir de ață, bine întins și nemărginit, fără grosime.

Dreapta este nelimitată. Se notează cu o literă mică a alfabetului latin:  $a$ ,  $b$ ,  $c$  etc. (sau cu două litere mari de tipar).

Reprezentăm o parte dintr-o dreaptă, dar ne imaginăm că este nesfârșită. Putem desena dreapta folosind rigla.



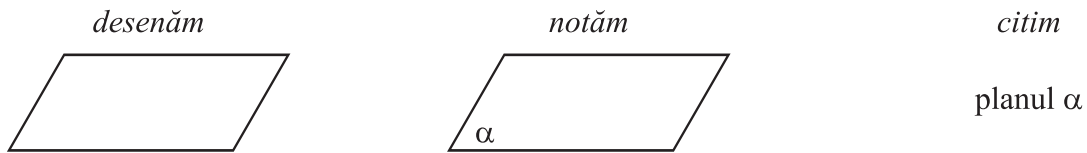
- **Planul** este o figură geometrică.

Ne imaginăm un plan ca fiind o suprafață plată și netedă, nemerginită, fără grosime. De exemplu, suprafața apei unui lac liniștit.

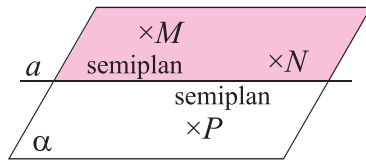
Reprezentăm o parte dintr-un plan, dar trebuie să ne imaginăm că este nesfârșit.

Planul se notează cu o literă a alfabetului grecesc:  $\alpha$  (alfa),  $\beta$  (beta),  $\delta$  (delta),  $\gamma$  (gama) etc.

Pentru a reprezenta un plan, desenăm de obicei un paralelogram.

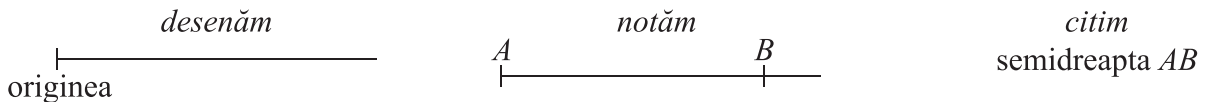


- **Semiplanul** este o parte dintr-un plan, limitată la un capăt.

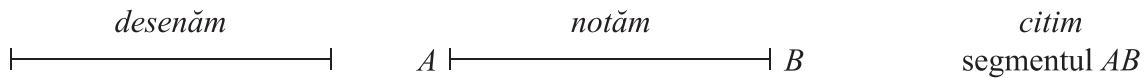


Orice dreaptă împarte un plan în două semiplane. În desenul alăturat, punctele  $M$  și  $N$  sunt în același semiplan, iar punctele  $M$  și  $P$  sunt în semiplane diferite.

- **Semidreapta** este o parte dintr-o dreaptă, limitată la unul dintre capete, numit *originea semidreptei*.



- **Segmentul** este o parte dintr-o dreaptă, limitată la ambele capete, numite *extremitățile segmentului*.



5+






Aplică ce ai învățat!

1. Desenează pe caiet un punct, o dreaptă, un plan, o semidreaptă și un segment. Notează-le!
2. Desenează: a) punctul  $E$ ; b) dreapta  $MN$ ; c) semidreapta  $AC$ ; d) segmentul  $PQ$ ; e) planul  $\beta$ .

## Exerciții și probleme

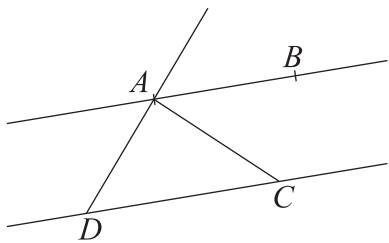
Exersează!

1. Desenează pe caiet o dreaptă și fixează pe ea: a) un punct; b) două puncte distincte. Scrie toate semidreptele determinate de 2 puncte de pe dreapta desenată.
2. Asociază desenului din partea dreaptă denumirea sa din coloana din partea stângă.
 

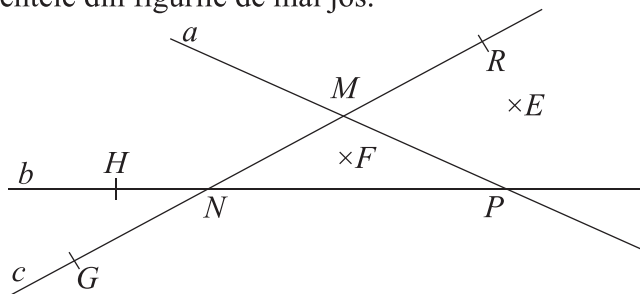
a) 	1) segment
b) 	2) punct
c) 	3) dreaptă
d) 	4) semidreaptă
e) 	

3. Scrie punctele, dreptele semidreptele și segmentele din figurile de mai jos.

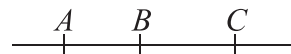
a)



b)

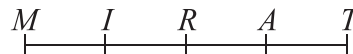


4. Câte segmente sunt pe dreapta din figura alăturată? Dar semidrepte?

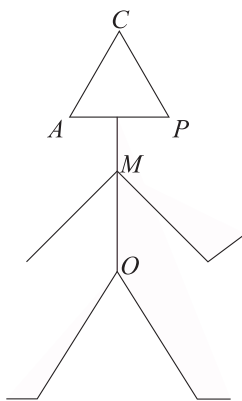


Poți fi mai bun!

5. Câte segmente sunt în figura alăturată? Scrie segmentele!

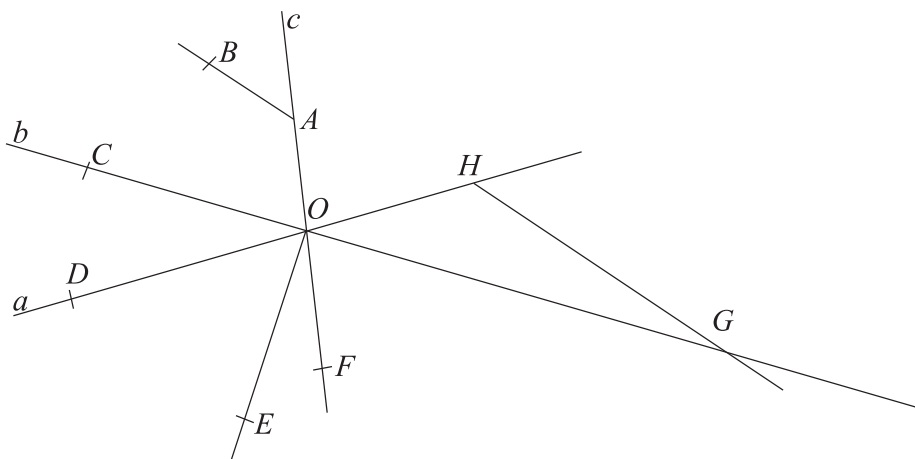


6. Scrie punctele, dreptele, semidreptele și segmentele din figura de mai jos:



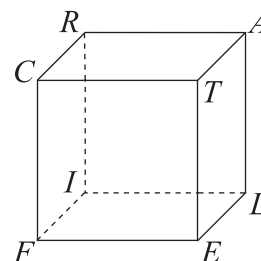
Fii campion!

7. Scrie punctele, dreptele semidreptele și segmentele din figura de mai jos.



8. Privește figura alăturată, în care este desenat un cub și răspunde pe caiet la întrebările următoare:

- Câte drepte sunt reprezentate în desen?
- Câte plane sunt reprezentate în acest desen?
- Trasează toate segmentele care au o extremitate în punctul  $E$  și cealaltă extremitate într-un alt vârf al cubului. Află câte sunt.

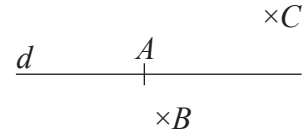


## 2. Pozițiile relative ale unui punct față de o dreaptă. Pozițiile relative a două drepte

### Pozițiile relative ale unui punct față de o dreaptă

Un punct poate fi pe o dreaptă sau exterior acelei drepte.

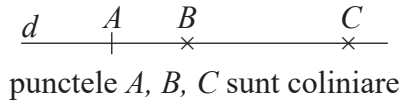
- Punctul  $A$  este **punct al dreptei**  $d$ .
- Punctele  $B$  și  $C$  sunt **puncte exterioare** dreptei  $d$ .



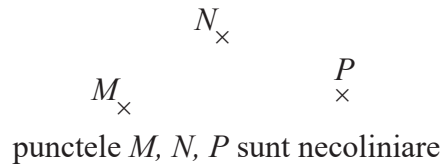
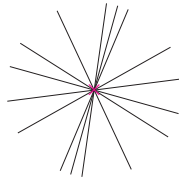
la aminte și ține minte!

- Trei sau mai multe puncte sunt **coliniare** dacă există o singură dreaptă care să le conțină.
- Punctele situate pe aceeași dreaptă sunt puncte coliniare.
- Punctele care nu sunt situate pe aceeași dreaptă se numesc puncte necoliniare.

**Exemple:**



- Printr-un punct trec o infinitate de drepte.



- Prin două puncte distincte trece o dreaptă și numai una.

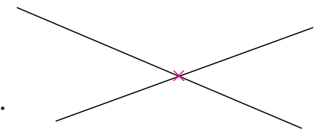


### Pozițiile relative a două drepte



la aminte și ține minte!

- Două drepte care au un singur punct comun se numesc **drepte concurente**.
- Două drepte din același plan, care nu au niciun punct comun, se numesc drepte **paralele**.



5+

Aplică ce ai învățat!

1. Desenează pe caiet dreapta  $b$ , punctele  $M$  și  $N$  pe dreaptă, iar punctele  $C$  și  $D$  exterioare dreptei.
2. Desenează:
  - a) 5 puncte coliniare;
  - b) două drepte concurente;
  - c) două drepte paralele.
3. Desenează trei drepte concurente două câte două.



### Exersează!

1. a) Desenează și notează două puncte identice.  
b) Desenează și notează două puncte distincte.
2. Desenează două puncte distincte  $A$  și  $M$ , apoi desenează dreapta determinată de cele două puncte distincte.
3. Desenează dreapta  $d$  și două puncte distincte  $A$  și  $B$ , astfel încât:
  - a) punctele distincte  $A$  și  $B$  sunt pe dreapta  $d$ ;
  - b) punctul  $A$  este pe dreapta  $d$  și punctul  $B$  este exterior dreptei  $d$ ;
  - c) punctul  $A$  este exterior dreptei  $d$  și punctul  $B$  este pe dreapta  $d$ ;
  - d) punctele  $A$  și  $B$  sunt exterioare dreptei  $d$ .
4. Completează spațiile punctate cu răspunsul corect:
  - a) Două drepte care au un singur punct comun se numesc drepte .....
  - b) Două sau mai multe puncte situate pe aceeași dreaptă sunt puncte .....
  - c) Două drepte situate în același plan care nu au niciun punct comun se numesc drepte .....
5. Alege răspunsul corect:
 

a) Printr-un punct:	A. trece o singură dreaptă;	B. trec două drepte distincte;
	C. nu trece nicio dreaptă;	D. trec o infinitate de drepte.
b) Prin două puncte distincte:	A. trece o singură dreaptă;	B. trec două puncte distincte;
	C. nu trece nicio dreaptă;	D. trec o infinitate de drepte.
c) O dreaptă conține:	A. un singur punct;	B. două puncte distincte;
	C. 10 puncte distincte;	D. o infinitate de puncte.



### Poți fi mai bun!

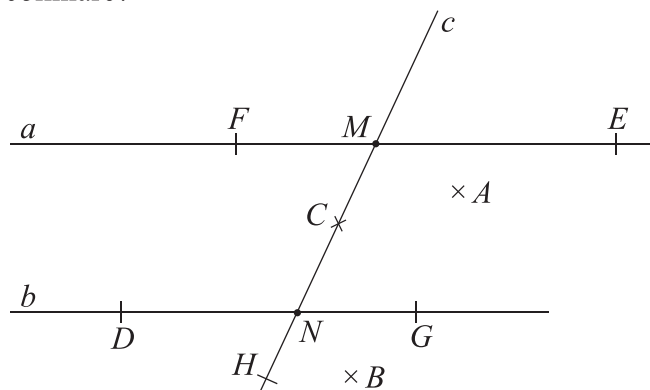
6. a) Desenează și notează trei puncte necoliniare  $A, B, C$ .  
b) Desenează și notează dreptele determinate de cele trei puncte necoliniare  $A, B$  și  $C$ .  
c) Câte drepte distincte determină punctele necoliniare  $A, B$  și  $C$ ?
7. a) Desenează și notează trei puncte coliniare.  
b) Câte drepte distincte determină cele trei puncte coliniare?
8. a) Desenează dreptele  $a$  și  $b$  concurente.  
b) Desenează dreptele  $a$  și  $b$  paralele.



### Fii campion!

9. Folosește desenul alăturat și scrie:
 

a) drepte concurente;	b) drepte paralele;
c) puncte pe dreapta $a$ ;	d) puncte pe dreapta $b$ ;
e) puncte pe dreapta $c$ .	



### 3. Lungimea unui segment. Distanța dintre două puncte. Mijlocul unui segment. Simetricul unui punct față de un punct

#### Lungimea unui segment. Distanța dintre două puncte



la aminte și ține minte!

- Segmentul se măsoară cu ajutorul riglei gradate. Astfel determinăm **lungimea segmentului**, care se exprimă în unități de măsură pentru lungime.

**Exemple:** a) Desenează un segment și măsoară-l. Scribe lungimea lui.

Lungimea segmentului  $AB$  este de 5 cm și scriem  $AB = 5$  cm.

b) Desenează un segment cu lungimea de 6 cm.

- Distanța dintre două puncte este **lungimea segmentului** determinat de cele două puncte.

**Exemple:** a) Determină distanța dintre punctele  $A$  și  $B$ , din desenul alăturat.  $A \times$   $\times B$   
Măsurăm segmentul determinat de punctele  $A$  și  $B$ .  $A \times$   $\times B$

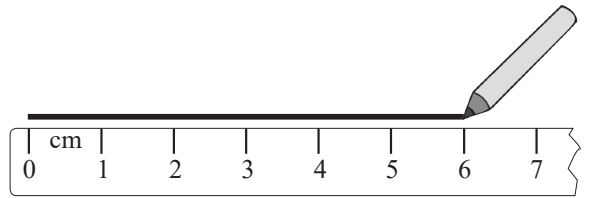
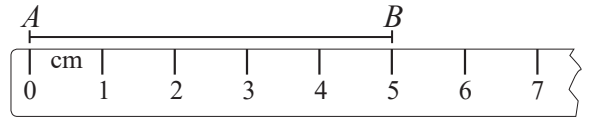
Distanța dintre punctele  $A$  și  $B$  este de 3 cm.  $AB = 3$  cm.

b) Fie punctele  $A, B, C$ , astfel încât  $AB = 4$  cm,  $BC = 3$  cm și  $AC = 7$  cm. Stabilește dacă punctele  $A, B$  și  $C$  sunt coliniare.

Calculăm  $AB + BC = 4$  cm +  $3$  cm =  $7$  cm =  $AC$ . Așadar,  $AB + BC = AC$ , ceea ce dovedește că punctele  $A, B$  și  $C$  coliniare.

c) Fie punctele  $A, B, C$ , astfel încât  $AB = 4$  cm,  $BC = 3$  cm și  $AC = 5$  cm. Stabilește dacă punctele  $A, B, C$  sunt coliniare.

Calculăm  $AB + BC = 4$  cm +  $3$  cm =  $7$  cm. Cum  $AC = 5$  cm  $\Rightarrow AB + BC > AC$ , așadar punctele  $A, B, C$  sunt necoliniare.

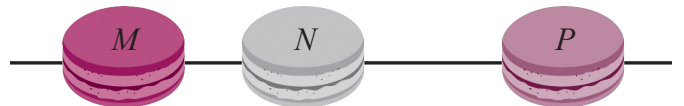


5+

Aplică ce ai învățat!

Stabilește dacă punctele  $M, N, P$  sunt coliniare, știind că:

- $MN = 8$  cm,  $NP = 10$  cm,  $MP = 18$  cm;
- $MN = 13$  cm,  $NP = 4$  cm,  $MP = 15$  cm;
- $MN = 10$  cm,  $NP = 17$  cm,  $MP = 7$  cm.

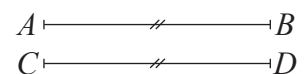


#### Segmente congruente



la aminte și ține minte!

- Două segmente care au lungimile egale sunt **segmente congruente**. Segmentul  $AB$  este congruent cu segmentul  $CD$  și scriem  $AB \equiv CD$ .
  - dacă  $AB = CD$ , atunci  $AB \equiv CD$ .
  - dacă  $AB \equiv CD$ , atunci  $AB = CD$ .

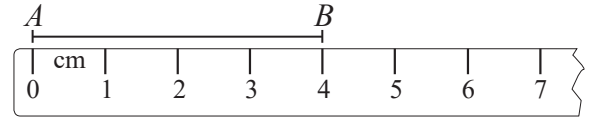


- Un segment congruent cu un segment dat poate fi construit cu ajutorul riglei gradate sau compasului.

★ Construim segmentul  $MN$  congruent cu segmentul dat  $AB$  cu ajutorul riglei gradate.

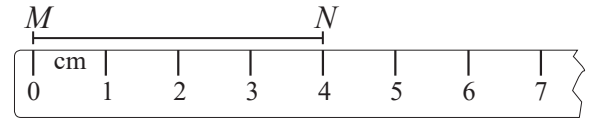
1) Măsurăm segmentul dat  $AB$ .

Obținem  $AB = 4$  cm.



2) Alegem un punct oarecare  $M$ .

Așezăm rigla gradată cu diviziunea 0 în dreptul lui  $M$ , măsurăm 4 cm de la  $M$ , iar  $N$  va fi în dreptul diviziunii ce indică 4 cm. Trasăm segmentul  $MN$ .



★ Construim segmentul  $MN$  congruent cu segmentul dat  $AB$  cu ajutorul compasului.



1) Luăm în deschiderea compasului lungimea segmentului dat  $AB$ .



2) Desenăm o semidreaptă cu originea în punctul  $M$ . Așezăm brațul fix al compasului în punctul  $M$ , păstrând distanța luată între brațele compasului, iar brațul mobil va marca punctul  $N$  pe semidreaptă.

Am construit segmentul  $MN$  congruent cu segmentul dat  $AB$ .

5+

Aplică ce ai învățat!

Construiește prin cele două metode segmente congruente cu următoarele segmente

a) \_\_\_\_\_ ;      b) \_\_\_\_\_

## Mijlocul unui segment. Simetricul unui punct față de un punct

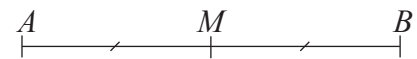


la aminte și ține minte!

- **Mijlocul unui segment** este acel punct al segmentului care formează cu capetele sale două segmente congruente.

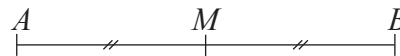
**Exemplu:**

$M$  mijlocul segmentului  $AB \Rightarrow M$  este punct al segmentului  $AB$  și  $AM \equiv BM$ .



$M$  mijlocul segmentului  $AB \Rightarrow MA = MB = \frac{AB}{2}$ .

- Punctele  $A$  și  $B$  sunt **simetrice față de punctul  $M$** , dacă  $M$  este mijlocul segmentului  $AB$ .



Punctul  $A$  este **simetricul punctului  $B$**  față de punctul  $M$ , deoarece  $M$  este mijlocul segmentului  $AB$ .

5+

Aplică ce ai învățat!

1. Desenează, pe caiet, notează și măsoară 5 segmente.
2. Desenează, pe caiet, un segment. Fixează mijlocul său.
3. Desenează, pe caiet, punctele  $A$  și  $B$  simetrice față de punctul  $C$ .
4. Fie punctele distincte  $A$  și  $P$ . Desenează punctul  $B$  simetricul punctului  $A$  față de punctul  $P$ .





### Exersează!

1. Desenează un segment pe caiet. Notează și apoi măsoară segmentul desenat.
2. Desenează și notează un segment cu lungimea de 3 cm.
3. a) Care este lungimea creionului tău?  
b) Măsoară distanța dintre vârful degetului mare și vârful degetului mic al palmei tale bine întinsă. Scrie pe caiet valoarea obținută.
4. Completează pe caiet spațiile punctate cu răspunsurile corecte:
  - a) Lungimea segmentului se exprimă în .... sau .... sau .... sau ....sau .... sau .....
  - b) Mijlocul segmentului este un ....
  - c) Două segmente care au lungimile egale sunt segmente ....
5. Alege răspunsul corect!
  - a) Fie  $M$  mijlocul segmentului  $AB$ . Dacă lungimea segmentului  $AB$  este de 15 cm, atunci lungimea segmentului  $AM$  este egală cu:  
A. 30 cm;      B. 7,5 cm;      C. 10 cm;      D. 15 cm.
  - b) Fie  $M$  mijlocul segmentului  $AB$ . Dacă lungimea segmentului  $AM$  este de 3 cm, atunci lungimea segmentului  $AB$  este egală cu:  
A. 3,5 cm;      B. 6 cm;      C. 17,5 cm;      D. 10 cm.



### Poți fi mai bun!

6. Fie punctele coliniare  $A, B, C, D$ , în această ordine. Se știe că  $AB = 2,3$  cm,  $BC = 5,7$  cm,  $CD = 2$  cm. Determină lungimea segmentelor  $AC, BD, AD$ .



7. Fie  $A, B, C$  trei puncte coliniare în această ordine,  $M$  mijlocul segmentului  $AB$  și  $N$  mijlocul segmentului  $BC$ .
  - a) Dacă  $AB = 3$  cm,  $BC = 4$  cm, determină lungimea segmentului  $MN$ .
  - b) Dacă  $MN = 6$  cm,  $AM = 1,5$  cm, determină lungimea segmentelor  $AB, BC, AC$ .
  - c) Dacă  $AM = 2,5$  cm și  $NC = 1,2$  cm, determină lungimea segmentelor  $AB, BC, MN, AC$ .
  - d) Dacă  $BC = 7$  cm și  $MB = 2$  cm, determină lungimea segmentelor  $AB, AM, BN, NC, MN$ .
  - e) Dacă  $MN = 8$  cm și  $NC = 3,5$  cm, determină lungimile segmentelor  $AB, BC, AM, MB, BA$ .



### Fii campion!

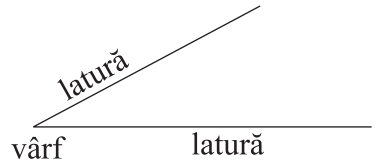
8. Dacă punctele  $A$  și  $B$  sunt simetrice față de punctul  $M$  și  $AB = 9$  cm, determină lungimea segmentelor  $AM$  și  $MB$ .
9. Fie un punct  $P$ . Desenează, pe caiet, și notează perechi de puncte simetrice față de punctul  $P$ . Ce observi?

## 4. Unghiul



la aminte și ține minte!

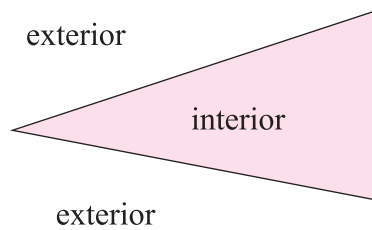
- **Unghiul** este figura geometrică formată din două semidrepte cu aceeași origine.
- Originea comună se numește *vârful unghiului*, iar cele două semidrepte se numesc *laturile unghiului*.
- Pentru notarea unghiului folosim semnul „ $\sphericalangle$ ” sau „ $\widehat{\phantom{A}}$ ”.



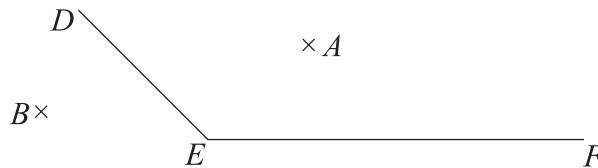
Unghiul se notează, folosind unul din semnele de unghi, fie cu o singură literă mare de tipar și anume litera din vârf, fie cu trei litere mari de tipar, astfel încât litera din vârf să fie la mijloc.

desenăm	notăm	scriem	citim
		$\sphericalangle B$ sau $\widehat{B}$	unghiul $B$
		$\sphericalangle ABC$ sau $\widehat{ABC}$	unghiul $ABC$

- $\sphericalangle ABC$  are: - vârful în punctul  $B$   
- laturile: semidreapta  $BA$  și semidreapta  $BC$ .



**Exemple:** a) punctul  $A$  este în interiorul  $\sphericalangle DEF$ ;    b) punctul  $B$  este în exteriorul  $\sphericalangle DEF$ .

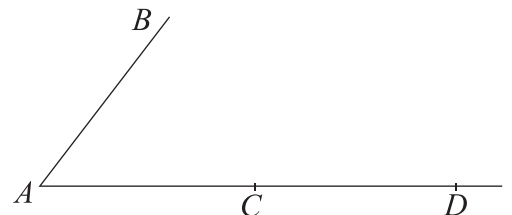


5+

Aplică ce ai învățat!

1. Unghiul  $\widehat{MNP}$  are vârful în punctul .... și laturile sunt: semidreapta .... și semidreapta .... .
2. Alege răspunsurile corecte! Notăția unghiului din figura alăturată este:

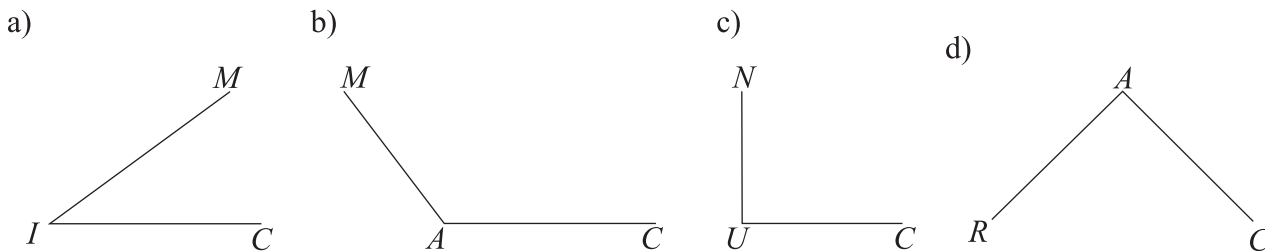
A)  $\widehat{BAC}$ ; B)  $\widehat{BCA}$ ; C)  $\widehat{CBA}$ ; D)  $\widehat{A}$ ; E)  $\widehat{DAB}$ ; F)  $\widehat{DBA}$ .



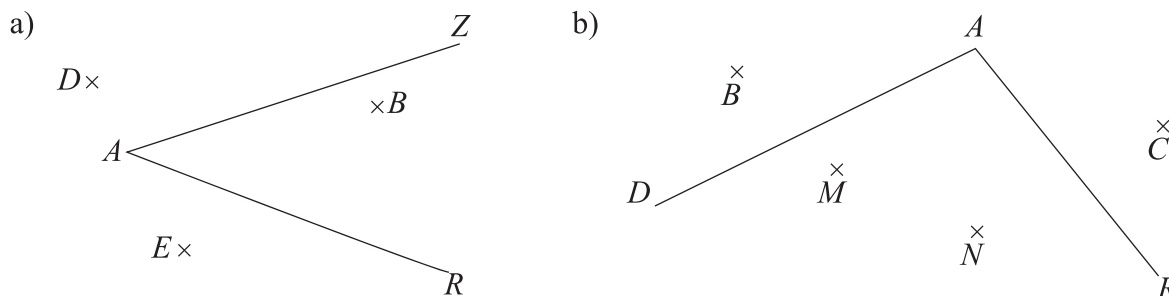


## Exersează!

- Completează în caiet spațiile punctate cu răspunsul corect:
  - Unghiul este figura geometrică formată din două semidrepte cu ....
  - Originea comună se numește .... unghiului.
  - Pentru notarea unghiului folosim semnul .... sau semnul ....
- Citește următoarele unghiuri și precizează vârful și laturile pentru fiecare:



- Precizează punctele interioare și punctele exterioare pentru  $\sphericalangle ZAR$  și  $\sphericalangle DAR$ , notate pe desen.



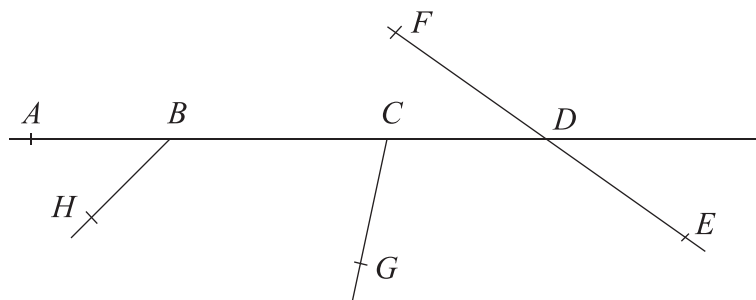
- Desenează punctele  $L$ ,  $M$  și  $N$  în interiorul  $\sphericalangle FIX$  și punctele  $A$ ,  $B$  și  $C$  în exteriorul  $\sphericalangle FIX$ .

- Desenează și citește două unghiuri care au o latură comună.



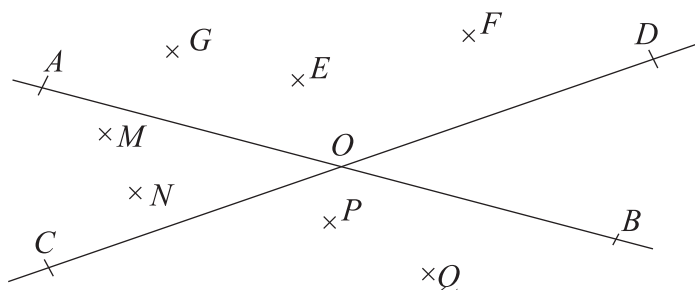
## Poți fi mai bun!

- Scrie în caiet unghiurile din figura de mai jos:



## Fii campion!

- Desenează pe caiet figura alăturată și scrie:
  - punctele notate aflate în interiorul  $\sphericalangle AOB$ ;
  - punctele notate aflate în interiorul  $\sphericalangle DOB$ ;
  - punctele notate aflate în interiorul  $\sphericalangle BOC$ ;
  - punctele notate aflate în interiorul  $\sphericalangle AOC$ ;
  - punctele notate aflate în exteriorul  $\sphericalangle AOD$ .



## 5. Măsura unui unghi



la aminte și ține minte!

- Unitatea de măsură pentru unghiuri este **gradul** „°“.  
1 grad = 60 minute și 1 minut = 60 secunde  
 $1^\circ = 60'$        $1' = 60''$
- Instrumentul pentru măsurarea unghiului este **raportorul**.

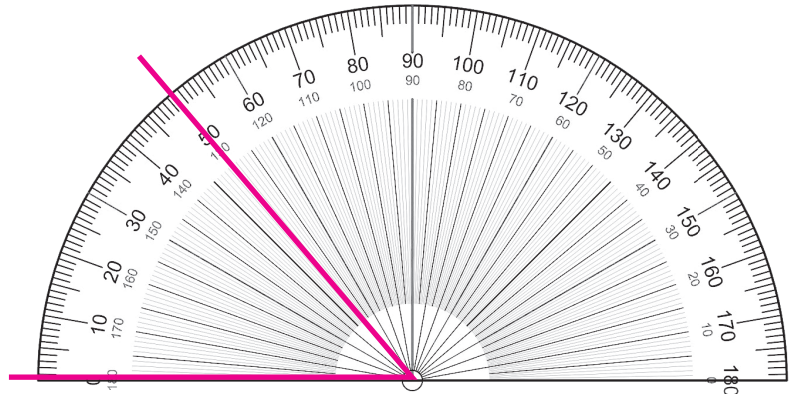
Pentru măsurarea unghiului cu ajutorul raportorului procedăm astfel:

★ fixăm centrul raportorului în vârful unghiului, iar una dintre laturile unghiului prin diviziunea marcată cu  $0^\circ$  a raportorului;

★ citim în dreptul celeilalte laturi numărul de grade corespunzător diviziunii.

Scriem că măsura unghiului  $AOB$  este  $50^\circ$  astfel  $\sphericalangle AOB = 50^\circ$ .

*Observație:* Notăția  $\sphericalangle AOB$  reprezintă atât unghiul  $AOB$ , cât și măsura acestuia, în funcție de context.

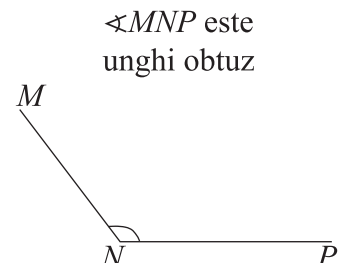
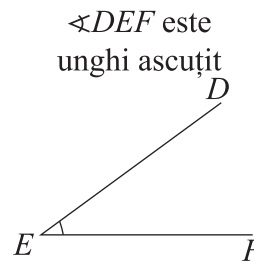
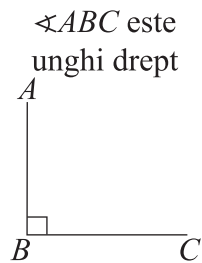
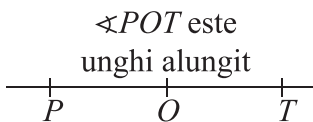
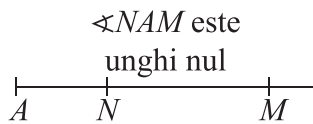


5+

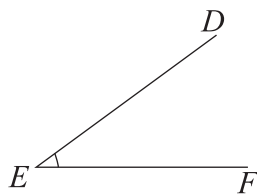
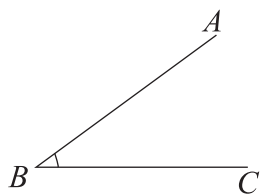
Aplică ce ai învățat!

Desenează pe caiet, notează și măsoară cinci unghiuri.

- ★ *Unghiul nul* are măsura de  $0^\circ$ . *Unghiul alungit* are măsura de  $180^\circ$ .
- ★ *Unghiul drept* are măsura de  $90^\circ$ .
- ★ *Unghiul ascuțit* are măsura mai mică decât  $90^\circ$ .
- ★ *Unghiul obtuz* are măsura mai mare decât  $90^\circ$ .



- Două unghiuri care au măsurile egale sunt **unghiuri congruente**.



$$\sphericalangle ABC \equiv \sphericalangle DEF$$

• dacă  $\sphericalangle ABC = \sphericalangle DEF \Rightarrow \sphericalangle ABC \equiv \sphericalangle DEF$

• dacă  $\sphericalangle ABC \equiv \sphericalangle DEF \Rightarrow \sphericalangle ABC = \sphericalangle DEF$

- dacă  $\sphericalangle ABC$  este unghi alungit, atunci punctele  $A, B, C$  sunt puncte coliniare
- dacă punctele  $A, B, C$ , sunt coliniare, în această ordine, atunci  $\sphericalangle ABC$  este unghi alungit.

**Exemple:**

$\sphericalangle AOB = 40^\circ$  și  $\sphericalangle BOC = 140^\circ$  și  $\sphericalangle AOB + \sphericalangle BOC = \sphericalangle AOC$ . Stabilește dacă punctele  $A, O, C$  sunt coliniare.

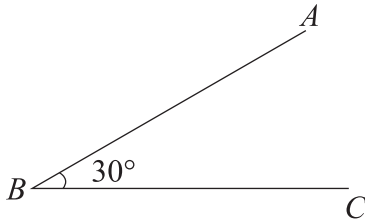
*Rezolvare:*  $\sphericalangle AOB + \sphericalangle BOC = 40^\circ + 140^\circ = 180^\circ$ ,

dar  $\sphericalangle AOB + \sphericalangle BOC = \sphericalangle AOC$ , așadar  $\sphericalangle AOC = 180^\circ$ , adică punctele  $A, O, C$  coliniare.

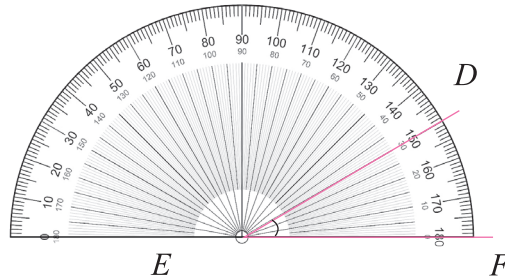
**Construcția unui unghi congruent cu un unghi dat cu ajutorul raportului**

Se dă unghiul  $ABC$ . Să se construiască unghiul  $DEF$  congruent cu unghiul  $ABC$ .

- 1) Măsurăm unghiul  $ABC$  dat.  
 $\sphericalangle ABC = 30^\circ$



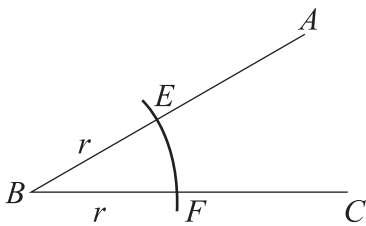
- 2) Desenăm semidreapta  $EF$ . Așezăm raportorul ca în figura alăturată. În dreptul diviziunii  $30^\circ$  fixăm punctul  $D$ . Trasăm semidreapta  $ED$  și astfel obținem  $\sphericalangle DEF \equiv \sphericalangle ABC$ .



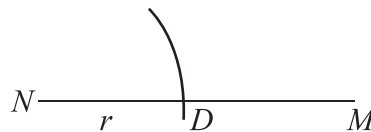
**Construcția unui unghi congruent cu un unghi dat cu rigla și compasul**

- Se dă unghiul  $ABC$ . Să se construiască unghiul  $MNP$  congruent cu unghiul  $ABC$ .

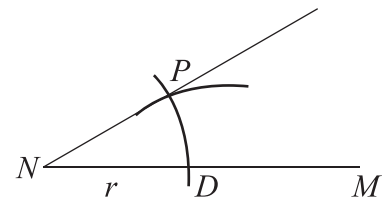
- 1) Considerăm cercul cu centrul în  $B$  și rază oarecare  $r$ , care intersectează semidreapta  $BA$  în  $E$  și semidreapta  $BC$  în  $F$ .



- 2) Desenăm semidreapta  $NM$  și un cerc de centrul  $N$  și rază  $r$  care intersectează semidreapta  $NM$  în  $D$ .



- 3) Luăm între brațele compasului deschiderea  $EF$  și trasăm un cerc de centru  $D$ , care intersectează cercul anterior în punctul  $P$ . Trasăm semidreapta  $NP$ .



Obținem  $\sphericalangle MNP \equiv \sphericalangle ABC$ .

**5+** Aplică ce ai învățat!

1. Construiește unghiul  $AOB$  cu măsura de  $70^\circ$  și unghiul  $MNP$  congruent cu unghiul  $AOB$ .
2. Construiește unghiul  $COD$  cu măsura de  $100^\circ$  și unghiul  $PQR$  congruent cu unghiul  $COD$ .
3.  $\sphericalangle AOB = 70^\circ$  și  $\sphericalangle BOC = 110^\circ$  și  $\sphericalangle AOB + \sphericalangle BOC = \sphericalangle AOC$ . Stabilește dacă punctele  $A, O, C$  sunt coliniare.



Exersează!

- Completează pe caiet spațiile punctate cu răspunsul corect:
  - Unghiul drept are măsura de ...°.
  - Unghiul nul are măsura de ...°.
  - Unghiul alungit are măsura de ...°.
- Alege răspunsul corect! Dacă  $\sphericalangle AOB = 68^\circ$  și  $\sphericalangle AOB \equiv \sphericalangle COD$ , atunci  $\sphericalangle COD$  are măsura de:
 

A.  $34^\circ$ ;      B.  $68^\circ$ ;      C.  $90^\circ$ ;      D.  $86^\circ$ .
- Alege răspunsul corect! Dacă un unghi este de  $91^\circ$ , atunci unghiul este:
 

A. drept;      B. ascuțit;      C. obtuz;      D. alt răspuns.
- Construiește cu ajutorul raportorului unghiul  $DAC$ , dacă măsura lui este de  $70^\circ$ .



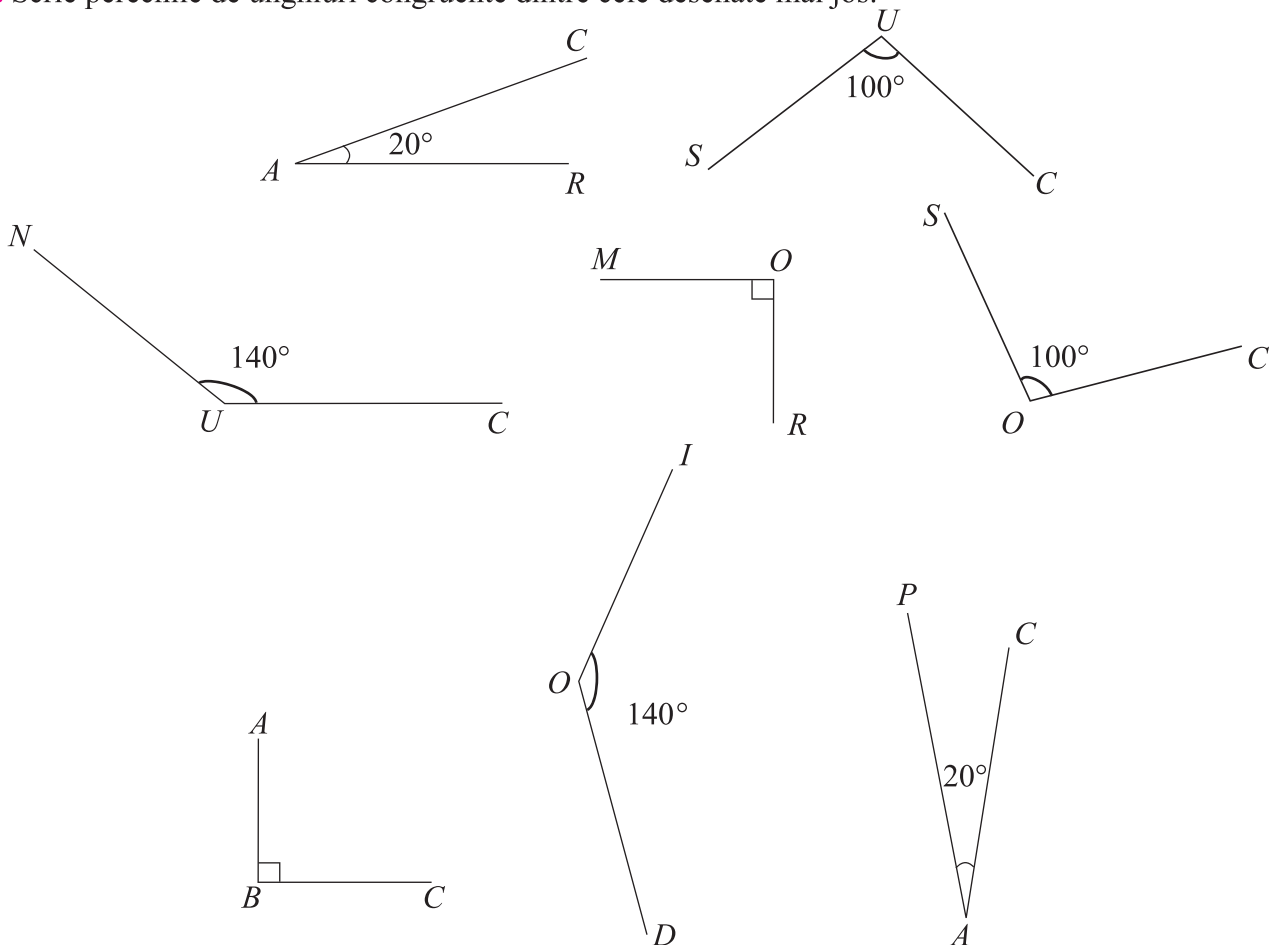
Poți fi mai bun!

- Construiește unghiul  $DOG$  congruent cu unghiul  $REX$ , dacă  $\sphericalangle REX = 113^\circ$ .



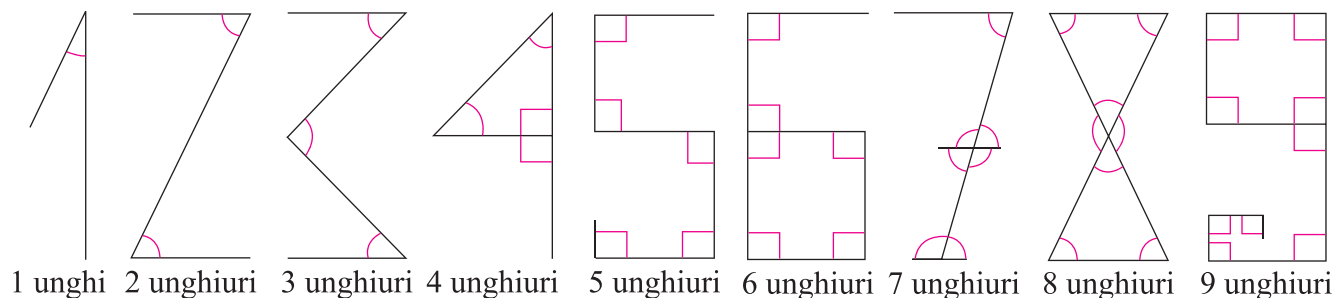
Fii campion!

- Scie perechile de unghiuri congruente dintre cele desenate mai jos:





**Să ne amuzăm!** Există o oarecare legătură între cifrele arabe și unghiuri? Se spune ca inițial aceste cifre fiind scrijelite în piatră sau pe lemn, erau formate din linii, mai puțin cifra 0.



## Exerciții și probleme



### Exersează!

- Transformă în minute:  
a)  $15^\circ$ ; b)  $29^\circ$ ; c)  $73^\circ$ ; d)  $102^\circ$ ; e)  $1^\circ 30'$ ; f)  $12^\circ 29'$ ; g)  $50^\circ 1'$ ; h)  $1^\circ 27'$ ; i)  $70^\circ 48'$ .
- Transformă în grade și minute:  
a)  $135'$ ; b)  $540'$ ; c)  $963'$ ; d)  $505'$ ; e)  $1130'$ ; f)  $4896'$ ; g)  $7623'$ ; h)  $9348'$ .
- Calculează:  
a)  $37^\circ + 91^\circ$ ; b)  $12^\circ + 49^\circ$ ; c)  $114^\circ - 75^\circ$ ; d)  $98^\circ - 43^\circ$ ; e)  $123^\circ - 90^\circ$ ; f)  $180^\circ - 69^\circ$ .
- Calculează:  
a)  $25^\circ 39' + 7^\circ 10'$ ; b)  $30^\circ 40' - 25^\circ 15'$ ; c)  $23^\circ 14' \cdot 2$ ; d)  $108^\circ 14' + 12^\circ 9'$   
 $54^\circ 30' + 0^\circ 58'$        $72^\circ 51' - 20^\circ 12'$        $53^\circ 10' \cdot 3$        $174^\circ 55' - 73^\circ 31'$   
 $11^\circ 29' + 34^\circ 15'$        $104^\circ 12' - 101^\circ 1'$        $100^\circ 12' \cdot 4$        $152^\circ 14' \cdot 2$



### Poți fi mai bun!

- Calculează:  
a)  $70^\circ 43' + 2^\circ 52'$ ; b)  $120^\circ 13' - 75^\circ 49'$ ; c)  $14^\circ 32' \cdot 5$ ; d)  $100^\circ 48' + 123^\circ 12'$   
 $105^\circ 38' + 1^\circ 41'$ ;       $13^\circ 45' - 5^\circ 51'$ ;       $45' \cdot 6$ ;       $145^\circ 2' - 67^\circ 43'$   
 $45^\circ 51' + 12^\circ 25'$ ;       $91^\circ 28' - 73^\circ 37'$ ;       $62^\circ 36' \cdot 8$ ;       $87^\circ 34' \cdot 10$ .
- Calculează:  
a)  $32^\circ + 91'$ ; b)  $80^\circ - 72^\circ 30'$ ; c)  $108^\circ 45' : 3$ ; d)  $104' + 39^\circ$   
 $42^\circ + 105'$ ;       $90^\circ - 63^\circ 14'$ ;       $175^\circ 20' : 5$ ;       $180^\circ - 53^\circ 29'$   
 $71^\circ + 83'$ ;       $180^\circ - 12^\circ 46'$ ;       $147^\circ 49' : 7$ ;       $918^\circ 27' : 9$ .



### Fii campion!

- Fie unghiurile:  $\hat{A} = 32^\circ 15'$  și  $\hat{B} = 2 \cdot \hat{A}$ .  
Calculează măsura unghiurilor:  
a)  $\hat{B}$ ; b)  $\hat{A} + \hat{B}$ ; c)  $\hat{B} - \hat{A}$ ; d)  $3 \cdot \hat{A}$ ;  
e)  $5 \cdot \hat{A} + 7 \cdot \hat{B}$ ; f)  $3 \cdot \hat{B} - 2 \cdot \hat{A}$ ; g)  $180^\circ - \hat{A}$ ; h)  $90^\circ - \hat{B}$ .



## 7. Figuri congruente. Axă de simetrie

### Figuri congruente

Maria merge la atelierul de croitorie pentru a-și face două bluze cu model identic, dar din materiale diferite. Ea vrea să vadă cum face croitoreasa aceste bluze identice.

Observă că, mai întâi, croitoreasa croiește prima bluza, iar tiparul îl pune și pe al doilea material și croiește la fel.




la aminte și ține minte!

- Spunem că două figuri geometrice sunt **congruente** dacă prin suprapunere ele coincid.



Aplică ce ai învățat!

Desenează figuri congruente cu următoarele figuri:

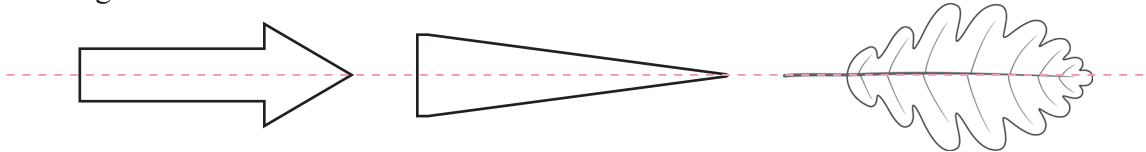


### Axă de simetrie

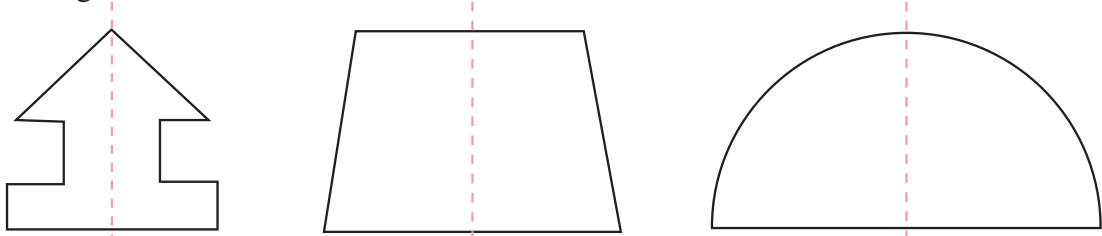
Sunt figuri care pot admite ca *axă de simetrie* o dreaptă, față de care, dacă am îndoi foaia de hârtie de-a lungul acelei drepte, cele două părți ale figurii s-ar suprapune.

**Exemple:**

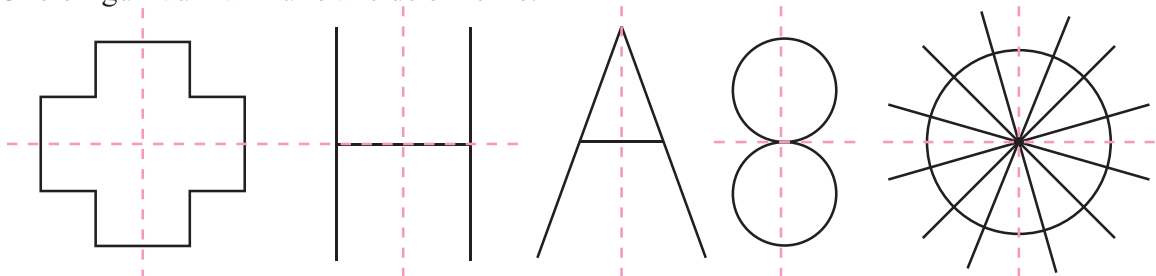
- a) Unele figuri au axă de simetrie orizontală.



- b) Unele figuri au axă de simetrie verticală.








- c) Unele figuri au mai multe axe de simetrie.






## Exersează!

1. Scrie pe caiet 5 exemple de perechi de figuri congruente.
2. Găsește perechile de figuri congruente.



3. Desenează un dreptunghi, un pătrat și axele lor de simetrie.
4. Scrie 5 litere care au axă de simetrie.
5. Câte cifre din sistemul zecimal au axă de simetrie?
6. Stabilește dacă figurile următoare au cel puțin o axă de simetrie și, în caz afirmativ, trasează aceste axe.



## Poți fi mai bun!

7. Bifează, adevărat sau fals, pentru următoarele enunțuri:

	adevărat	fals
a) un segment are două axe de simetrie	<input type="checkbox"/>	<input type="checkbox"/>
b) un pătrat are patru axe de simetrie	<input type="checkbox"/>	<input type="checkbox"/>
c) un dreptunghi are patru axe de simetrie	<input type="checkbox"/>	<input type="checkbox"/>
d) un cerc are o infinitate de axe de simetrie	<input type="checkbox"/>	<input type="checkbox"/>



## Fii campion!

8. Găsește axe de simetrie pentru piese vestimentare.

## 8. Unități de măsură. Transformări

În vremurile mai vechi, oamenii aveau legături numai cu locuitorii din aceeași regiune sau regiunile apropiate. Pentru schimbul de mărfuri era de ajuns ca unitatea de măsură să fie aceeași pentru o regiune.

La noi, pentru măsurat stofe erau palma și cotul, pentru măsurat terenuri erau prăjina și stânenul.

În urma revoluției franceze din 1789, în Franța s-a introdus unitatea pentru măsurat lungimea – metrul. În decursul secolului al XIX-lea, majoritatea țărilor au adoptat metrul ca unitate de măsură pentru lungimi.

Țara noastră a adoptat metrul printr-o lege din 1864, care a intrat în vigoare la 1 ianuarie 1866.

Dintre unitățile de măsură vechi care se mai folosesc și astăzi în lume, menționăm:

- țolul (25,4 mm) folosit pentru măsurarea diametrului țevelor;
- mila engleză, pentru măsurarea lungimii (mila terestră = 1609,344 m, mila marină = 1852 m);
- livra engleză = 453,592 g pentru măsurarea masei

### Unități de măsură pentru lungime



la aminte și ține minte!

- Pentru a măsura o lungime trebuie mai întâi aleasă o unitate de măsură.

Prin convenție internațională, unitatea principală de măsură pentru lungime este **metrul** (m), dar se utilizează și multiplii, respectiv submultiplii acestuia.

*Multiplii metrului*

◇ decametru, 1 dam = 10 m

◇ hectometru, 1 hm = 100 m

◇ kilometru, 1 km = 1000 m

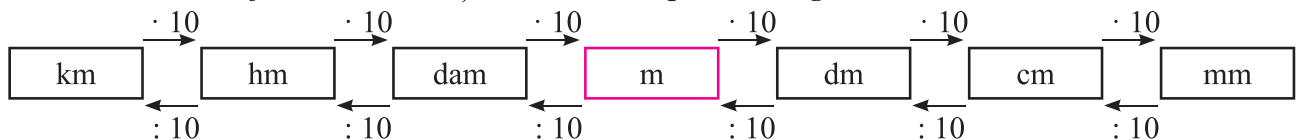
*Submultiplii metrului*

✧ decimetru, 1 dm = 0,1 m

✧ centimetru 1 cm = 0,01 m

✧ milimetru, 1 mm = 0,001 m

*Schema de transformare a unităților de măsură pentru lungime:*



- Pentru a transforma o unitate de măsură mai mare (aflată la stânga în schemă) într-o unitate de măsură mai mică (aflată mai la dreapta în schemă) înmulțim numărul unităților de măsură mai mari cu puteri ale lui 10, în funcție de submultiplul cerut.

*Exemple:*

a)  $0,432 \text{ m} = ? \text{ cm}$ ;  $0,432 \cdot 1 \text{ m} = 0,432 \cdot 10^2 \text{ cm} = 43,2 \text{ cm}$ ;

b)  $84,56 \text{ hm} = ? \text{ dm}$ ;  $84,56 \text{ hm} = 84,56 \cdot 1 \text{ hm} = 84,56 \cdot 10^3 \text{ dm} = 84560 \text{ dm}$ .

- Pentru a transforma o unitate de măsură mai mică (aflată mai la dreapta în schemă) într-o unitate de măsură mai mare (aflată mai la stânga în schemă) împărțim numărul unităților de măsură mai mici cu puteri ale lui 10, în funcție de multiplul cerut.

*Exemple:*

a)  $0,432 \text{ m} = ? \text{ km}$ ;  $0,432 \text{ m} = 0,432 : 10^2 \text{ km} = 0,00432 \text{ km}$ ;

b)  $84,56 \text{ hm} = ? \text{ km}$ ;  $84,56 \text{ hm} = 84,56 : 10 = 8,456 \text{ km}$ .

- **Perimetrul** unei figuri formată din segmente de dreaptă este suma lungimilor acestor segmente (exprimate prin aceeași unitate de măsură).

- **Perimetrul pătratului** este de patru ori lungimea unei laturi.

- **Perimetrul dreptunghiului** este de două ori lungimea plus de două ori lățimea acestuia.



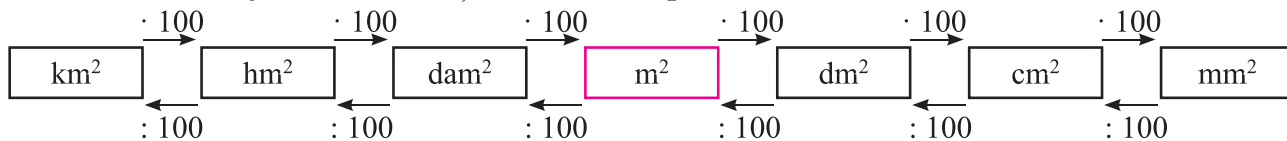
### Multiplii metrului pătrat

- ◇ decimetrul pătrat,  $1 \text{ dam}^2 = 100 \text{ m}^2$
- ◇ hectometrul pătrat,  $1 \text{ hm}^2 = 100^2 \text{ m}^2$
- ◇ kilometrul pătrat,  $1 \text{ km}^2 = 100^3 \text{ m}^2$

### Submultiplii metrului pătrat

- ✧ decimetrul pătrat,  $1 \text{ dm}^2 = 0,01 \text{ m}^2$
- ✧ centimetrul pătrat,  $1 \text{ cm}^2 = 0,0001 \text{ m}^2$
- ✧ milimetrul pătrat,  $1 \text{ mm}^2 = 0,000001 \text{ m}^2$

### Schema de transformare a unităților de măsură pentru arie:



- Pentru a transforma o unitate de măsură mai mare (aflată mai în stânga în schemă) într-o unitate de măsură mai mică (aflată mai la dreapta în schemă) înmulțim numărul unităților de măsură mai mari cu puteri ale lui 100.

**Exemple:** a)  $2,43 \text{ dam}^2 = ? \text{ m}^2$ ;  $2,43 \text{ dam}^2 = 2,43 \cdot 100 \text{ m}^2 = 243 \text{ m}^2$ ;

b)  $4,15 \text{ m}^2 = ? \text{ cm}^2$ ;  $4,15 \text{ m}^2 = 4,15 \cdot 100^2 \text{ m}^2 = 41500 \text{ cm}^2$ .

- Pentru a transforma o unitate de măsură mai mică (aflată mai la dreapta în schemă) într-o unitate de măsură mai mare (aflată mai la stânga în schemă) împărțim numărul unităților de măsură mai mici cu puteri ale lui 100.

**Exemple:** a)  $18\,506 \text{ cm}^2 = ? \text{ m}^2$ ;  $18\,506 \text{ cm}^2 = 18\,506 : 100^2 \text{ m}^2 = 1,8506 \text{ m}^2$ ;

b)  $304,2 \text{ dm}^2 = ? \text{ m}^2$ ;  $304,2 \text{ dm}^2 = 304,2 : 100 \text{ m}^2 = 3,042 \text{ m}^2$ .

- Pentru măsurarea suprafețelor de teren se folosesc *unități agrare*: arul, notat ar; hectarul, notat ha; pogonul.

$1 \text{ ar} = 1 \text{ dam}^2 = 100 \text{ m}^2$

$1 \text{ ha} = 1 \text{ hm}^2 = 10000 \text{ m}^2$

$1 \text{ pogon} = 0,5 \text{ ha} = 5000 \text{ m}^2$ .

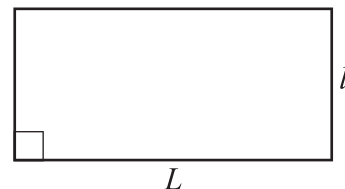
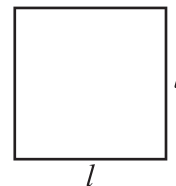
- **Aria unui pătrat** este egală cu pătratul lungimii laturii aceluia pătrat.

- **Aria dreptunghiului** este egală cu produsul dintre lungimea și lățimea acestuia (exprimate prin aceeași unitate de măsură).

### Exemple:

a) Aria unei plăci de gresie în formă de pătrat cu latura de 1 m se află astfel:  $Arie_{\text{pătrat}} = 1^2 \text{ m}^2 = 1 \text{ m}^2$ .

b) Aria aleii cu lungimea de 5 m și lățimea de 2 m este  $Arie_{\text{dreptunghi}} = 5 \text{ m} \cdot 2 \text{ m} = 10 \text{ m}^2$ .



5+

Aplică ce ai învățat!

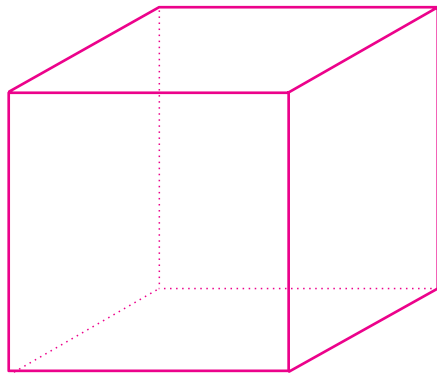
1. Transformă în  $\text{m}^2$ :  $5 \text{ dam}^2$ ;  $6 \text{ dm}^2$ ;  $0,8 \text{ hm}^2$ ;  $200 \text{ mm}^2$ ;  $2800 \text{ cm}^2$ ;  $0,5 \text{ km}^2$ .
2. Află aria pătratului cu latura de: a) 4 cm; b) 9 m; c) 0,5 dm.
3. Află aria dreptunghiului de: a) 8 m și 2 m; b) 0,1 cm și 12 cm; c) 1,5 dam și 3,1 dam.

Lucrează în echipă!

4. Desenează și decupează dintr-o foaie de hârtie un pătrat cu latura de 1 mm, 1 cm, 1 dm, respectiv 1 m.

## Unități de măsură pentru volum

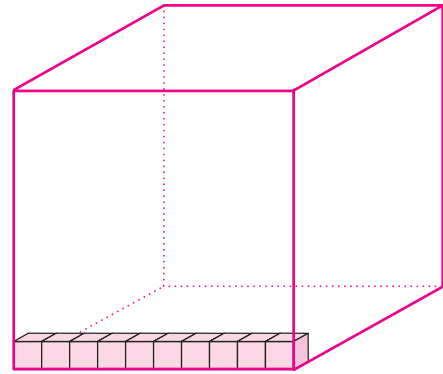
Bianca cumpără zahăr cubic ambalat într-o cutie în formă de cub cu muchia de 10 cm. Dacă un cubuleț de zahăr are muchia de 1 cm, câte cubulețe de zahăr sunt ambalate în cutia cumpărată de Bianca?



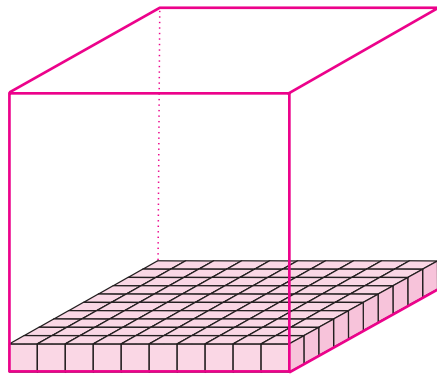
Cutia de zahăr



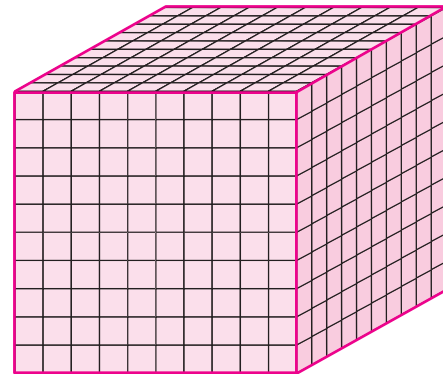
Cubulețul de zahăr



Observăm că de-a lungul muchiei se pot așeza 10 cubulețe de zahăr.



Primul rând are  $10 \cdot 10 = 100$  (cubulețe de zahăr)



Sunt 10 rânduri a câte 100 de cubulețe de zahăr, adică  $10 \cdot 100 = 1000$  (cubulețe de zahăr)



**la aminte și ține minte!**

- Unitatea principală de măsură pentru volum este **metrul cub** și se notează  $m^3$ . Metrul cub este volumul unui cub cu muchia de 1 m.

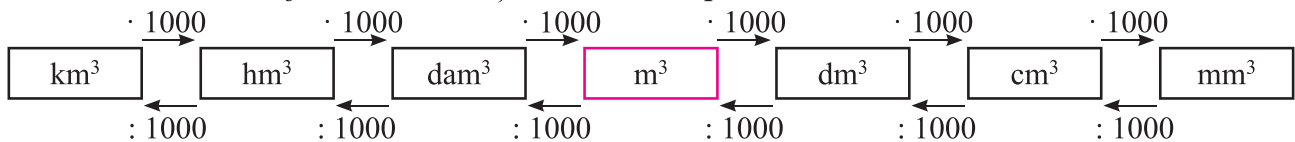
*Multiplii metrului cub*

- ◇ decametru cub,  $1 \text{ dam}^3 = 1000 \text{ m}^3$
- ◇ hectometru cub,  $1 \text{ hm}^3 = 1000^2 \text{ m}^3$
- ◇ kilometru cub,  $1 \text{ km}^3 = 1000^3 \text{ m}^3$

*Submultiplii metrului cub*

- ✧ decimetru cub,  $1 \text{ dm}^3 = 0,001 \text{ m}^3$
- ✧ centimetru cub,  $1 \text{ cm}^3 = 0,000001 \text{ m}^3$
- ✧ milimetru cub,  $1 \text{ mm}^3 = 0,0000001 \text{ m}^3$

• **Schema de transformare a unităților de măsură pentru volum:**



- Pentru a transforma o unitate de măsură mai mare (aflată la stânga în schemă) într-o unitate de măsură mai mică (aflată mai la dreapta în schemă) înmulțim numărul unităților de măsură mai mari cu puteri ale lui 1000.

**Exemple:** a)  $2 \text{ m}^3 = 2 \cdot 1000 \text{ dm}^3$ ; b)  $9,18 \text{ hm}^3 = 9,18 \cdot 1000 \text{ dam}^3 = 9\ 180 \text{ dam}^3$ .

- Pentru a transforma o unitate de măsură mai mică (aflată mai la dreapta în schemă) într-o unitate de măsură mai mare (aflată mai la stânga în schemă) împărțim numărul unităților de măsură mai mici cu puteri ale lui 1000.

**Exemple:** a)  $2383 \text{ cm}^3 = 2\ 383 : 1000 \text{ dm}^3 = 2,383 \text{ dm}^3$ ; b)  $412,5 \text{ m}^3 = 412,5 : 1000^2 \text{ hm}^3 = 0,0004125 \text{ hm}^3$ .

## Alte unități de măsură pentru volum

Litrul este o altă unitate pentru măsurarea volumului unor vase (capacitatea vaselor). Se notează cu  $l$ . Litrul este volumul unui vas care are  $1 \text{ dm}^3$ .  $1 \text{ l} = 1 \text{ dm}^3$ .

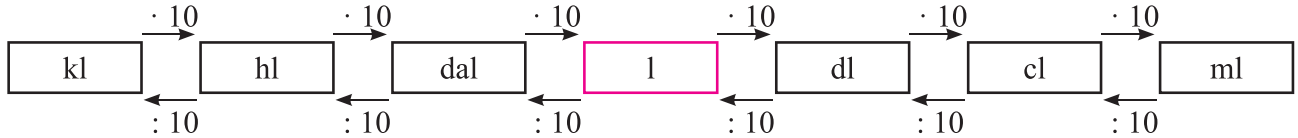
### Multiplii litrului

- ◇ Decalitrul,  $1 \text{ dal} = 10 \text{ l}$
- ◇ Hectolitrul,  $1 \text{ hl} = 10^2 \text{ l}$
- ◇ Kilotitrul,  $1 \text{ kl} = 10^3 \text{ l}$

### Submultiplii litrului

- ✧ Decilitrul,  $1 \text{ dl} = 0,1 \text{ l}$
- ✧ Centilitrul,  $1 \text{ cl} = 0,01 \text{ l}$
- ✧ Mililitrul,  $1 \text{ ml} = 0,001 \text{ l}$

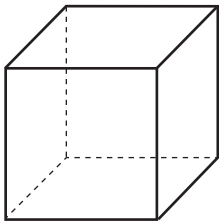
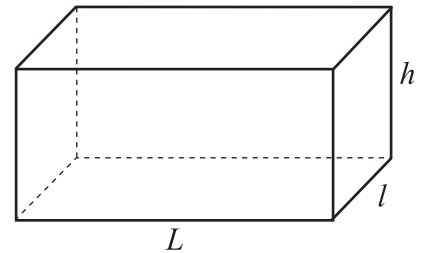
### Schema de transformare a unităților de măsură pentru volum:



- **Volumul paralelipipedului** este egal cu produsul dintre lungime, lățime și înălțime (exprimate prin aceleași unități de măsură).

**Exemplu:** Află volumul paralelipipedului cu dimensiunile de 8 dm; 12 dm; 2 dm.

**Rezolvare:** Volumul =  $8 \text{ dm} \cdot 12 \text{ dm} \cdot 2 \text{ dm} = 192 \text{ dm}^3$ .



- **Volumul cubului** este egal cu lungimea muchiei la puterea a treia (cubul lungimii muchiei).

**Exemplu:** Află volumul cubului cu muchia de 4 cm.

**Rezolvare:** Volumul =  $(4 \text{ cm})^3 = 64 \text{ cm}^3$ .

5+

### Aplică ce ai învățat!

1. Transformă în  $\text{dm}^3$ :  
 $5 \text{ cm}^3$ ;  $2,3 \text{ cm}^3$ ;  $0,725 \text{ dam}^3$ ;  $23432 \text{ mm}^3$ ;  $0,0504 \text{ hm}^3$ ;  $8,56 \text{ m}^3$ .
2. Află volumul cubului cu lungimea muchiei de:  
 a) 5 cm;    b) 9 dm;    c) 10 m;    d) 2,52 mm;    e) 0,7 dam.
3. Află volumul paralelipipedului dreptunghic cu dimensiunile:  
 a) 2 cm; 3 cm; 5 cm;    b) 6 dm; 0,8 dm; 2 dm;    c) 1,5 mm; 2,3 mm; 4,2 mm.

### Lucrează în echipă!

#### Citește cu atenție!



Vlad

Dă-mi 5 cutii de suc și voi avea același număr de cutii ca și tine.



Alex

Dacă mi-ai da tu 5 cutii de suc, aş avea de 5 ori mai multe cutii de suc decât îți rămân ție.



Află câți litri de suc are fiecare!

## Exerciții și probleme

### Unități de măsură pentru lungimi



#### Exersează!

- Transformă în centimetri:  
62,703 m; 0,3 mm; 5,9 dm; 8 dam; 0,003 hm.
- Transformă în metri:  
175 cm; 1750 mm; 4,5 km; 0,5 dam; 61,04 hm.
- Completează spațiile punctate cu răspunsul corect:  
a) Perimetrul unei figuri formată din segmente de dreaptă este egal cu ...  
b) Perimetrul pătratului este egal cu ...  
c) Perimetrul dreptunghiului este egal cu ...  
d) Perimetrul se exprimă în una dintre unitățile de măsură pentru ...
- Transformă în m:  
a) 7 km 3 hm;                      b) 10 dam 2 dm;                      c) 5 dm 62 cm;                      d) 123 cm 5 mm;  
e) 2,3 hm 53 dam;                      f) 93 dam 6 cm;                      g) 12 hm 75 mm;                      h) 1 dm 7 mm;  
i) 3 dm 4 cm;                      j) 15 dam 12 dm;                      k) 10 km 11 hm;                      l) 123 dm 4 cm.
- Calculează:  
a)  $0,3 \text{ km} + 9,4 \text{ hm}$ ;    b)  $15,3 \text{ dam} + 0,05 \text{ m}$ ;    c)  $7,5 \text{ hm} + 0,1 \text{ cm}$ ;    d)  $2,3 \text{ m} + 0,07 \text{ km}$ .
- Scrie asocierile corecte dintre fiecare literă din coloana A și cifra corespunzătoare din coloana B.

a)

A	B
a) 120 mm	1) 0,07 km
b) 7 dam	2) 1,2 dm
c) 7 cm	3) 0,07 m
	4) 12 hm

b)

A	B
a) 7,3 m	1) 7,3 m
b) 0,73 dam	2) 730 cm
c) 73 km	3) 7300 dam
	4) 7300 m



#### Poți fi mai bun!

- Calculează perimetrul pătratului cu latura de:  
a) 1,4 m;    b) 32,6 cm;    c) 0,03 km.
- Calculează perimetrul dreptunghiului cu dimensiunile:  
a) 3 m și 5 m;    b) 8,29 cm și 16,01 cm;    c) 10,07 dm și 36,18 dm;    d) 12 km și  $23\frac{1}{4}$  km.



#### Fii campion!

- O grădină care are forma unui dreptunghi cu lățimea de 13 dam și lungimea de 250 m, se împrejmuește cu gard viu. Dacă grădina are o poartă cu lungimea de 2 m, află câți metri de gard viu sunt necesari pentru împrejmuire.







Exersează!

- Transformă în  $m^2$ :  
 $0,5 \text{ dam}^2$ ;  $72 \text{ cm}^2$ ;  $2,3 \text{ dm}^2$ ;  $0,02 \text{ hm}^2$ ;  $638 \text{ mm}^2$ .
- Transformă în  $cm^2$ :  
 $6 \text{ m}^2$ ;  $31 \text{ dm}^2$ ;  $23 \text{ mm}^2$ ;  $0,562 \text{ dam}^2$ ;  $8,09 \text{ km}^2$ .
- Completează spațiile punctate cu răspunsul corect:
  - Aria pătratului cu latura de 7 m este egală cu ...  $m^2$ .
  - Aria dreptunghiului cu lungimea de 6 cm și lățimea de 0,2 dm este egală cu ...  $cm^2$ .
  - Pătratul cu aria de  $25 \text{ dm}^2$  are lungimea laturii de ... dm.
  - Aria dreptunghiului cu lățimea de 0,15 dam și lungimea de 4 ori mai mare decât lățimea, este egală cu ....  $dam^2$ .
- Transformă în ari:  
 $7,32 \text{ dam}^2$ ;  $5342 \text{ m}^2$ ;  $45 \text{ hm}^2$ ;  $8\ 360 \text{ dm}^2$ .
- Transformă în hectare:  
 $20\ 000 \text{ m}^2$ ;  $0,05 \text{ km}^2$ ; 36 ari;  $12 \text{ hm}^2$ ;  $623 \text{ dam}^2$ .
- Scrie asocierile corecte dintre fiecare literă din coloana A și cifra corespunzătoare din coloana B.

	A	B
a)	a) $132 \text{ cm}^2$	1) $0,07 \text{ m}^2$
	b) $7 \text{ dm}^2$	2) $1,32 \text{ dm}^2$
	c) $579 \text{ m}^2$	3) 5,79 ari
		4) $5,79 \text{ hm}^2$

	A	B
b)	a) $0,415 \text{ km}^2$	1) $603 \text{ m}^2$
	b) $512 \text{ m}^2$	2) 4150 ari
	c) $6,03 \text{ dam}^2$	3) $51200 \text{ dm}^2$
		4) $60,3 \text{ m}^2$




Poți fi mai bun!

- Calculează aria pătratului cu latura de:
  - 2,5 m;
  - 0,3 dm;
  - 1,2 dam;
  - 0,15 hm.
- Calculează aria dreptunghiului cu dimensiunile:
  - 3 m și 5 cm;
  - 8,29 cm și 16,01 cm;
  - 10,07 dm și 36,18 dm;
  - 12 km și  $23\frac{1}{4}$  km.



Fii campion!

- Pe marginea unei fețe de masă în formă de dreptunghi s-au aplicat 18 m de dantelă. Dacă lungimea feței de masă este de două ori mai mare decât lățimea, află câți metri pătrați are fața de masă.





Exersează!

- Transformă în  $m^3$ :  
 $2,103 \text{ dam}^3$ ;  $0,0723 \text{ hm}^3$ ;  $12,403 \text{ dm}^3$ ;  $80,70 \text{ cm}^3$ ;  $205,4 \text{ cm}^3$ .
- Transformă în  $cm^3$ :  
 $204,1 \text{ dm}^3$ ;  $0,0317 \text{ m}^3$ ;  $0,00017 \text{ dam}^3$ ;  $5725 \text{ hm}^3$ .
- Completează spațiile punctate cu răspunsul corect:  
 a) Cubul cu muchia de 3 m are volumul egal cu ....  $m^3$ .  
 b) Paralelipipedul dreptunghic cu lungimea de 5 dm, lățimea de 4 dm și înălțimea de 3 dm are volumul egal cu ...  $dm^3$ .
- Transformă în  $l$ :  
 $23 \text{ dm}^3$ ;  $5421 \text{ cm}^3$ ;  $0,43 \text{ m}^3$ ;  $14,26 \text{ dm}^3$ ;  $0,0032 \text{ hm}^3$ .
- Scrie asocierile corecte dintre fiecare literă din coloana A și cifra corespunzătoare din coloana B.

a)

A	B
a) $43 \text{ cm}^3$	1) $0,0432 \text{ cm}^3$
b) $92,5 \text{ dm}^3$	2) $0,043 \text{ dm}^3$
c) $2432 \text{ mm}^3$	3) $0,0925 \text{ m}^3$
	4) $2,432 \text{ cm}^3$

b)

A	B
a) $4 \text{ dm}^3$	1) $4000 \text{ cm}^3$
b) $0,005 \text{ m}^3$	2) $5 \text{ dm}^3$
c) $2,5 \text{ dam}^3$	3) $400 \text{ cm}^3$
	4) $2500 \text{ m}^3$



Poți fi mai bun!

- Calculează volumul cubului cu muchia egală cu:  
 a) 0,5 m;    b) 2,1 dm;    c) 11 cm;    d) 6 km.
- Calculează volumul paralelipipedului dreptunghic cu dimensiunile:  
 a) 2 cm; 5 cm și 0,7 cm;    b) 7 dm, 0,4 dm și 5 dm;  
 c) 0,6 m, 5 m și 0,3 m;    d) 0,2 m, 5 m și 9 m.



Fii campion!

- Câte găleți de 12 l, fiecare pline cu apă, sunt necesare pentru a umple un bazin în formă de paralelipiped dreptunghic cu lungimea de 3 m, lățimea de 2 m și înălțimea de 0,5 m?



# RECAPITULARE ȘI SISTEMATIZARE PRIN TESTE

## Testul de evaluare 1

### Subiectul I (30p)

1. Completează, pe caiet, spațiile punctate cu răspunsul corect:

- a) Dacă lungimea segmentului  $AB$  este 9 cm și  $M$  este mijlocul segmentului  $AB$ , atunci lungimea segmentului  $AM$  este ...  
 b) Dacă  $M$  este mijlocul segmentului  $AB$  și lungimea segmentului  $AM$  este 3,5 dm, atunci lungimea segmentului  $AB$  este...  
 c) Dacă  $A$  și  $B$  sunt puncte simetrice față de punctul  $M$ , atunci  $M$  este ..... segmentului  $AB$ .

2. Alege răspunsul corect:

- a) Dacă  $AB \equiv CD$  și  $AB = 8$  cm, atunci  $CD$  este egal cu:  
 A. 4 cm; B. 16 cm; C. 8 cm; D. 3 cm.  
 b) Rezultatul calculului  $30^{\circ}15' + 18^{\circ}23'$  este egal cu:  
 A.  $45^{\circ}41'$ ; B.  $12^{\circ}5'$ ; C.  $48^{\circ}28'$ ; D.  $48^{\circ}38'$ .

3. Scrie asocierile corecte dintre fiecare literă din coloana A și cifra corespunzătoare din coloana B:

A	B
a) $9^{\circ} + 15'$	1) $33^{\circ}36'$
b) $105^{\circ}49' - 72^{\circ}13'$	2) $100^{\circ}59'$
c) $75^{\circ}58' + 25^{\circ}1'$	3) $177^{\circ}52'$
	4) $9^{\circ}15'$

### Subiectul II (30p)

4. Desenează și notează:

- a) un segment cu lungimea de 4 cm;      b) un unghi ascuțit;      c) un unghi obtuz;  
 d) o dreaptă;      e) un pătrat;      f) un dreptunghi;      g) o semidreaptă.

5. Fie  $A, B, C, D$  patru puncte coliniare, în această ordine, astfel încât  $AB = 5$  cm,  $BC = 2,5$  cm,  $CD = 1,5$  cm.

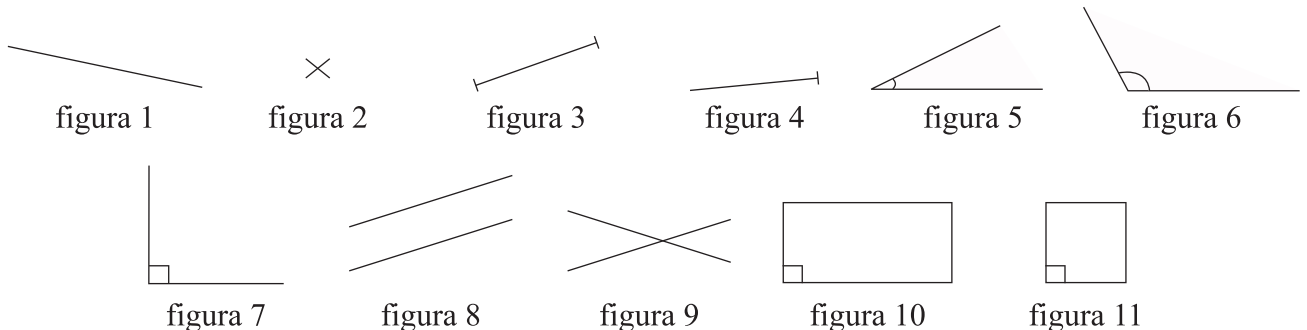
Calculează:

- a)  $AC$ ;      b)  $AD$ ;      c)  $BD$ .

### Subiectul III (30p)

6. Câte drepte determină 5 puncte necoliniare trei câte trei? Dar 9 puncte necoliniare trei câte trei?

7. Precizează denumirea pentru fiecare figură de mai jos:



(10p din oficiu)

**Subiectul I (30p)**

- Completează spațiile punctate cu răspunsul corect:
  - Perimetrul pătratului cu lungimea laturii de 7 mm este egal cu ...
  - Aria dreptunghiului cu dimensiunile de 17 m și 5 m este egală cu ...
  - Volumul cubului cu muchia de 5 dm este egal cu ...
- Alege răspunsul corect:
  - Rezultatul calculului  $5,9 \text{ m} + 81 \text{ dm}$  exprimat în dm este egal cu:  
A. 86,9 m B. 86,9 dm C. 14 dm D. 140 dm
  - Perimetrul unui pătrat cu aria  $100 \text{ m}^2$  este egal cu:  
A. 50 m B. 400 m C. 40 m D. 25 m.
- Scrive asocierile corecte dintre fiecare literă din coloana A și cifra corespunzătoare din coloana B.


A	B
a) $0,75 \text{ km} + 50 \text{ m}$	1) $2,8 \text{ m}^3$
b) 2 ari + 5 ha	2) 7,5 km
c) $2,725 \text{ m}^3 + 75 \text{ dm}^3$	3) 800 m
	4) $502 \text{ dam}^2$

**Subiectul II (30p)**

- Calculează:
  - $43,15 \text{ km} + 25,6 \text{ hm} + 123,4 \text{ m}$ ;
  - $53,5 \text{ dm}^2 - 172 \text{ cm}^2 + 0,86 \text{ m}^2$ ;
  - $1700 \text{ cm}^3 + 0,3 \text{ dm}^3$ .
- Calculează aria dreptunghiului cu perimetrul de 12,6 m, care are lungimea dublul lățimii.

**Subiectul III (30p)**

- La o fermă s-au recoltat 93,1 t cartofi de pe un teren de 4,9 ha. De pe ce suprafață se pot recolta 119,7 t cartofi, dacă recolta medie la hectar de pe cele două suprafețe este aceeași?
- Dreptunghiul din figura alăturată reprezintă schița unei grădini cu lungimea de 5,7 dam și lățimea de 24 m. Pătratele mici din colțuri au lungimea laturii egală cu  $\frac{1}{3}$  din lățimea grădinii. În zona necolorată se plantează gazon, iar în rest flori.
  - Câți metri pătrați sunt plantați cu flori?
  - Câți ari sunt plantați cu gazon?



(10 p din oficiu)

**Subiectul I (30p)**

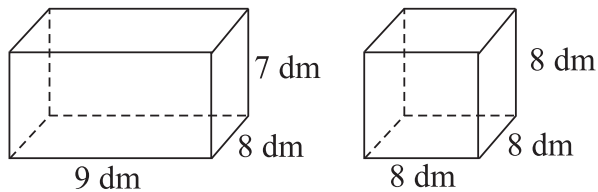
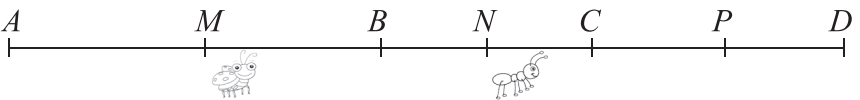
- Completează, pe caiet, spațiile punctate cu răspunsul corect:
  - Într-un cub cu muchia de 10 dm încap .... litri apă.
  - Capetele unui segment sunt simetrice față de .... său.
  - Numărul de vârfuri ale unui cub este ....
- Alege răspunsul corect:
  - Numărul muchiilor unui paralelipiped dreptunghic este:  
A. 20      B. 8      C. 12      D. 16
  - Lungimea muchiei unui cub se mărește de 3 ori. Volumul cubului se mărește de:  
A. 8 ori      B. 27 ori      C. 6 ori      D. 9 ori

- Scrie asocierile corecte dintre fiecare literă din coloana A și cifra corespunzătoare din coloana B.

A	B
a) înălțimea unui om	1) estimată la 1,5 cm
b) lungimea unui creion	2) estimată la 1,75 cm
c) grosimea unui manual	3) estimată la 17 cm
	4) estimată la 32 km

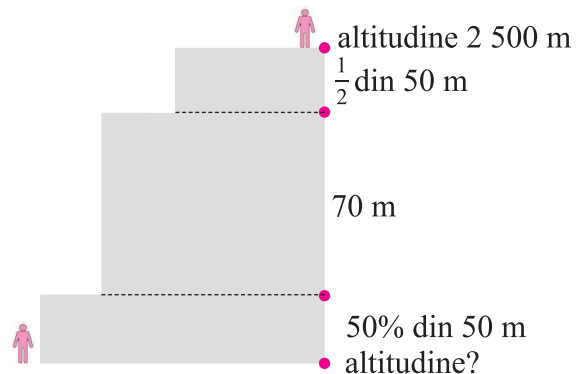
**Subiectul II (30p)**

- Desenează:
  - un pătrat; b) un dreptunghi; c) un cub; d) un paralelipiped dreptunghic.
- Un gândăcel pleacă din punctul  $A$ , mijlocul segmentului  $AB$ , până în punctul  $N$ , mijlocul segmentului  $BC$ , parcurgând 8 dm. O furnică pleacă din punctul  $N$  până în punctul  $P$ , mijlocul segmentului  $CD$ , parcurgând 6,75 dm. Dacă lungimea segmentului  $AD$  este 20,5 dm, află lungimile segmentelor:
  - $AB$ ;
  - $BC$ ;
  - $CD$ .



- Andrei a confecționat două cutii cu dimensiunile precizate în figura alăturată.
  - Calculează volumul fiecărei cutii.
  - Care dintre cele două cutii are volumul mai mare.

- Figura alăturată arată schematic pozițiile a doi alpiști. Dacă unul dintre ei se află la altitudinea de 2 500 m, află la ce altitudine se află celălalt alpinist.



(10 p din oficiu)

## PROIECT: „ACCESĂM FONDURI EUROPENE!”

*În vederea participării unității școlare la un concurs de proiecte cu finanțare pentru amenajarea curții școlii, elevii clasei a V-a vor participa la scrierea cererii de finanțare, furnizând date pentru întocmirea bugetului. Curtea școlii are formă dreptunghiulară.*

Se formează echipe de elevi.

**Echipa 1:** Activitatea se desfășoară în curtea școlii.

Echipa primește terenul în formă de dreptunghi care trebuie măsurat. Elevii calculează perimetre, arii, în unități de măsură stabilite de profesor. Sarcini de lucru:

1. Măsurați în metri laturile terenului dreptunghiular.
2. Aflați câți metri de gard viu sunt necesari pentru împrejmuirea lui.
3. Știind că un metru liniar de gard viu costă 15 lei, aflați costurile necesare împrejuririi.
4. Se împarte dreptunghiul într-un pătrat cu latura egală cu lățimea dreptunghiului pe care se seamănă gazon și un dreptunghi pe care se plantează trandafiri. Calculați perimetrul pătratului.
5. Calculați numărul de trandafiri care se plantează, știind că sunt plantați 3 trandafiri pe metrul pătrat.
6. Calculați aria terenului și cantitatea de gazon ce trebuie cumpărată pentru ca terenul să fie semănat cu gazon, știind că pentru un metru pătrat sunt necesare 50 de grame de gazon?
7. Aflați cât ar costa gazonul ce acoperă suprafața, dacă 100 de grame de semințe de gazon costă 15 de lei.

**Echipa 2:** Activitatea se desfășoară în curtea școlii.

Echipa primește câte un vas de sticlă în formă de paralelipiped dreptunghic și un alt vas în formă de cub, cărora le măsoară dimensiunile. Elevii vor calcula capacitățile celor două vase, vor umple vasul cu capacitate mai mică cu apă și apoi o vor turna în celălalt vas. Aflați înălțimea la care se ridică apa, prin calcul și prin măsurare.

1. Măsurați cu rigla gradată dimensiunile celor două vase.
2. Aflați capacitatea (în litri) a celor două vase.
3. Umpleți cu apă vasul care are capacitatea mai mică.
4. Turnați apa în celălalt vas și aflați, prin calcul și prin măsurare, înălțimea la care se ridică apa.
5. Umpleți vasul în formă de cub din curtea școlii cu apă și stabiliți ce capacitate are.

**Echipa 3:** Activitatea se desfășoară în clasă.

Echipa colectează datele și întocmește bugetul.

Sarcini de lucru:

1. Colectați datele și întocmiți bugetul pe categorii de cheltuieli.
2. Întocmiți bugetul necesar pentru amenajarea curții.

**SUCCES!**

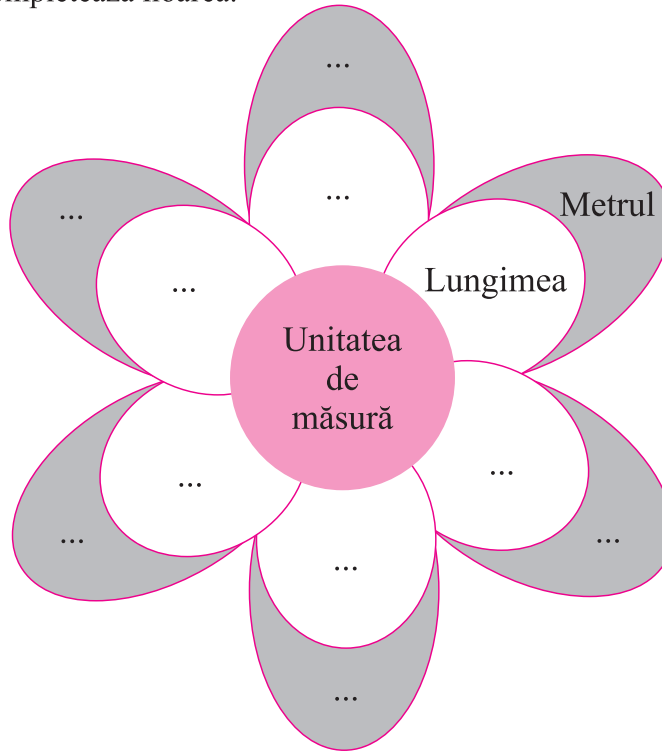
# Magia matematicii

„Cartea naturii este scrisă cu simboluri matematice”

Galileo Galilei


## 1. Floarea unităților de măsură

Copiază pe caiet și completează floarea.




## 2. TANGRAM

Este un joc provenit de la poporul chinez. Are la bază șapte figuri geometrice, numite tan-uri: 5 triunghiuri (2 mari, 2 mici și unul mijlociu), un pătrat, un paralelogram, decupate toate dintr-un pătrat mai mare.



### Regulile jocului

1. La alcătuirea unei imagini se folosesc obligatoriu toate cele 7 piese decupate.
2. Piesele se așază pe o suprafață plană una lângă alta fără a fi suprapuse.
3. Piesele pot fi folosite pe ambele fețe, acestea fiind colorate la fel sau nu și trebuie să fie așezate astfel încât să alcătuiască o anumită imagine (animale, oameni, litere, cifre, obiecte etc.). Mai jos sunt desenate imagini ce pot fi realizate.



Joacă și tu TANGRAM! Crează și alte imagini.

# EXERCIȚII ȘI PROBLEME RECAPITULATIVE

1. Efectuează:

a)  $[(7^2 - 3^2) : 5 - 2^{29} \cdot 2^{27} \cdot 2] \cdot 2017$ ;

b)  $(5^{26} \cdot 5^{32}) : 5^{56} - (2^5)^{10} : (2^6)^8$ ;

c)  $2017 + 2016 \cdot 2017 - 2015 \cdot 2017$ ;

d)  $(2^{99} + 2^{99} + 2^{100})^2 : (2^{101})^2$ ;

e)  $2017^{2017} - (2016 \cdot 2017^{2017} + 2017^{2017}) : 2017$ ;

f)  $2^{10} - 2^9 - 2^8 - 2^7 - 2^6 - 2^5$ ;

g)  $7 \cdot [10 \cdot (70 - 70 : 10) + 0^{2017} \cdot 2017^0]$ ;

h)  $(1^{2017} + 0^{2017} + 2017^0)^5 \cdot [(5^4)^5 : (5^3)^5]$ ;

i)  $(11^2)^7 : (11^7)^2 \cdot 11^0 + (5^4)^3 : (5^2)^3 : (5^2)^5 + 5^0 \cdot 0^5$ ;

j)  $(19 \cdot 19 + 19) : (19 \cdot 20) + (2017 + 2017 \cdot 2017) : (2017 \cdot 2018)$ .

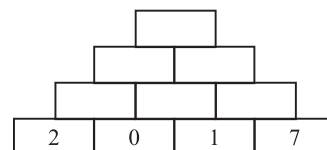
2. Arătați că numărul  $2017 + 2(1 + 2 + 3 \dots + 2016)$  este pătratul unui număr natural.

3. Un fermier glumeț zice: „Am găini și iepuri. Când număr capetele, găsesc 200. Când număr picioarele, găsesc 640”. Câte găini are fermierul?

4. Cum se scrie în cifre numărul „unsprezece milioane unsprezece mii unsprezece”?

5. Sunt un număr. Cifra sutelor este de patru ori mai mică decât cifra unităților, care este dublul cifrei zecilor. Cifra zecilor este 4. Ce număr sunt eu?

6. În fiecare căsuță se scrie diferența numerelor din căsuțele de sub ea. Care este numărul scris în cea mai de sus căsuță?



7. Paul are de două ori vârsta lui Mihai, iar Mihai are de 3 ori vârsta lui Andrei. Dacă Andrei are 6 ani, care este vârsta lui Paul?

8. O carte conține 432 de pagini, fiecare având 64 de rânduri. Câte pagini ar avea dacă fiecare pagină ar conține 48 de rânduri?

9. O carte și un caiet costă 32 de lei. Cartea costă cu 20 de lei mai mult decât caietul. Cât costă 10 caiete?

10. În jocul „Părăsește sau triplează” prima întrebare al cărui răspuns este corect aduce 200 de lei candidatului. Câștigul se triplează la fiecare răspuns corect. Un candidat a câștigat suma de 437 400 de lei. La câte întrebări a răspuns?

11. Din trunchiul unui tei pornesc patru crengi groase. Din fiecare creangă groasă pornesc câte 4 crengi de grosime mijlocie. Din fiecare creangă mijlocie pornesc câte 4 rămurile. Din fiecare rămurea pornesc câte 4 codițe, iar la capătul fiecărei codițe sunt câte 4 flori. Câte flori are, în total, acest tei?



12. Un fermier a vândut 6 000 de kg de mere și de prune și a încasat 20 000 de lei. Știind că el a vândut merele cu 3 lei kilogramul, iar prunele cu 4 lei kilogramul, câte kilograme de mere și câte de prune a vândut producătorul?

13. Ana și Maria au împreună 102 timbre. Dacă împărțim numărul timbrelor Mariei la numărul timbrelor Anei, obținem câtul 7 și restul 6. Află numărul de timbre ale fiecăruia.

14. Un turist a parcurs un traseu în două zile. În prima zi a parcurs dublul lungimii traseului parcurs a doua zi, iar a doua zi a parcurs 18 km. Determină lungimea traseului parcurs în cele două zile.

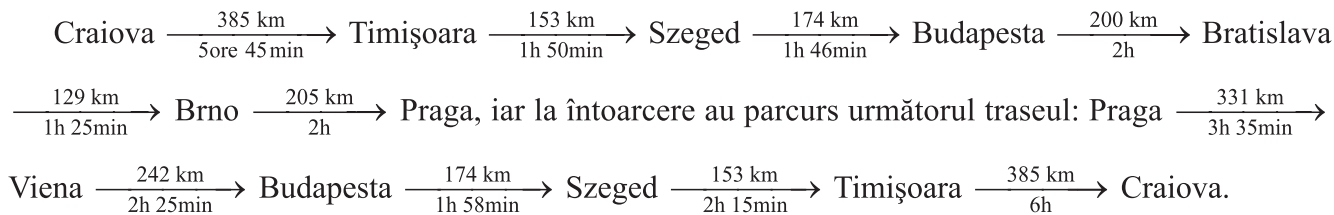
15. Pentru 2 bluze și 3 rochii, Ana a plătit 230 de lei, iar Maria a plătit pentru 3 bluze și 2 rochii, de același fel ca și Ana, 170 de lei. Care este prețul unei bluze? Dar al unei rochii?

16. Mircea are de citit o carte. El citește în fiecare zi același număr de pagini. În primele trei zile a citit 270 de pagini. Știind că trebuie să termine cartea în 8 zile, câte pagini mai are de citit?





17. Elevii clasei a V-a pleacă în excursie la Praga, parcurgând traseul:



- Rotunjește la zeci distanța din desen și calculează lungimea întregului traseu cu distanțele rotunjite.
- Calculează lungimea întregului traseu.
- Calculează timpul în care au ajuns la Praga.
- Cu câte minute au ajuns mai repede la Praga decât s-au întors la Craiova?

18. În coloana A sunt scrise Raza Pământului la Ecuator, respectiv la Pol, iar în coloana B sunt rotunjirile la sute. Asociază corect fiecare enunț din coloana A cu rotunjirea corespunzătoare din coloana B.

A	B
a. Raza Pământului la Ecuator 6.378.137 m	1. 6.356.900 m
b. Raza pământului la Pol 6.356.752 m	2. 6.372.200 m
	3. 6.378.100 m

19. Pentru intrarea la piscină sunt trei oferte:

**intrarea o zi**

adulți: 35 lei

copii 4-10 ani: 29 lei

**intrarea 2 zile**

adulți: 46 lei

copii 4-10 ani: 40 lei

**intrare 3 zile**

adulți: 64 lei

copii 4-10 ani: 56 lei

- Câți lei economisește un copil cu vârsta între 4 și 10 ani pe zi, dacă plătește intrarea 3 zile în comparație cu suma plătită pentru intrare pentru 2 zile?
- Câți lei plătesc 2 adulți și 2 copii intrarea la piscină pentru 3 zile?
- Câți lei plătesc 5 adulți și 3 copii intrarea la piscină pentru două zile?

20. Triatlonul este o cursă în care atleții înoată, apoi fac ciclism și după aceea alergă pe distanțe prestabilite. Prima persoană care finalizează întreaga cursă este câștigătoare.

Ana, Maria și Oana au concurat la triatlon. Cursa la care au participat a constat din: 1 kilometru de înot, urmat de 60 kilometri de ciclism și apoi 16 kilometri de alergare.

a) Maria a fost cea mai rapidă înotătoare și a parcurs distanța de 1 kilometru în 25 de minute. Anei i-a luat cu 10 minute mai mult decât Mariei și Oanei i-a luat cu 5 minute mai mult decât Anei. Folosește aceste informații pentru a completa pe caiet tabelul, pentru concursul de înot.

Înot	Ana	Maria	Oana
<b>Timpul obținut (minute)</b>		25	

b) Ana a fost cea mai rapidă ciclistă. Ea a parcurs 60 de kilometri cu o medie de 30 km/oră. Mariei i-a luat cu 10 minute mai mult decât Anei. Folosește aceste informații pentru a completa pe caiet tabelul pentru concursul de ciclism.

Ciclism	Ana	Maria	Oana
<b>Timpul obținut (minute)</b>			

c) Oana a fost cea mai rapidă alergătoare. Ea a alergat 16 kilometri cu o medie de 8 km/oră. Mariei i-a luat cu 10 minute mai mult decât Oanei și Anei i-a luat cu 5 minute mai mult decât Mariei. Folosește aceste informații pentru a completa pe caiet tabelul pentru concursul de alergare.

<b>Alergare</b>	Ana	Maria	Oana
<b>Timpul obținut (minute)</b>			

d) Completează pe caiet tabelul pentru a arăta timpul total necesar fiecărei persoane pentru a termina triatlonul.

<b>Triatlon</b>	Ana	Maria	Oana
<b>Timpul obținut (minute)</b>			

Cine a câștigat cursa?

**21.** Adriana și Daniela au realizat un tabel care cuprinde anul unor descoperiri științifice. Care dintre anii ce apar în tabel sunt divizibili cu: a) 2; b) 5; c) 10; d) 3; e) 9; f) 100?

<b>Descoperirea</b>	Globul pământesc	Creionul	Rigla de calcul	Pianul	Paratrăznetul	Submarinul	Bicicleta
<b>Anul</b>	1490	1565	1620	1700	1752	1775	1818

**22.** Marele matematician Georg Cantor s-a născut în secolul XIX, deceniul 5. Anul nașterii este divizibil cu 5 și cu 9. În ce an s-a născut Georg Cantor?

**23.** Albă ca Zăpada are trei coșulețe cu mere. În fiecare coș numărul de mere este o putere a lui 4. Știind că exponenții acestor trei puteri sunt numere naturale consecutive nenule, arată că Albă ca Zăpada poate împărți merele, în mod egal, celor 7 pitici.

**24.** Fermierul Vasile are 88 de cepe pentru a le vinde. El dorește să pună același număr de cepe în fiecare pungă, fără să rămână nicio ceapă.

- a) Câte cepe ar putea să pună fermierul Vasile în fiecare pungă?  
b) Câte posibilități are fermierul?

**25.** Într-un oraș, o firmă de taxi are 4 mașini. În fiecare stație de taxi din oraș este repartizat același număr de mașini.

- a) Câte stații pentru taxi ar putea exista în acest oraș?  
b) Câte posibilități are firma de taxi?



**26.** Ben și Batman au împreună 400 de euro. Ben are  $\frac{7}{9}$  din sumă. Care dintre ei are o sumă divizibilă cu 100?

**27.** Fie numărul  $n = (3^7)^4 \cdot 3^6 : 3^{32}$ .

- a) Calculează numărul  $n$ .  
b) Află divizorii proprii și divizorii improprii ai numărului  $n$ .


**28.** Arată că numărul  $n = \frac{1}{9} + 4,(\overline{8})$  este divizibil cu 5.

**29.** Din numărul natural de trei cifre  $\overline{aa0}$  se scade suma cifrelor sale. Arată că diferența rezultată se divide cu 9.

**30.** Amplificați fracția  $\frac{6}{13}$ , astfel încât numărătorul să fie de forma  $\overline{5x}$ .

**31.** Un turist merge 3 ore pe jos și 2 ore cu bicicleta și parcurge 34,5 km. Dacă ar merge 2 ore pe jos și 4 ore cu bicicleta, ar parcurge 51 km. Află câți km parcurge într-o oră pe jos și câți cu bicicleta.

**32.** Într-o stațiune turistică, prețul la telecabină pentru urcare este 35,50 lei pentru o persoană, iar la telescaun este 15 lei pentru o persoană. Dintr-un grup de 21 de persoane, o parte dintre ei urcă cu telecabina, iar ceilalți urcă cu telescaunul. Se plătesc în total 540,50 lei. Află câte persoane urcă cu telecabina și câte persoane urcă cu telescaunul (se urcă o singură dată).



**33.** Transformă în fracții zecimale următoarele fracții ordinare:

$$\frac{7}{5}, \frac{23}{11}, \frac{4}{25}, \frac{7}{8}, \frac{11}{9}, \frac{35}{12}, \frac{22}{13}, \frac{70}{45}, \frac{31}{18}, \frac{41}{40}, \frac{9}{50}, \frac{3}{20}, \frac{14}{9}, \frac{44}{3}, \frac{21}{15}, \frac{30}{8}, \frac{45}{6}, \frac{16}{18}, \frac{29}{3}.$$

**34.** Transformă în fracții ordinare ireductibile următoarele fracții zecimale:

a) 42,75; b) 0,125; c) 7,(6); d) 0,2(18); e) 1,23(6); f) 1,(12); g) 1,002; h) 0,0007.

**35.** Compară și scrie în ordine crescătoare:

7,023; 7,(23); 7,2(3); 7,23; 7,4;  $6\frac{1}{7}$ ; 7,5(62); 7,29; 7,005.

**36.** Calculează:

a)  $0,25 + 3,6$     b)  $2,5 - 0,4$     c)  $2,8 \cdot 0,03$     d)  $10,24 : 3,2$     e)  $2,(46) : 7,(3)$   
 $2,7 + 1,3$      $2 - 0,02$      $1,9 \cdot 2,13$      $10,32 : 4,8$      $5,2(3) - 1,23$   
 $0,125 + 102$      $9,2 - 7,35$      $1,03 \cdot 1,8$      $0,4389 : 10,5$      $2,4(3) + 7,(35)$   
 $2,104 + 5,2$      $10,1 - 5,05$      $21,01 \cdot 0,3$      $271,909 : 20,9$      $6,(82) \cdot 0,5.$

**37.** Dacă 0,125 kg de mere costă 1,6 lei, câți lei costă 2,5 kg de mere.

**38.** Petru numere naturale au media aritmetică 10,25. Primele trei numere sunt consecutive și cu media aritmetică egală cu 13. Află cele patru numere.

**39.** Un biciclist parcurge un drum în trei zile. În prima zi parcurge o șeptime din drum, a doua zi parcurge o șesime din drum iar a treia zi parcurge restul de 2,5 km.

a) Câți km a parcurs biciclistul în total?

b) Câți km a parcurs în prima zi?

**40.** Pisicile dorm două treimi din timp. Câte ore dorm într-un interval de 48 de ore?

**41.** Sistemul solar este astfel aliniat încât Saturn, Pământul și Soarele formează o linie dreaptă cu Pământul între ele. Distanța Pământ-Soare este de 149 600 000 km. Saturn orbitează, în practică, la o distanță medie de Soare de 9,56 ori mai mare decât a Pământului.

a) Calculează distanța de la Pământ la Saturn?

b) Calculează distanța Saturn-Soare.



**42.** Dacă segmentul  $MN$  are lungimea egală cu 40 cm, iar punctul  $A$  este mijlocul său, află lungimea segmentului  $MA$ .

**43.** Dacă  $AB = 12$  cm, iar punctul  $C$  este simetricul punctului  $A$  față de punctul  $B$ , află lungimea segmentului  $AC$ .

**44.** Dacă  $A, B, C$  sunt puncte coliniare, în această ordine,  $AC = 60$  cm și  $AB = 2$  dm, află lungimea segmentului  $BC$ .

**45.** Fie punctele coliniare  $A, B, C$ , în această ordine. Se știe că  $AC = 3AB$ , iar  $BC = 20$  cm. Află lungimea segmentului  $AC$ .

**46.** Fie  $A, M, B$  trei puncte coliniare, în această ordine. Punctele  $N$  și  $P$  sunt mijloacele lui  $AM$ , respectiv  $MB$  și  $PN = 40$  dm. Determinați lungimea segmentului  $AB$ .

**47.** Pliind o coală de hârtie dreptunghiulară de 8 ori pe lungime și de 4 ori pe lățime, se obțin pătrate identice. Perimetrul dreptunghiului este de 768 mm.

a) Determină dimensiunile colii de hârtie și aria sa.

b) Câte pătrate identice se obțin prin pliere?

c) Determină perimetrul și aria unui pătrat.

48. Care dintre seriile de mai jos are 2 axe de simetrie?

- a) OAAO; b) AOA; c) AOAO; d) OIO.

49. Perimetrul unui dreptunghi este 108 cm. Lățimea măsoară cât jumătate din lungime. Care este lungimea dreptunghiului?

50. Desenul alăturat reprezintă un teren. Care este perimetrul său?

51. Află perimetrul unui dreptunghi având lățimea de 120 dm și lungimea egală cu 1,5 din lățime.

52. La 2 m distanță exterioară de fiecare dintre laturile unui teren dreptunghiular cu dimensiunile de 40, respectiv 60 m se construiește un gard. Află lungimea gardului nou construit.

53. Într-o grădină, în formă de pătrat, se cultivă roșii și ardei. Dacă suprafața cultivată cu roșii are aria de  $75 \text{ m}^2$ , iar suprafața cultivată cu ardei are aria de  $25 \text{ m}^2$ , determină lungimea laturii grădinii.



54. Un dreptunghi, cu lățimea egală cu 12 cm, are aceeași arie cu pătratul având lungimea laturii egală cu 24 cm. Determină lungimea dreptunghiului.

55. Un vas are formă de paralelipiped dreptunghic cu dimensiunile de 80 cm, 150 cm și 20 cm. Punem apă în vas. Dacă vasul este pe jumătate gol, câți litri de apă sunt în vas?

56. Care este numărul minutelor petrecute în șase ore de cursuri școlare? (O oră de curs școlar are 50 de minute.)

57. Suprafața unui complex comercial se întinde pe 90 de ha. Două treimi din suprafața complexului este ocupată de construcții. Calculează câți  $\text{m}^2$  ocupă construcțiile.

58. Determină lungimea muchiei unui cub cu volumul de  $27 \text{ cm}^3$ .

59. Un bazin de înot are formă unui paralelipiped dreptunghic cu lungimea de 24 m și lățimea de 8 m. Dacă într-o zi, cu temperaturi foarte ridicate, din bazinul plin cu apă aceasta a scăzut cu 3 cm, află câți litri de apă s-au evaporat.

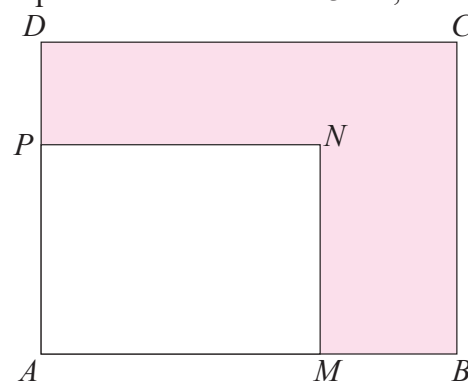
60. În figura alăturată este reprezentat un teren în formă de dreptunghi  $ABCD$  pe care este construită o clădire cu amprenta la sol dreptunghiul  $AMNP$ .

Se știe că  $AB = 120 \text{ m}$ ,  $BC = 90 \text{ m}$ ,  $2MB = AM$ ,  $DP = AD : 3$ .

a) Calculează aria terenului.

b) Calculează aria suprafeței hașurate.

c) Dacă  $AN = 100 \text{ m}$ ,  $NC = 50 \text{ m}$ ,  $AC = 150 \text{ m}$ . Sunt punctele  $A$ ,  $N$ ,  $C$  coliniare? Justifică.



61. Taxele de aeroport sunt de 160 euro de persoană. Limita de bagaje de cală este de 23 kg de persoană și 5 kg pentru bagajele de mână. Câți lei achită o familie formată din 4 persoane având 2 bagaje de cală și 4 de mână pentru a călători, știind că în ziua respectivă un euro este de 4,53 lei?

62. Elevii clasei a V-a A au optat pentru următoarele opțiuni: o treime au optat pentru opționalul de informatică, 25% din restul clasei pentru opționalul de astronomie, iar restul de 12 elevi au optat pentru opționalul de literatură. Află numărul de elevi din clasa a V-a A.

# TESTE FINALE

## Testul de evaluare finală 1

### Subiectul I (30 p)

1. Completează, pe caiet, spațiile punctate cu răspunsul corect:

- a) Frația ordinară  $\frac{3}{4}$  transformată în fracție zecimală este ....  
b) Dreptunghiul cu dimensiunile de 0,8 m și 1,2 m are aria de ...  
c) Cubul cu muchia de 13 dm are volumul de ... l.

2. Alege răspunsul corect:

- a) Cel mai mic multiplu comun al numerelor 9 și 15 este:  
A. 9      B. 3      C. 15      D. 45.

b) Într-o tabără, la fiecare grup de 12 elevi, merge un profesor. Dacă în tabără merg 144 de elevi, atunci numărul profesorilor care merg în tabără este:

- A. 7      B. 120      C. 150      D. 12

3. Precizează pentru fiecare enunț dacă este adevărat sau fals:


- a)  $2^3 = 6$ ;      b) fracția  $\frac{5}{6}$  este echivalentă cu fracția  $\frac{10}{3}$ .  
c) printr-un punct trec o infinitate de drepte.

### Subiectul II (30p)

4. Calculează perimetrul și aria figuri alăturate.

5. Transformă în ari:

1,2 dam<sup>2</sup>; 50 m<sup>2</sup>; 0,5 hm<sup>2</sup>; 1 ha.

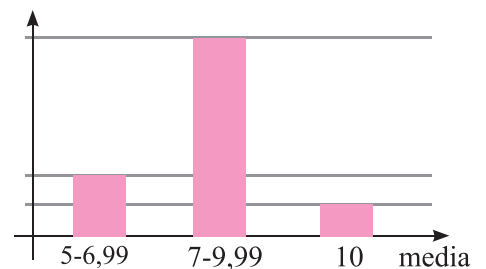


### Subiectul III (30p)

6. Într-o școală la sfârșitul anului școlar situația școlară este dată în tabelul alăturat.

Număr total elevi	Medii între		
	5-6,99	7-9,99	10
600 elevi	150 elevi	420 elevi	20%

- a) Află numărul elevilor care au media 10.  
b) Completează, pe caiet, graficul alăturat cu numărul de elevi corespunzător, conform datelor din tabel.



7. Un pătrat și un dreptunghi au ariile egală cu 36 cm<sup>2</sup>. Lungimea dreptunghiului este de 0,9 dm. Calculează:  
a) lățimea dreptunghiului;  
b) perimetrul pătratului și perimetrul dreptunghiului.

(10p din oficiu)

**Subiectul I (30p)**

1. Completează, pe caiet, spațiile punctate cu răspunsul corect:

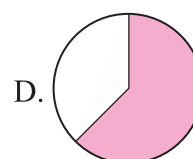
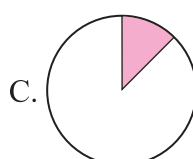
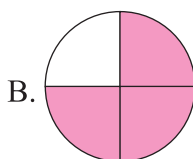
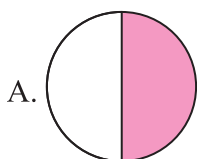
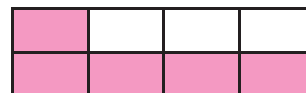
- a) Frația zecimală 0,75 transformată în fracție ordinară este ...
- b) Pătratul cu perimetrul de 28 cm are aria de ... dm<sup>2</sup>.
- c) Paralelipipedul cu dimensiunile 2 cm, 5 cm, 7 cm și volumul ... dm<sup>3</sup>.

2. Alege răspunsul corect:

a) cel mai mare divizor comun al numerelor 9 și 15 este:

- A. 45      B. 9      C. 5      D. 3.

b) Porțiunea hașurată din dreptunghiul alăturat este aproximativ egală cu porțiunea hașurată din cercul:



3. Precizează pentru fiecare enunț dacă este adevărat sau fals:

- a)  $1\ 325 \div 10$ .
- b) Unghiul ascuțit are măsura mai mică decât  $90^\circ$ .
- c) Divizorii lui 7 sunt: 1, 2, 3, 4, 5, 6, 7.

**Subiectul II (30p)**

4. Dacă  $\sphericalangle SOC = 45^\circ 30'$  și  $\sphericalangle NUC = 50^\circ 15'$ . Calculează  $\sphericalangle SOC + \sphericalangle NUC$  și  $\sphericalangle NUC - \sphericalangle SOC$ .

5. Transformă în l:  $4,2\text{ dm}^3$ ;  $250\text{ cm}^3$ ;  $\frac{3}{4}\text{ m}^3$ ;  $500\text{ cm}^3$ ;  $250\ 000\text{ mm}^3$ .

**Subiectul III (30p)**

6. Pentru construcția unei locuințe se cheltuie următoarele sume:

- a) Aproximează sumele cheltuite până la mii și estimează suma totală cheltuită.
- b) Calculează suma totală cheltuită și compar-o cu suma estimată.

Fundație	Zid	Acoperiș	Tencuit
8 690 lei	13 720 lei	15 110 lei	5 300 lei

7. La o casă de schimb valutar este afișat următorul curs valutar:

1 EURO	4,57 lei
1 DOLAR USA	4,16 lei

a) Ce sumă de bani este necesară pentru a cumpăra 1250 euro și 50 dolari USA?

b) Câți euro se pot cumpăra cu 5 500 lei? Câți dolari USA se pot cumpăra cu 5 500 lei?

(10p din oficiu)

**Subiectul I (30p)**

- Completează pe caiet spațiile punctate cu răspunsul corect:
  - unghiul cu măsura de  $120^\circ$  este un unghi ...
  - multiplii numărului 4, mai mici decât 30 sunt...
  - fracția  $\frac{2}{3}$  transformată în fracție zecimală este ....
- Alege răspunsul corect!
  - O frânghie lungă de 36 m se împarte în bucăți de lungimi egale. Dacă se fac 8 tăieturi, atunci fiecare bucată are lungimea de:
 

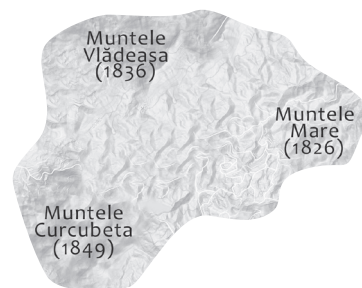
A. 5 m	B. 28 m	C. 44 m	D. 4 m
--------	---------	---------	--------



- Dacă un kilogram de mere costă 3 lei, atunci o jumătate de kilogram de mere de același fel cost:
 

A. 6 lei	B. 1,5 lei	C. 4,5 lei	D. 0,5 lei.
----------	------------	------------	-------------

- Precizează pentru enunț dacă este adevărat sau fals:
  - Prin două puncte distincte trece o dreaptă și numai una.
  - Pătratul cu latura de 2 cm are aria egală cu  $8 \text{ cm}^2$ .
  - Cubul cu muchia de 2 cm are volumul egal cu  $4 \text{ cm}^3$ .

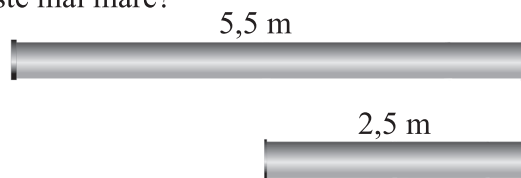


**Subiectul II (30p)**

- În figura alăturată sunt menționate înălțimile a trei vârfuri muntoase din partea de vest a țării noastre. Calculează înălțimea medie a vârfurilor menționate în figura alăturată.
- Patru pătrate identice, fiecare cu perimetrul de 20 cm, se așază unul lângă altul formând un dreptunghi. Află perimetrul și aria dreptunghiului format.

**Subiectul III (30p)**

- Un pătrat și un dreptunghi au fiecare perimetrele egale cu 32 cm. Lungimea dreptunghiului este de 0,9 dm. Calculează:
  - lățimea dreptunghiului;
  - aria pătratului și aria dreptunghiului. Care dintre ele este mai mare?
- Pentru a racorda o stradă la rețeaua de gaze, pe o lungime de 1,125 km se folosesc 270 de țevi cu lungimile de 5,5 m și de 2,5 m. Câte țevi de 5,5 m se folosesc? Dar de 2,5 m?



(10p din oficiu)

# Indicații și răspunsuri

## Cap. 1. NUMERE NATURALE

### A. Operații cu numere naturale

**pag. 16. 8.** 81. **9.** a) Nu există numere care să îndeplinească condiția dată. b) 5 613; c) 2 055, 2 145, 2 235, 2 325, 2 415, 2 505; d) 796, 886, 976. **10.** 3 012, 3 021, 3 102, 3 120, 3 201, 3 210, 4 013, 4 031, 4 103, 4 130, 4 301, 4 310. **11.** 198.

**pag. 17. 11.** a) 11 111, 66 666; b) 12 345, 65 432. **12.** 599 793, 500 793. **13.** 99...91; are 224 cifre de 9, deci numărul are 225 de cifre.

**pag. 22. 2.** a-4; b-2; c-1; d-5. **6.** Problema are două soluții: 4 643 și 2 287, 6 999 și 4 643. **7.** a) 3 712; b) 9 759, 8 781, 978; c) 865, 513. **8.** 609 lei. **9.** 460, 461, 462, 463, 464, 465, 466, 467, 468, 469.

**pag. 25. 4.** a-2, b-4, c-1, d-3. **6.** b)  $19(1+9) = 190$ ; i)  $15(99+13-112) = 0$ ; j)  $25(13+8-11) = 250$ . **7.**  $36 = 1 \cdot 36 = 2 \cdot 18 = 3 \cdot 12 = 4 \cdot 9 = 6 \cdot 6$ . **13.** a) 365, 62; b) 92; c) 236, 49; d) 952, 68.

**pag. 28. 6.** a-1, b-5, c-2, d-5. **8.** 108, 972. **9.** 7 822. **11.** 115, 989, 39 de numere. **12.** a) 10 101; b) 1 001.

**pag. 29. 3.** a) 122; b) 186 857. **4.** 41 cutii, 16 sticle. **5.** 295. **6.** 979, 105. **7.** 14 numere. **8.** D.

**pag. 34. 6.** a-2, b-1, c-3, d-5. **7.**  $32 = 2^5$ ;  $64 = 2^6$  etc. **9.** c)  $49 = 7^2$ ; d)  $100 \cdot 50 : 2 = 2 500 = 50^2$ . **10.** a) Ultima cifră a numărului este 8, deci numărul nu e pătratul unui număr natural; b) Ultima cifră a numărului este 8.

**pag. 34. 1.** a)  $2^{37}$ ; b)  $3^{64}$ . **2.** a)  $2^{36}$ ; b)  $3^{12}$ . **3.** a)  $6^8$ ; g)  $2^5$ . **4.** a)  $2^{2015} \cdot 7$ ; b)  $3^{2018} \cdot 7$ ; c)  $5^{3015}$ . **5.** a) 1; b) 4.

**pag. 35. 4.** a)  $(3^3)^{11} = 27^{11}$ ,  $(2^4)^{11} = 16^{11}$ , deci  $3^{33} > 2^{44}$ . **6.** a)  $5^2 > 13$ ; b)  $2^8 > 2^6$ ; c)  $3^{32} > 3^{10}$ ; d)  $(2^3)^{23} < (3^2)^{23}$ .

**pag. 35. 2.** 100101, 10011, 1100111, 101101, 1111110, 1110001, 101100010, 101010, 11001, 110001, 11100001.

**pag. 37. 2.** a) 59; b) 20; c) 3; d) 56; e) 48; f) 69; g) 54; h) 30; i) 56. **3.** a) 361; b) 119; c) 49; d) 29 000; e) 2 016; f) 1 300; g) 426; h) 1. **4.** 96 picioare. **5.** 186 lei. **6.** 1 487 elev. **7.** 1 008 km. **8.** a) 128; b) 0. **9.** a) 2; b) 2; c) 2 592; d) 91 800. **10.** a) 2; b) 1. **11.** a) 16; b) 6. **12.** Numerele consecutive sunt  $2^{2017} - 1$  008,  $2^{2017} - 1$  007, ...,  $2^{2017} - 1$ ,  $2^{2017}$ ,  $2^{2017} + 1$ , ...,  $2^{2017} + 1$  007,  $2^{2017} + 1$  008.

**pag. 42. 2.** 6 lei, 5 lei. **3.** 4 măștișoare, 3 măștișoare. **4.** 5 m. **6.** 2 lei, 5 lei. **7.** 8 kg, 24 kg. **8.** 240 g, 20 g.

**pag. 43. 1.** 50, 65, 100, 115, 150. **2.** 90. **3.** 280. **4.** 110 lei. **5.** 200 km. **6.** 32 elevi. **7.** 5 139.

**pag. 44. 1.** 36 mașini, 14 motociclete. **2.** 100 lădițe de 10 kg, 50 lădițe de 12 kg. **3.** 24 de 10 lei, 10 de 5 lei. **4.** 5 de 8 kg, 7 de 5 kg. **5.** 70. **6.** 10. **7.** 15. **8.** 32. **9.** 5 de 3 lei și 11 de 5 lei. **10.** 10 de 5 euro. **13.** 35 rațe, 4 capre.

### B. Divizibilitatea numerelor naturale

**pag. 50. 6.** a) 5; 10, 20; 40. **7.** 4, 8, 12, 16. **8.** a) F; b) A; c) F; d) A. **9.** 10, 12, 15, 20. **11.** a) 3, 9, 15, 21; b) 5, 15, 25. **13.**  $m + n = 14 \cdot (1 + 3 + 5 + \dots + 19)$ . **14.** (3, 1); (6, 2); (9, 3); (12, 4); (15, 5). **15.**  $x$  poate lua valorile: a) 0; 2; 4; 14; b) 2; 23; c) 0; 2; 3; 7; 18; d) 1; 5.

**pag. 51. 2.** a) 2; b) 3; c) 5; i) 3; j) 5. **5.** 15, 25, 35, ..., 95. **6.** 2 sau 4. **7.**  $13 \cdot 3^{2n}$ . **8.** 7.

**pag. 52. 1.** a) 12; b) 12; c) 60; g) 50; h) 91; i) 171. **4.** 3. **5.** 60 min. **6.** 120. **7.** 120.

**pag. 58. 3.** a) 1002, 1004, 1006, 1008; b) 1005, 1015, 1025, 1035. **4.** 590, 592, ..., 598. **6.** 270, 720, 702.

**7.** 2570, 2750, 5270, 5720, 7250, 7520, 2705, 2075, 7205, 7025. **11.** 10, 20, 30, ..., 90. **12.**  $x$  poate fi: a) 0, 2, 4, 6, 8; b) 0, 5; d) 0. **14.** Cel mai mic dintre numere este  $a$ ; suma este egală cu  $5 \cdot (a + 2)$ . **15.** a) Echipa are 5 fete și 2 băieți; b) 2 nu divide pe 25.

**pag. 59. 9.** a)  $9 \cdot 6 = 54$  care se divide cu 9.

**pag. 59. 7.**  $a = 2$ ,  $b = 5$ . **8.** 31.

### Recapitulare și sistematizare prin teste

**Testul de evaluare 1. 1.** a) 28 și 29; b)  $4^{13}$ ; c) 3598. **2.** a) D; b) B. **3.** a-3; b-4; c-1; d-11. **4.** a) 25; b) 177; c) 4. **5.** a) 140; b) 100; c) 120. **6.** 14; **7.** 90.

**Testul de evaluare 2. 1.** a) 26 700; b) 125; c) 2 și 4. **2.** a) C; b) B. **3.** a-2; b-3; c-1; d-5. **4.** a) 612; b) 4 030; 4 232, 4 434; 4 636; 4 838; c) 1 420; b) 2 420; 4 420; 5 420; 6 420; 7 420; 8 420; 9 420. **5.** a) 232 554; 279 010; b) IV-2015; II-2014; c) C. **6.** 3. **7.** a) Da; b) 63.

**Testul de evaluare 3. 1.** a) 4; 5; 6; 7; 8; 9; b) 1 052 406; c) un milion cincizeci și patru de mii cinci. **2.** a) B; b) A. **3.** a-2; b-1; c-4; d-3. **4.** a) 372; b) 308; c) 50. **6.** 462; 693; 1396. **7.** 3; 4; 5.



## Cap. 2. FRACȚII ORDINARE. FRACȚII ZECIMALE

### A. Frații ordinare

- pag. 69.** 4.  $\frac{2}{1}, \frac{4}{1}, \frac{8}{1}, \frac{4}{2}, \frac{4}{3}, \frac{8}{2}, \frac{8}{3}, \frac{8}{4}, \frac{8}{6}$ . 8. a)  $a$  poate fi 0; 1; 2; b)  $a$  poate fi: 4; 5; 6. 9. b)  $\left(\frac{4}{3}\right)^7$ ; c)  $\left(\frac{25}{24}\right)^{15}$ .
10. (9, 0), (4, 5), (5, 2), (6, 1). 11.  $a = 4$  și  $b = 0$  sau  $a = 4$  și  $b = 5$ . 12.  $n = 1$ .
- pag. 70.** 2. 10%. 3. 37%; 41%. 4. a) 20%; b) 12%; c) 36%; d) 8%; e) 24%.
- pag. 70.** 4. a) 8; b) 27; c) 3. 5. a) 3; b) 9. 7. 2. 8.  $a = 0$ ;  $b = 0$ ;  $c = 17$  sau  $a = 6$ ;  $b = 3$ ;  $c = 2$  sau  $a = 8$ ;  $b = 4$ ;  $c = 1$  sau  $a = 2$ ;  $b = 1$ ;  $c = 7$ .
- pag. 73.** 2. cititul. 8. 0, 1. 9. a) 12; b) 14, 23; c) 97, 98, 99. 10.  $a = 0$ ,  $b = 2$ ,  $c = 1$ .
- pag. 76.** 8.  $x = 2$  sau  $x = 5$  sau  $x = 8$ . 9. 452.
- pag. 79.** 6. a)  $\frac{1}{4}$ ; b)  $\frac{58}{3}$ ; c)  $\frac{2}{3}$ . 8.  $x$  poate fi: a) 1; 4; 7; b) 1; 3; 7; 9. 9. a) 11; b) 111; c)  $\frac{a+b+c}{x+y+z}$ .
- pag. 81.** 7.  $a$  poate fi 0; 3; 6; 9. 10. a) numitorul comun este  $30(a+b+1)$ ; b) numitorul comun este  $11(a+b+c)$ ; c) se simplifică fracțiile; apoi numitorul comun este 36.
- pag. 84.** 4. 4. 7. a) 1; b) 3; c)  $\frac{19}{15}$ ; d)  $\frac{85}{7}$ . 8. 0. 9. a) 424; b) 100. 10.  $\frac{1}{4}$ .
- pag. 85.** 4. a)  $1\frac{4}{5}$  m; b)  $1\frac{1}{4}$  m; c)  $\frac{11}{20}$  m. 5. 6 kg. 6.  $1095\frac{2}{5}$  kg. 7. a)  $\frac{98}{15}$ ; b)  $\frac{99}{28}$ . 8. 5.
- pag. 89.** 2.  $5\frac{3}{4} \cdot 12 = \frac{23 \cdot 12}{4} = 23 \cdot 3 = 69$ . 3.  $\frac{9}{2} \cdot \frac{3}{4} = \frac{27}{8}$ . 5.  $\frac{3}{8}$ . 6.  $\frac{200}{9}$  t. 7. a) 1; b)  $\frac{1}{81}$ ; c) 1; d) 1. 8.  $\frac{9}{2}$ . 9.  $n = 2$ .
- pag. 89.** 2. a)  $\frac{1}{2}$ ; b)  $\frac{7}{10}$ ; c) 25; d)  $\frac{1}{6}$ ; e)  $\frac{2}{5}$ . 3.  $\frac{1}{7}$ . 4.  $\frac{1}{7}$ . 5. de  $\frac{5}{42}$  ori. 6.  $n = 15$ .
- pag. 92.** 4. 18 fete și 12 băieți. 5. 250 lei. 6. Rareș a rezolvat corect. 7. 450 km. 8. 36 pruni, 30 meri, 54 cireși.
9.  $a + b + c = \frac{2+3+4}{9} + \frac{3+4+5}{12} + \dots + \frac{1003+1004+1005}{3012} = 1 + 1 + \dots + 1 = 1 \cdot 1002 = 1002$ . O treime este 334.
10. 93 000 kg. 11. 12 bile verzi, 15 bile roșii, 13 bile albastre, 20 bile galbene.

### B. Frații zecimale

- pag. 97.** 8. a)  $\frac{1}{2}$ ; b)  $\frac{3}{4}$ ; c)  $\frac{1}{4}$ ; d)  $\frac{1}{2}$ ; e)  $\frac{1}{7}$ ; f)  $\frac{1}{4}$ ; g)  $\frac{1}{2}$ ; h)  $\frac{1}{4}$ ; i)  $\frac{1}{10}$ .
- pag. 100.** 4. C. 5. A.
- pag. 104.** 5. D. 6. 402 lei. 7. 24,96 ha. 8. 380,25 kg. 9. 1,95 m. 10. 3,12 m. 11.  $205,8 \cdot 12,7 = 2613,66$ ;  $27 \cdot 4,7 = 128,34$ ;  $80,3 \cdot 7,5 = 602,25$ ;  $205,8 \cdot 12,7 = 2613,66$ . 12. SUPER. 14. 123,64 m. 15. 3,15 m.
- pag. 108.** 2. a) 25,5; b) 9,375; c) 7,48.
- pag. 108.** 1. a) 8,4; b) 6,8; c) 51,5. 2. D. 3. A. 4. 2,5 lei/kg. 5. 68,75 ani. 6. 28,2 °C. 7. 9 l.
- pag. 111.** 1. a) 10; b) 30,1; c) 101; d) 202; e) 3; f) 5; g) 0,7; h) 31. 2. de 8 ori. 4. a) 5,4; b) 1,0403; c) 23. 5. D. 6. C. 7. D. 9. 2,75 lei. 10. 59 borcane.
- pag. 113.** 4. D. 5. C. 6. a) 0,(84); b) 4; c) 8. 7. a) 2,7(857142); b) 7; c) 2; d) 1; e) 460.
- pag. 115.** 9. 5,6. 10. 7,08(3). 11. 0,(81). 12. 4,04. 13. 3,97. 14. 1,13. 15. 4,4. 16. 70,3. 17. 120. 18. 1,2(6).
19. 7,(3). 20. 1,25. 21. 6,(6). 22. 0,(1). 23. 0,72 km. 24. 136,25 m. 25. 10,363 lei. 26. a) 26,7555 litri; b) 120,40 lei.
- pag. 118.** 1. 30 m<sup>2</sup>. 2. 59,5 litri. 3. 13 caserole.
- pag. 118.** 2. 1,50 lei un kg de cartofi, 0,8 lei un kg de ceapă. 3. 4,5 kg a cules o fată, 5,5 kg a cules un băiat.
4. 5,5 km/oră pe jos și 11 km/oră cu bicicleta. 5. 1,5 lei legătura ceapă și 1,25 lei legătura de pătrunjel.
- pag. 119.** 1. 300 lei. 2. 1500 km. 3. 16 kg. 4. 100 ari.
- pag. 119.** 2. 45 monede de 0,05 și 30 monede de 0,10 lei. 3. 4 fuste și trei bluze. 4. 50 pași fiul și 30 pași tatăl.

### Recapitulare și sistematizare prin teste

Testul de evaluare 1. 3. a-3; b-1; c-4. 5. a) 200 meri; b) 56 peri; c) 104 cireși. 6. 70, 140. 7. 25, 28, 30 lei.

**Testul de evaluare 2.** 5. 7,9 mii lei. 6. 31 500 lei. 7. 60 viorele, 30 gălbenele, 30 ghiociei, 120 nuntași.

**Testul de evaluare 3.** 4. 25,5 lei cu preț mic; 29 lei cu preț mare. 5. 9,2 km. 6. b)  $\frac{2}{5}$ ; c)  $\frac{11}{23}$ ; d)  $\frac{11}{24}$ . 7. 120 ha.

## Cap. 2. ELEMENTE DE GEOMETRIE ȘI UNITĂȚI DE MĂSURĂ

**pag. 132.** 5. a) D; b) A; c) D.

**pag. 135.** 5. a) B; b) B. 6.  $AC = 8$  cm;  $BD = 7,7$  cm;  $AD = 10$  cm. 7. a)  $MN = 3,5$  cm; b)  $AB = 3$  cm;  $BC = 9$  cm;  $AC = 12$  cm; c)  $AB = 5$  cm;  $BC = 2,4$  cm;  $MN = 3,7$  cm;  $AC = 7,4$  cm; d)  $AB = 4$  cm;  $AM = 2,4$  cm;  $BN = 3,5$  cm;  $NC = 3,5$  cm;  $MN = 5,5$  cm; e)  $AB = 9$  cm;  $BC = 7$  cm;  $AM = 4,5$  cm;  $MB = 4,5$  cm;  $BA = 9$  cm. 8.  $AM = MB = 4,5$  cm.

**pag. 137.** 7. a)  $G, E, F$ ; b) niciunul; c)  $P, Q, R$ ; d)  $M, N$ ; e)  $M, N, P, Q$ .

**pag. 140.** 1. a)  $90^\circ$ ; b)  $0$ ; c)  $180^\circ$ . 2. B. 3. C. 6.  $\sphericalangle RAC = \sphericalangle CAP$ ;  $\sphericalangle SUC = \sphericalangle SOC$ ;  $\sphericalangle NUC = \sphericalangle DOI$ ;  $\sphericalangle MOR = \sphericalangle ABC$ .

**pag. 142.** 1. a)  $900'$ ; b)  $1740'$ ; c)  $4380'$ ; d)  $6120'$ ; e)  $90'$ ; f)  $749'$ ; g)  $3001'$ ; h)  $87'$ ; i)  $4248$ . 2. a)  $2^\circ 15'$ ; b)  $9^\circ$ ; c)  $16^\circ 3'$ ; d)  $8^\circ 25'$ ; e)  $18^\circ 50'$ ; f)  $80^\circ 96'$ ; g)  $127^\circ 3'$ ; h)  $155^\circ 48'$ . 4. a)  $32^\circ 49'$ ,  $55^\circ 28'$ ,  $45^\circ 44'$ ; b)  $5^\circ 25'$ ,  $52^\circ 39'$ ,  $3^\circ 11'$ ; c)  $46^\circ 28'$ ,  $159^\circ 30'$ ,  $44^\circ 48'$ ; d)  $120^\circ 23'$ ,  $101^\circ 21'$ ,  $304^\circ 28'$ . 5. a)  $73^\circ 65'$ ,  $107^\circ 19'$ ,  $58^\circ 16'$ ; b)  $44^\circ 24'$ ,  $7^\circ 54'$ ,  $17^\circ 51'$ ; c)  $72^\circ 40'$ ,  $4^\circ 30'$ ,  $500^\circ 48'$ ; d)  $224^\circ$ ,  $77^\circ 19'$ ,  $875^\circ 40'$ . 6. a)  $33^\circ 31'$ ,  $43^\circ 45'$ ,  $72^\circ 23'$ ; b)  $7^\circ 30'$ ,  $26^\circ 46'$ ,  $157^\circ 14'$ ; c)  $36^\circ 15'$ ,  $35^\circ 4'$ ,  $21^\circ 7'$ ; d)  $40^\circ 44'$ ,  $126^\circ 31'$ ,  $102^\circ 3'$ . 7. a)  $64^\circ 30'$ ; b)  $96^\circ 45'$ ; c)  $32^\circ 15'$ ; d)  $96^\circ 45'$ ; e)  $612^\circ 45'$ ; f)  $129^\circ$ ; g)  $147^\circ 45'$ ; h)  $25^\circ 30'$ .

**pag. 144.** 7. a) F; b) A; c) F; d) A.

**pag. 150.** 7. a) 5,6 m; b) 130,4 cm; c) 0,12 km. 8. a) 16 m; b) 48,6 cm; c) 92, 5 dm; d) 70,5 km. 9. 758 m.

**pag. 151.** 3. a) 49; b) 1200; c) 5; d) 0,09. 4. a) 7,32; b) 53,42; c) 4500; d) 0,836. 5. 2 ha; 5 ha; 0,36 ha; 12 ha; 6,23 ha. 7. a)  $6,25$  m<sup>2</sup>; b)  $0,09$  dm<sup>2</sup>; c)  $1,44$  dam<sup>2</sup>; d)  $0,0225$  hm<sup>2</sup>. 8. a)  $1,5$  m<sup>2</sup>; b)  $132,7229$  cm<sup>2</sup>; c)  $362,3326$  dm<sup>2</sup>; d)  $279$  km<sup>2</sup>. 9.  $72$  m<sup>2</sup>.

**pag. 152.** 1. 2103; 72300; 0,012403; 0,0000807; 0,0002054. 2. a)  $27$  m<sup>3</sup>; b)  $60$  dm<sup>3</sup>. 4. 12; 5,421; 430; 14,26; 3200000. 6.  $0,125$  m<sup>3</sup>; b)  $9,261$  dm<sup>3</sup>; c)  $1331$  cm<sup>3</sup>; d)  $216$  km<sup>3</sup>. 7. a)  $7$  cm<sup>3</sup>; b)  $14$  dm<sup>3</sup>; c)  $0,9$  m<sup>3</sup>; d)  $9$  m<sup>3</sup>. 8. 250.

## Recapitulare și sistematizare prin teste

**Testul de evaluare 1.** 3. a-4; b-3; c-2. 5. 7,5 cm; b) 9 cm; c) 4 cm. 6. 10; 36. 7. dreaptă, punct, segment de dreaptă, semidreaptă, unghi ascuțit, unghi obtuz, unghi drept, drepte paralele, drepte concurente, dreptunghi, pătrat.

**Testul de evaluare 2.** 3. a-3; b-4; c-1. 4. a)  $45833,4$  m; b)  $13778$  cm<sup>2</sup>; c)  $2$  dm<sup>3</sup>. 5.  $35,28$  m<sup>2</sup>. 6.  $6,53$  ha. 7. a)  $128$  m<sup>2</sup>; b)  $12,4$  ari.

**Testul de evaluare 3.** 5.  $AB = 7$  dm;  $BC = 9$  dm;  $CD = 4,5$  dm. 6. a)  $512$  dm<sup>3</sup>;  $504$  dm<sup>3</sup>. 7.  $2$  380 m.

## EXERCII ȘI PROBLEME RECAPITULATIVE

1. a) 0; b) 1; c) 4 034; d) 1; e) 0; f) 32; g) 2; h) 4 480; i) 26; j)  $10^5$ . 2.  $2$  017<sup>2</sup>. 3. 80 găini, 120 iepuri. 4. 11 011 011. 5. 248. 6. 2. 7. 36 ani. 8. 576 pagini. 9. 60 lei. 10. 8. 11. 1024. 12. 2 000 kg mere, 4 000 kg prune. 13. 12; 90. 14. 54 km. 15. 10 lei, 70 lei. 16. 450 pagini. 20. Maria. 22. 1 845. 24. a) 1, 2, 4, 8, 11, 22, 44, 88; b) 8. 25. a) 1, 2, 11, 22, 44; b) 6. 26. Batman. 27. a)  $n = 9$ ; b) 3, 1, 9. 31.  $4,5$  km;  $10,5$  km. 32. 11; 10. 37. 16 lei. 38. 12; 13; 14; 2. 39. a)  $3,5$  km; b)  $0,5$  km. 40. 32 ore. 42. 20 cm; 43. 24 cm. 44. 40 cm. 45. 30 cm. 46. 80 dm. 47. a) 128 mm, 256 mm,  $32$  768 mm<sup>2</sup>; b) 32; c) 128 mm,  $1$  024 mm<sup>2</sup>. 48. D. 49. 36 cm. 50. 112 m. 51. 600 dm. 52. 216 m. 53. 10 m. 54. 48 cm. 55. 120 l. 56. 300 minute. 57.  $6$  000 000 m<sup>2</sup>. 58. 3. 59.  $5,76$  m<sup>3</sup>. 60. a)  $10$  800 m<sup>2</sup>; b)  $6$  000 m<sup>2</sup>; c) Da, deoarece  $AC = AN + NC$ . 61. 2899,2 lei.

## TESTE FINALE

**Testul de evaluare finală 1.** 4. 29 m;  $16,35$  m<sup>2</sup>. 6. a) 120 elevi. 7. 9 cm; b) 24 cm; 26 cm.

**Testul de evaluare finală 2.** 6. a) 13 000 lei; b) 42 820 lei. 7. 5920,5 lei; b) 1203,5 Euro; 1322,11 Dolari SUA.

**Testul de evaluare finală 3.** 4. 1 837 m. 5. 50 cm; 100 cm<sup>2</sup>. 6. a) 7 cm; b) 64 cm<sup>2</sup>; 63 cm<sup>2</sup>. 7. 120 țevi, 150 țevi.



ISBN 978-606-727-232-1



9 786067 272321